

1.


Yeryüzü şekilleri



Yukarıdaki tabloda boş bırakılan yerlere aşağıda verilenlerden hangisi yazılamaz?

A) Dağ B) Orman
C) Vadi D) Ova

2.



Yukarıdaki şekilde numaralanmış yerlerden hangisi "vadi" dir?

- A) 1. B) 2. C) 3. D) 4.

3.

Atık sular arıtılmadan bırakılır.

Su kirlenmesi ve balık ölümleri olur.

Yukarıda boş bırakılan (----) yere aşağıdakilerden hangisi yazılabilir?

- A) Çığ oluşur.
B) Toprak kayması olur.
C) Doğal denge bozulur.
D) Erozyon oluşur.

4.

Aşağıdakilerden hangisi bir doğal afetin önlenmesine yönelik bir çalışmadır?

- A) Ormanları korumak ve geliştirmek
B) Deprem sonrasında enkaz kaldırma çalışması yapmak
C) Eğimli arazilere ve dere kenarlarına ev yapmak
D) Ormanlık bölgelerde hayvan otlatmak

5.



Ulusumuzun kültürel özelliklerini gösteren küçük notlar hazırladık. Bu notları yukarıdaki Türkiye haritasında ilgili oldukları bölgelere yerleştirmek istiyoruz.

Aşağıda verilenlerden hangisiyle ilgili notlar bütün bölgelere konulabilir?

- A) Giyim biçimleri B) Konuşma biçimleri
C) Konukseverlik D) Beslenme alışkanlıkları

6.

Okulumuzun Gezi ve İnceleme Kulübü olarak Antalya yöresine bir gezi yapmıştık.

Bu gezide gördüğümüz aşağıdaki varlıklardan hangisi bir tarihi miras değildir?



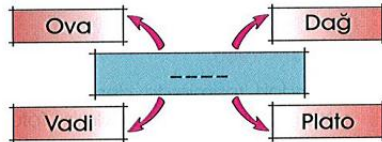
7.

Karasal iklim, deniz etkisinden uzak bölgelerde görülür.

Buna göre, aşağıdaki illerin hangisinde karasal iklim görülmez?

- A) İzmir B) Afyon
C) Malatya D) Muş

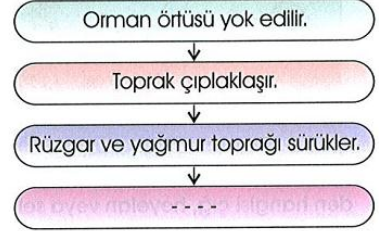
8.



Yukarıdaki şemada boş bırakılan (----) yere aşağıdakilerden hangisi yazılmalıdır?

- A) Yeryüzü şekilleri B) Doğal zenginlikler
C) İklim özellikleri D) Doğal afetler

9.



Yukarıdaki olayların oluş sırasına göre, tabloda boş bırakılan yere aşağıdakilerden hangisi yazılmalıdır?

- A) Çığ oluşur. B) Sel oluşur.
C) Erozyon oluşur. D) Deprem oluşur.

10.

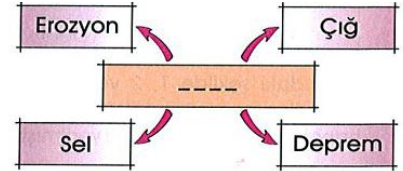
Nedenler	Sonuçlar
Yağmur Rüzgar Kar	

Yukarıdaki tabloda bazı iklim ve doğa olaylarının neden olduğu doğal afetleri göstermek istiyoruz.

Tablodaki sonuçlar bölümüne bir doğal afet olarak aşağıdakilerden hangisi yazılamaz?

- A) Erozyon B) Sel
C) Heyelan D) Deprem

11.



Yukarıdaki kavram haritasında boş bırakılan (----) yere aşağıdakilerden hangisi yazılabilir?

- A) Heyelan B) Doğal afet
C) Yangın D) Yağmur

12.

Benim yaşadığım yörede yaz mevsimi kısa sürdüğü için sebze meyve az yetişir.

Ali

Bizim yörede yılda iki ya da daha fazla ürün alınabilmektedir.

Hasan

Ali ile Hasan'ın yukarıdaki konuşmalarına göre, yaşadıkları iller aşağıdakilerin hangisinde verilenler olabilir?

- | | |
|------------|--------|
| Ali | Hasan |
| A) Aydın | Ankara |
| B) Adana | Muş |
| C) Erzurum | Adana |
| D) Antalya | Edirne |

13.

Antalya'da çıkan orman yangınlarında onlarca hektar orman ve tarım alanı yanmıştır.

Buna göre, bu yöreyle ilgili olarak aşağıdakilerden hangisi söylenemez?

- A) Biyolojik çeşitliliğin zarar gördüğü
- B) Ormanlarda yaşayan canlıların yaşam alanlarının daraldığı
- C) Hava kirliliğinin azaldığı
- D) Erozyonun arttığı

14.

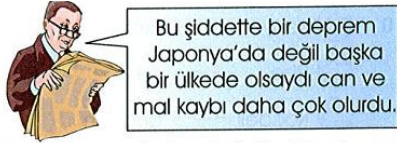


İç Anadolu Bölgesi'ndeki bazı yeryüzü şekillerini göstermek üzere yukarıdaki şemayı hazırladık.

Bu şemada boş bırakılan kutucuklara aşağıdakilerden hangisini yazamayız?

- A) Marmara Denizi
- B) Konya Ovası
- C) Tuz Gölü
- D) Erciyes Dağı

15.




Babam, gazetede okuduğu bir deprem haberinden sonra yukarıdaki sözü söyledi.

Babam, bu sözünü Japonya'nın hangi özelliğini vurgulamıştır?

- A) İkliminin ılıman olduğunu
- B) Depreme karşı bilinçli önlemler alındığı
- C) Ormanlarla kaplı olduğunu
- D) Yoğun bir nüfusa sahip olduğunu

16.

Aşağıdakilerden hangisi bir doğal unsur değildir?



17.

Yurdumuzun en yüksek dağı ve en büyük gölü aşağıdaki coğrafi bölgelerimizin hangisindedir?

- A) Akdeniz Bölgesi
- B) Ege Bölgesi
- C) İç Anadolu Bölgesi
- D) Doğu Anadolu Bölgesi

18.



Aşağıdakilerden hangisi öğretmenin sorusunun doğru cevabıdır?

- A) Ova
- B) Tepe
- C) Vadi
- D) Dağ

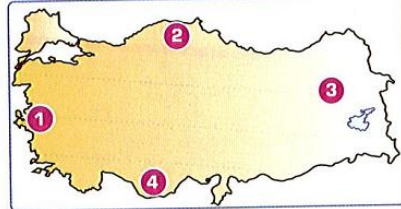
19.



Haritadaki bölgemizin yüzey şekilleri hakkında aşağıda verilenlerden hangisi yanlıştır?

- A) Dağları denize dik olarak uzanır.
- B) Ege Denizi'ne kıyısı vardır.
- C) Plato bakımından en zengin bölgedir.
- D) Bir çok koy, körfez ve yarımada sahiptir.

20.



Yukarıdaki haritada numaralandırılan yerlerden hangisinde kış mevsimi daha soğuk geçer?

- A) 1
- B) 2
- C) 3
- D) 4

21.

Ülkemizde görülen iklim tipleri yaşantımızı ve faaliyetlerimizi etkiler.

Aşağıdakilerden hangisi iklimin insan faaliyetlerine etkisine örnek gösterilemez?

- A) İklime göre giyinmeyi
- B) İnsanların yaptıkları konut tipini
- C) İnsanların okudukları kitap sayısını
- D) Kara, hava ve deniz ulaşımını

22.

Dursunların köyünde kış gediğinde kar çok yağar. İlçeyle arasındaki yol kardan dolayı kapanır. Kışın bazen birkaç ay şehre inemezler.

Buna göre, Dursunların yaşadığı köy aşağıdaki bölgelerden hangisindedir?

- A) Akdeniz Bölgesi
- B) Ege Bölgesi
- C) Marmara Bölgesi
- D) Doğu Anadolu Bölgesi

23.

İklim özelliği bakımından Akdeniz Bölgesi, aşağıdaki bölgelerimizden hangisiyle benzerlik gösterir?

- A) İç Anadolu Bölgesi
- B) Ege Bölgesi
- C) Doğu Anadolu Bölgesi
- D) Karadeniz Bölgesi

24.



Haritada taralı olan bölgede görülen iklimin insan yaşamına etkisi için aşağıdakilerden hangisi söylenemez?

- A) Evler genellikle beyaz renkli ve balkonludur.
- B) İnsanların kış mevsimlerinde ısınma giderleri daha azdır.
- C) Yazın şemsiye ve yağmurluksuz dışarı çıkılmaz.
- D) İklimin uygun olması yaz turizmini geliştirmiştir.

25.



Ülkemizde nüfusu en fazla olan bölgemiz haritada kaç numarayla gösterilmiştir?

- A) 1
- B) 2
- C) 3
- D) 4

26.



Hangi bölgemizde yaşayan insanlar kışın ısınmak için daha az harcama yaparlar?

- A) Akdeniz Bölgesi
- B) Doğu Anadolu Bölgesi
- C) Marmara Bölgesi
- D) İç Anadolu Bölgesi

27.

- I. Dağları delerek tüneller açmak
 - II. Gökyüzünden yağın yolları kapatması
 - III. Ormanları kesip yollar yapmak
- Yukarıdakilerden hangisi ya da hangilerinde doğal ortam değiştirilmemiştir?

- A) Yalnız I B) I ve II
C) I ve III D) Yalnız II

28.

Erozyonun en fazla etkili olduğu yerler bitki örtüsü yok olan topraklardır.
Bu durumu engellemek için aşağıdakilerden hangisi yapılmalıdır?

- A) Sanayi alanları artırılmalıdır.
B) Ağaçlandırma yapılmalıdır.
C) Şehir nüfusu artmalıdır.
D) Köyden kente göç azaltılmalıdır.

29.

- * Evlerimizi dere yataklarına yaptık.
 - * Çevremizdeki bitki örtüsünü yok ettik.
 - * Evlerimizi toprak malzemeye yaptık.
- Yukarıdaki bilgileri veren bir köy halkı doğal afetlerin hangisinden en fazla etkilenir?

- A) Sel B) Deprem
C) Yangın D) Çığ

30.



Aşağıdakilerden hangisi haritadaki boyalı bölgenin özelliklerinden biri değildir?

- A) Her mevsim yağış görülür.
B) Evleri genellikle ahşaptır.
C) Karadeniz'e kıyısı vardır.
D) Ülkeyimizin en geniş ovaları bulunur.

31.

Beşinci sınıf öğrencisi Merve'ye, öğretmeni Sosyal Bilgiler dersinde "Yaşadığı bölgede görülen iklimin insan faaliyetlerine etkisi" konulu araştırma ödevi verdi. Merve aşağıdaki bilgileri yazdı.

- I. Kışın kar ve soğuk nedeniyle yakıt giderimiz çok artıyor.
- II. Evlerimizin dışına ısı yalıtımı yaptırarak soğuktan korunuyoruz.
- III. Kışın çok kalın giyiniyoruz.

Bu bilgilere göre Merve aşağıdaki illerden hangisinde yaşıyor olabilir?

- A) İzmir B) Antalya
C) Mersin D) Erzurum

32.



Yukarıdaki şemada insanların bazı yanlış uygulamaları verilmiştir. Soru işaretli yere ise bu yanlış uygulamaların zararını artıracığı doğal afet yazılacaktır.

Şemada soru işaretli yere hangi doğal afet yazılmalıdır?

- A) Yangın B) Erozyon
C) Deprem D) Çığ

33.

Nihat, yaşadığı bölgeyi arkadaşlarına tanıtırken aşağıdaki ip uçlarını vermiştir.

- ◆ Çok fazla yükseliğe sahip değildir.
- ◆ Yüzölçümü en küçük bölgedir.
- ◆ Doğal bir gölü yoktur.

Verilen bilgilere göre Nihat hangi coğrafi bölgemizde yaşamaktadır?

- A) Güneydoğu Anadolu Bölgesi
B) Doğu Anadolu Bölgesi
C) İç Anadolu Bölgesi
D) Karadeniz Bölgesi

34.



Haritadaki numaralandırılmış bölgelerimizden hangisinde Akdeniz iklimi görülür?

- A) 1 B) 2
C) 3 D) 4

35.

Karadeniz ikliminin etkili olduğu bir yerde;


- I. Her mevsim yağışlı ve ılımandır.
- II. Doğal bitki örtüsü ormandır.
- III. Pamuk tarımı yaygındır.

numaralı ifadelerinden hangisi yada hangilerinin etkili olduğu söylenebilir?

- A) Yalnız I B) I - II
C) I - III D) II - III

36.

Aşağıdakilerden hangisi karasal iklimin etkili olduğu, İç Anadolu Bölgesi'nde yetiştirilebilen ürünlerden biri değildir?



37.

Çevrelerine göre daha yüksek ve tabanda zirveye kadar yamaçları eğimli olan yeryüzü şekline denilmektedir?

Yukarıdaki tanımda yer alan boşluğa aşağıdakilerden hangisinin getirilmesi uygun olur?

- A) Ova B) Vadli C) Dağ D) Göl

38.

Karadeniz Bölgesi'nin kırsal kesimlerinde konut malzemesi olarak ahşap, İç Anadolu Bölgesi'nde kerpiç, Akdeniz Bölgesi'nde taş kullanılmaktadır.

Buna göre farklı bölgelerimizde farklı konut malzemelerinin kullanılmasındaki ana etken aşağıdakilerden hangisidir?

- A) İklim B) Yükseklik
C) Bitki örtüsü D) Yerşekilleri

39.

- Dağları denize dik uzanır.
- Kıyıları boyunca çok sayıda koy ve körfez bulunur.
- İzmir, bölgenin en önemli şehridir.

Yukarıda özellikleri verilen bölgemiz hangisidir?

- A) Karadeniz Bölgesi
B) Akdeniz Bölgesi
C) Ege Bölgesi
D) İç Anadolu Bölgesi

40.

Semih, sınıftaki kabartma Türkiye haritasında incelediği bölgeyle ilgili olarak şunları defterine yazmıştır:


- Haritada yeşil kısımlar diğer bölgelerden daha fazladır.
- Bölgenin üç denize de kıyısı vardır.

Bu bilgilere göre, Semih hangi coğrafi bölgemizi incelemiştir?

- A) İç Anadolu Bölgesi
B) Akdeniz Bölgesi
C) Marmara Bölgesi
D) Ege Bölgesi

41.

Aşağıdaki görsellerden hangisi ülkemizdeki yüzey şekillerine örnek olarak gösterilemez?



42.

Bir bölgenin ya da ülkenin dağları, ovaları, akarsuları gibi fiziki özelliklerini gösteren haritalar vardır. Bu haritalarda deniz seviyesine yakın olan alçak yerler yeşille gösterilir. Yükselti arttıkça renk önce sarıya daha sonra da kahverengiye döner.

Buna göre, aşağıdaki yerlerden hangisi haritalarda yeşil renkle gösterilmelidir?

- A) Bafra Ovası B) Van Gölü
C) Ağrı Dağı D) Kars yaylası

43.

İstanbul, kapladığı alan bakımından pek çok ilimizden daha küçüktür. Buna rağmen İstanbul, ülkemizin en kalabalık nüfusuna sahip şehrimizdir.

Bu durumun temel nedeni aşağıdakilerden hangisi olabilir?

- A) Ülkemizin denize kıyısı olmayan illerinden biri olması
B) Tarım alanlarının verimli ve çok olması
C) Eğitim, iş ve ticaret olanaklarının fazla olması
D) Doğal güzellikleri nedeniyle çok sayıda turist gelmesi

44.

Aşağıdakilerden hangisi, insanların bir yeri yaşam alanı olarak seçmesinde etkili değildir?

- A) Ilıman iklim koşulları
B) Verimli tarım arazileri
C) Zengin maden yatakları
D) Geniş alanları kaplayan buzullar

45.

İnsanlar, yaşadıkları bölgelerde yaptıkları bazı faaliyetlerle doğal afetlerin zararlarının artmasına neden olmaktadır.

Aşağıdakilerden hangisi erozyonla ilgili bir yanlış uygulamadır?

- A) Binaların fay hatlarının üzerine yapılması
B) Bitki örtüsünün insanlar tarafından yok edilmesi
C) Karlı bölgelerde yamaçlara yerleşim yeri kurulması
D) Dere kenarlarına evlerin yapılması

46.



Yukarıdaki çiftçi hangi ekonomik faaliyetten söz etmiştir?

- A) Tarım B) Turizm
C) Ticaret D) Sanayi

47.

İnsanların dinlenmek, eğlenmek ve gezmek görmek amacıyla bir yerden başka bir yere giderek yaptıkları ekonomik etkinliğe adı verilir.

Yukarıdaki cümlede boş bırakılan yere gelebilecek en uygun kelime hangisidir?

- A) Ticaret B) Ormancılık
C) Madencilik D) Turizm

48.



Marmara Bölgesi'nde bir bitkisel yağ fabrikası açmak isteyen Orhan Bey ham madde olarak aşağıdakilerden hangisi kullanabilir?

- A) Ayçiçeği B) Üzüm
C) Şeker pancarı D) İncir

49.

Trabzon, Rize ve Artvin gibi illerimizde aşağıdaki fabrikalardan hangisi daha yaygındır?

- A) Çay işleme
B) Pamuklu dokuma
C) Şeker
D) Bisküvi

50.

Ülkemizde farklı tarım ürünlerinin yetişmesinin sebebi aşağıdakilerden hangisidir?

- A) Bitki örtüsünün zayıf olması
B) Tarımın gelişmesi
C) Farklı iklim tiplerinin görülmesi
D) Sanayinin gelişmesi

51.

Bir bilgisayar şirketinin sahibi aşağıdakilerden hangisini yaparsa zarar etmeye başlar?

- A) Yeni teknolojik gelişmeleri takip etmezse
B) Ürettiği bilgisayarlar kaliteli olursa
C) Müşterilerinin ihtiyaçlarını karşılayacak ürünleri satarsa
D) Tüketicilerden gelen talep ve şikâyetleri dikkate alırsa

52.



Selim, yaşadığı bölge ile ilgili bazı bilgiler vermiştir.

Buna göre, Selim'in yaşadığı bölge aşağıdakilerden hangisidir?

- A) Ege Bölgesi
B) Marmara Bölgesi
C) Akdeniz Bölgesi
D) Karadeniz Bölgesi

53.



Yukarıda verilen meslekleri yapan kişilerle, bulundukları bölgeler eşleştirildiğinde hangisi dışta kalır?

- A) Marmara Bölgesi
B) Akdeniz Bölgesi
C) Güneydoğu Anadolu Bölgesi
D) Karadeniz Bölgesi

54.

Bir yerde hangi alanda üretim yaygınsa, o üretim alanı ile ilgili meslekler daha yaygındır.

Buna göre, Trabzon'da aşağıdaki mesleklerden hangisinin yaygın olması beklenir?

- A) Turist rehberliği B) Çinicilik
C) Balıkçılık D) Öğretmenlik

RECEP KARACA

SOSYAL BİLGİLER ÖĞRETMENİ