

1.

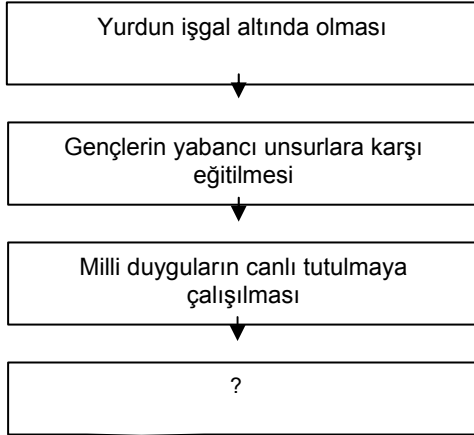


Yunanlıların saldırıları sonucu Batı Anadolu'nun bir kısmı elden çıkmıştı. Düşmana karşı kendi bölgelerini kahramanca savunan Kuvayımilliye birlikleri askeri disiplinden yoksun olduğu ve yeterli donanımına sahip olmadığı için düşman karşısında yetersiz kalıyordu.

Konuşmacının Kuvayı Milliye hakkında verdiği bilgide aşağıdakilerden hangisine değinilmemiştir?

- A) Askeri disiplinden yoksun olduklarına
- B) Ağır silahlara sahip olmadıklarına
- C) Düşmana karşı mücadele ettiklerine
- D) Yunanlıları oyalayarak düzenli orduya zaman kazandırdıklarına

2.



Buna göre, diyagramdaki " ? " yerine aşağıdaki yargılardan hangisi getirilmelidir?

- A) Eğitim alanında çalışmalara önem verilmesine katkı sağlamıştır.
- B) Milli kuvvetlerin tek elden yönetilmesine önem verilmiştir.
- C) Yabancı fikirlerin yurttan yayılması için çalışmalar yapılmıştır.
- D) Bütün eğitim kurumları Milli Eğitim Bakanlığı'na bağlanmıştır.

3.

Ruslar ve İngilizler, 19. yüzyılın sonlarından itibaren Ermenileri, Doğu Anadolu'dan toprak vaadiyle Osmanlı Devleti'ne karşı kıskırtmışlar ve silahlandırmışlardır.

Bu gelişme Ermenilerin,

- I. Osmanlı Devleti'ne isyan etmeleri
- II. Anadolu'dan toprak talebinde bulunmaları
- III. Anadolu'nun işgalinde İtilaf Devletlerini desteklemeleri

tutumlarından hangisi veya hangilerini benimsemelerine yol açmıştır?

- A) Yalnız I
- B) Yalnız II
- C) I ve III
- D) I, II ve III

4.

Mondros Ateşkes Anlaşması'ndan sonra yurdumuz işgal edilmeye başlanınca Türk halkı topyekün mücadeleye başlamış, doğuda Ermenilerle, güneyde Fransızlar ve Ermenilerle, batıda ise Yunanlılarla mücadele edilmiştir.

Bu bilgilere bakarak Türk Kurtuluş Savaşı hakkında aşağıdakilerden hangisi söylenemez?

- A) Yurdun değişik yerlerinde mücadele verildiği
- B) Türk milletinin bağımsızlığına düşkün olduğu
- C) Ermenilerle hem doğuda hem de güneyde mücadele edildiği
- D) İşgallere karşı en büyük tepkinin İngilizlere gösterildiği


5.

Birinci Dünya Savaşından sonra, Anadolu'yu işgal eden devletlerden İngilizler ve İtalyanlar ile silahlı mücadeleler yaşanmazken, Fransız ve Yunan kuvvetlerine karşı halk Kuvayı Milliye birlikleri kurarak silahlı mücadeleye girişmiştir.

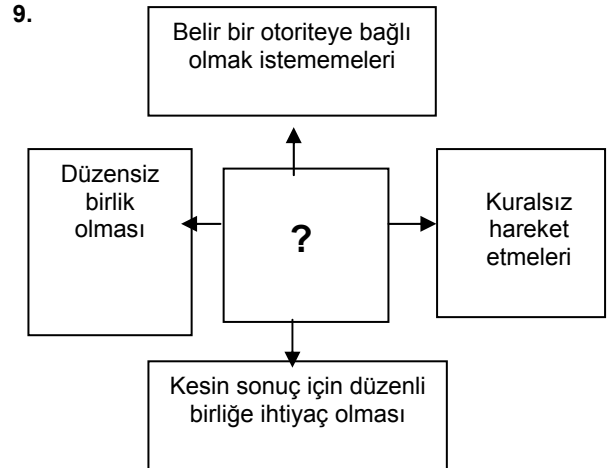
Bu durumun ortaya çıkmasında aşağıdaki gelişmelerden hangisinin etkili olduğu söylenemez?

- A) Yunanistan'ın, Batı Anadolu'yu topraklarına katmak istemesinin
- B) Ermenilerle birlikte hareket eden Fransızların, halkın kutsal saydığı değerlere saldırmasının
- C) Mudanya Ateşkesi'nin imzalanmasının
- D) Yunan ve Fransız kuvvetlerinin halka baskı ve şiddet uygulamalarının

6. I. İnönü → TBMM'nin kurduğu düzenli ordunun ilk başarısı
- Kütahya Eskişehir → Milli Mücadelede alınan ilk yenilgi
- Tekalif-i Milliye → ?
- Sakarya → Milli Mücadeledeki son savunma savaşı
- Verilen eşleştirme tablosunda boş yer aşağıdakilerden hangisiyle tamamlanmalıdır?
- A) Ordunun ihtiyaçlarını halktan karşılamak için ilan edilen emirler
- B) Osmanlı'da halktan alınan vergi
- C) İsmet Paşa'nın yayınladığı yükümlülükler
- D) Kuvayı Milliye birlikleri

7.  Türk ordusu Eskişehir - Kütahya'da ilk defa bir yenilgi aldı. Ordu Sakarya'nın doğusuna çekildi. Eskişehir, Kütahya ve Afyon Yunanlıların eline geçti.
- Bu anlatımına bakarak, Eskişehir - Kütahya Savaşları için aşağıdakilerden hangisi söylenemez?**
- A) Türk topraklarının bir kısmının Yunanlıların eline geçtiği
- B) TBMM'nin, Ankara'dan taşındığı
- C) Türk ordusunun geri çekilmeye başladığı
- D) Yunanlıların, Anadolu içlerinde ilerlediği

8. TBMM, Sakarya zaferinden sonra, Fransa ile Ankara Antlaşması'nı imzaladı. Bu antlaşma sonucunda Fransa Hatay haricinde işgal ettiği yerlerden çekildi. Ayrıca Rusya'nın yönetimi altındaki Azerbaycan, Gürcistan ve Ermenistan ile Kars Antlaşması imzalanarak doğu sınırlarımız bugünkü şeklini aldı.
- Bu bilgilere dayanarak, aşağıdakilerden hangisi söylenemez?**
- A) Askeri başarıların siyasal basanlara ortam hazırladığı
- B) Türkiye'nin doğu ve güney sınırlarının güvence altına alındığı
- C) Kurtuluş Savaşı'nın sona erdiği
- D) Türkiye'nin, bazı devletlerle sorunlarını çözdüğü



Yukarıdaki kavram haritasında aşağıdakilerden hangisinin nedenleri verilmiştir?

- A) Düzenli ordunun kurulmasının
- B) Kuvayı Milliye'nin kaldırılmasının
- C) İç isyanların çıkmasının
- D) TBMM'nin açılmasının