

ADI SOYADI : .....

SINIF / NO : 5-..... / ..... 02.05.2018

Sorular çoktan seçmeli 25 Soru olup, her sorunun değeri 4 (DÖRT) Puandır. Başarılar... *Cüneyt Banan*

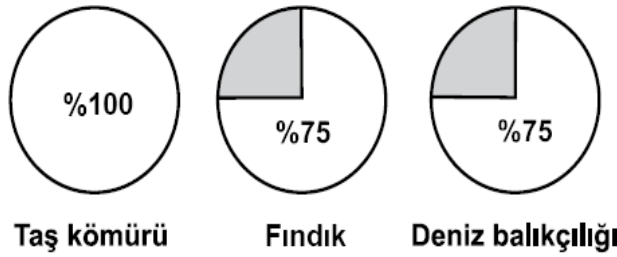
**1-)** Farklı sektörlerdeki üç iş adamı aşağıda belirtilen hammaddelerden alım yapacaklardır.

- Cihan Bey, mobilya fabrikası için kereste
- Ahmet Bey, tekstil fabrikası için pamuk
- Şahin Bey, petrol rafinerisi için ham petrol

Bu ham maddeleri alabilecekleri en uygun iller aşağıdakilerden hangisinde sıralanmıştır?

	Cihan Bey	Ahmet Bey	Şahin Bey
A)	Şanlıurfa	Trabzon	Batman
B)	Batman	Trabzon	Şanlıurfa
C)	Trabzon	Batman	Şanlıurfa
D)	Trabzon	Şanlıurfa	Batman


**2-)**



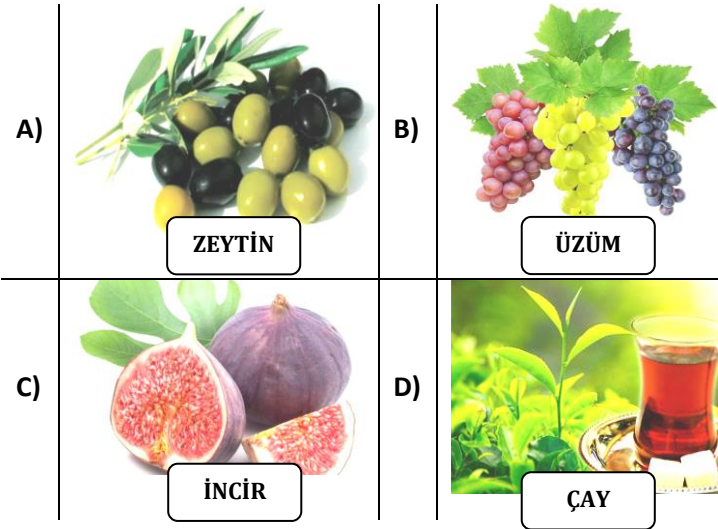
Bu grafiklerle taş kömürü, fındık ve deniz balıkçılığında Türkiye üretimindeki oranı verilen bölgemiz aşağıdakilerden hangisidir?

- A) Akdeniz bölgesi
- B) Karadeniz Bölgesi
- C) Marmara Bölgesi
- D) Ege Bölgesi

**3-)** Aşağıdaki görsellerden hangisinde üretim aşaması söz konusu değildir?



**4-)** Aşağıdaki ürünlerden hangisi Ege Bölgesinde yetiştirilemez?



**5-)**

- ❖ .....üyesi olarak doğal afetlerin yaşandığı ilk anlarda arama kurtarma çalışmaları yaparız.
- ✚ insanların sigarayı bırakmalarını istiyorum. Bu nedenle .....üyesiyim
- ✓ Erozyonla elimizden kayıp giden ülke topraklarına dikkat çekmek için .....üyesi oldum.

Verilen cümlelerdeki boşluklara yazılması gereken sivil toplum kuruluşları hangi seçenekte doğru olarak verilmiştir?


	❖	✚	✓
A)	AKUT	Yeşilay	TEMA
B)	Kızılay	TEGEV	ÇEVKO
C)	AKUT	Yeşilay	LÖSEV
D)	AÇEV	Kızılay	TEMA

**6-)** “Sivil toplum örgütlerinde ..... esastır.”

Boş bırakılan yere aşağıdakilerden hangisinin yazılması daha uygundur?

- A) Eğitim
- B) Zenginlik
- C) Gönüllülük
- D) Çevre

**7-)** Kan merkezleri kurmak, doğal afetlerde insanlara yardım etmek için kurulmuş olan kurum aşağıdakilerden hangisidir?



- 8-)**
- I. Muhtar
  - II. Belediye Başkanı
  - III. Kaymakam
  - IV. Vali
  - V. Cumhurbaşkanı

Yukarıda verilenlerden hangileri seçimle işbaşına gelmektedirler?

- A) I, II ve III
- B) II, III ve IV
- C) III, IV ve V
- D) I, II ve V

**9-)**



yerlerini yönetenler aşağıda hangi seçenekte doğru verilmiştir?

	İZMİR	DALAMAN	ELAZIĞ
A)	Vali	Belediye Başkanı	Kaymakam
B)	Vali	Kaymakam	Vali
C)	Kaymakam	Belediye Başkanı	Kaymakam
D)	Kaymakam	Vali	Vali

**10-)**

	RESMİ KURUMLAR	SİVİL TOPLUM KURULUŞLARI
I	Çalışanlar hizmetleri karşılığında ücret alırlar	Çalışanlar herhangi bir ücret talep etmezler
II	Belirli çalışma saatleri yoktur	Belirli çalışma saatleri vardır
III	Giderleri devlet tarafından karşılanır	Giderleri gönüllü insanların bağışlarıyla karşılanır
IV	Devlet tarafından kurulmuşlardır	Gönüllü bireyler tarafından kurulmuşlardır

Yukarıdaki tabloda hangi satırda yanlışlık yapılmıştır?

- A) I
- B) II
- C) III
- D) IV

**11-)**

- I- İlçe Emniyet Müdürlüğü
- II- İl Milli Eğitim Müdürlüğü
- III- Tarım İl Müdürlüğü
- IV- İlçe Müftülüğü

Yukarıda numaralarla belirtilen resmi kurumlardan hangileri Kaymakamlığa bağlıdır?

- A) I ve II
- B) II ve IV
- C) I, II ve IV
- D) I ve IV

**12-)**

- ✓ Suyumuzu boşa akıtmayalım.
- ✓ Eğitimde, yoksul öğrencileri destekleyelim
- ✓ Doğal afetlerde dünyanın her yerindeki muhtaç insanlara yardım edelim.

Bu cümleler arasında, aşağıdaki sivil toplum kuruluşlarından hangisinin amacına yönelik bir ifade yoktur?

- A) TEMA
- B) LÖSEV
- C) Kızılay
- D) Darüşşafaka

**13-)** Bölgemizde meydana gelen depremde, 10 yaşındaki arkadaşım Hatice ve 12 yaşındaki ağabeyi Kağan, anne ve babasını kaybettiler. Bizden başka tanıdıkları ve akrabaları olmadığından onları misafir ediyoruz.

Hatice ve ağabeyi sizin arkadaşınız olsaydı, onların bu durumunu, aşağıdaki bakanlıklardan hangisine bildirirdiniz?

- A) Kültür ve Turizm
- B) Aile ve Sosyal Politikalar
- C) Millî Eğitim
- D) Sağlık

14-) Aşağıda Türkiye Cumhuriyeti Anayasası'nın 3. Maddesine yer verilmiştir.

**T.C. Anayasası 1982**

**Madde 3:** Türkiye Devleti, ülkesi ve milletiyle bölünmez bir bütündür. Dili Türkçe'dir. Bayrağı, şekli kanunda belirtilen, beyaz ay yıldızlı al bayraktır. Milli Marşı İstiklal Marşı'dır. Başkenti Ankara'dır.

Anayasamızın verilen maddesinde egemenlik ve bağımsızlık sembollerimizden kaç tanesine yer verilmiştir?

- A) 4 B) 3 C) 2 D) 1

15-) *Çatma, kurban olayım, çehreni ey nazlı hilal!  
Kahraman ırkıma bir gül! Ne bu şiddet, bu celal?  
Sana olmaz dökülen kanlarımız sonra helal...  
Hakkıdır, Hakk'a tapan, milletimin istiklal!*

*Mehmet Akif Ersoy*

Yukarıda İstiklal Marşı'mızın dörtülüğünde, Milli şairimiz Mehmet Akif Ersoy bağımsızlık sembollerimizden hangisinden söz etmektedir?

- A) Meclisimiz B) Başkentimiz  
C) Bayrağımız D) Dilimiz

16-)

I-Muhtar

II-Kaymakam

III- Vali

IV-Belediye Başkanı

Yukarıdakilerden hangileri Başkent Ankara'dan atanarak iş başına gelirler?

- A) I ve II B) II ve IV  
C) II ve III D) I ve IV

17-)

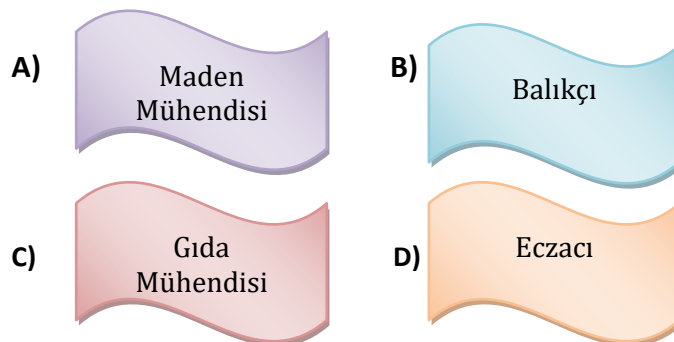


Yukarıda verilen temel ihtiyaçlarımız ile bu ihtiyaçlarımızı karşılayan resmi kurumlar eşleştirildiğinde aşağıdakilerden hangisi açıkta kalır?

- A) Milli Eğitim Bakanlığı  
B) Genel Kurmay Başkanlığı  
C) Sağlık Bakanlığı  
D) İçişleri Bakanlığı

18-) Erzurum – Kars Et ve Süt ürünleri Fabrikasına ..... alınacaktır.

Yukarıda verilen boşluğa aşağıdaki mesleklerden hangisi gelmelidir?



19-) Aşağıdaki seçeneklerden hangisinde bir girişimcilik örneği yoktur?

- A) Liseli öğrenciler, yumurtanın raf ömrünü 2,5 aya çıkaran proje hazırladı  
B) PTT yetkilileri, 2018 yılından itibaren drone'la kargo teslimatı yapılacağını duyurdu.  
C) Ümraniye Belediye Hizmet Binası çatısına kurulan güneş panelleri sayesinde kendi elektriğini üretiyor  
D) Ahmet Bey, 2017 yılından hizmete açtığı fabrikasını çeşitli nedenlerden dolayı kapattı.

20-)



Yukarıdaki numaralı bilgilerin Ekmeğin üretim, dağıtım ve tüketim aşamalarına göre eşleştirilmesi hangi seçenekte doğru olarak verilmiştir?

	ÜRETİM	DAĞITIM	TÜKETİM
A)	I	II - III	IV
B)	I - IV	II	III
C)	I	II	III - IV
D)	I - III	IV	II

21-)



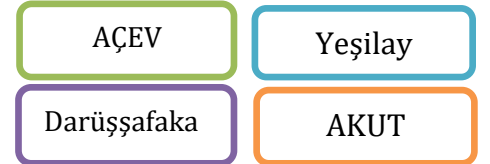
Zehra Betül'ün tüketiciyi koruma kanuna göre aşağıdakilerden hangisine başvurması yanlış olur?

- A) Tüketici Hakem heyetine  
B) 175 Alo Tüketici Hattına  
C) Tüketici Bilgi Sistemine (www.tuketici.gov.tr)  
D) Belediye Başkanlığına

22-) 5-C Sınıfı öğrencisi Zeynep Duru'nun "Katılım" hakkını kullanabilmesine verilen örneklerden hangisi yanlıştır?

- A) Sınıf başkanlığı seçiminde istediği adaya oy kullanması  
B) TEMA Vakfının ağaç dikme kampanyasına katılması  
C) Ailede alınacak bir kararda küçük olduğu için kendisinin fikrinin önemsenmemesi  
D) Okul temsilciliği adaylığı için başvuruda bulunması

23-)



Yukarıda verilen Sivil Toplum Kuruluşları hizmet ettikleri alanlarla eşleştirildiğinde aşağıdakilerden hangisi dışarda kalır?

- A) Eğitim B) İlk yardım  
C) Sağlık D) Çevre

24-) Aşağıda verilen eşleştirmelerden hangisinde bir yanlışlık yapılmıştır?

	Kurum	Bağlı olduğu Bakanlık
A)	İstanbul Emniyet Müdürlüğü	İçişleri Bakanlığı
B)	Özel Derya Öncü Ortaokulu	Milli Eğitim Bakanlığı
C)	I. No'lu Sağlık Ocağı	Sağlık Bakanlığı
D)	Üsküdar Belediye Başkanlığı	Aile ve Sosyal Politikalar Bakanlığı

25-)



Yukarıdaki ürünlerden hangisinde son kullanım tarihi yazmaz?

- A) 1 B) 2 C) 3 D) 4