






## EKONOMİK FAALİYETLER MESLEKLERİ ETKİLER

İnsanların geçimlerini sağlamak için sürekli olarak yaptıkları işlere **meslek** denir. Yaşadıkları çevrede yapılan ekonomik faaliyetler kişilerin meslek seçimi üzerinde etkilidir. Bir yerde yapılan ekonomik faaliyetlere göre çeşitli mesleklere ve o mesleği yapacak insanlara ihtiyaç duyulur. Örneğin; Manisa'nın Soma ilçesinde linyit madeni, Zonguldak'ta taş kömürü madeni çıkarılır. Bu yerlerde madencilğe bağlı olarak maden mühendisliği ve maden işçiliği gibi meslekler gelişme göstermiştir.

**Ekonomik faaliyetlere bağlı gelişen meslekleri şu şekilde sıralayabiliriz:**

Ekonomik Faaliyetler	Meslekler	
Tarım	Çiftçilik, Ziraat mühendisliği vb.	
Hayvancılık	Veterinerlik, Besicilik Arıcılık, Kasaplık Balıkçılık, Dericilik İpek böcekçiliği, Çobanlık vb.	
Ormancılık	Orman işçiliği Orman mühendisliği Orman muhafaza memurluğu Mobilyacılık Kerestecilik Odunculuk vb.	
Sanayi	Fabrika işçiliği Gıda mühendisliği Tornacılık Makine teknisyenliği Kimyagerlik Otomobil tamirciliği vb.	
Ticaret	Tüccarlık Uzun yol şoförlüğü vb.	

<b>Turizm</b>	Turist rehberliđi Aşçılık Resepsiyonistlik Otel işletmeciliđi vb.	
<b>Madencilik</b>	Maden işçiliđi Maden mühendisliđi Kuyumculuk	
<b>Hizmet</b>	Öğretmenlik, Avukatlık, Otobüs şoförlüğü, Terzilik, Doktorluk Emlakçılık	

## Değerlendirme

**A. Aşağıdaki ifadelerin yanına cümle doğruysa “DOĞRU”, yanlış ise “YANLIŞ” yazınız.**


- [ ] Yaşadıkları çevrede yapılan ekonomik faaliyetler kişilerin meslek seçimi üzerinde etkilidir.
- [ ] Veterinerler; hasta veya yaralı hayvanları tedavi eder, bulaşıcı hastalıklardan korur ve hayvan yetiştiricilerine hayvan sağlığı hakkında yardımcı olur.
- [ ] Maden mühendisliđi, sanayinin geliştiđi yerlerde ticarete bađlı olarak gelişen mesleklerden biridir.
- [ ] Öğretmenler; bir bilim dalını, bir sanatı, bir tekniđi veya belli bilgileri öğreterek insanlara yol gösterirler.
- [ ] Hizmet sektörünün amacı üretim faaliyetleri sonucunda elde edilen malları üreticiden alıp tüketicilere satmaktır.
- [ ] Orman işçileri; kereste üretmek amacıyla kesilen ormanları yeniden ağaçlandırır, ormanların bakımını üstlenir.
- [ ] Uzun yol şoförleri, üretilen malları tır ve kamyon gibi araçlarla bir yerden başka bir yere taşır.

**B. Aşağıda bazı ekonomik faaliyetlere bağlı gelişen meslekleri yansıtan görseller verilmiştir. Verilen görsellerin altına ilgili olduğu mesleğin adını yazınız.**



**C. Aşağıda verilen soruların doğru cevaplarını verilen seçenekler içinden bulup işaretleyiniz.**

**1.**



Kereste üretmek amacıyla kesilen ormanları yeniden ağaçlandırır, ormanların bakımını üstlenirim.

**Buna göre benim mesleğim nedir?**

A) Orman işçisi  
B) Gıda mühendisi  
C) Maden işçisi  
D) Kimyager

**2. Ülkemizde hayvancılık faaliyetlerinin yoğunlaştığı yerlerde aşağıda verilen mesleklerden hangisine daha fazla ihtiyaç duyulur?**

A) Çiftçilik  
B) Besicilik  
C) Ziraat mühendisi  
D) Tüccarlık

**3. Aşağıdaki ekonomik faaliyetlere bağlı gelişen meslek eşleştirmelerinden yanlış olanı işaretleyiniz.**

A	Hizmet	Doktorluk
B	Ticaret	Tüccarlık
C	Sanayi	Kuyumculuk
D	Hayvancılık	Veterinerlik

**4. Ormanlar yağış ve nemin yeterli olduğu yerlerde daha fazla görülür. Ormanlar kâğıt, mobilya, kereste üretiminde kullanıldığı gibi yakıt olarak da kullanılmaktadır. Bu nedenle ormancılık faaliyetlerinin geliştiği yerlerde orman işçiliği, orman mühendisliği, orman muhafaza memurluğu, mobilyacılık, kerestecilik ve odunculuk gibi meslekler yaygındır. Ülkemizde ormanların fazla olduğu Karadeniz kıyılarında bu mesleklerin daha çok yapıldığı görülür. Ülkemizin iç kısımlarında orman varlığı az olduğundan ormancılıkla ilgili meslekler yeterince gelişmemiştir.**

**Metne göre aşağıdakilerden hangisine ulaşamaz?**

A) Bir bölgedeki ekonomik faaliyetler orada yapılan meslekleri etkiler.  
B) Karadeniz bölgesinde mobilyacılık mesleği yaygındır.  
C) Doğu Anadolu Bölgesinde ormancılığa bağlı meslekler yaygın değildir.  
D) İklim bir bölgede görülen ekonomik faaliyetleri etkilemez.

5. Ülkemizde turizm faaliyetleri çeşitlilik göstermektedir. Ülkemizin üç tarafı denizlerle çevrili olduğu için yaz turizmi gelişmiştir. Alanya, Fethiye, Bodrum, Marmaris ve Çeşme kıyıları yaz turizminin merkezi konumundadır. Uludağ, Kartalkaya, Erciyes ve Palandöken gibi kar yağışının fazla olduğu dağlık alanlarda ise kış turizmi gelişme göstermiştir. Turizmin geliştiği yerlerde turist rehberliği, aşçılık, resepsiyonistlik, otel işletmeciliği gibi meslekler gelişmiştir.

**Buna göre aşağıdakilerden hangisine ulaşamaz?**

- A) Ege ve Akdeniz kıyılarında yaz turizmi gelişmiştir.  
B) İklim ve yeryüzü şekilleri turizm faaliyetlerini etkilemektedir.  
C) Ülkemizde birden çok turizm faaliyeti görülmektedir.  
D) Resepsiyonistlerin temel görevi yerli ve yabancı turistleri ülkemizin turistik yerlerini gezdirmektir.

6. Ülkemizde tarım genellikle toprağın daha verimli olduğu ovalarda yoğunlaşmıştır. Örneğin,

- Çukurova'da pamuk, turuncgiller (limon, portakal, mandalina) vb.
- Konya Ovası'nda buğday, arpa ve şeker pancarı vb.
- Ergene, Balıkesir ve Bursa ovalarında ayçiçeği, zeytin, pirinç, sebze ve meyve tarımı yapılmaktadır.

**Verilenlere göre;**

- I. Ülkemizde tarımın yoğun olduğu yerlerde ziraat mühendisliği, çiftçilik gibi meslekler gelişir.  
II. Ülkemizin çeşitli yerlerinde birbirinden farklı tarım ürünleri yetiştirilir.  
III. Tarımın geliştiği yerlerde veterinerlik mesleği de gelişir.

**yargılarının hangilerine ulaşılabilir?**

- A) Yalnız I. B) I ve II. C) II ve III. D) I, II ve III.

7.

Rize ve çevresindeki tarım faaliyetleri yoğun olarak kıyıda ovalarda yapılmaktadır. Rize ve çevresi her mevsim yağış aldığından bol su kaynaklarına ve geniş otlaklara sahiptir. Bu nedenle hayvancılık kırsal kesimde yaşayan halkın önemli geçim kaynağıdır. Gür otlaklara sahip olan Karadeniz'in doğusunda büyükbaş hayvan yetiştiriciliği yaygındır. Rize'de bitki çeşitliliğinin fazla olması arıcılığın gelişmesine katkı sağlamıştır. Rize'de bulunan Azer Yaylası'nda üretilen bal çok meşhurdur. Balıkçılık önemli bir geçim kaynağıdır. Ülkemizdeki balık ihtiyacının önemli bir kısmı Karadeniz'den karşılanır.

**Bu metinde Rize ile ilgili;**

- I. Hayvancılığa bağlı mesleklerin geliştiği  
II. İklimin ekonomik faaliyetleri etkilediği  
III. Ormancılıkla ilgili mesleklerin geliştiği  
**hangilerinden bahsedilmiştir?**

- A) I ve II. B) I ve III. C) II ve III. D) I, II ve III.

8. Gıda mühendisleri; gıda ham maddelerinin değerlendirilmesi, gıda kaynaklarının nitelik olarak korunması, böylece sağlıklı gıda çeşitlerinin artırılması konusunda araştırmalar yapar.

**Bu açıklamaya göre gıda mühendisleri için aşağıdaki yargılardan hangisine ulaşılabilir?**

- A) Gıdaların uygun şekilde üretimi ve kontrolünü sağlarlar.  
B) Gıdaların bir yerden başka bir yere taşınmasına sağlarlar.  
C) Otel ve lokanta gibi yerlerde yemek yaparlar.  
D) Gıdaları üreticiden alıp tüketiciye satarlar.

**9. Aşağıda hizmet sektörüne bağlı olarak gelişen bazı meslekler ile ilgili bilgiler verilmiştir.**

Terzi	Doktor	Kuru temizlemeci
Müşterilerin talepleri doğrultusunda dikim ya da onarım yapmakla görevli kişidir.	Hastalıkları önlemek ve tedavi etmek için tıp eğitimi görmüş kişidir.	Kirlenmiş deri ve tekstil ürünlerini temizleyen, yıkayan, boyayan ve ütüleyen kişidir.

**Aşağıdakilerden hangisi hizmet sektörüne bağlı olarak gelişen mesleklerin ortak özelliklerinden biridir?**

- A) Ormanları ağaçlandırmak, bakımlarını üstlenmek  
B) Yer altı kaynaklarını çıkarıp işlemek  
C) İnsanların barınma, giyinme, beslenme, eğitim, sağlık, güvenlik gibi ihtiyaçlarını karşılamak  
D) Bitki hastalıklarıyla mücadele etmek

10. İnsanlar, kurulan fabrika ve atölyelerde çalışarak geçimlerini sağlamaktadır. Ülkemizde gıda, tekstil, otomotiv, kimya ürünleri sanayisi oldukça yaygındır. Fabrika işçiliği, gıda mühendisliği, tornacılık, makine teknisyenliği, kimyagerlik, otomobil tamirciliği sanayi tesislerinin bulunduğu çevrede öne çıkan mesleklerden bazılarıdır. Sanayi tesislerinde üretilen ürünlerin, ihtiyacı olan insanlara ulaştırılması gerekir. Bu amaçla sanayinin geliştiği yerlerde ticarete bağlı olarak gelişen birçok meslek vardır. Tüccarlık ve uzun yol şoförlüğü bu mesleklere örnek verilebilir. Tüccarlar, üretim faaliyetleri sonucunda elde edilen malları üreticiden alıp tüketicilere satarlar.

**Buna göre aşağıdaki sorulardan hangisinin cevabına ulaşamaz?**

- A) Sanayiye bağlı olarak gelişen meslekler nelerdir?  
B) Ticarete bağlı olarak gelişen meslekler nelerdir?  
C) Tüccarlar ne iş yapar?  
D) Fabrika işçiliği, gıda mühendisliği, tornacılık, makine teknisyenliği vb meslekler hangi bölgemizde öne çıkmaktadır?