

ONUR AKMEŞE

2012-2021

ÇIKMIŞ SORULAR

7. Sınıf

Bu çalışma son 10 yıl içerisinde MEB tarafından BURSLULUK sınavlarında sorulan 208 soruyu kapsamaktadır. 10 farklı sınavdan derlenmiştir.

Müfredat değişiklikleriyle kaldırılan kazanımlardaki sorular şuan yer alan en yakın kazanıma eklenmiştir. Yakın bir kazanım yok ise soru kullanılmamıştır.

Sosyal Bilgiler



www.akmeseonur.com



@akmese.onur

@sosyal_bilgiler_zumresi2021



Daha Fazla Ücretsiz İçerik İçin;

Web: www.akmeseonur.com

Youtube: [Onur AKMEŞE-ZGA Yayınları](https://www.youtube.com/channel/UCkMEŞE-ZGA)

Instagram: [@akmese.onur](https://www.instagram.com/akmese.onur)

Instagram: [@sosyal bilgiler zumresi2021](https://www.instagram.com/sosyal_bilgiler_zumresi2021)



YouTube



Kitaplarımız ile ilgili bilgi ve sipariş için;

www.zgayayinlari.com

Whatsapp: 0 850 30 83 ZGA (942)

Yukarıdaki bağlantıların üzerine tıklayarak sitelere ulaşabilirsiniz.



8. SINIF SORU BANKAMIZ

**ZÜMRELERİN
GÜCÜ
ADINA
YAYINLARI**



8. SINIF 30'LU DENEMEMİZ

2022-2023 Eğitim Öğretim Döneminde 6. ve 7. Sınıf Sosyal Bilgiler Soru Bankalarımız ile SİZLERLEYİZ.



BİREY VE TOPLUM



1.ÜNİTE



**BU ÜNİTEDEN 2012 YILINDAN
2021 YILINA KADAR YAPILAN
10 SINAVDA TOPLAM
33 SORU ÇIKMIŞTIR.**

1. İLETİŞİMİ ETKİLEYEN TUTUM VE DAVRANIŞLARI ANALİZ EDEREK KENDİ TUTUM VE DAVRANIŞLARINI SORGULAR.
2. BİREYSEL VE TOPLUMSAL İLİŞKİLERDE OLUMLU İLETİŞİM YOLLARINI KULLANIR.
3. MEDYANIN SOSYAL DEĞİŞİM VE ETKİLEŞİMDEKİ ROLÜNÜ TARTIŞIR.
4. İLETİŞİM ARAÇLARINDAN YARARLANIRKEN HAKLARINI KULLANIR VE SORUMLULUKLARINI YERİNE GETİRİR.



@akmese.onur

@sosyal_bilgiler_zumresi2021

BU KAZANIMDAN SON 10 YILDA 12 SORU SORULMUŞTUR.

1

Aşağıdaki atasözlerinden hangisi, insan ilişkilerinde olumlu iletişimin önemini vurgular?

- A) "Kara haber tez duyulur."
- B) "Laf ile peynir gemisi yürümez."
- C) "Tatlı dil yılanı deliğinden çıkarır."
- D) "Bir ağızdan çıkar, bin ağıza yayılır."

2

Bir kişinin çevresiyle sağlıklı iletişim kurabilmesinin ilk basamağı, aşağıdakilerden hangisidir?

- A) Kendini tanıma
- B) Hoşgörülü olma
- C) Etkileyici konuşabilme
- D) Jest ve mimikleri kullanabilme

3

Sağlıklı bir iletişim kurulması için bireylerin aşağıdaki davranışların hangisinden kaçınması gerekir?

- A) Kişinin kendisini doğru ifade etmesinden
- B) Bireylerin birbirine karşı sürekli eleştirel yaklaşmasından
- C) Bireylerin birbirine empati ile yaklaşmasından
- D) Bireylerin birbirine karşı önyargısız olmasından

4

Selam Ver!

Yola çıkınca her sabah,
Bulutlara selam ver.
Taşlara, kuşlara,
Atlara, otlara,
İnsanlara selam ver.
Ne görürsen selam ver...

Üstün DÖKMEN

Şiirde, iletişimi olumlu etkileyen tutum ve davranışlardan hangisi vurgulanmaktadır?

- A) Uzlaşma
- B) Empati kurma
- C) Ön yargısız yaklaşım
- D) Bireysel farklılıklara saygı

5

İyi bir dinleyiciyle ilgili

- I. Dikkatini konuşmacıya verir.
- II. Son sözü söylemek için çaba gösterir.
- III. Konuşmacıyla göz göze gelmemeye dikkat eder.

yargılarından hangileri doğrudur?

- A) Yalnız I
- B) I ve II.
- C) II ve III.
- D) I, II ve III.



BU KAZANIMDAN SON 10 YILDA 12 SORU SORULMUŞTUR.

6

İletişim bireyler arasında gerçekleşen duygu, düşünce, davranış ve bilgi alışverişidir.

Buna göre bireyler arasında sağlıklı iletişimin gerçekleşmesi aşağıdakilerden hangisine bağlıdır?

- A) Karşılıklı olmasına
- B) Emir cümleleri kullanılmasına
- C) Karşıdaki kişinin sorgulanmasına
- D) Başkalarının duygularına ilgisiz kalınmasına

7

Sözlü iletişim, konuşarak kurduğumuz iletişimdir. Yüz yüze veya telefonla yaptığımız görüşmelerde kullanırız.

Bu bilgiye göre aşağıdakilerden hangisi sözlü iletişime örnek olarak gösterilebilir?

- A) Toplantı konuşmaları
- B) Faks mesajları
- C) Elektronik postalar
- D) Mektuplar

8

Etkili iletişimi olumsuz etkileyen sorunlar kaynaklarına göre dinleyiciden ve konuşmacıdan olmak üzere iki grupta toplanır.

Buna göre aşağıdaki etkili iletişimi olumsuz etkileyen sorunlardan hangisinin konuşmacıdan kaynaklandığı söylenebilir?

- A) Söylenenleri yanlış yorumlama
- B) Ön yargılı dinleme
- C) Söylenenleri yetersiz algılama
- D) Eksik bilgi ve mesaj verme

9

Etkili iletişimi olumsuz etkileyen aşağıdaki sorunlardan hangisinin dinleyiciden kaynaklandığı söylenebilir?

- A) İyi hazırlanmamış konuşma metni
- B) Eksik bilgi ve mesaj verme
- C) Yanlış anlaşılmaya neden olacak ifadeler kullanma
- D) Söylenenleri yetersiz algılama

10

Aşağıdakilerden hangisi sözsüz iletişim türüne örnek olarak gösterilebilir?

- A) Komşumuzu gördüğümüzde günaydın demek
- B) Arkadaşımıza başımızı sallayarak selam vermek
- C) Öğretmenimize sınavdan aldığımız puanı sormak
- D) Hasta olan bir akrabamıza geçmiş olsun demek

11

Etkili iletişimi olumsuz etkileyen aşağıdaki sorunlardan hangisinin konuşmacıdan kaynaklandığı söylenebilir?

- A) Dikkatsiz dinleme
- B) Yanlış yorumlama
- C) Soru sormama
- D) Aynı ses tonu ile sıkıcı konuşma

12

Aşağıdakilerden hangisi sözlü iletişim türüne örnek gösterilebilir?

- A) Arkadaşımızın hareketini başımızla onaylamak
- B) Hastalanan yakınlarımıza "geçmiş olsun" demek
- C) Bayramlarda büyüklerimizin elini öpmek
- D) Öğretmenimize gülümseyerek bakmak





KAZANIM 1: İLETİŞİMİ ETKİLEYEN TUTUM VE DAVRANIŞLARI ANALİZ EDEREK KENDİ TUTUM VE DAVRANIŞLARINI SORGULAR.



BU KAZANIMDAN SON 10 YILDA 12 SORU SORULMUŞTUR.

CEVAP ANAHTARI

- | | |
|------|------|
| 1- C | 8-D |
| 2- A | 9-D |
| 3- B | 10-B |
| 4- C | 11-D |
| 5- A | 12-B |
| 6- A | 13- |
| 7- A | 14- |



@akmese.onur

@sosyal_bilgiler_zumresi2021

SADECE SOSYAL BİLGİLER ÖĞRETMENLERİNİN YER ALDIĞI WHATSAP GRUPLARIMIZDAN BİRİNE KATILMAK İÇİN MAIL ATABİLİRSİNİZ.

onurakmese16@gmail.com

Daha Fazlası İçin Tıkla

www.akmeseonur.com



BU KAZANIMDAN SON 10 YILDA 6 SORU SORULMUŞTUR.

1

Bazen hiç umulmadık adamdan, ben pek çok şeyler öğrenmişimdir. Hiçbir düşünceyi, değersiz görmemek lazımdır. Neticede, kendi fikrimi uygulayacak bile olsam, herkesi ayrı ayrı dinlemekten zevk alırım.



Atatürk bu düşüncesiyle, aşağıdakilerden hangisini vurgulamak istemiş olabilir?

- A) Bütün fikirlere değer verilmesi gerektiğini
- B) Fikir ayrılığına düşmenin yanlış olduğunu
- C) Her insanın fikir üretmesi gerektiğini
- D) Mantıklı fikirleri dinlediğini

2


Yaşadığımız duyguları dile getiren, suçlayıcı ve değerlendirmeyen mesajlar içeren dile "ben dili" denir.

Bu tanıma göre aşağıdakilerden hangisi ben diline uygun bir ifade değildir?

- A) Odanı dağınık bıraktığın için üzülüyorum.
- B) Konuşmamın sonunu getiremediğim için rahatsız oluyorum.
- C) Eve geç gelmen beni endişelendiriyor.
- D) Arkadaşlarınla iyi geçinmeyi bir türlü beceremiyorsun.

3

Sınıfımıza yeni gelen Emel, teneffüslerde bile bahçeye hiç çıkmıyor, sürekli sırasında oturuyor. Galiba sınıfımıza ve okula daha alışamadı. Ben de olsaydım sanırım onun gibi davranırdım.



Emel'in durumunu gözlemleyerek düşüncelerini dile getiren Ece, aşağıda verilen olumlu iletişim kurallarından hangisini uygulamıştır?

- A) Sabırlı olma
- B) Empati kurma
- C) Göz temasında bulunma
- D) Kendini doğru ifade etme

4

Kişiler arası ilişkilerde "empati kuran" bir birey için aşağıdakilerden hangisi söylenmez?

- A) İletişimde bulunduğu kişiyi yargılamaz.
- B) Duygu ortaklığı kurarak, insanları anlamaya çalışır.
- C) Konunun gerçekliğini tespit etmeden bir kaniya varır.
- D) Dış dünyayı karşısındaki kişinin penceresinden görmeye çalışır.



BU KAZANIMDAN SON 10 YILDA 6 SORU SORULMUŞTUR.

5

İnsanın kendisini karşısındakinin yerine koyarak onun duygularını ve düşüncelerini doğru olarak anlamaya çalışmasına empati denir.

Bu tanıma göre aşağıdaki örneklerden hangisinde empati kurulduğu söylenebilir?

- A) Annenin 7.sınıfa giden çocuğunu “Hiçbir zaman odanı toplamıyorsun.” diyerek eleştirmesi
- B) Öğretmenin bir gün önce okula gelmeyen öğrencisine gelmediğinde onu merak ettiğini söylemesi
- C) Bir konuşmacının dinleyicilerin yerinde kendisi olsa sıkılacağını fark edip toplantı süresini kısaltması
- D) Bir öğrencinin okuldan eve geldikten sonra öğretmenin anlattıklarını tekrar etmesi ve ödevlerini yapması

6

Aşağıdakilerden hangisi “etkili dinleme” yöntemlerinden biri değildir?

- A) Dikkatli bir şekilde dinleme
- B) Dinlediğimizi konuşmacıya hissettirme
- C) Konuşmacının sözünü kesme
- D) Gerekğinde soru sormak için not alma



KAZANIM 2: BİREYSEL VE TOPLUMSAL İLİŞKİLERDE OLUMLU İLETİŞİM YOLLARINI KULLANIR.

BU KAZANIMDAN SON 10 YILDA 6 SORU SORULMUŞTUR.

CEVAP ANAHTARI

1-A

2-D

3-B

4-C

5-C

6-C

7-



@akmese.onur

@sosyal_bilgiler_zumresi2021

SADECE SOSYAL BİLGİLER ÖĞRETMENLERİNİN YER ALDIĞI WHATSAP GRUPLARIMIZDAN BİRİNE KATILMAK İÇİN MAIL ATABİLİRSİNİZ.

onurakmese16@gmail.com

Daha Fazlası İçin Tıkla

www.akmeseonur.com



BU KAZANIMDAN SON 10 YILDA 9 SORU SORULMUŞTUR.

1

Aşağıdakilerden hangisi sosyal medyanın faydalı kullanımına örnek olarak gösterilebilir?

- A) İhtiyaç sahipleri için yardım kampanyaları düzenlemek
- B) Zamanın çoğunu sosyal medyada geçirmek
- C) Doğruluğundan emin olmadığımız haberleri yaymak
- D) Kişisel bilgilerimizi tanımadığımız kişilerle paylaşmak

2

Aşağıdakilerden hangisi sosyal medya kullanımının artmasıyla ortaya çıkan sorunlardan değildir?

- A) Zaman israfı
- B) Dil tahribatı
- C) Doğru bilgiye kolay ulaşma
- D) Geleneklerin unutulmaya başlanması

3

Ayşe: “Genel Ağ yoluyla hazırladığım ödevi arkadaşlarım çok beğendi.”

Buna göre Ayşe, Genel Ağ’ı aşağıdaki amaçlardan hangisi için kullanmıştır?

- A) Haber
- B) Sosyal medya takibi
- C) Eğitim
- D) Alışveriş yapmak

4

Günümüzde yaşanan teknolojik gelişmelerle insanlar dünyanın dört bir yanıya iki yönlü iletişime girme olanağı bulmuşlardır. Herhangi bir konuda istediği kadar bilgi alma özgürlüğüne sahip olan insanlar, keşifleri anında izlemeye başlamışlardır. Bir bilgi ya da haber bu sayede dünyanın dört bir yanına çok kısa sürede yayılmaya başlamıştır.

Bu metinde aşağıda verilen hangi kitle iletişim aracından söz edilmektedir?

- A) Gazete
- B) Telgraf
- C) İnternet
- D) Televizyon

5

Televizyon programlarının içeriği hakkında önceden uyarı veren “akıllı işaretler” aşağıdakilerden hangisi tarafından hazırlanmaktadır?

- A) Türk Dil Kurumu
- B) Radyo ve Televizyon Üst Kurulu
- C) Millî Eğitim Bakanlığı
- D) Türkiye İstatistik Kurumu



BU KAZANIMDAN SON 10 YILDA 9 SORU SORULMUŞTUR.

6

- I- Üretilen bilgiler, dünyanın her yerine kolayca yayılmıştır.
- II- Toplumdan kopuk bireylerin sayısında artış yaşanmıştır.
- III- Uluslar, birbirlerini daha yakından tanıma imkânı bulmuştur.
- IV- Kuşaklar arası kültürel çatışma daha belirgin bir hâle gelmiştir.

Yukarıdaki ifadelerden hangileri, kitle iletişim araçlarının zararlı etkilerini dile getirmektedir?

- A) I ve II
- B) I ve III
- C) II ve IV
- D) III ve IV

7

İki gün önce meydana gelen Pakistan depreminden sonra çevremdeki insanlar bölgeye yardım gönderiyorlardı. Bense “Ülkemizde de muhtaç insanlar var.” diyordum. Bir haftadır arızalı olan televizyonum o akşam tamirden gelmişti. Haberlerde deprem görüntülerini izledim, çok etkilendim. Ertesi gün bir banka aracılığıyla bende yardım gönderdim.

Parçaya göre bu kişinin, depremzedelere yardım konusunda daha duyarlı hâle gelmesinde aşağıdakilerden hangisi etkili olmuştur?

- A) Komşuları
- B) Arkadaşları
- C) Doğal afetler
- D) Kitle iletişim araçları

8

Televizyon, radyo, gazete, dergi ve sinema gibi kitle iletişim araçları, kamuoyunun oluşturulmasında ve fikirlerin serbestçe ifadesinde önemli rol oynamaktadır.

Bu açıklamadan kitle iletişim araçları ile ilgili olarak, aşağıdakilerden hangisi cıkarılamaz?

- A) Fikir paylaşımını sağladıkları
- B) Yargının kararlarını etkiledikleri
- C) Toplumı yönlendiren bilgiler verdikleri
- D) Özgür düşünce ortamını oluşturdukları

9

XXI. yüzyılda hayatımızın her alanına giren bilgisayarlar çift yönlü bir iletişim sağlayarak televizyonun yerini almıştır. İnsanlar internet sayesinde dünyanın dört bir yanıyla iletişim kurmaya başlamışlardır. Buna karşılık, insanların kitle iletişim araçlarına aşırı bağlanması, iletişim kopukluğu ve kültürel yozlaşma gibi sorunlara da yol açmaktadır.

Bu parçaya dayanarak kitle iletişim araçlarıyla ilgili aşağıdakilerden hangisine ulaşılabılır?

- A) Olumsuz yönlerinin de olduğuna
- B) Sadece tek yönlü iletişim sağladığına
- C) Sınırsız bir şekilde yararlanılması gerektiğine
- D) Yüz yüze ilişkileri artırdığına



KAZANIM 3: MEDYANIN SOSYAL DEĞİŞİM VE ETKİLEŞİMDEKİ ROLÜNÜ TARTIŞIR.

BU KAZANIMDAN SON 10 YILDA 9 SORU SORULMUŞTUR.

CEVAP ANAHTARI

- | | |
|-----|-----|
| 1-A | 8-B |
| 2-C | 9-A |
| 3-C | 10- |
| 4-C | 11- |
| 5-B | 12- |
| 6-C | 13- |
| 7-D | 14- |



@akmese.onur

@sosyal_bilgiler_zumresi2021

SADECE SOSYAL BİLGİLER ÖĞRETMENLERİNİN YER ALDIĞI WHATSAP GRUPLARIMIZDAN BİRİNE KATILMAK İÇİN MAIL ATABİLİRSİNİZ.

onurakmese16@gmail.com

Daha Fazlası İçin Tıkla

www.akmeseonur.com



BU KAZANIMDAN SON 10 YILDA 6 SORU SORULMUŞTUR.

1

Geçenlerde kız kardeşimle sinemaya gitmiştik. Çıkışta bazı gazetecilerin objektiflerine yakalandık. Ertesi gün gazetelerin magazin sayfalarında “Şarkıcı Semavi kız arkadaşıyla geç saatte sinema çıkışı görüldü!” diye yazıldı. Halbuki o, benim kız kardeşimdi. İkimiz de çok üzüldük.



Bu metne göre gazeteciler, aşağıdakilerden hangisini gözardı ederek haber yapmıştır?

- A) Seyahat hakkını
- B) Basın özgürlüğünü
- C) Özel yaşamın gizliliğini
- D) Telif ve patent haklarını

2

“İstediğim herhangi bir iletişim aracını kullanabilirim.” diyen bir kişi temel hak ve özgürlüklerimizden hangisini vurgulamaktadır?

- A) Düşünce özgürlüğü
- B) Haberleşme hürriyeti
- C) Özel hayatın gizliliği
- D) Dernek kurma hakkı

3

Basın, milletin genel sesidir. Bir milleti aydınlatma ve uyarmada, bir millete gereksindiği fikrî gıdayı vermekte, özet olarak bir milletin mutluluk hedefi olan ortak doğrultuda yürümesini teminde, basın başlı başına bir kuvvet, bir okul, bir rehberdir.



Atatürk bu sözü ile basının,

- I. yönlendirici
- II. taraf tutucu
- III. bilgilendirici
- IV. kamuoyu oluşturucu

özelliklerinden hangilerini taşıması gerektiğini vurgulamıştır?

- A) Yalnız I.
- B) II. ve III.
- C) II. ve IV.
- D) I, III. ve IV.

4

Polislerin hâkim kararı olmadan bir evde arama yapmamaları aşağıdakilerden hangisine saygı duyulduğunu gösterir?

- A) Düşünce özgürlüğüne
- B) Haber alma hakkına
- C) Konut dokunulmazlığı hakkına
- D) Bilgi edinme hakkına



BU KAZANIMDAN SON 10 YILDA 6 SORU SORULMUŞTUR.

5

Bir televizyon kanalı, üç gün önce haberlerde yayımladığı bir haberin yanlış bilgi içerdiğini, bugünkü programında tekzip yayını ile izleyicilere duyurdu.

Bu tekzip yayını, aşağıdakilerden hangisinin ihlali üzerine yapılmış olabilir?

- A) Özel hayatın gizliliğinin
- B) Doğru bilgi alma hakkının
- C) Kitle iletişim özgürlüğünün
- D) Düşünceyi açıklama özgürlüğünün

6

(I) İnsan hak ve özgürlükleri, kamu sağlığı ve güvenliği söz konusu olduğunda bile sınırlandırılmaz. (II) Yargı kararı olmadıkça kimsenin özel yaşamına müdahale edilemez. (III) Toplum yararının olmadığı durumlarda gizli bilgiler yayımlanamaz. (IV) Yayın organları kişilerin özel yaşamına saygı duymakla yükümlüdür.

Bu parçada numaralanmış cümlelerin hangisinde “insan hak ve özgürlükleri” ile ilgili yanlış bilgi verilmiştir?

- A) I.
- B) II.
- C) III.
- D) IV.





KAZANIM 4: İLETİŞİM ARAÇLARINDAN YARARLANIRKEN HAKLARINI KULLANIR VE SORUMLULUKLARINI YERİNE GETİRİR.



BU KAZANIMDAN SON 10 YILDA 6 SORU SORULMUŞTUR.

CEVAP ANAHTARI

1-C

2-B

3-D

4-C

5-B

6-A

7-



@akmese.onur

@sosyal_bilgiler_zumresi2021

SADECE SOSYAL BİLGİLER ÖĞRETMENLERİNİN YER ALDIĞI WHATSAP GRUPLARIMIZDAN BİRİNE KATILMAK İÇİN MAIL ATABİLİRSİNİZ.

onurakmese16@gmail.com

Daha Fazlası İçin Tıkla

www.akmeseonur.com





KÜLTÜR VE MİRAS



2.ÜNİTE



**BU ÜNİTEDEN 2012 YILINDAN
2021 YILINA KADAR YAPILAN
10 SINAVDA TOPLAM
60 SORU ÇIKMIŞTIR.**

- 1.OSMANLI DEVLETİ'NİN SİYASİ GÜÇ OLARAK ORTAYA ÇIKIŞ SÜRECİNİ VE BU SÜRECİ ETKİLEYEN FAKTÖRLERİ AÇIKLAR.
- 2.OSMANLI DEVLETİ'NİN FETİH SİYASETİNİ ÖRNEKLER ÜZERİNDEN ANALİZ EDER.
- 3.AVRUPA'DAKİ GELİŞMELERLE BAĞLANTILI OLARAK OSMANLI DEVLETİ'Nİ DEĞİŞİME ZORLAYAN SÜREÇLERİ KAVRAR.
- 4.OSMANLI DEVLETİ'NDE ISLAHAT HAREKETLERİ SONUCU ORTAYA ÇIKAN KURUMLARDAN HAREKETLE TOPLUMSAL VE EKONOMİK DEĞİŞİM HAKKINDA ÇIKARIMLARDA BULUNUR.
- 5.OSMANLI KÜLTÜR, SANAT VE ESTETİK ANLAYIŞINA ÖRNEKLER VERİR.



@akmese.onur

@sosyal_bilgiler_zumresi2021

BU KAZANIMDAN SON 10 YILDA 25 SORU SORULMUŞTUR.

1

Aşağıdakilerden hangisi, atlı askerlerden oluşan askerî sınıftır?

- A) Yeniçeriler B) Leventler
C) Tımarlı sipahiler D) Humbaracılar

2

Aşağıdakilerden hangileri, Osmanlı Devleti'nde görülen yönetim kurumlarıdır?

- I- Kurultay
II- Divanühümayun
III- TBMM
IV- Meclisi Mebusan

- A) I ve II B) III ve IV
C) I ve III D) II ve IV

3

Osmanlı Beyliği'nin Bizans sınırında kurulması, aşağıdakilerden hangisi üzerinde doğrudan etkili olmuştur?

- A) Haçlı Seferlerinin yapılmasında
B) Bizans'la iyi ilişkiler kurulmasında
C) Anadolu Türk birliğinin sağlanmasında
D) Osmanlıların batı yönünde genişlemesinde

4

"... İzmir'i, İstanbul'u, Suriye'yi, Lübnan'ı gezin; manastırlara, Hristiyan misafirhanelerine, mabetlere, erkekler ve kadınlar tarafından yönetilen hastane veya din okullarına girin ve içlerinden birinin imparatorluğa karşı saygı duyup duymadığını sorun. Hepsi birden, imparatorlukta uygulanan tarafsızlığı ve Sultan'ın adını takdis edeceklerdir..."

(Lemartine; Aşiretten Devlete; sf:20)

Parçada verilen bilgidен, aşağıdakilerden hangisine ulaşamaz?

- A) Osmanlı halkının Hristiyanlardan oluştuğuna
B) Ülkede adil bir yönetimin uygulandığına
C) Farklılıklara saygı gösterildiğine
D) Padişaha saygı duyulduğuna

5

Orhan Bey, Bursa'nın fethinden sonra Rumlara şehri teslim etmelerinin sebebini sorduğu zaman onlardan şu cevabı aldı:

"- Sizin devletinizin günden güne büyüdüğü ve bizim devletimizin zayıfladığını anladık. Babanızın idaresine geçen köylülerin memnun kalıp bizi anmadıklarını gördük. Biz de bu rahatlığa heves ettik."

Rumların cevabı, Osmanlı'nın kısa zamanda büyümesini sağlayan aşağıdaki nedenlerden hangisi ile ilişkilendirilebilir?

- A) Kurulduğu bölgenin coğrafi konumu
B) Adaletli ve hoşgörülü politika izlenmesi
C) Güçlü bir merkezî yönetime sahip olması
D) Başarılı bir iskân siyasetinin uygulanması



BU KAZANIMDAN SON 10 YILDA 25 SORU SORULMUŞTUR.

6

- Hastane
- Medrese
- İmarethane

Verilen vakıfların işlevleri ile aşağıdaki hizmetler eşleştirildiğinde hangi seçenek dışarıda kalır?

- A) Üretim faaliyetlerini denetlemek
- B) Eğitim faaliyetlerini yürütmek
- C) Toplumsal yardımlaşmayı sağlamak
- D) Topluma sağlık hizmeti vermek

7

Mevlana, Hacı Bektaş Veli ve Yunus Emre gibi şahsiyetler, Anadolu'nun Türk yurdu olmasına hangi alanda katkı sağlayarak hizmet etmişlerdir?

- A) Fikrî
- B) Mali
- C) Askerî
- D) Mimari

8

Osmanlı Devleti içinde farklı etnik ve dinî unsurlar bulunmaktaydı. Örfi hukuk, bu farklı unsurların duyarlılıklarını gözetten bir hukuk sistemiydi.

Osmanlı Devleti'nde bu örfi hukukun uygulanması aşağıdakilerden hangisinin kanıtıdır?

- A) Osmanlı Devleti'nde hukuk birliğinin sağlandığının
- B) Osmanlı Devleti'nin farklı kültürlerden etkilendiğinin
- C) Farklı unsurların Osmanlı Devleti üzerinde etkili olduğunun
- D) Osmanlı Devleti'nde hoşgörü ve birlikte yaşama fikrinin geliştiğinin

9

"Yahudilerin toptan öldürüldüğü, Engizisyon Mahkemelerinin ölüm saçtığı bir devirde Osmanlılar, idareleri altındaki çeşitli dinlere bağlı kimseleri barış ve uyum içinde yaşatıyorlardı."

Gibbons

Osmanlı Devleti'nin Kuruluşu. s.22

Gibbons'un sözlerinden hareketle, Osmanlı toplumu hakkında, aşağıdakilerden hangisi söylenemez?

- A) Hoşgörü kültürü gelişmiştir.
- B) İnanç birliği kurulmuştur.
- C) Din hürriyeti hayat bulmuştur.
- D) Birlikte yaşama fikri oluşmuştur.

10

Bir gün Germiyanogulları Beyliği'nden gelen biri, Bilecik Rumlarından bir kişiden bardak satın almış, ancak parasını ödememişti. Parasını alamayan satıcı, Osman Bey'e gelerek şikâyetle bulundu. Bunun üzerine Osman Bey, Germiyanlıyı çağırarak Rum'un hakkını ondan aldı. O günden sonra haksızlığa uğrayanların kendisine müracaat etmesini istedi.

Ahmet Şimsirgil, Kayı I. s.32

Verilen durum, Osmanlı Beyliği'nin güçlenmesini sağlayan aşağıdaki faktörlerden hangisiyle ilişkilendirilebilir?

- A) Adalet anlayışıyla
- B) Hoşgörü fikriyle
- C) İskân politikasıyla
- D) Yöneticilerin yeteneğiyle



BU KAZANIMDAN SON 10 YILDA 25 SORU SORULMUŞTUR.

11

"Devletli sultanımın yardımıyla Rumeli fethedilmeye başlandı. Düşman zayıftır. Bu tarafta fethedilen hisarlara koymaya çok adam gerek. Lütfedip bana yarar yoldaş gönderiniz."

Süleyman Paşa

Orhan Bey'in oğlu Süleyman Paşa, babasından bu isteğiyle aşağıdakilerden hangisini amaçlamış olabilir?

- A) Fethedilen toprakların kalıcı olmasını sağlamayı
- B) Rumeli'deki Türk nüfus yoğunluğunu azaltmayı
- C) Osmanlı ordusunu güçlendirmeyi
- D) Devletin ekonomisini geliştirmeyi

12

Osmanlı Devleti'nde devlet işleri Divanihümayun adı verilen bir kurulda görüşülüp karara bağlanırdı. Divanda devlet işleriyle ilgili alınan kararların İslam dinine uygun olup olmadığına divan üyelerinden Şeyhülislam karar verirdi.

Bu bilgilere göre Osmanlı devlet yönetimiyle ilgili olarak aşağıdaki sonuçlardan hangisi çıkarılabilir?

- A) Yargıda örfi hukuk geçerlidir.
- B) Devlet yönetiminde din kuralları etkilidir.
- C) Divana bütün halkın başvurma hakkı vardır.
- D) Devlet yönetiminde padişah tek başına hareket etmektedir.

13

Aşağıdakilerden hangisi Orhan Bey dönemi olaylarından değildir?

- A) Bursa'nın fethi
- B) Fetret Devri'nin başlaması
- C) Türklerin Rumeli'ye geçmesi
- D) Orduda yaya ve müsellemler birliğinin oluşturulması

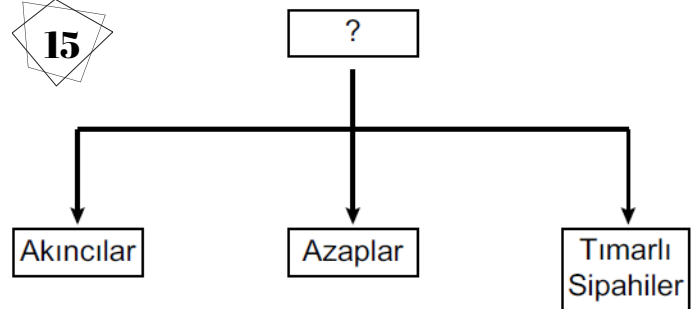
14

Osmanlı Devleti'nin fethettiği şehirlerde farklı dinlere ait ibadet yerleri varlığını devam ettirmiştir. Egemenliği altındaki gayrimüslimler dinlerini serbestçe yaşamışlardır.

Bu durum, Osmanlıların aşağıdakilerden hangisine önem verdiğine kanıt olarak gösterilebilir?

- A) Din birliğine
- B) Farklı dinleri tanımaya
- C) Kültürlerini kabul ettirmeye
- D) İnançlara hoşgörü ile yaklaştıklarına

15



Şemaya hangi başlık verilmelidir?

- A) Deniz Kuvvetleri
- B) Cebeci Ocağı
- C) Topçu Ocağı
- D) Eyalet Askerleri



BU KAZANIMDAN SON 10 YILDA 25 SORU SORULMUŞTUR.

16

Osmanlı nüfusunun önemli bir kısmı köylerde yaşarlardı. Konargöçerler çoğunlukla hayvancılıkla, köylüler ise daha çok tarım ile uğraşırlardı. Köylülerin büyük çoğunluğu devletin kendilerine tahsis ettiği çiftlikleri işleten ailelerden oluşmaktaydı.

Bu metindeki bilgiye getirilebilecek uygun başlık aşağıdakilerden hangisidir?

- A) Osmanlı Devleti'nin Askerî Yapısı
- B) Osmanlı Divan Teşkilatı
- C) Osmanlı Devleti'nin Toplumsal ve Ekonomik Yapısı
- D) Osmanlı İskân Politikası

17

Aşağıdakilerden hangisi Osmanlı Beyliği'nin Söğüt ve çevresini yurt edinmesinin sağladığı siyasi avantajlardan biri değildir?

- A) Kurulduğu dönemde çevresinde güçlü bir devletin olmayışı
- B) Ticari açıdan gelişmiş şehir ve kasabalara komşu bulunması
- C) Etrafındaki tekfurlarının birbiriyle mücadele hâlinde olması
- D) Bizans İmparatorluğu'nun iç karışıklıklarla uğraşması

18

Osman Bey, oğlu Orhan Gazi'ye; "İlim ehli insanlara rağbet et, askerine ve malına güvenip âlimlerden uzaklaşma!" diye vasiyet etmiştir.

Osman Bey'in bu sözleriyle önemini vurguladığı erdem, aşağıdakilerden hangisidir?

- A) Bilgi
- B) Hoşgörü
- C) Cesaret
- D) İyilikseverlik

19

Aşağıdakilerden hangisi Osmanlı Devleti'nin uyguladığı "İskân Politikası"nın askerî amaçlarından biridir?

- A) İssız ve terk edilmiş yerlerde Türk şehirleri oluşturmak
- B) Rumeli'deki boş arazileri ekilip biçilen tarlalar hâline dönüştürmek
- C) Fethedilen yerlere Türk nüfusu yerleştirerek yeni fetihlere zemin hazırlamak
- D) İskân edilen topraklardan vergi geliri elde etmek

20

- Gelibolu Yarımadası'ndadır.
- Batı seferlerinde üs olarak kullanılmıştır.
- Osmanlı'nın Rumeli'deki ilk toprağıdır.

Bu bilgiler aşağıdakilerden hangisi ile ilgilidir?

- A) Rumeli Hisarı
- B) Çimpe Kalesi
- C) Yarhisar Kalesi
- D) Anadolu Hisarı



BU KAZANIMDAN SON 10 YILDA 25 SORU SORULMUŞTUR.

21

Eskişehir'de kurulan bir pazarda bir Türk'ün Bizanslı tüccardan aldığı bardağın parasını ödememesi üzerine Osman Bey o kişiyi cezalandırarak Bizanslı tüccarın mağduriyetini gidermiştir.

Bu olay Osman Bey'in aşağıdakilerden hangisine verdiği önemi gösterir?

- | | |
|---------------|-------------------|
| A) Hoşgörüyü | B) Vatanseverliğe |
| C) Cömertliğe | D) Adalete |

22

Aşağıdakilerden hangisi Osmanlı Devleti'nin Haçlılarla yaptığı savaşlardan biri değildir?

- | | |
|------------------|---------------------|
| A) Ankara Savaşı | B) I. Kosova Savaşı |
| C) Varna Savaşı | D) Niğbolu Savaşı |

23

Osmanlı Devleti'nde yönetici ve askerî sınıf dışında kalan kesime "reaya" denilirdi.

Bu bilgiye göre aşağıdakilerden hangisi reaya sınıfında yer almaz?

- | | |
|--------------|------------------|
| A) Tüccarlar | B) Vezirler |
| C) Esnaf | D) Konargöçerler |

24

Osmanlı Devleti'nde toplum, yönetenler ve yönetilenler olmak üzere ikiye ayrılmaktaydı. Yönetenler; askerî, idari, siyasi ve dinî yetkilere sahip devlet görevlileriydi.

Bu bilgilere göre aşağıdakilerden hangisi yönetenler arasında yer almaz?

- | | |
|-------------------|----------|
| A) Sancak beyi | B) Kadı |
| C) Tımarlı sipahi | D) Esnaf |

25

Osmanlı Beyliği'nin kısa sürede güçlenmesini sağlayan aşağıdaki nedenlerden hangisi kurulduğu bölgenin sağladığı avantajlardan biridir?

- | |
|--|
| A) Yetenekli padişahların iş başına gelmesi |
| B) Bizans'ın ve Balkanların karışıklık içinde olması |
| C) Adaletli bir yönetim uygulanması |
| D) Merkeziyetçi bir devlet anlayışının benimsenmesi |



KAZANIM 5: OSMANLI DEVLETİ'NİN SİYASİ GÜÇ OLARAK ORTAYA ÇIKIŞ SÜRECİNİ VE BU SÜRECİ ETKİLEYEN FAKTÖRLERİ AÇIKLAR.

BU KAZANIMDAN SON 10 YILDA 25 SORU SORULMUŞTUR.

CEVAP ANAHTARI

1-C	8-D	15-D	22-A
2-D	9-B	16-C	23-B
3-D	10-A	17-B	24-D
4-A	11-A	18-A	25-B
5-B	12-B	19-C	26-
6-A	13-B	20-B	27-
7-A	14-D	21-D	28-



@akmese.onur

@sosyal_bilgiler_zumresi2021

SADECE SOSYAL BİLGİLER ÖĞRETMENLERİNİN YER ALDIĞI WHATSAP GRUPLARIMIZDAN BİRİNE KATILMAK İÇİN MAIL ATABİLİRSİNİZ.

onurakmese16@gmail.com

Daha Fazlası İçin Tıkla

www.akmeseonur.com



BU KAZANIMDAN SON 10 YILDA 8 SORU SORULMUŞTUR.

1

Aşağıdakilerden hangilerinin fethi, Karadeniz'de ticaretin Osmanlıların denetimine girmesini sağlamıştır?

- I- Amasra
- II- Kıbrıs
- III- Trabzon

- A) I ve II
- B) I ve III
- C) II ve III
- D) I, II ve III

2

“Tarih boyunca İstanbul, önemli kara ve deniz ticaret yolları üzerinde bulunuyordu.”

Verilen bu bilgi doğrultusunda, İstanbul'un fethi Osmanlı Devleti'ne daha çok hangi alanda katkı sağlamıştır?

- A) İdari
- B) Siyasi
- C) Ekonomik
- D) Askerî

3

Fatih Sultan Mehmet;

- Cenevizlilerden Amasra'yı almış,
- Trabzon İmparatorluğu'na son vermiş,
- Kırım'ı Osmanlı'ya bağlamıştır.

Fatih Sultan Mehmet'in bu faaliyetleri, Osmanlı Devleti'nin en çok hangi alanda gelişmesine katkı sağlamıştır?

- A) Sanat
- B) Tarım
- C) Bilim
- D) Ticaret

4

Osmanlı Devleti; Anadolu, Suriye ve Mısır bölgelerine egemen olduğunda, bu bölgeler için stratejik ve merkezî bir üs konumunda olan Kıbrıs Adası, Venedik'in idaresinde bulunuyordu. Bu yıllarda ada, Doğu Akdeniz'de Hristiyanların kalesi durumundaki tek yerleşim yeri idi. Ayrıca Kıbrıs kralı zaman zaman, Osmanlı aleyhine kurulan ittifaklara da yardımlarda bulunuyordu.

Verilen bilgiden hareketle Kıbrıs'ın fethinin, Osmanlı Devleti'ne;

- I- dinî
- II- iktisadi
- III- siyasi
- IV- askerî

alanların hangilerinde katkı sağladığı söylenebilir?

- A) I ve II
- B) II ve III
- C) III ve IV
- D) I, III ve IV

5

- I. Trabzon
- II. Kırım
- III. Kıbrıs

Numaralanmış yerlerden hangilerinin fethi, Karadeniz'de Türk hâkimiyetini güçlendirmiştir?

- A) Yalnız I
- B) Yalnız II
- C) I ve II.
- D) II ve III.



BU KAZANIMDAN SON 10 YILDA 8 SORU SORULMUŞTUR.

6

Fatih Sultan Mehmet Dönemi'nde;

- medreseler kurulmuş,
- değişik ülkelerden bilim insanları İstanbul'da toplanmış,
- yabancı dillerden Türkçeye, Türkçeden de yabancı dillere çeviriler yapılmıştır.

Buna göre Fatih Sultan Mehmet Dönemi ile ilgili aşağıdakilerden hangisine değinilmemistir?

- A) Bilimsel çalışmaların desteklendiğine
- B) Ticaretin gelişmesi için çalışmalar yapıldığına
- C) Yabancı eserlerden yararlanıldığına
- D) Bilimsel araştırmalar için kurumlar oluşturulduğuna

7

Aşağıdakilerden hangisi İstanbul'un Fethi'nin "ekonomik" nedenlerindendir?

- A) Bizans'ın Osmanlı Devleti'nin batıda ilerleyişine engel olması
- B) İstanbul'un kara ve deniz ticaret yolları üzerinde önemli bir konumda bulunması
- C) Bizans'ın, Avrupa devletlerini Osmanlı Devleti'ne karşı kışkırtması
- D) Osmanlı Devleti'nin Anadolu ve Rumeli toprakları arasındaki bağlantıyı sağlamak istemesi

8

Aşağıdakilerden hangisi Osmanlı hükümdarlarından biri değildir?

- A) Yıldırım Beyazıt
- B) Orhan Bey
- C) Alaaddin Keykubat
- D) II. Murat



KAZANIM 6: OSMANLI DEVLETİ'NİN FETİH SİYASETİNİ ÖRNEKLER ÜZERİNDEN ANALİZ EDER.

BU KAZANIMDAN SON 10 YILDA 8 SORU SORULMUŞTUR.

CEVAP ANAHTARI

- | | |
|-----|-----|
| 1-B | 8-C |
| 2-C | 9- |
| 3-D | 10- |
| 4-D | 11- |
| 5-C | 12- |
| 6-B | 13- |
| 7-B | 14- |



@akmese.onur

@sosyal_bilgiler_zumresi2021

SADECE SOSYAL BİLGİLER ÖĞRETMENLERİNİN YER ALDIĞI WHATSAP GRUPLARIMIZDAN BİRİNE KATILMAK İÇİN MAIL ATABİLİRSİNİZ.

onurakmese16@gmail.com

Daha Fazlası İçin Tıkla

www.akmeseonur.com



BU KAZANIMDAN SON 10 YILDA 12 SORU SORULMUŞTUR.

1

Yeni Çağ'da Avrupa'da,

- kağıt ve matbaanın kullanımının yaygınlaşması
- eğitimin, kilisenin etkisinden kurtarılması
- gemicilik sanatının ilerlemesi

gibi faktörlerin, aşağıdakilerden hangisinin ortaya çıkmasında etkisi yoktur?

- A) Yeni imparatorlukların kurulmasına
- B) Laik bir eğitim sisteminin oluşmasına
- C) Bilim, kültür ve düşünce hayatının gelişmesine
- D) Okyanuslara dayanıklı ulaşım ve taşıma araçlarının yapılmasına

2

Sanayi İnkılabı sonucunda Avrupa'da fabrikalaşma başladı ve hızlı üretim artışı yaşandı.

Bu durumun Avrupa'da aşağıdakilerden hangisine yol açtığı söylenebilir?

- A) Sömürgeciliğe
- B) Coğrafi Keşiflere
- C) Demokratikleşmeye
- D) Rönesans Hareketlerine

3

Fransız İhtilali'nin aşağıdaki sonuçlarından hangisi dünya siyasi haritasının değişmesinde etkisi olmuştur?

- A) Soylulara tanınmış ayrıcalıklara son verilmesi
- B) Çok uluslu devletlerin yıkılıp yerine yeni devletlerin kurulması
- C) İnsan ve Yurttaş Hakları Bildirgesi'nin yayımlanması
- D) Vatandaşlar arasında eşitlik ilkesinin benimsenmesi

4

15 ve 17. yüzyıl boyunca Avrupa'da görülen reform hareketleri, öncelikle hangi alanda değişikliğe yol açmıştır?

- A) Din
- B) Sanat
- C) Ticaret
- D) Yönetim

5

Aşağıdakilerden hangisi Avrupa'da yaşanan Rönesans Dönemi'nin özelliğini yansıtmaz?

- A) Sanat alanında gelişmelerin yaşanması
- B) Din adamlarına duyulan güvenin artması
- C) Özgür düşüncenin ön plana çıkması
- D) Bilimsel düşüncenin önem kazanması

6

Milliyetçilik akımının etkisiyle her milletin kendi devletini kurma çabası içine girmesi, bütün dünyada ve özellikle Avrupa'da siyasi ve sosyal düzenin değişmesine neden olmuştur.

Bu gelişme, aşağıdakilerden hangisinin sonucudur?

- A) Fransız İhtilali'nin
- B) Coğrafi keşiflerin
- C) Sanayi İnkılabı'nın
- D) Rönesans Hareketleri'nin



BU KAZANIMDAN SON 10 YILDA 12 SORU SORULMUŞTUR.

7

Sanayi İnkılabı sonucunda şehirlerde çok sayıda fabrika kuruldu. Şehirler hızla artan fabrikaların işçi ihtiyacı nedeniyle göç alarak büyüdü. Daha iyi şartlarda yaşamak isteyen köylüler şehirlere göç etmeye başlayınca köylerde nüfus azalırken şehirlerde nüfus artışı gerçekleşti.

Bu metinde Sanayi İnkılabı'nın aşağıdaki alanlardan hangisine etkisi vurgulanmıştır?

- A) Sosyal B) Dinî
C) Bilimsel D) Siyasi

8

Coğrafi Keşifler sonucunda Baharat ve İpek Yolları önemini yitirdi.

Bu durum Osmanlıları daha çok hangi alanda olumsuz etkilemiştir?

- A) Dinî B) Sanatsal
C) Kültürel D) Ekonomik

9

Sanayi İnkılabı aşağıdaki ülkelerden hangisinde ortaya çıkmıştır?

- A) İngiltere B) Fransa
C) İtalya D) Almanya

10

Aşağıdakilerden hangisi Avrupalıların Coğrafi Keşifleri başlatmalarının dinî sebeplerinden biridir?

- A) Coğrafya bilgisinin artması
B) Gemi yapım tekniklerinde ilerlemeleri
C) Yeni ticaret yolu aramak istemeleri
D) Hristiyanlığı yaymak istemeleri

11

Aşağıdakilerden hangisi Coğrafi Keşiflerin başlamasında etkili olan "bilimsel" sebeplerdendir?

- A) Pusulanın kullanılmaya başlanması
B) Avrupalıların Hristiyanlığı yaymak istemesi
C) Avrupa'da altın ihtiyacının ortaya çıkması
D) İpek ve Baharat yollarının Osmanlı hâkimiyetinde olması

12

Her konuda akla öncelik tanıyan düşünce sisteminin etkisiyle XVII. ve XVIII. yüzyıllarda Avrupa'da bilim, sanat, felsefe ve siyaset alanlarında gelişmelerin yaşandığı döneme "Aydınlanma Çağı" denir. Bu dönemde bilimsel araştırmalara önem verilmiştir.

Bu bilgilere göre Aydınlanma Çağı'nda yaşanan gelişmelerin aşağıdakilerden hangisinin temelini oluşturduğu söylenebilir?

- A) Sanayi İnkılabı'nın
B) Haçlı Seferleri'nin
C) Reform Hareketleri'nin
D) Coğrafi Keşifler'in



KAZANIM 7: AVRUPA'DAKİ GELİŞMELERLE BAĞLANTILI OLARAK OSMANLI DEVLETİNİ DEĞİŞİME ZORLAYAN SÜREÇLERİ KAVRAR.

BU KAZANIMDAN SON 10 YILDA 12 SORU SORULMUŞTUR.

CEVAP ANAHTARI

- | | |
|-----|------|
| 1-A | 8-D |
| 2-A | 9-A |
| 3-B | 10-D |
| 4-A | 11-A |
| 5-B | 12-A |
| 6-A | 13- |
| 7-A | 14- |



@akmese.onur

@sosyal_bilgiler_zumresi2021

SADECE SOSYAL BİLGİLER ÖĞRETMENLERİNİN YER ALDIĞI WHATSAP GRUPLARIMIZDAN BİRİNE KATILMAK İÇİN MAIL ATABİLİRSİNİZ.

onurakmese16@gmail.com

Daha Fazlası İçin Tıkla

www.akmeseonur.com



BU KAZANIMDAN SON 10 YILDA 11 SORU SORULMUŞTUR.

1

Aşağıdakilerden hangisi Osmanlı Devleti'nde matbaanın kurulmasıyla birlikte ortaya çıkan sonuçlardan biri değildir?

- A) Bilginin yayılmasının kolaylaşması
- B) Daha çok sayıda insanın kitaplardan yararlanması
- C) Kitap fiyatlarının ucuzlaması
- D) Avrupa başkentlerinde elçilikler açılması

2

II. Mahmut Dönemi'nde Divanihümayun'un kaldırılarak bakanlıkların kurulması hangi alanda değişiklik yaşandığını gösterir?

- A) Hukuk
- B) Yönetim
- C) Ekonomi
- D) Din

3

- Lale Devrinde matbaanın kurulması
- II. Mahmut Döneminde ilk resmî gazete olan Takvim-i Vekâyî'nin yayımlanması

Yapılan bu ıslahatların, Osmanlı'da ortaya çıkaracağı değişim, aşağıdakilerden hangisidir?

- A) Fikir hayatının gelişmesi
- B) Askerî yapının değişmesi
- C) Merkezî otoritenin güçlenmesi
- D) Ekonomik büyümenin gerçekleşmesi

4

- I. Asker sayısını belirlemek
- II. Vergi verecek nüfusu belirlemek
- III. Nüfusun eğitim durumunu tespit etmek

Osmanlı Devleti'nde II. Mahmut döneminde yapılan ilk nüfus sayımının amaçları arasında verilenlerden hangisi gösterilemez?

- A) Yalnız II.
- B) Yalnız III.
- C) I. ve II.
- D) II. ve III.

5

Aşağıdakilerden hangisi Osmanlı Devleti ile Avrupa'nın kültürel etkileşim içine girdiğine örnek gösterilemez?

- A) Matbaanın kurulması
- B) Divan teşkilatının oluşturulması
- C) Avrupa'da daimî elçiliklerin açılması
- D) Avrupa'dan askerî uzmanların getirilmesi

6

18. yüzyılda yapılan

- I. Telgrafın kullanılması
- II. Şirketihayriyenin kurulması
- III. İzmir-Aydın arasında ilk demir yolu hattının yapılması

ıslahatlarından hangileri haberleşme ile ilgilidir?

- A) Yalnız I
- B) Yalnız II
- C) I ve II.
- D) II ve III.



BU KAZANIMDAN SON 10 YILDA 11 SORU SORULMUŞTUR.

7

Osmanlı ıslahat hareketleri sonucunda;

- Posta Nezareti kuruldu.
- Memleket Sandıkları oluşturuldu.
- Şirketihayriye kurularak İstanbul'da düzenli vapur seferleri başladı.

Bu ıslahatlarla;

- I. Eğitim
- II. Ulaşım
- III. Ekonomi
- IV. Haberleşme

alanlarından hangilerinde ülkenin ilerlemesi amaçlanmıştır?

- A) I ve IV
- B) I, II ve III
- C) II, III ve IV
- D) I, II, III ve IV

8

Aşağıdakilerden hangisi II. Mahmut dönemi ıslahatlarından biri değildir?

- A) İlk nüfus sayımının yapılması
- B) Ziraat Bankası'nın kurulması
- C) İlköğretimin zorunlu olması
- D) İlk resmî gazete olan Takvimivekayî'nin çıkarılması

9

- I. Takvim- i Vekây-i gazetesinin çıkarılması
- II. Osmanlı Bankasının kurulması
- III. Viyana, Paris, Varşova, Moskova gibi Avrupa başkentlerinde geçici elçiliklerin açılması

Osmanlı Devleti'ndeki bu gelişmeler ile ilgili olduğu alanlar aşağıdakilerden hangisinde doğru eşleştirilmiştir?

	I	II	III
A)	Kültürel	Ekonomik	Siyasi
B)	Siyasi	Ekonomik	Kültürel
C)	Kültürel	Siyasi	Ekonomik
D)	Ekonomik	Kültürel	Siyasi

10

Aşağıdakilerden hangisi Lale Devri'nde eğitim ve kültür alanında yapılan yeniliklerden biridir?

- A) İlk matbaanın kurulması
- B) Çini fabrikasının açılması
- C) İtfaiye teşkilatının kurulması
- D) İlk kez çiçek aşısının uygulanması

11

Osmanlı Devleti'nde;

- Takvim-i Vekâyî Gazetesi'nin çıkarılması,
- İlk Türkçe eser basan matbaanın kurulması

gelişmeleri aşağıdaki alanların hangisi ile ilgilidir?

- A) Ekonomik
- B) Askerî
- C) Kültürel
- D) Mimari





KAZANIM 8:

OSMANLI DEVLETİNDE ISLAHAT HAREKETLERİ SONUCU ORTAYA ÇIKAN KURUMLARDAN HAREKETLE TOPLUMSAL VE EKONOMİK DEĞİŞİM HAKKINDA ÇIKARIMLARDA BULUNUR.



BU KAZANIMDAN SON 10 YILDA 11 SORU SORULMUŞTUR.

CEVAP ANAHTARI

- | | |
|-----|------|
| 1-D | 8-B |
| 2-B | 9-A |
| 3-A | 10-A |
| 4-B | 11-C |
| 5-B | 12- |
| 6-A | 13- |
| 7-C | 14- |



@akmese.onur

@sosyal_bilgiler_zumresi2021

SADECE SOSYAL BİLGİLER ÖĞRETMENLERİNİN YER ALDIĞI WHATSAP GRUPLARIMIZDAN BİRİNE KATILMAK İÇİN MAIL ATABİLİRSİNİZ.

onurakmese16@gmail.com

Daha Fazlası İçin Tıkla

www.akmeseonur.com



BU KAZANIMDAN SON 10 YILDA 4 SORU SORULMUŞTUR.

1

Osmanlı Devleti'nden kalan bazı yapıların günümüzde de kullanılıyor olmasını aşağıdakilerden hangisiyle açıklayabiliriz?

- A) Yenileşme çabalarına önem verilmesiyle
- B) Yerli malı kullanımının teşvik edilmesiyle
- C) Türk mimari eserlerinin sağlam ve kullanışlı olmalarıyla
- D) Osmanlı mimarisinde kullanılan süslemelerin canlılığıyla

2

Bıraktıkları hayratlar hangi çeşit olursa olsun bizdekinden fazladır. Bu yüzden yaşarken bile bizden daha cömerttirler. Dört padişah tarafından yapılan dört büyük caminin etrafı hayrat ile doludur. Kasabalar ve تنها yol kıyılarına yolcular için kervan-saraylar yaptırır, yollar açtırır. Su olmayan yerlere çeşmeler ve tuvaletler yaptırır. Halkın ücretsiz faydalandığı bu yapılar öyle muhteşemdir ki saraya benzer.

M. Serrano Y. Sanz
Türkiye'nin Dört Yılı, 1552-1556; s.89

Seyyah Sanz'ın, Osmanlı ile ilgili bu anlatımından Türk kültürüne ait aşağıdaki unsurlardan hangisi çıkarılabilir?

- A) İyilikseverlik
- B) Adaletlilik
- C) Mütevazılık
- D) Eşitlik

3

19. yüzyılda Osmanlı topraklarından geçen seyyah Sanz, gördüklerini şu şekilde anlatmıştır:

“... Adalet ve hukuk yoluyla toplum düzenini sağlayan Türkler, Hristiyan ve Müslüman farkı gözetmeksizin adaleti herkese eşit olarak tatbik ederler. Belli başlı kadıların masalarında İncil ve Tevrat birlikte bulunur. Hristiyanları İncil, Yahudileri Tevrat üzerine yemin ettirirler...”

(Sanz, Türkiye'nin Dört Yılı, sf: 93)

Seyyah Sanz'ın anlatımından hareketle, Osmanlı toplum yaşamı ile ilgili olarak aşağıdakilerden hangisi söylenemez?

- A) Farklı inanç ve kültürler bir arada yaşamıştır.
- B) Osmanlı toplumu Türklerden oluşmuştur.
- C) Adalet ve hoşgörü anlayışı gelişmiştir.
- D) İnanç hürriyeti sağlanmıştır.

4

Konuşan sözünü pek kısa tutar, dinleyen de söz bitene kadar güzel bir dikkat hâlidir. Yaşlı ve büyüklere karşı hürmet ile onların haklarına riayet, hayal edilemeyecek bir nezaket içindedir.

Bu metinde Osmanlı kültürünün özelliklerinden hangisi vurgulanmıştır?

- A) Dayanışma
- B) Saygı
- C) Temizlik
- D) Çalışkanlık

KAZANIM 9: OSMANLI KÜLTÜR, SANAT VE ESTETİK ANLAYIŞINA ÖRNEKLER VERİR.

BU KAZANIMDAN SON 10 YILDA 4 SORU SORULMUŞTUR.

CEVAP ANAHTARI

- 1-C**
- 2-A**
- 3-B**
- 4-B**
- 5-**
- 6-**
- 7-**



@akmese.onur

@sosyal_bilgiler_zumresi2021

SADECE SOSYAL BİLGİLER ÖĞRETMENLERİNİN YER ALDIĞI WHATSAP GRUPLARIMIZDAN BİRİNE KATILMAK İÇİN MAIL ATABİLİRSİNİZ.

onurakmese16@gmail.com

Daha Fazlası İçin Tıkla

www.akmeseonur.com





İNSANLAR, YERLER VE ÇEVRELER



3.ÜNİTE



**BU ÜNİTEDEN 2012 YILINDAN
2021 YILINA KADAR YAPILAN
10 SINAVDA TOPLAM
44 SORU ÇIKMIŞTIR.**

**1.ÖRNEK İNCELEMELER YOLUYLA GEÇMİŞTEN GÜNÜMÜZE, YERLEŞMEYİ ETKİLEYEN
FAKTÖRLER HAKKINDA ÇIKARIMLARDA BULUNUR.**

**2.TÜRKİYE'DE NÜFUSUN DAĞILIŞINI ETKİLEYEN FAKTÖRLERDEN HAREKETLE
TÜRKİYE'NİN DEMOGRAFİK ÖZELLİKLERİNİ YORUMLAR.**

3.ÖRNEK İNCELEMELER YOLUYLA GÖÇÜN NEDEN VE SONUÇLARINI TARTIŞIR.

**4.TEMEL HAKLARDAN YERLEŞME VE SEYAHAT ÖZGÜRLÜĞÜNÜN KISITLANMASI HALİNDE
ORTAYA ÇIKACAK OLUMSUZ DURUMLARA ÖRNEKLER GÖSTERİR.**



@akmese.onur

@sosyal_bilgiler_zumresi2021

BU KAZANIMDAN SON 10 YILDA 9 SORU SORULMUŞTUR.

1

Aşağıdakilerden hangisi bir bölgenin nüfus bakımından yoğunlaşmasını olumsuz etkiler?

- A) Gür ormanlar B) Sanayi tesisleri
C) Su kaynakları D) Verimli topraklar

2

İnsan yaşamına ve faaliyetlerine fazla elverişli olmayan alanlar seyrek nüfuslu yerlerdir.

Buna göre aşağıdaki yerlerin hangisinde nüfusun seyrek olması beklenir?

- A) Enerji kaynakları bol olan
B) Ilıman iklim şartlarına sahip olan
C) Yıl içinde birden fazla ürün alınan
D) Arazisi yüksek ve engebeli olan

3

Çatalhöyük'te bulunan kumaş parçaları en eski kumaş örneklerindendir. Burada yaşayanlar, o dönemde Hasan Dağı'ndan elde edilen obsid-yen ile tuzu hem kendi ihtiyaçları için kullanmışlar hem de çevrelerindeki yerleşim birimlerinde yaşayan insanlara satmışlardır. İklim'e uygun tahıl ve bakliyat yetiştirmişlerdir.

Buna göre Çatalhöyük'te aşağıdaki faaliyetlerden hangisinin geliştiği söylenemez?

- A) Sanayi B) Dokumacılık
C) Ticaret D) Tarım

4

Geçmişten günümüze insanların yerleşim yeri tercihinde doğal ve beşerî faktörler etkili olmuştur. Doğal faktörler, yeryüzü şekilleri, iklim, su kaynakları, yer altı kaynakları, bitki örtüsü gibi insan eli değmeden var olmuş unsurlardır. Beşerî faktörler ise ekonomik faaliyetler, ticaret, sanayi, madencilik, hayvancılık ve tarım gibi insan müdahalesi sonucu oluşan unsurlardır.

Buna göre aşağıdakilerden hangisi yerleşim yeri tercihini etkileyen doğal faktörlere örnek olarak gösterilebilir?

- A) Hakkâri'de sanayi faaliyetleri gelişmediği için seyrek nüfuslu olması
B) Ardahan'ın yükseltisi fazla ve engebeli olduğundan nüfusunun az olması
C) Antalya'da birçok turistik tesis bulunduğu için nüfusunun kalabalık olması
D) Diyarbakır, kara ve demir yollarının kesişim noktasında olduğundan nüfusunun fazla olması

5

Türkiye'de doğal ve beşerî şartların bölgeden bölgeye farklı özellikler sunması, yerleşmeye uygun olan veya olmayan alanların ortaya çıkmasına neden olmuştur.

Aşağıdakilerden hangisi ülkemizin bu özelliğinin sonucu olarak ortaya çıkan bir durumdur?

- A) Nüfus dağılışının düzensiz olması
B) Yer altı kaynaklarının belli alanlarda toplanması
C) Karasal iklimin yaygın olarak görülmesi
D) Doğal bitki örtüsünün farklılıklar göstermesi

BU KAZANIMDAN SON 10 YILDA 9 SORU SORULMUŞTUR.

6

Aşağıdakilerden hangisi insanların yerleşim yeri tercihinde etkili olan doğal faktörlerdendir?

- A) Ticaret
C) İklim

- B) Madencilik
D) Turizm

7

Birleşmiş Milletler Bilim, Eğitim ve Kültür Teşkilatı (UNESCO) tarafından Dünya Miras Listesi'ne alınan, günümüzde Şanlıurfa sınırları içerisinde bulunan kazı alanı aşağıdakilerden hangisidir?

- A) Çayönü
C) Hacılar

- B) Göbeklitepe
D) Çatalhöyük

8

Yerleşik yaşama geçmeye başlayan insanoğlu öncelikle aşağıdaki özelliklerin hangisine sahip alanlara yerleşmeyi tercih etmiştir?

- A) Maden çeşitliliğine
B) Engebeli arazilere
C) Zengin ormanlara
D) Su kaynaklarına

9

Yolların kavşak noktalarında bulunan yerlerin yerleşim için tercih edilmesinde etkili olan beşeri faktör aşağıdakilerden hangisidir?

- A) Sanayi
C) Ulaşım

- B) Turizm
D) Madencilik



KAZANIM 10: ÖRNEK İNCELEMELER YOLUYLA GEÇMİŞTEN GÜNÜMÜZE, YERLEŞMEYİ ETKİLEYEN FAKTÖRLER HAKKINDA ÇIKARIMLARDA BULUNUR.



BU KAZANIMDAN SON 10 YILDA 9 SORU SORULMUŞTUR.

CEVAP ANAHTARI

- | | |
|-----|-----|
| 1-A | 8-D |
| 2-D | 9-C |
| 3-A | 10- |
| 4-B | 11- |
| 5-A | 12- |
| 6-C | 13- |
| 7-B | 14- |



@akmese.onur

@sosyal_bilgiler_zumresi2021

SADECE SOSYAL BİLGİLER ÖĞRETMENLERİNİN YER ALDIĞI WHATSAP GRUPLARIMIZDAN BİRİNE KATILMAK İÇİN MAIL ATABİLİRSİNİZ.

onurakmese16@gmail.com

Daha Fazlası İçin Tıkla

www.akmeseonur.com



BU KAZANIMDAN SON 10 YILDA 19 SORU SORULMUŞTUR.

1

Türkiye nüfusunun her yıl artması aşağıdakilerden hangisini doğrudan etkiler?

- A) Nüfus yoğunluğunu
- B) Eğitim seviyesini
- C) Kentsel nüfus oranını
- D) Sanayide çalışan sayısını

2

Ülkemizde nüfus, sanayi tesislerinin çevresinde daha çok yoğunlaşmıştır.

Bu durumun nedeni aşağıdakilerden hangisidir?

- A) Sanayi tesislerinin yoğun enerji tüketmesi
- B) Sanayi tesislerinin genelde kıyı şehirlerinde yer alması
- C) Fabrikaların fazla sayıda insana iş imkânı sağlaması
- D) Fabrikaların ulaşımına uygun alanlara kurulması

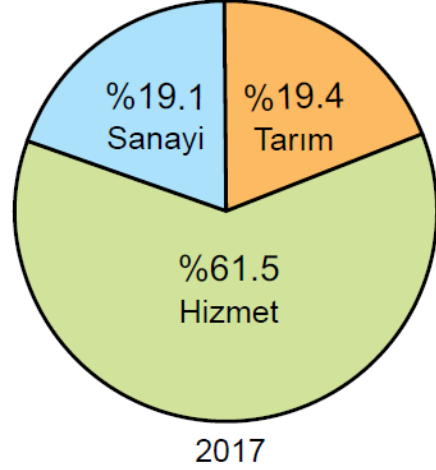
3

Nüfus piramitlerine bakılarak nüfusun hangi özelliği hakkında bilgi sahibi olunamaz?

- A) Cinsiyet durumu
- B) Kültürel yapı
- C) Çalışan nüfus
- D) Ortalama ömür

4

Aşağıda Türkiye'ye ait bir grafik verilmiştir.



Bu grafiğin başlığı aşağıdakilerden hangisi olabilir?

- A) Türkiye nüfusunun yaş ortalaması
- B) Türkiye'nin eğitim durumu
- C) Türkiye'nin kır-kent nüfus oranları
- D) Türkiye nüfusunun ekonomik faaliyetlere göre dağılışı

5

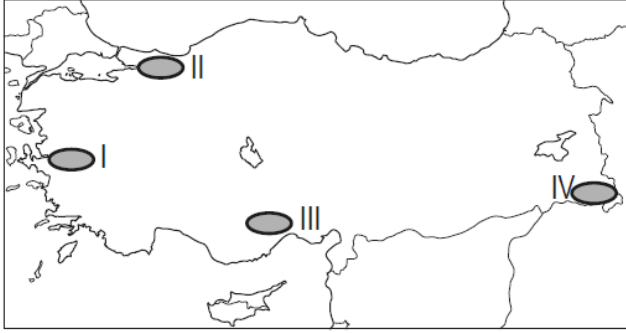
Aşağıdakilerden hangisi nüfus artışının hızlı olduğu yerlerde yaşanan sorunlardan biri değildir?

- A) Okul ihtiyacının artması
- B) Plansız yapılaşma
- C) Çevre kirliliği
- D) Konut ihtiyacının azalması

BU KAZANIMDAN SON 10 YILDA 19 SORU SORULMUŞTUR.

6

Ülkemizin yüksek ve engebeli alanlarında ulaşımın zor, ekonomik faaliyetlerin kısıtlı oluşu nüfus yoğunluğunun düşük olmasına neden olmuştur.

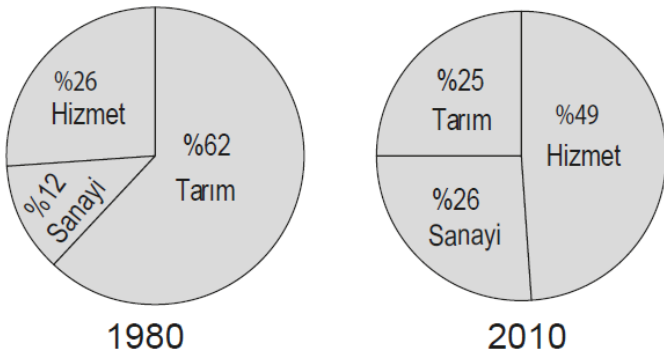


Buna göre harita üzerinde numaralandırılan yerlerin hangisi bu duruma örnektir?

- A) I. B) II. C) III. D) IV.

7

Aşağıdaki grafiklerde Türkiye'de 1980 - 2010 yıllarında çalışan nüfusun iş kollarına dağılımı gösterilmiştir.



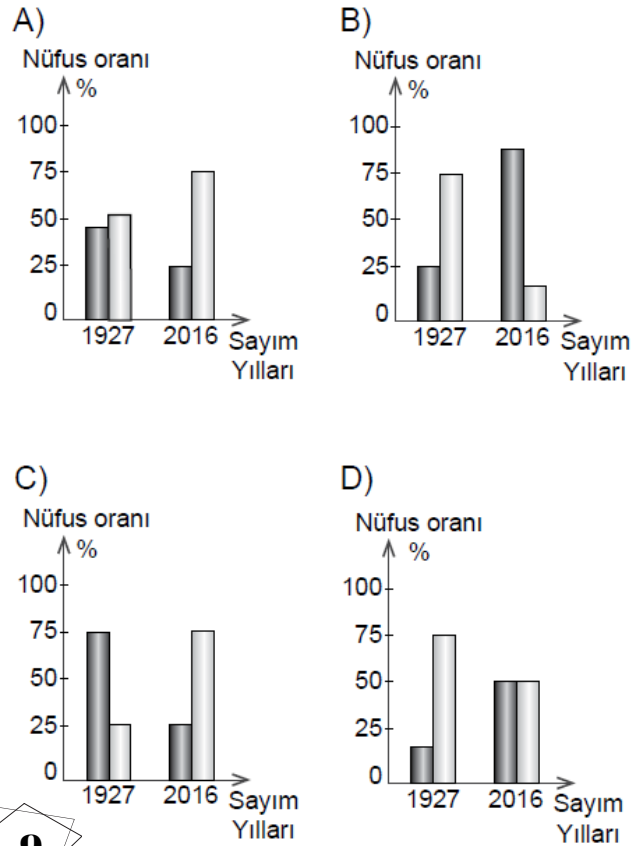
Grafiklere bakılarak aşağıdakilerden hangisi söylenebilir?

- A) Çalışan nüfus miktarı aynı kalmıştır.
B) Sanayi sektöründe çalışan kişi sayısı azalmıştır.
C) Tarım sektöründe çalışan nüfus oranı azalmıştır.
D) Hizmet sektöründe çalışan nüfus oranı azalmıştır.

8

1927 yılında kentsel nüfus oranı %25 civarında iken günümüzde bu değer %80'nin üzerine çıkmıştır.

Bu bilgiye ait olan grafik aşağıdakilerden hangisidir? (■ Kentsel Nüfus, □ Kırsal Nüfus)



9

İstanbul tarihî eserleri; doğal güzellikleri; coğrafi konumu; gelişmiş kara, deniz ve demir yolları nedeniyle turizm, ticaret, sanayi faaliyetlerinin oldukça yoğun olduğu bir şehirdir. Bu nedenle ülkemizin nüfusu en kalabalık olan ilidir.

Metne göre İstanbul'un yoğun nüfuslu olmasının nedenleri arasında aşağıdakilerden hangisi gösterilemez?

- A) Ekonomik faaliyetlerinin çeşitliliği
B) Turizm faaliyetlerinin gelişmişliği
C) Ulaşım hizmetlerinin gelişmişliği
D) Verimli tarım arazilerinin varlığı

BU KAZANIMDAN SON 10 YILDA 19 SORU SORULMUŞTUR.

10

Aşağıdakilerden hangisi kırsal nüfus oranının azalmasında etkili değildir?

- A) Tarımda makineleşme
- B) Şehirlerde sanayi faaliyetlerinin gelişmesi
- C) Tarımsal sulama projelerinin tamamlanması
- D) Tarım arazilerinin miras yoluyla parçalanması

11

- I. Şehirli nüfus oranı
- II. Nüfusun eğitim durumu
- III. Nüfusun cinsiyet özellikleri

Yukarıdakilerden hangileri bir ülkenin gelişmişliği hakkında bilgi verir?

- A) Yalnız I.
- B) I. ve II.
- C) Yalnız II.
- D) II. ve III.

12

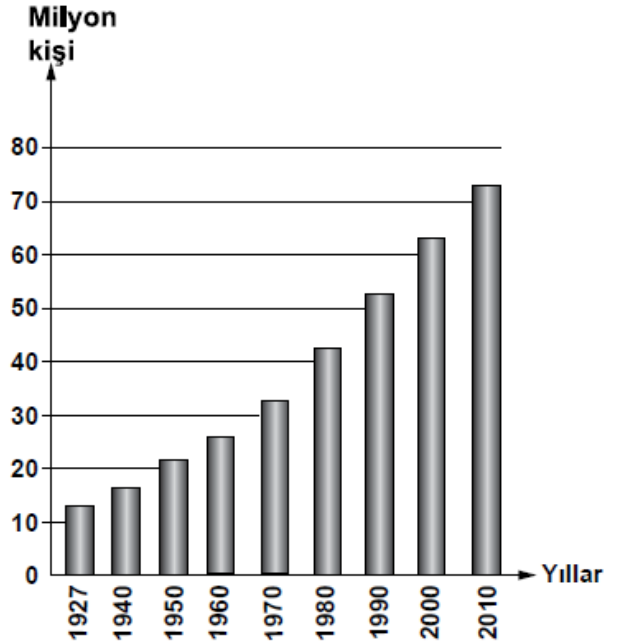


Haritada noktalanarak gösterilen alan Türkiye ortalamasının üzerinde nüfus yoğunluğuna sahiptir.

Aşağıdakilerden hangisi haritada gösterilen alandaki yerleşim merkezlerinden biridir?

- A) İzmit
- B) Çanakkale
- C) Edirne
- D) Zonguldak

13



Yukarıdaki grafikte bazı sayım yıllarına göre Türkiye nüfusu gösterilmiştir.

Grafığe bakarak aşağıdakilerden hangisi söylenebilir?

- A) Her yıl nüfus artış miktarı aynıdır.
- B) Nüfus sürekli olarak artış göstermiştir.
- C) 2010'da nüfusumuz 80 milyondan fazladır.
- D) 1940-1950 arası nüfusumuz 15 milyon artmıştır.

14

- I. Okuryazar nüfus oranı
- II. Tarımda çalışan nüfus oranı
- III. Şehirde yaşayan nüfus oranı

Ülkemiz nüfusunda 1950 yılından günümüze kadar olan sürede yukarıdakilerin hangilerinde artış olmuştur?

- A) Yalnız I
- B) Yalnız II
- C) I ve III
- D) II ve III

KAZANIM 11: TÜRKİYE'DE NÜFUSUN DAĞILIŞINI ETKİLEYEN FAKTÖRLERDEN HAREKETLE TÜRKİYE'NİN DEMOGRAFİK ÖZELLİKLERİNİ YORUMLAR.

BU KAZANIMDAN SON 10 YILDA 19 SORU SORULMUŞTUR.

15

Aşağıda verilen, il ve o ilin nüfusunun artmasında etkili olan en önemli ekonomik faaliyet eşleştirmelerinden hangisi yanlıştır?

İl		Ekonomik faaliyet
A) Adana	→	Balıkçılık
B) Ankara	→	Hizmet
C) Antalya	→	Turizm
D) Zonguldak	→	Madencilik

16

Türkiye Nüfus Haritası'nı inceleyen bir öğrenci, nüfusun öncelikle Marmara Denizi çevresinde yer alan illerde (İstanbul - Bursa - Kocaeli) yoğunlaştığını görür.

Bu durumda bölgenin hangi özelliğinin etkisi olduğu söylenemez?

- A) Olumlu iklim özelliklerinin
- B) Coğrafi konum özelliklerinin
- C) Gelişmiş bir sanayiye sahip olmalarının
- D) Fay hatlarının yakınında yer almalarının

17

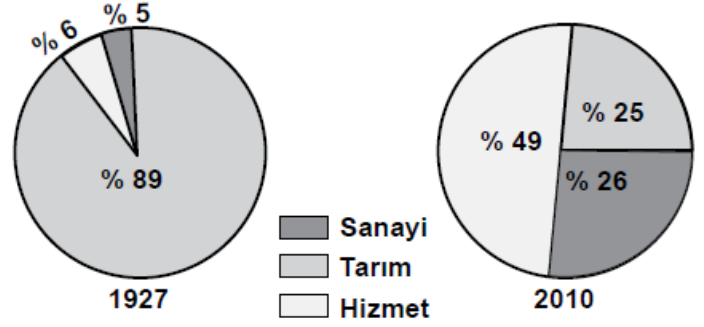


Haritada numaralandırılarak verilen alanların hangisinde nüfusun artmasında turizm sektörünün etkisi daha fazla olmuştur?

- A) I
- B) II
- C) III
- D) IV

18

Aşağıdaki grafiklerde Türkiye'de çalışan nüfusun iş kollarına dağılımı gösterilmiştir.



Bu grafiklere bakarak aşağıdakilerden hangisi söylenebilir?

- A) Hizmet, en az gelişen sektördür.
- B) Tarımın ekonomideki önemi artmıştır.
- C) Sanayi sektöründe istihdam oranı artmıştır.
- D) Turizm, hizmet sektörünün gelişmesini sağlamıştır.

19

Türkiye Nüfusunun Yaş Gruplarına Göre Dağılımı (2010)

Yaş grubu	Toplam nüfus içindeki oranı (%)
0 - 14	24,6
15 - 64	67,2
65 ve üzeri	8,2

Tablodaki verilere bakarak aşağıdakilerden hangisi söylenebilir?

- A) Genç nüfus oranı düşmektedir.
- B) Yaşlı nüfusu artmaktadır.
- C) Erkek sayısı kadın sayısından fazladır.
- D) Nüfusun yaklaşık $\frac{1}{4}$ 'ü 15 yaşın altındadır.



KAZANIM 11: TÜRKİYE'DE NÜFUSUN DAĞILIŞINI ETKİLEYEN FAKTÖRLERDEN HAREKETLE
TÜRKİYE'NİN DEMOGRAFİK ÖZELLİKLERİNİ YORUMLAR.



BU KAZANIMDAN SON 10 YILDA 19 SORU SORULMUŞTUR.

CEVAP ANAHTARI

1-A	8-B	15-A
2-C	9-D	16-D
3-B	10-C	17-C
4-D	11-C	18-C
5-D	12-A	19-D
6-D	13-B	20-
7-C	14-C	21-



@akmese.onur

@sosyal_bilgiler_zumresi2021

**SADECE SOSYAL BİLGİLER ÖĞRETMENLERİNİN YER ALDIĞI WHATSAP
GRUPLARIMIZDAN BİRİNE KATILMAK İÇİN MAIL ATABİLİRSİNİZ.**

onurakmese16@gmail.com

Daha Fazlası İçin Tıkla

www.akmeseonur.com



BU KAZANIMDAN SON 10 YILDA 15 SORU SORULMUŞTUR.**1**

Yükseköğrenim görmüş, nitelikli, alanında uzman kişiler daha iyi şartlarda çalışmak ve yaşamak için gelişmiş ülkelere göç etmektedirler.

Yukarıda hangi göç türü anlatılmıştır?

- A) İç göç
C) İşçi göçü
- B) Beyin göçü
D) Mübadele göçü

2

Mete ailesi ile birlikte Mersin’de yaşamaktadır. Mete İstanbul’daki bir üniversitede okumaya hak kazanınca ailesi ile birlikte İstanbul’a taşınmışlardır.

Buna göre Mete’nin yaşadığı göç türü aşağıdakilerden hangisidir?

- A) İç göç
C) Mülteci göçü
- B) Dış göç
D) Mevsimlik göç

3

Ahmet ve ailesi yaşadıkları şehirden, yılın belli zamanlarında Adana’ya pamuk hasadında çalışmak için gitmektedirler.

Bu örnek aşağıdaki göç türlerinden hangisi ile ilgilidir?

- A) Mevsimlik göç
C) Mülteci göçü
- B) Beyin göçü
D) Sürekli göç

4

Aşağıdakilerden hangisi göçün ekonomiye bağlı sebeplerinden biridir?

- A) Köylerde tarım alanlarının miras yoluyla bölünmesi
B) Yaşanılan yerde yeterli sağlık hizmetinin olmaması
C) Ülkeler arası antlaşmalar gereği nüfus değişiminin yapılması
D) Bulundukları yerde can güvenliği kalmayan insanların başka ülkelere sığınması

5

Mehmet “Antalya’daki köyümüzde orman ürünlerini değerlendirerek geçimimizi sağlıyorduk. Ormanımızın büyük bir yangınla yok olmasıyla göç etmek zorunda kaldık. Ailemle birlikte başka bir şehrin yolunu tuttuk.”

Bu metne göre Mehmet ve ailesinin göç etmelerinin sebebi aşağıdakilerden hangisidir?

- A) Sağlık sorunlarının ortaya çıkması
B) Afet kaynaklı işsizlik
C) Daha iyi bir eğitim alma amacı
D) Başka bir ülkede yaşama isteği

BU KAZANIMDAN SON 10 YILDA 15 SORU SORULMUŞTUR.

6 ve 7. soruları verilen metne göre cevaplayınız.

ALİ: Ailemle Orta Anadolu'nun güneyinde kurak bir köyde yaşırdık. Özellikle yazın kuraklığa bağlı olarak büyük su sıkıntısı çekilirdi. Tarımda sulama yapamadığımız için verim ve gelirimiz düşük olurdu. Zaten altı kardeşlik bu toprak hangi birimizi geçindirecek!... Mecburen en büyük ağabeyim hariç tüm kardeşler Ankara'ya göç ettik, iş güç sahibi olduk.

6

Ali Bey ve kardeşlerinin göç türü aşağıdakilerden hangisidir?

- A) İç göç
B) Mübadele göçü
C) Dış göç
D) Beyin göçü

7

Ailenin Ankara'ya göçünün öncelikli sebebi aşağıdakilerden hangisidir?

- A) Sağlık sorunları
B) Ekonomik sorunlar
C) Eğitim yetersizliği
D) Tarımda makineleşme

8

Aşağıdakilerden hangisi köyden kente göçün nedenlerinden değildir?

- A) Tarımda makineleşmenin artması
B) Toprakların miras yoluyla bölünmesi
C) Tarıma elverişli toprakların bolluğu
D) Şehirlerdeki ekonomik ve sosyal imkânların fazlalığı

9

Aşağıdakilerden hangisi göç alan şehirlerde hızlı nüfus artışına bağlı olarak yaşanan sorunlardan biri değildir?

- A) Konut ihtiyacının artması
B) Toplu taşıma sistemlerinin gelişmesi
C) Tarım alanlarının yerleşime açılması
D) Sanayi tesislerinin şehrin merkezinde kalması

10

Ankara, İstanbul ve İzmir gibi büyükşehirlerde nüfusunun hızla artmasında aşağıdakilerden hangisi etkili olmuştur?

- A) Ölüm oranlarının azalması
B) Doğurganlık oranının fazla olması
C) Yoğun bir şekilde göç alması
D) Yeni yerleşim alanlarının açılması

11

Bir ülkedeki yetişmiş bilim insanlarının başka ülkelere göç etmeleri aşağıdakilerden hangisine örnek oluşturur?

- A) Mevsimlik göçe
B) Zorunlu göçe
C) İşçi göçüne
D) Beyin göçüne

BU KAZANIMDAN SON 10 YILDA 15 SORU SORULMUŞTUR.

12 ve 13. soruları verilen metne göre cevaplayınız.

12

Kasabamız artık eskisi gibi değil, bahçeli tek katlı evlerimizin yakınlarına fabrika ve apartmanlar yapılıyor. Kasaba dışındaki tarım arazilerine sanayi tesisleri kuruluyor. Memleketimizin değişik bölgelerinden insanlar kasabamıza âdeta akın etti. Sokakta artık tanıdıklara daha az rastlıyorum. Son dönemlerde arazi fiyatları da oldukça arttı.

Kasaba nüfusunun artmasının sebebi aşağıdakilerden hangisidir?

- A) Arazi fiyatlarının artması
- B) Tarım alanlarının daralması
- C) Büyük apartmanların yapılması
- D) Sanayi tesislerinin yaygınlaşması

13

Kasabada, aşağıdakilerden hangisinin gerçekleşmesi beklenemez?

- A) Yerleşim alanlarının genişlemesi
- B) Ekonomik ve ticari hayatın gerilemesi
- C) Kültürel yapının zenginleşmesi
- D) Nüfus yoğunluğunun artması

14

- I- Yerleşim alanlarının genişlemesi
- II- Okul, hastane ihtiyacının artması
- III- Konut üretiminin azalması

Yoğun şekilde göç alan bir şehirde yukarıda verilen gelişmelerden hangileri yaşanır?

- A) Yalnız I
- B) Yalnız II
- C) I ve II
- D) II ve III

15

Mühendis olan Çağlar, bilgisayar alanında araştırmalar yapmak amacıyla ailesiyle beraber İstanbul'a yerleşmiştir.

Verilen örnekte Çağlar'ın İstanbul'a göç etme sebebi aşağıdakilerden hangisi ile ilişkilendirilebilir?

- A) Sağlık
- B) Eğitim
- C) Doğal afet
- D) Savaş

BU KAZANIMDAN SON 10 YILDA 15 SORU SORULMUŞTUR.

CEVAP ANAHTARI

1-B	8-C	15-B
2-A	9-B	16-
3-A	10-C	17-
4-A	11-D	18-
5-B	12-D	19-
6-A	13-B	20-
7-B	14-C	21-



@akmese.onur

@sosyal_bilgiler_zumresi2021

SADECE SOSYAL BİLGİLER ÖĞRETMENLERİNİN YER ALDIĞI WHATSAP GRUPLARIMIZDAN BİRİNE KATILMAK İÇİN MAIL ATABİLİRSİNİZ.

onurakmese16@gmail.com

Daha Fazlası İçin Tıkla

www.akmeseonur.com



BU KAZANIMDAN SON 10 YILDA 1 SORU SORULMUŞTUR.

1

Anayasamızın 23. maddesine göre: “Herkes yerleşme ve seyahat hürriyetine sahiptir.”

Ancak savaş, seferberlik, salgın hastalıklar, toplumun ve kamu mallarının korunması için kanunla sınırlanabilir.

Buna göre aşağıdakilerden hangisi Anayasamızda belirtilen yerleşme ve seyahat özgürlüğünün sınırlandırma nedenleri arasında gösterilemez?

- A) Konut sayısını artırmak
- B) Toplum sağlığını korumak
- C) Vatandaşların güvenliğini sağlamak
- D) Sağlıklı ve düzenli kentleşmeyi gerçekleştirmek



KAZANIM 13: TEMEL HAKLARDAN YERLEŞME VE SEYAHAT ÖZGÜRLÜĞÜNÜN KISITLANMASI
HALİNDE ORTAYA ÇIKACAK OLUMSUZ DURUMLARA ÖRNEKLER GÖSTERİR.



BU KAZANIMDAN SON 10 YILDA 1 SORU SORULMUŞTUR.

CEVAP ANAHTARI

1-A

2-

3-

4-

5-

6-

7-



@akmese.onur

@sosyal_bilgiler_zumresi2021

**SADECE SOSYAL BİLGİLER ÖĞRETMENLERİNİN YER ALDIĞI WHATSAP
GRUPLARIMIZDAN BİRİNE KATILMAK İÇİN MAIL ATABİLİRSİNİZ.**

onurakmese16@gmail.com

Daha Fazlası İçin Tıkla

www.akmeseonur.com





BİLİM, TEKNOLOJİ VE TOPLUM



4.ÜNİTE



**BU ÜNİTEDEN 2012 YILINDAN
2021 YILINA KADAR YAPILAN
10 SINAVDA TOPLAM
24 SORU ÇIKMIŞTIR.**

1. BİLGİNİN KORUNMASI, YAYGINLAŞTIRILMASI VE AKTARILMASINDA DEĞİŞİM VE SÜREKLİLİĞİ İNCELER.
2. TÜRK-İSLAM MEDENİYETİNDE YETİŞEN BİLGİNLERİN BİLİMSEL GELİŞME SÜRECİNE KATKILARINI TARTIŞIR.
3. XV-XX. YÜZYILLAR ARASINDA AVRUPA'DA YAŞANAN GELİŞMELERİN GÜNÜMÜZ BİLİMSEL BİRİKİMİNİN OLUŞMASINA ETKİSİNİ ANALİZ EDER.
4. ÖZGÜR DÜŞÜNCENİN BİLİMSEL GELİŞMELERE KATKISINI DEĞERLENDİRİR.



@akmese.onur

@sosyal_bilgiler_zumresi2021

BU KAZANIMDAN SON 10 YILDA 5 SORU SORULMUŞTUR.

1

Konuşmanın, saklanabilecek bir biçimde aktarılmasının yolunu bulduk. Kil tabletler üzerine, tapınağa getirilen malları ucu sivri bir kamyş kalemle malı gösteren işaret ya da resimler çizdik. Çiftçilerin tapınağa getirdikleri yulafları kaydettik. Sonra, yulaf resmini kil tabletler üzerine çizdik. Böylece yulaf işareti, yazının ilk başlangıcı sayıldı.



Sizce bu konuşmayı yapan çocuk, aşağıdaki uygarlıkların hangisinde yaşamıştır?

- A) Asur B) Sümer C) Mısır D) Hitit

2

- I. Cam
II. Para
III. Barut
IV. Mürekkep

Verilen buluşların ilk kez hangi uygarlık tarafından bulundukları, aşağıdaki tabloda eşleştirilmiştir.

Bu eşleştirmelerden hangisi doğrudur?

I	II	III	IV
A) Fenike	Çin	Çin	Çin
B) Fenike	Lidya	Çin	Çin
C) Lidya	Lidya	Fenike	Çin
D) Çin	Fenike	Lidya	Çin

3

Mısırlılar resimleri simgeleştirerek - - - - denilen yeni bir yazı türünü kullanmaya başlamışlardır. Resim yazısı olarak da bilinen bu yazı 700'den fazla işareten oluşmaktadır.

Bu metinde boş bırakılan yere aşağıdakilerden hangisinin yazılması uygundur?

- A) çivi yazısı
B) fenike alfabesi
C) latin alfabesi
D) hiyeroglif yazı

4

Hiyeroglif adı verilen resim yazısı aşağıdaki uygarlıklardan hangisine aittir?

- A) Frig B) Lidya
C) Mısır D) Sümer

5

Aşağıdakilerden hangisi ilk çağlardan itibaren bilgiyi kaydetmek ve gelecek kuşaklara aktarmak amacıyla kullanılan araçlardan biri olmamıştır?

- A) Kil tabletler B) Parşömen
C) Papirüs D) Höyük



KAZANIM 14: BİLGİNİN KORUNMASI, YAYGINLAŞTIRILMASI VE AKTARILMASINDA DEĞİŞİM VE SÜREKLİLİĞİ İNCELER.



BU KAZANIMDAN SON 10 YILDA 5 SORU SORULMUŞTUR.

CEVAP ANAHTARI

- 1-B
- 2-B
- 3-D
- 4-C
- 5-D
- 6-
- 7-



@akmese.onur

@sosyal_bilgiler_zumresi2021

SADECE SOSYAL BİLGİLER ÖĞRETMENLERİNİN YER ALDIĞI WHATSAP GRUPLARIMIZDAN BİRİNE KATILMAK İÇİN MAIL ATABİLİRSİNİZ.

onurakmese16@gmail.com

Daha Fazlası İçin Tıkla

www.akmeseonur.com



BU KAZANIMDAN SON 10 YILDA 9 SORU SORULMUŞTUR.

1

Birûnî; matematik, astronomi, eczacılık ve sosyoloji gibi değişik alanlarda çok sayıda eser vermiştir. Eski Yunan medeniyetini ve bilginlerini takdir etse de Aristo ve Batlamyus'un teorilerinden bazılarına karşı çıkarak Dünya'nın durağan değil, dönen bir kütle olduğunu ileri sürmüştür.

Parçada verilen bilgiye göre Birûnî hakkında, aşağıdakilerden hangisi söylenemez?

- A) Çok yönlü bir bilim insanıdır.
- B) Dünya bilim mirasına katkıda bulunmuştur.
- C) Batı medeniyetine ait eserlerden yararlanmıştır.
- D) Buluşlarının doğruluğu yaşadığı dönemle sınırlı kalmıştır.

2

- Coğrafya ve astronomi ile de uğraşan Harezmi, en önemli çalışmalarını matematik alanında yaptı. Sıfırı matematiğe kazandırdı. Cebir ile ilgili kitabı tercüme edilerek 17. yüzyıla kadar Avrupa üniversitelerinde okutuldu.
- İbn-i Sina; tıp, felsefe ve diğer bilimlerdeki çalışmalarıyla tanınır. Özellikle tıp alanında yazmış olduğu "El Kanun-Fi't-Tıp" (Tıp Kanunu) adlı eseri, Doğu ve Batı ülkelerinde uzun yıllar okutulmuştur.

Bu bilgilere göre; aşağıdaki yargılardan hangileri Harezmi ve İbn-i Sina'nın ortak özelliklerindendir?

- I- Aynı dönemde yaşamış olmaları
- II- Çalışmalarının evrensel nitelik taşımaları
- III- Benzer alanlarda eserler vermeleri
- IV- Çok yönlü çalışmalar yapmaları

- A) I ve II
- B) I ve III
- C) III ve IV
- D) II ve IV

3

Sıfır ve cebir kavramlarını matematiğe kazandıran, yazdığı cebir kitabı XVII. yüzyıla kadar Avrupa üniversitelerinde okutulan bilim insanı aşağıdakilerden hangisidir?

- A) İbni Sina
- B) Ali Kuşçu
- C) Biruni
- D) Harezmi

4

- Ali Kuşçu, gök cisimlerinin Dünya'ya uzaklığını hesapladı. Ay'ın haritasını çıkardı ve bu çalışması nedeniyle NASA, Ay'da bir bölgeye onun ismini verdi.
- İbni Sina'nın tıp alanında yaptığı çalışmalarının yer aldığı "el Kanun Fi't Tıp" adlı eseri 17. yüzyıla kadar Avrupa'da tıp eğitiminde kullanıldı.

Verilen örneklerden hareketle Türk-İslam bilim insanları ile ilgili aşağıdakilerden hangisi söylenemez?

- A) Avrupa'da tanınmış bilim insanlarıdır.
- B) Farklı alanlarda çalışmalar yapmışlardır.
- C) Batı uygarlığının etkisinde kalmışlardır.
- D) Bilimsel çalışmalara katkıda bulunmuşlardır.

5

- Tıp alanında yaptığı çalışmalarla tanınır.
- "Şifa" adlı eseri felsefe, matematik ve fizik bilgilerinin yer aldığı bir ansiklopedi niteliğindedir.

Yukarıda hangi Türk-İslam bilgini tanıtılmıştır?

- A) Biruni
- B) Harezmi
- C) Uluğ Bey
- D) İbn-i Sina

BU KAZANIMDAN SON 10 YILDA 9 SORU SORULMUŞTUR.

6

“Bir su damlası nasıl diğer su damllarına benzer ise bir milletin geleceği de geçmişine aynen benzer.”

İbn Haldun’un sözünde aşağıdaki bilim dallarından hangisinin önemi vurgulanmaktadır?

- A) Astronomi B) Tarih
C) Coğrafya D) Edebiyat

7

- Matematik, astronomi ve coğrafya bilginidir.
- Matematik alanında yaptığı çalışmalarla cebiri geliştirmiştir.
- X simgesini matematik bilimine kazandırmıştır.
- Meridyen dairesinin 1 derecelik açısını hatasız hesaplamıştır.

Yukarıdaki çalışmalar Türk-İslam bilim insanlarımızdan hangisine aittir?

- A) Ali Kuşçu B) Harezmi
C) İbn Sina D) Cezeri

8

İbn-i Haldûn, yaşadığı yerlerdeki toplumların geleneklerini ve yaşam biçimlerini incelemiştir.

Bu durum İbn-i Haldûn’un hangi bilim dalıyla uğraştığını gösterir?

- A) Sosyoloji B) Fizik
C) Matematik D) Hukuk

9

- Tıp, felsefe, matematik, astronomi, kimya gibi farklı bilim dallarında iki yüzden fazla eser verdi.
- Avrupa’da “Avicenna” adıyla tanındı ve “El-Kanun fi’t-Tıb” (Tıbbın Kanunu) isimli eseri 17. yüzyıla kadar tıp eğitiminde kullanıldı.
- Mikroskop keşfedilmeden önce mikropların hastalıklara neden olduğunu buldu.

Hakkında bilgi verilen Türk-İslam bilim insanı aşağıdakilerden hangisidir?

- A) Ali Kuşçu B) İbn-i Sînâ
C) Fârâbi D) Cezeri



KAZANIM 15: TÜRK-İSLAM MEDENİYETİNDE YETİŞEN BİLGİNLERİN BİLİMSEL GELİŞME SÜRECİNE KATKILARINI TARTIŞIR.



BU KAZANIMDAN SON 10 YILDA 9 SORU SORULMUŞTUR.

CEVAP ANAHTARI

- | | |
|-----|-----|
| 1-D | 8-A |
| 2-D | 9-B |
| 3-D | 10- |
| 4-C | 11- |
| 5-D | 12- |
| 6-B | 13- |
| 7-B | 14- |



@akmese.onur

@sosyal_bilgiler_zumresi2021

SADECE SOSYAL BİLGİLER ÖĞRETMENLERİNİN YER ALDIĞI WHATSAP GRUPLARIMIZDAN BİRİNE KATILMAK İÇİN MAIL ATABİLİRSİNİZ.

onurakmese16@gmail.com

Daha Fazlası İçin Tıkla

www.akmeseonur.com



BU KAZANIMDAN SON 10 YILDA 5 SORU SORULMUŞTUR.

1

Bize günümüzde basit gelen bazı buluşlar, yapıldığı dönemde insan hayatını kolaylaştıran büyük gelişmelerdi.

Aşağıdakilerden hangisi buna iyi bir örnektir?

- A) Tekerleğin icadı
- B) Otomobilin icadı
- C) Teleskopun icadı
- D) Matbaa makinesinin icadı

2

Bir gözlükçünün uzak nesneleri büyüten bir icadından esinlenerek geliştirdiği - - - ile daha doğru ve güvenilir gözlemler yapan Galilei, Dünya'nın hem kendi etrafında hem de Güneş'in etrafında döndüğü sonucuna vardı. Galilei'nin bu icadı astronomi biliminin gelişmesine katkıda bulunmuştur.

Verilen ifadede boş bırakılan yere aşağıdakilerden hangisi yazılırsa doğru bir bilgi elde etmiş oluruz?

- A) Cam
- B) Pusula
- C) Matbaa
- D) Teleskop

3

Aşağıdaki bilimsel gelişmelerden hangisi sanayinin gelişmesinin temeli olarak kabul edilir?

- A) Matbaanın icat edilmesi
- B) Güneş merkezli sistemin keşfedilmesi
- C) Buhar gücünün makinelerde kullanılması
- D) Kütle Çekim Kanunu'nun bulunması

4

Leonardo da Vinci, insanın anatomik yapısını inceleyerek doğru tasvir etmeyi amaçladı. Anatomi alanındaki çalışmalarıyla bilim tarihinde bilinen ilk robot tasarımı yaptı. 1495 yılında yaptığı bu tasarım ancak 1950'lerde keşfedildi. Da Vinci'nin "Leonardo'nun robotu" adı verilen bu tasarımı, kalp rahatsızlıklarının tedavi edilmesinde, 2005 yılında bir İngiliz kalp cerrahına esin kaynağı oldu.

Bu bilgiye göre, Leonardo da Vinci'nin çalışmalarıyla ilgili olarak aşağıdakilerden hangisi söylenemez?

- A) Bilimsel alanda özgün buluşlar yapmıştır.
- B) Çalışmaları, tıp biliminin gelişmesine katkı sağlamıştır.
- C) Eserleri, günümüz doktorlarına ilham kaynağı olmuştur.
- D) Buluşlarının bilimsel geçerliliği, dönemiyle sınırlı kalmıştır.

5

İtalyan gök bilimci Galileo, teleskopu kullanarak gezegen ve yıldızları incelemiştir. İncelemeleri sonucunda gezegenlerin Güneş çevresinde hareket ettiğini ve Dünya'nın yuvarlak olduğunu belirtmiştir.

Bu durum Galileo'nun hangi bilimle uğraştığını gösterir?

- A) Kimya
- B) Astronomi
- C) Tıp
- D) Sosyoloji



KAZANIM 16: XV-XX. YÜZYILLAR ARASINDA AVRUPA'DA YAŞANAN GELİŞMELERİN GÜNÜMÜZ BİLİMSEL BİRİKİMİNİN OLUŞMASINA ETKİSİNİ ANALİZ EDER.



BU KAZANIMDAN SON 10 YILDA 5 SORU SORULMUŞTUR.

CEVAP ANAHTARI

- 1-A
- 2-D
- 3-C
- 4-D
- 5-B
- 6-
- 7-



@akmese.onur

@sosyal_bilgiler_zumresi2021

SADECE SOSYAL BİLGİLER ÖĞRETMENLERİNİN YER ALDIĞI WHATSAP GRUPLARIMIZDAN BİRİNE KATILMAK İÇİN MAIL ATABİLİRSİNİZ.

onurakmese16@gmail.com

Daha Fazlası İçin Tıkla

www.akmeseonur.com



BU KAZANIMDAN SON 10 YILDA 3 SORU SORULMUŞTUR.

1

Avrupa'da Rönesans ve Reform hareketlerinin öncesinde bilimsel gelişmenin önündeki en büyük engel skolastik düşünce anlayışıdır.

Buna göre aşağıdakilerden hangisi skolastik düşünce anlayışını yansıtan ifadelerden biridir?

- A) Evreni tanımak için araştırmak gerekir.
- B) Bilimsel araştırmalara ihtiyaç vardır.
- C) Kilisenin söylediği her şey doğrudur.
- D) Bilgi; deney ve gözlemle ispat edilebilir.


2

Galileo (Galile), "Dünya dönüyor!" dediği için ölüm cezasına çarptırıldı. Ölüm cezasından kurtulmak için kilisenin doğrularına evet demek zorunda kaldı. Mahkeme çıkışında söylediği "Ben ne dersem diyeyim, o dönmeye devam ediyor." sözleri uzun süre bilim çevresinin dilinden düşmemiştir.

Galile bu sözü ile aşağıdakilerden hangisine vurgu yapmak istemiş olabilir?

- A) Kilisenin bilimi desteklediğine
- B) Bilim ile dinin uzlaştırıldığına
- C) Bilimsel doğruların değişmeyeceğine
- D) Fikirlerinde her zaman ısrarcı olduğuna

3



Ben Galileo Galilei. 1564'te doğdum. İtalyan teleskobik gök biliminin kurucusuyum. Astronomi alanında yaptığım çalışmalarla gezegenler ve Samanyolu hakkında ayrıntılı bilgiler edindim ve bu bilgileri yayınladım. Dünya'nın döndüğü görüşünü savunuyordum. Papalık tarafından bu görüşümden vazgeçmem istendi. Arkadaşımla papa seçilmesinden cesaret alarak yazdığım "İki Kâinat Sistemi Üzerine Konuşmalar" adlı kitabımı yayınladım. Ancak kitabım yasaklandı ve ben de ömür boyu hapse mahkûm edildim.

Galileo Galilei'nin karşılaştığı durumdan hareketle yaşadığı dönem için, aşağıdakilerden hangisi söylenebilir?

- A) Düşünce hürriyeti vardır.
- B) Bilim özgürlüğü sağlanmıştır.
- C) Bilim adamları desteklenmiştir.
- D) Din-bilim çatışması yaşanmıştır.

KAZANIM 17: ÖZGÜR DÜŞÜNCENİN BİLİMSEL GELİŞMELERE KATKISINI DEĞERLENDİRİR.

BU KAZANIMDAN SON 10 YILDA 3 SORU SORULMUŞTUR.

CEVAP ANAHTARI

1-C

2-C

3-D

4-

5-

6-

7-



@akmese.onur

@sosyal_bilgiler_zumresi2021

SADECE SOSYAL BİLGİLER ÖĞRETMENLERİNİN YER ALDIĞI WHATSAP GRUPLARIMIZDAN BİRİNE KATILMAK İÇİN MAIL ATABİLİRSİNİZ.

onurakmese16@gmail.com

Daha Fazlası İçin Tıkla

www.akmeseonur.com





ÜRETİM, DAĞITIM VE TÜKETİM



5.ÜNİTE



**BU ÜNİTEDEN 2012 YILINDAN
2021 YILINA KADAR YAPILAN
10 SINAVDA TOPLAM
30 SORU ÇIKMIŞTIR.**

- 1.ÜRETİMDE VE YÖNETİMDE TOPRAĞIN ÖNEMİNİ GEÇMİŞTEN VE GÜNÜMÜZDEN ÖRNEKLERLE AÇIKLAR.
- 2.ÜRETİM TEKNOLOJİSİNDEKİ GELİŞMELERİN SOSYAL VE EKONOMİK HAYATA ETKİLERİNİ DEĞERLENDİRİR.
- 3.KURUMLARIN VE SİVİL TOPLUM KURULUŞLARININ ÇALIŞMALARINA VE SOSYAL YAŞAMDAKİ ROLLERİNE ÖRNEKLER VERİR.
- 4.TARİH BOYUNCA TÜRKLERDE MESLEK EDİNDİRME VE MESLEK ETİĞİ KAZANDIRMADA ROL OYNAYAN KURUMLARI TANIR.
- 5.DÜNYADAKİ GELİŞMELERE BAĞLI OLARAK ORTAYA ÇIKAN YENİ MESLEKLERİ DİKKATE ALARAK MESLEKİ TERCİHLERİNE YÖNELİK PLANLAMA YAPAR.
- 6.DİJİTAL TEKNOLOJİLERİN ÜRETİM, DAĞITIM VE TÜKETİM AĞINDA MEYDANA GETİRDİĞİ DEĞİŞİMLERİ ANALİZ EDER.



@akmese.onur

@sosyal_bilgiler_zumresi2021

BU KAZANIMDAN SON 10 YILDA 10 SORU SORULMUŞTUR.

1

Tarih boyunca tarım topraklarının öneminin giderek artmasının en önemli sebebi aşağıdakilerden hangisidir?

- A) Dünya nüfusunun sürekli artması
- B) Dünya iklim özelliklerinin değişmesi
- C) Sanayi üretiminin tüm dünyada artması
- D) Tarım topraklarının erozyona maruz kalması

2

Aşağıdakilerden hangisi, Tımar (İkta) sisteminin yararları arasında gösterilemez?

- A) Özel mülkiyetin gelişmesi
- B) Taşrada güvenliğin sağlanması
- C) Üretimin, denetim altına alınması
- D) Hazineye yük olmadan donanımlı bir ordu oluşturulması

3

“Osmanlı toprak yönetiminde uygulanan Tımar Sistemi’nin işleyişinde görevli olan tımarlı sipahi, bulunduğu bölgede devletin kanunlarını da uygulardı.”

Parçada, Tımar Sistemi’nin hangi alanda rol oynadığına vurgu yapılmaktadır?

- A) Ticaret
- B) Tarım
- C) Kültür
- D) Yönetim

4

Türkiye’de modern teknikleri kullanarak tarımda verimin arttırılmak istenmesinin en önemli sebebi aşağıdakilerden hangisidir?

- A) Gıda fiyatlarının yükselmesi
- B) Tarımsal iş gücünün azalması
- C) Topraklarımızın erozyona uğraması
- D) Tarım ürünlerine olan talebin artması

5

Osmanlı Devleti’nde tımar sahipleri mazeretsiz olarak üç yıl arka arkaya toprağı boş bırakırlarsa; devlet tımar sahibinin elinden o toprağı geri alırdı.

Bu uygulamanın temel amacı aşağıdakilerden hangisidir?

- A) Ülke bütünlüğünü korumak
- B) Tarımsal çeşitliliği artırmak
- C) Üretimde devamlılığı sağlamak
- D) Köylerde ticareti canlandırmak

BU KAZANIMDAN SON 10 YILDA 10 SORU SORULMUŞTUR.

6

Osmanlı toprak yönetiminde uygulanan tımar sisteminde tımarlı sipahiler, bölgelerinde huzur ve güveni sağlayarak jandarma görevini üstleniyorlardı. Böylece devlet otoritesi, ülkenin en uç noktalarına kadar ulaşıyordu.

Yukarıda verilen bilgide tımar sisteminin hangi alanda rol oynadığı belirtilmiştir?

- A) Ticari ilişkilerde
- B) Ülke yönetiminde
- C) Kültürel etkinliklerde
- D) Tarımsal faaliyetlerde

7

Selçuklulardaki ikta sistemi, Osmanlı Devleti'nde hangi isim altında devam etmiştir?

- A) Devşirme
- B) İstimalet
- C) Vakıf
- D) Tımar

8

Aşağıdaki kuruluşlardan hangisi tarımı destekleyen kurum ve kuruluşlar arasında gösterilemez?

- A) Toprak Mahsulleri Ofisi
- B) Ziraat Bankası
- C) Devlet Su İşleri
- D) Türk Eğitim Vakfı

9

Osmanlı Devleti'nde uzun yıllar uygulanan tımar sistemine göre toprak, mazeretsiz olarak arka arkaya üç yıl boş bırakılırsa tımar devlet tarafından geri alınırdı.

Tımar sistemindeki bu uygulamanın nedeni aşağıdakilerden hangisidir?

- A) Asker ihtiyacını karşılamak
- B) Üretimin sürekliliğini sağlamak
- C) Arazi gelirlerini artırmak
- D) Toplumun güvenlik sorununu çözmek

10

Osmanlı Devleti'nde tımar sistemi ile toprağın kullanımı halka, denetimi ise tımarlı sipahilere verilmiştir. Bu sistemde üretimde devamlılık sağlanmıştır. Halk, ürettiği ürünün vergisini tımarlı sipahiye vermiştir. Sipahiler ise çiftçilerin ve tımarların asayişinden sorumlu tutulmuştur.

Bu bilgilere göre aşağıdakilerden hangisi tımar sisteminin faydalarından biri değildir?

- A) Toprağın mülkiyetinin halka verilmesi
- B) Vergilerin düzenli olarak toplanması
- C) Tarımsal üretime süreklilik kazandırması
- D) Bölgenin güvenliğinin sağlanması



KAZANIM 18: ÜRETİMDE VE YÖNETİMDE TOPRAĞIN ÖNEMİNİ GEÇMİŞTEN VE GÜNÜMÜZDEN
ÖRNEKLERLE AÇIKLAR.



BU KAZANIMDAN SON 10 YILDA 10 SORU SORULMUŞTUR.

CEVAP ANAHTARI

- | | |
|-----|------|
| 1-A | 8-D |
| 2-A | 9-B |
| 3-D | 10-A |
| 4-D | 11- |
| 5-C | 12- |
| 6-B | 13- |
| 7-D | 14- |



@akmese.onur

@sosyal_bilgiler_zumresi2021

**SADECE SOSYAL BİLGİLER ÖĞRETMENLERİNİN YER ALDIĞI WHATSAP
GRUPLARIMIZDAN BİRİNE KATILMAK İÇİN MAIL ATABİLİRSİNİZ.**

onurakmese16@gmail.com

Daha Fazlası İçin Tıkla

www.akmeseonur.com



BU KAZANIMDAN SON 10 YILDA 7 SORU SORULMUŞTUR.

1

Tekerleğin icadı, aşağıdakilerden hangisinin gelişmesine doğrudan katkı sağlamıştır?

- A) Bilim
C) Ulaşım
B) Sanat
D) Hayvancılık

2

Aşağıdakilerden hangisi üretim teknolojisindeki gelişmelerin olumlu yönlerinden biridir?

- A) İnsanların refah seviyesini yükseltmesi
B) Bazı el sanatlarını ortadan kaldırması
C) Doğal kaynakları daha hızlı tüketmesi
D) Ülkeler arasında gelişmişlik farkını arttırması

3

17.yy'da tarıma dayalı olan dünya ekonomisi yerini sanayileşme olgusuna bırakmaya başladı. Bu olgu ile birlikte siyasi, sosyal ve ekonomik alanda gelişmeler yaşandı.

Aşağıdakilerden hangisi bu gelişmelerden biri değildir?

- A) Üretimin hızlanması
B) Kentlerde işçi sınıfının oluşması
C) Ulaşım imkanlarının azalması
D) Sanayileşmiş ülkelerin zenginleşmesi

4

Aşağıdakilerden hangisi Sanayi İnkılabı'yla ortaya çıkan işçi sınıfının sorunlarını çözmek ve haklarını korumak amacıyla kurulmuştur?

- A) Şirketler
C) Kooperatifler
B) Sendikalar
D) Üniversiteler

5

- I. Tarım sektöründe insan gücüne dayalı üretimin yerini makineler alırken şehirlerde yeni kurulan fabrikalarda iş gücü ihtiyacı doğmuştur.
II. Şehirlerde nüfus hızla artmış ve günümüzün metropol denilen büyük şehirleri oluşmuştur.
III. Köylerde çalışan insanlar hızla şehirlere doğru göç etmişlerdir.
IV. Şehirlerde altyapı sorunları, çevre kirliliği ve çarpık kentleşme gibi sorunlar ortaya çıkmıştır.

Sanayi İnkılabı'nın ortaya çıkardığı yukarıdaki gelişmelerin neden - sonuç ilişkisine göre sıralaması aşağıdakilerin hangisinde doğru verilmiştir?

- A) I - II - III - IV
C) I - III - II - IV
B) II - III - I - IV
D) III - IV - I - II

BU KAZANIMDAN SON 10 YILDA 7 SORU SORULMUŞTUR.

6

Aşağıdakilerden hangisi Sanayi İnkılabı'nın sosyal sonuçlarından biridir?

- A) Üretim alanı genişlemiştir.
- B) Üretilen ürün miktarı artmıştır.
- C) Çekirdek aile yaygınlaşmıştır.
- D) Bilime dayalı teknikler geliştirilmiştir.

7

Aşağıdakilerden hangisi Sanayi İnkılabı'nın ekonomik alandaki sonuçlarındandır?

- A) Köyden kente göçlerin artması
- B) İnsan ilişkilerinin zayıflaması
- C) Çekirdek aile yapısının yaygınlaşması
- D) Seri üretime geçilmesi



KAZANIM 19: ÜRETİM TEKNOLOJİSİNDEKİ GELİŞMELERİN SOSYAL VE EKONOMİK HAYATA ETKİLERİNİ DEĞERLENDİRİR.



BU KAZANIMDAN SON 10 YILDA 7 SORU SORULMUŞTUR.

CEVAP ANAHTARI

- 1-C
- 2-A
- 3-C
- 4-B
- 5-C
- 6-C
- 7-D



@akmese.onur

@sosyal_bilgiler_zumresi2021

SADECE SOSYAL BİLGİLER ÖĞRETMENLERİNİN YER ALDIĞI WHATSAP GRUPLARIMIZDAN BİRİNE KATILMAK İÇİN MAIL ATABİLİRSİNİZ.

onurakmese16@gmail.com

Daha Fazlası İçin Tıkla

www.akmeseonur.com



BU KAZANIMDAN SON 10 YILDA 4 SORU SORULMUŞTUR.

1

Aşağıdakilerden hangisi TEMA vakfının ülkemizdeki temel faaliyet alanlarındandır?

- A) İnsan hak ve özgürlüklerini korumak
- B) Toprak örtüsünü erozyondan korumak
- C) Toplumun sosyal ve kültürel gelişimini sağlamak
- D) Yoksul çocukların eğitim giderlerini karşılamak

2

Tarih boyunca Türklerin çeşitli vakıflar kurmasının amaçları arasında, aşağıdakilerden hangisi ver almaz?

- A) Eğitime katkı
- B) Yoksulları koruma
- C) Sosyal yardımlaşma
- D) Kişisel kazanç sağlama

3

Aşağıdakilerden hangisi sivil toplum kuruluşlarının amaçları arasında ver almaz?

- A) Vatandaşların refah düzeyini artırmak
- B) Demokrasinin yerleşmesine katkı sağlamak
- C) Toplumun ihtiyaçlarını giderecek yasaları çıkarmak
- D) Vatandaşlarla devletin isteklerini uzlaştırmak

4

Toplum içerisinde siyasi iradenin bir parçası olmayan ve sivil toplum alanında etkinlik gösteren kurumlara sivil toplum kuruluşları denir.

Buna göre aşağıdakilerden hangisi bir sivil toplum kuruluşu değildir?

- A) TEMA
- B) YEŞİLAY
- C) LÖSEV
- D) TİGEM



KAZANIM 20: KURUMLARIN VE SİVİL TOPLUM KURULUŞLARININ ÇALIŞMALARINA VE SOSYAL YAŞAMDAKİ ROLLERİNE ÖRNEKLER VERİR.



BU KAZANIMDAN SON 10 YILDA 4 SORU SORULMUŞTUR.

CEVAP ANAHTARI

- 1-B
- 2-D
- 3-C
- 4-D
- 5-
- 6-
- 7-



@akmese.onur

@sosyal_bilgiler_zumresi2021

SADECE SOSYAL BİLGİLER ÖĞRETMENLERİNİN YER ALDIĞI WHATSAP GRUPLARIMIZDAN BİRİNE KATILMAK İÇİN MAIL ATABİLİRSİNİZ.

onurakmese16@gmail.com

Daha Fazlası İçin Tıkla

www.akmeseonur.com



BU KAZANIMDAN SON 10 YILDA 3 SORU SORULMUŞTUR.

1

- 13. yüzyılda Anadolu'da kurulan esnaf ve zanaatkârlar birliğidir.
- Dinî, ahlaki, sosyal ve ekonomik nitelikler taşır.
- Meslek ahlakının geliştirilmesinde önemli bir yere sahiptir.

Verilen özellikleri, aşağıdakilerden hangisiyle ilişkilendirebiliriz?

- A) Medrese B) Enderun
C) Ahilik teşkilatı D) Divan-ı Hümayun

2

Osmanlı Devleti'nde zeki ve yetenekli çocuklar, Enderun adı verilen okulda iyi bir eğitim gördükten sonra devletin önemli hizmetlerine atanırlardı.

Bu uygulama, Osmanlıların aşağıdakilerden hangisine önem verdiğini gösterir?

- A) Taht kavgalarının önlenmesine
B) Yönetici kadroların eğitime
C) Ülke bütünlüğünün korunmasına
D) Merkezî otoritenin sağlanmasına

3

Okul tiyatrosuna katılan Ahmet'in rolü, Osmanlı Devleti döneminde kunduracılık yapan birini canlandırmaktır.

Buna göre aşağıdakilerden hangisi Ahmet'in rolü gereği canlandıracağı kunduracının özellikleri arasında yer almaz?

- A) Enderun'da eğitim almıştır.
B) Lonca teşkilatının bir üyesidir.
C) Ahilik geleneğini sürdürür.
D) Mesleğini ustasından öğrenmiştir.



KAZANIM 21: TARİH BOYUNCA TÜRKLERDE MESLEK EDİNDİRME VE MESLEK ETİĞİ
KAZANDIRMADA ROL OYNAYAN KURUMLARI TANIR.



BU KAZANIMDAN SON 10 YILDA 3 SORU SORULMUŞTUR.

CEVAP ANAHTARI

- 1-C
- 2-B
- 3-A
- 4-
- 5-
- 6-
- 7-



@akmese.onur

@sosyal_bilgiler_zumresi2021

**SADECE SOSYAL BİLGİLER ÖĞRETMENLERİNİN YER ALDIĞI WHATSAP
GRUPLARIMIZDAN BİRİNE KATILMAK İÇİN MAIL ATABİLİRSİNİZ.**

onurakmese16@gmail.com

Daha Fazlası İçin Tıkla

www.akmeseonur.com



BU KAZANIMDAN SON 10 YILDA 6 SORU SORULMUŞTUR.

1

- Dört yıllık üniversite mezunu,
- İyi derecede İngilizce bilen,
- İletişim becerisi yüksek,
- Planlama ve organizasyon yeteneği gelişmiş,
- Öğrenme ve gelişime açık, girişimci

olan Sinem, aşağıdaki mesleklerden hangisini tercih ederse, isabetli bir meslek seçmiş olur?

- A) Teknik Hizmetler Sorumlusu
- B) Ticaret Müdürlüğü
- C) Hemşirelik
- D) Öğretmenlik

2

Doğru ve etkili bir meslek seçim sürecinde birey kendini her yönüyle tanımalı ve kendi özelliklerini mesleğin gerektirdiği özelliklerle karşılaştırmalıdır.

Buna göre kişinin meslek seçiminde aşağıdakilerden hangisini yapması yanlış olur?

- A) Yeteneklerini göz önünde bulundurması
- B) İlgi alanlarını belirlemesi
- C) Mesleklerin gerektirdiği özellikleri tespit etmesi
- D) Ailenin kararına göre seçim yapması

3

Ülkemizin komşularıyla olan ilişkileri, dünyadaki siyasi gelişmeler her zaman ilgimi çekiyor. Dış ilişkiler konusunda araştırma yapmak, olayların gerçek neden ve sonuçları üzerine fikir yürütmek hoşuma gidiyor.



Ayla

Yukarıdaki düşünceleri taşıyan lise son sınıf öğrencisi Ayla'nın tercih etmesi gereken meslek aşağıdakilerden hangisidir?

- A) Turizm rehberliği
- B) Diplomatlık
- C) Harita Mühendisliği
- D) Hâkimlik

4

- I. İlgi alanlarım neler?
- II. Neleri yapmaktan hoşlanırım?
- III. Sevmediğim uğraşlar neler?
- IV. Nasıl bir karaktere sahibim?

Doğru bir meslek seçimi yapabilmek için yukarıdaki sorulardan hangilerine cevap verilmelidir?

- A) Yalnız I.
- B) II. ve III.
- C) I, III. ve IV.
- D) I, II, III. ve IV.

BU KAZANIMDAN SON 10 YILDA 6 SORU SORULMUŞTUR.

5



Ege

Çocukluğumdan beri bana alınan oyuncak arabalardan daha çok kendi tasarladığım otomobillerle oynamışım. Bu yüzden ileride otomobil tasarımcısı olmak istiyorum. Kendi tasarladığım otomobillerden oluşan küçük bir koleksiyonum bile var.

Buna göre Ege'nin bir mesleğe yönlendirilmesinde aşağıdakilerden hangisinin etkili olması beklenir?

- A) Fiziksel özelliklerinin
- B) İlgi ve yeteneğinin
- C) Ailesinin beklentilerinin
- D) Mesleğin toplumdaki konumunun

6

Kan görmeye dayanamayan ve el becerileri zayıf bir insanın beyin cerrahı olmak için tıp okuması yanlış bir seçim olabilir. Çocukları seven ve onlarla iyi iletişim kurabilen bir kişinin öğretmen olması ise doğru bir seçim olabilir.

Bu metinde meslek seçiminde aşağıdakilerden hangisinin önemi vurgulanmıştır?

- A) Mesleğin saygınlığı
- B) Kişilik özellikleri
- C) Ailenin istekleri
- D) İş imkânları



KAZANIM 22: DÜNYADAKİ GELİŞMELERE BAĞLI OLARAK ORTAYA ÇIKAN YENİ MESLEKLERİ DİKKATE ALARAK MESLEKİ TERCİHLERİNE YÖNELİK PLANLAMA YAPAR.



BU KAZANIMDAN SON 10 YILDA 6 SORU SORULMUŞTUR.

CEVAP ANAHTARI

- 1-D
- 2-D
- 3-B
- 4-D
- 5-B
- 6-B
- 7-



@akmese.onur

@sosyal_bilgiler_zumresi2021

SADECE SOSYAL BİLGİLER ÖĞRETMENLERİNİN YER ALDIĞI WHATSAP GRUPLARIMIZDAN BİRİNE KATILMAK İÇİN MAIL ATABİLİRSİNİZ.

onurakmese16@gmail.com

Daha Fazlası İçin Tıkla

www.akmeseonur.com





KAZANIM 23: DİJİTAL TEKNOLOJİLERİN ÜRETİM, DAĞITIM VE TÜKETİM AĞINDA MEYDANA
GETİRDİĞİ DEĞİŞİMLERİ ANALİZ EDER.



BU KAZANIMDAN SON 10 YILDA 0 SORU SORULMUŞTUR.





KAZANIM 23: DİJİTAL TEKNOLOJİLERİN ÜRETİM, DAĞITIM VE TÜKETİM AĞINDA MEYDANA GETİRDİĞİ DEĞİŞİMLERİ ANALİZ EDER.



BU KAZANIMDAN SON 10 YILDA 0 SORU SORULMUŞTUR.

CEVAP ANAHTARI

1-A	8-	15-	22-	29-	36-
2-D	9-	16-	23-	30-	37-
3-C	10-	17-	24-	31-	38-
4-C	11-	18-	25-	32-	39-
5-D	12-	19-	26-	33-	40-
6-A	13-	20-	27-	34-	41-
7-	14-	21-	28-	35-	42-



@akmese.onur

@sosyal_bilgiler_zumresi2021

SADECE SOSYAL BİLGİLER ÖĞRETMENLERİNİN YER ALDIĞI WHATSAP GRUPLARIMIZDAN BİRİNE KATILMAK İÇİN MAIL ATABİLİRSİNİZ.

onurakmese16@gmail.com

Daha Fazlası İçin Tıkla

www.akmeseonur.com





ETKİN VATANDAŞLIK



6.ÜNİTE



**BU ÜNİTEDEN 2012 YILINDAN
2021 YILINA KADAR YAPILAN
10 SINAVDA TOPLAM
14 SORU ÇIKMIŞTIR.**

- 1.DEMOKRASİNİN ORTAYA ÇIKIŞINI, GELİŞİM EVRELERİNİ VE GÜNÜMÜZDE İFADE ETTİĞİ ANLAMLARI AÇIKLAR.**
- 2.ATATÜRK'ÜN TÜRK DEMOKRASİSİNİN GELİŞİMİNE KATKILARINI AÇIKLAR.**
- 3.TÜRKİYE CUMHURİYETİ DEVLETİ'NİN TEMEL NİTELİKLERİNİ TOPLUMSAL HAYATTAKİ UYGULAMALARLA İLİŞKİLENDİRİR.**
- 4.DEMOKRASİNİN UYGULANMA SÜREÇLERİNDE KARŞILAŞILAN SORUNLARI ANALİZ EDER.**



@akmese.onur

@sosyal_bilgiler_zumresi2021

BU KAZANIMDAN SON 10 YILDA 4 SORU SORULMUŞTUR.

1

Berk : İlk Türk devletlerinde devlet işleri, toplanan Kurultayda görüşülerek yürütülürdü. Bugün de benzer uygulama Türkiye Büyük Millet Meclisi ile yapılmaktadır.

Betül : Türk milletinin devlet yönetimindeki bu uygulaması ne anlama geliyor?

Berk :

Yukarıda, Berk ile Betül arasında Türk devletlerinde yönetim şekli ve egemenlik anlayışındaki değişim ve süreklilikle ilgili bir konuşma geçmektedir.

Bu konuşmada Berk'in söyleyebileceği en uygun cevap, aşağıdakilerden hangisi olabilir?

- A) Devletin dinî kurallara göre yönetildiği
- B) Yönetimde fikir alışverişine önem verildiği
- C) Devlet başkanlarının sınırsız yetkilere sahip olduğu
- D) Yönetimde her zaman devlet başkanlarının kararlarının uygulandığı

2

Türk kültüründe meşveret vardır. Meşveret, akıl toplamak demektir. Yani en doğruyu bulmak için birilerine danışılmasıdır.

Buna göre İlk Türk Devletlerinin meşveret kurumu aşağıdakilerden hangisidir?

- A) Meclis-i Mebusan
- B) Sened-i İttifak
- C) Magna Carta
- D) Kurultay

3

Okulumuzda; Demokrasi, İnsan Hakları ve Vatandaşlık Kulübünün başkanlık seçimi için yedinci sınıflardan altı öğrenci adaylığını koydu. Yapılan oylama sonucunda en fazla oyu alan aday, kulüp başkanı oldu.

Parçada verilen bu uygulama, demokrasilerde görülen aşağıdaki prensiplerden hangisi ile ilişkilendirilebilir?

- A) Hoşgörü
- B) İnanç özgürlüğü
- C) Seçme-seçilme
- D) Kuvvetler ayrılığı

4

Demokrasinin "bireylerin herhangi bir kısıtlamaya veya zorlamaya bağlı olmaksızın düşüncelerini açıklayabilme ve istedikleri gibi davranabilmesi" olarak tanımlanan temel ilkesi aşağıdakilerden hangisidir?

- A) Eşitlik
- B) Özgürlük
- C) Katılım
- D) Çoğulculuk



KAZANIM 24: DEMOKRASİNİN ORTAYA ÇIKIŞINI, GELİŞİM EVRELERİNİ VE GÜNÜMÜZDE İFADE ETTİĞİ ANLAMLARI AÇIKLAR.



BU KAZANIMDAN SON 10 YILDA 4 SORU SORULMUŞTUR.

CEVAP ANAHTARI

- 1-B
- 2-D
- 3-C
- 4-B
- 5-
- 6-
- 7-



@akmese.onur

@sosyal_bilgiler_zumresi2021

SADECE SOSYAL BİLGİLER ÖĞRETMENLERİNİN YER ALDIĞI WHATSAP GRUPLARIMIZDAN BİRİNE KATILMAK İÇİN MAIL ATABİLİRSİNİZ.

onurakmese16@gmail.com

Daha Fazlası İçin Tıkla

www.akmeseonur.com



BU KAZANIMDAN SON 10 YILDA 1 SORU SORULMUŞTUR.

1

- Erzurum Kongresi'nde "Millî kuvvetleri etkin, millî iradeyi hâkim kılmak esastır." kararının alınması
- 23 Nisan 1920'de Ankara'da Büyük Millet Meclisinin açılması
- 29 Ekim 1923'te cumhuriyetin ilan edilmesi

Bu gelişmeler aşağıdakilerden hangisine verilen önemi gösterir?

- A) Millî ekonomiye
- B) Millî eğitime
- C) Millî egemenliğe
- D) Millî sınırlara

KAZANIM 25: ATATÜRK'ÜN TÜRK DEMOKRASİSİNİN GELİŞİMİNE KATKILARINI AÇIKLAR.

BU KAZANIMDAN SON 10 YILDA 1 SORU SORULMUŞTUR.

CEVAP ANAHTARI

1-C

2-

3-

4-

5-

6-

7-



@akmese.onur

@sosyal_bilgiler_zumresi2021

SADECE SOSYAL BİLGİLER ÖĞRETMENLERİNİN YER ALDIĞI WHATSAP GRUPLARIMIZDAN BİRİNE KATILMAK İÇİN MAIL ATABİLİRSİNİZ.

onurakmese16@gmail.com

Daha Fazlası İçin Tıkla

www.akmeseonur.com



BU KAZANIMDAN SON 10 YILDA 9 SORU SORULMUŞTUR.

1

Hiçbir devlet organı, makam, kurum veya kişi mahkemelere emir veremez, kararlarına müdahale edemez.

Anayasa'nın bu ilkesi ile vurgulanmak istenen, aşağıdakilerden hangisidir?

- A) Millet egemenliği
- B) Yasaların üstünlüğü
- C) Yargının bağımsızlığı
- D) Toplumun bütünlüğü

2

- I- Sorunların mecliste görüşülüp gerekli kanuni düzenlemelerin yapılması
- II- Hükûmetin çıkarılan kanunları uygulaması
- III- Anayasa Mahkemesinin meclisin çıkardığı kanunları denetlemesi

Verilen sürecin kavramlarla doğru ifade edilmiş hâli, aşağıdakilerden hangisidir?

- | I | II | III |
|------------|---------|---------|
| A) Yasama | Yürütme | Yargı |
| B) Yasama | Yargı | Yürütme |
| C) Yürütme | Yasama | Yargı |
| D) Yargı | Yürütme | Yasama |

3

Kimsesiz çocukları ve 65 yaş üstü bireyleri koruyup himaye etmek, devletin hangi niteliğinin bir gereğidir?

- A) Ekonomik
- B) Sosyal
- C) Siyasal
- D) Kültürel

4

Türkiye Cumhuriyeti Devleti'nde;

- Yasama yetkisi, Türkiye Büyük Millet Meclisine,
- Yürütme yetkisi, Cumhurbaşkanı ve Bakanlar Kuruluna,
- Yargı yetkisi de bağımsız mahkemelere verilmiştir.

Verilen bu bilgilerden, Türkiye Cumhuriyeti Devleti'nin yönetim anlayışı ile ilgili olarak çıkarılabilecek ortak sonuç aşağıdakilerden hangisidir?

- A) Yargı bağımsızlığı önemsenmiştir.
- B) Bağımsız dış politika benimsenmiştir.
- C) Kuvvetler ayrılığı ilkesi kabul edilmiştir.
- D) Devlet yönetiminde millet iradesi esas alınmıştır.

BU KAZANIMDAN SON 10 YILDA 9 SORU SORULMUŞTUR.

5

Ülkemiz vatandaşlarının seçme ve seçilme haklarına sahip olmaları, aşağıdakilerden hangisiyle ilgilidir?

- A) Sosyal Devlet
- B) Demokratik Devlet
- C) Laik Devlet
- D) Hukuk Devleti

6

- Yönetme yetkisi halkın tümüne aittir.
- Belli dönemlerde yapılan seçimlerle halk temsilcilerini belirler.
- Seçimlerde oylama gizli, oyların sayımı ise açık yapılır.

Bu özellikler öncelikle aşağıdakilerden hangisinin gereklerindendir?

- A) Laik devlet
- B) Sosyal devlet
- C) Demokratik devlet
- D) Hukuk devleti

7

- Devlet kurumlarının görev ve yetkileri anayasa ve yasalarla belirlenmiştir.
- Hiç kimse anayasa ve yasalara aykırı davranmaz.
- Herkes kanun önünde eşittir.

Verilen maddeler Türkiye Cumhuriyeti Devleti'nin hangi niteliği ile ilgilidir?

- A) Laik devlet
- B) Demokratik devlet
- C) Hukuk devleti
- D) Sosyal devlet

8

Sosyal devlet anlayışı ekonomik, sosyal ve kültürel olarak vatandaşlara eşit olanaklar sunar.

Buna göre aşağıdakilerden hangisi sosyal devlet anlayışına örnek olarak gösterilebilir?

- A) Ülkenin kanunlarla yönetilmesi
- B) Kişilerin dilediği adaya oy vermesi
- C) Sosyal güvencesi olmayan yaşlılara yaşlılık aylığı bağlanması
- D) Seçimlere birden fazla siyasi partinin girmesi

9

- Bu yönetim anlayışında devlet halkı için vardır ve halkı için çalışır.
- Devlet, eğitim-öğretim ve sağlık gibi hizmetleri tüm vatandaşlarına ulaştırmak zorundadır.

Bu özelliklerin, öncelikle aşağıdaki devlet anlayışlarının hangisinde bulunması beklenir?

- A) Laik devlet
- B) Sosyal devlet
- C) Hukuk devleti
- D) Demokratik devlet



KAZANIM 26: TÜRKİYE CUMHURİYETİ DEVLETİNİN TEMEL NİTELİKLERİNİ TOPLUMSAL HAYATTAKİ UYGULAMALARLA İLİŞKİLENDİRİR.



BU KAZANIMDAN SON 10 YILDA 9 SORU SORULMUŞTUR.

CEVAP ANAHTARI

- | | |
|-----|-----|
| 1-B | 8-C |
| 2-A | 9-B |
| 3-B | 10- |
| 4-C | 11- |
| 5-B | 12- |
| 6-C | 13- |
| 7-C | 14- |



@akmese.onur

@sosyal_bilgiler_zumresi2021

SADECE SOSYAL BİLGİLER ÖĞRETMENLERİNİN YER ALDIĞI WHATSAP GRUPLARIMIZDAN BİRİNE KATILMAK İÇİN MAIL ATABİLİRSİNİZ.

onurakmese16@gmail.com

Daha Fazlası İçin Tıkla

www.akmeseonur.com





KAZANIM 27: DEMOKRASİNİN UYGULANMA SÜREÇLERİNDE KARŞILAŞILAN SORUNLARI ANALİZ EDER.



BU KAZANIMDAN SON 10 YILDA 0 SORU SORULMUŞTUR.





KAZANIM 27: DEMOKRASİNİN UYGULANMA SÜREÇLERİNDE KARŞILAŞILAN SORUNLARI ANALİZ EDER.



BU KAZANIMDAN SON 10 YILDA 0 SORU SORULMUŞTUR.

CEVAP ANAHTARI



@akmese.onur

@sosyal_bilgiler_zumresi2021

SADECE SOSYAL BİLGİLER ÖĞRETMENLERİNİN YER ALDIĞI WHATSAP GRUPLARIMIZDAN BİRİNE KATILMAK İÇİN MAIL ATABİLİRSİNİZ.

onurakmese16@gmail.com

Daha Fazlası İçin Tıkla

www.akmeseonur.com





KÜRESEL BAĞLANTILAR



7.ÜNİTE



**BU ÜNİTEDEN 2012 YILINDAN
2021 YILINA KADAR YAPILAN
10 SINAVDA TOPLAM
3 SORU ÇIKMIŞTIR.**

1. TÜRKİYE'NİN ÜYESİ OLDUĞU ULUSLARARASI KURULUŞLARA ÖRNEKLER VERİR.
2. TÜRKİYE'NİN İLİŞKİDE OLDUĞU EKONOMİK BÖLGE VE KURULUŞLARI TANIR.
3. ÇEŞİTLİ KÜLTÜRLERE YÖNELİK KALIP YARGILARI SORGULAR.
4. ARKADAŞLARIYLA BİRLİKTE KÜRESEL SORUNLARIN ÇÖZÜMÜNE YÖNELİK FİKİR ÖNERİLERİ GELİŞTİRİR.



@akmese.onur

@sosyal_bilgiler_zumresi2021

BU KAZANIMDAN SON 10 YILDA 1 SORU SORULMUŞTUR.

1

“İslam dünyasının hak ve çıkarlarını korumak, üye ülkeler arasındaki iş birliği ve dayanışmayı güçlendirmek” amacıyla kurulan ülkemizin de dâhil olduğu uluslararası kuruluş aşağıdakilerden hangisidir?

- A) Türk Konseyi
- B) Avrupa Konseyi
- C) İslam İşbirliği Teşkilatı
- D) Birleşmiş Milletler



KAZANIM 28: TÜRKİYE'NİN ÜYESİ OLDUĞU ULUSLARARASI KURULUŞLARA ÖRNEKLER VERİR.



BU KAZANIMDAN SON 10 YILDA 1 SORU SORULMUŞTUR.

CEVAP ANAHTARI

- 1-C
- 2-
- 3-
- 4-
- 5-
- 6-
- 7-



@akmese.onur

@sosyal_bilgiler_zumresi2021

SADECE SOSYAL BİLGİLER ÖĞRETMENLERİNİN YER ALDIĞI WHATSAP GRUPLARIMIZDAN BİRİNE KATILMAK İÇİN MAIL ATABİLİRSİNİZ.

onurakmese16@gmail.com

Daha Fazlası İçin Tıkla

www.akmeseonur.com



KAZANIM 29: TÜRKİYE’NİN İLİŞKİDE OLDUĞU EKONOMİK BÖLGE VE KURULUŞLARI TANIR.

BU KAZANIMDAN SON 10 YILDA 0 SORU SORULMUŞTUR.

KAZANIM 29: TÜRKİYE’NİN İLİŞKİDE OLDUĞU EKONOMİK BÖLGE VE KURULUŞLARI TANIR.

BU KAZANIMDAN SON 10 YILDA 0 SORU SORULMUŞTUR.

CEVAP ANAHTARI

1-A	8-	15-	22-	29-	36-
2-D	9-	16-	23-	30-	37-
3-C	10-	17-	24-	31-	38-
4-C	11-	18-	25-	32-	39-
5-D	12-	19-	26-	33-	40-
6-A	13-	20-	27-	34-	41-
7-	14-	21-	28-	35-	42-



@akmese.onur

@sosyal_bilgiler_zumresi2021

SADECE SOSYAL BİLGİLER ÖĞRETMENLERİNİN YER ALDIĞI WHATSAP GRUPLARIMIZDAN BİRİNE KATILMAK İÇİN MAIL ATABİLİRSİNİZ.

onurakmese16@gmail.com

Daha Fazlası İçin Tıkla

www.akmeseonur.com





KAZANIM 30: ÇEŞİTLİ KÜLTÜRLERE YÖNELİK KALIP YARGILARI SORGULAR.



BU KAZANIMDAN SON 10 YILDA 0 SORU SORULMUŞTUR.



KAZANIM 30: ÇEŞİTLİ KÜLTÜRLERE YÖNELİK KALIP YARGILARI SORGULAR.

BU KAZANIMDAN SON 10 YILDA 0 SORU SORULMUŞTUR.

CEVAP ANAHTARI

1-A	8-	15-	22-	29-	36-
2-D	9-	16-	23-	30-	37-
3-C	10-	17-	24-	31-	38-
4-C	11-	18-	25-	32-	39-
5-D	12-	19-	26-	33-	40-
6-A	13-	20-	27-	34-	41-
7-	14-	21-	28-	35-	42-



@akmese.onur

@sosyal_bilgiler_zumresi2021

SADECE SOSYAL BİLGİLER ÖĞRETMENLERİNİN YER ALDIĞI WHATSAP GRUPLARIMIZDAN BİRİNE KATILMAK İÇİN MAIL ATABİLİRSİNİZ.

onurakmese16@gmail.com

Daha Fazlası İçin Tıkla

www.akmeseonur.com



BU KAZANIMDAN SON 10 YILDA 2 SORU SORULMUŞTUR.

1

Atmosfere salınan gazların sera etkisi yapması sonucunda oluşan küresel ısınmanın önüne geçilmezse birçok sorun ortaya çıkar.

Aşağıdakilerden hangisi bu sorunlardan biri değildir?

- A) Deniz kıyısına yakın yerleşmeler su altında kalabilir.
- B) Hayvan ve bitki türlerinin büyük bölümü yok olabilir.
- C) Kasırgalar daha sık ve daha şiddetli görülebilir.
- D) Alüvyal araziler daha geniş sahalara yayılabilir.

2

Dünya genelini etkileyen kuraklık, iklim değişiklikleri, bulaşıcı hastalıklar, savaşlar gibi olaylar küresel sorun olarak adlandırılır.

Buna göre aşağıdakilerden hangisi küresel sorun oluşturur?

- A) Nüfus artış hızının azalması
- B) Doğal koruma alanlarının artması
- C) Tarımsal üretimde makineleşmenin artması
- D) Tatlı su kaynaklarının azalması



KAZANIM 31: ARKADAŞLARIYLA BİRLİKTE KÜRESEL SORUNLARIN ÇÖZÜMÜNE YÖNELİK FİKİR ÖNERİLERİ GELİŞTİRİR.



BU KAZANIMDAN SON 10 YILDA 2 SORU SORULMUŞTUR.

CEVAP ANAHTARI

- 1-D
- 2-D
- 3-
- 4-
- 5-
- 6-
- 7-



@akmese.onur

@sosyal_bilgiler_zumresi2021

SADECE SOSYAL BİLGİLER ÖĞRETMENLERİNİN YER ALDIĞI WHATSAP GRUPLARIMIZDAN BİRİNE KATILMAK İÇİN MAIL ATABİLİRSİNİZ.

onurakmese16@gmail.com

Daha Fazlası İçin Tıkla

www.akmeseonur.com



Daha Fazla Ücretsiz İçerik İçin;

Web: www.akmeseonur.com

Youtube: [Onur AKMEŞE-ZGA Yayınları](https://www.youtube.com/channel/UCkMESE-ZGA)

Instagram: [@akmese.onur](https://www.instagram.com/akmese.onur)

Instagram: [@sosyal bilgiler zumresi2021](https://www.instagram.com/sosyal_bilgiler_zumresi2021)



YouTube



Kitaplarımız ile ilgili bilgi ve sipariş için;

www.zgayayinlari.com

Whatsapp: 0 850 30 83 ZGA (942)

Yukarıdaki bağlantıların üzerine tıklayarak sitelere ulaşabilirsiniz.



8. SINIF SORU BANKAMIZ

**ZÜMRELERİN
GÜCÜ
ADINA
YAYINLARI**



8. SINIF 30'LU DENEMEMİZ

2022-2023 Eğitim Öğretim Döneminde 6. ve 7. Sınıf Sosyal Bilgiler Soru Bankalarımız ile SİZLERLEYİZ.