



6. SINIF SOSYAL BİLGİLER

5. ÜNİTE 1. KAZANIM AÇIK UÇLU SORULAR

YÖNERGE

**** Aşağıdaki açık uçlu soruların cevaplarını sorunun karşısındaki cevap yazan sütuna yazınız.

**** Birden çok cevabı olan sorular için numaralandırma yapılmıştır. Tüm numaralandırılan yerler doldurulmalıdır.





**** Sorular kolaylık ve takip açısından her kazanım için ayrı ayrı hazırlanmıştır.

KAZANIM: SB.6.5.1. Ülkemizin kaynaklarıyla ekonomik faaliyetlerini ilişkilendirir.

S. NO	SORULAR	CEVAPLAR
1	Ülkemizde ekonomik faaliyet çeşitliliğinin fazla olmasının sebepleri nelerdir?	* * * * * *
2	Doğal kaynak, oluşumunda insanların etkisinin bulunmadığı, doğada var olan tüm zenginliklerdir. Buna göre doğal kaynaklara 4 örnek veriniz?	* * * *
3	Tarım, hayvancılık, seramik, fayans, cam, kiremit, tuğla ve çimento üretiminde kullanılan doğal kaynağın adı nedir?	
4	En çok Aydın ve İzmir’de üretilen, taze ve kuru üretiminde ihracatında dünyada 1.sırada olduğumuz ürünün adı nedir?	





S. NO	SORULAR	CEVAPLAR
5	Bir adı da narenciye olan portakal, mandalina, limon, greyfurt gibi meyvelere verilen addır?	
6	Verimli topraklara ve elverişli iklime sahip, sulama imkânları olan yerlere elverişli ekonomik faaliyetin adı nedir?	
7	<ul style="list-style-type: none">* Atatürk Orman Çiftliği,* Toprak Mahsulleri Ofisi* Ziraat Bankası,*GAP İdaresi Başkanlığı,* Devlet Su İşleri Genel Müdürlüğü <p>Verilen kuruluşlar hangi alanda destek sağlamaktadır?</p>	
8	<div> (1) (2)</div> <div> (3) (4)</div> <p>Verilen görsellerin hangi ekonomik faaliyetlerle ilgili olduğunu yazınız.</p>	<p>1-</p> <p>2-</p> <p>3-</p> <p>4-</p>
9	Akdeniz’de yazın yetiştirilen tarım ürünlerinin çoğu kış mevsiminde de yetiştirilmesi hangi ekonomik faaliyetin oluşmasını sağlamıştır?	
10	Güneydoğu Anadolu’da önceden kuraklığa dayanıklı kırmızı mercimek ve antep fıstığı üretimi yapılırken Güneydoğu Anadolu Projesi (GAP)’nin yapılmasıyla pamuk mısır ve pirinç üretimi yapılmaya başlamıştır. Buna göre GAP projesi hangi sorunun çözümlüdür?	





S. NO	SORULAR	CEVAPLAR
11	<p>Bol ve düzenli yağış isteyen bir bitkidir, yetişmesi için kış ılıkılığı gerekir. Ülkemizde Karadeniz kıyısının doğusunda Rize başta olmak üzere Ordu'dan Gürcistan sınırına kadar olan kıyı kesimde tarımı yapılmaktadır.</p> <p>Yetiştirme özellikleri ve yetiştirildiği yerler ile ilgili bilgiler verilen ürünün adını nedir?</p>	
12	<p>Yükseltinin fazla olduğu yerlerde tarımsal üretim azaldığı için bu yerlerde gelişen ekonomik faaliyetin adı nedir?</p>	
13	<p>Marmara Bölgesinde büyük şehirlerin kurulmuştur. Bu bölgede insanların et ihtiyacını karşılamak için hangi ekonomik faaliyet gelişmiştir?</p>	
14	<p>Ülkemizin doğusundaki yüksek dağlar, engebeli arazi ve karasal iklim sebebiyle uzun süren kış mevsimi hangi ekonomik faaliyetin oluşmasını sağlamıştır?</p>	
15	<p>1- Karasal iklimin etkisiyle bozkır bitki örtüsünün yaygın olduğu hayvancılık türüdür.</p> <p>2- Bursa ve civarında yapılan dokuma sanayisinde kullanılan hayvancılık türüdür.</p> <p>Verilen soruları cevaplarını yazınız.</p>	<p>1-</p> <p>2-</p>
16	<p>Kâğıt, kereste ve mobilya sanayisinde ve inşaat alanında yararlanır, erozyonu azaltır, atmosfere oksijen kazandırır, dinlenme alanı oluşturur. Ayrıca elde edilen çam fıstığı ve reçinesi, sığla ağaçlarının yağı kozmetik alanında kullanılmaktadır.</p> <p>Faydaları ve kullanım alanı belirtilen doğal kaynağın adı nedir?</p>	





@sosyalhocasimustafa



@sosyalhocasimustafakarakus

S. NO	SORULAR	CEVAPLAR
17	Ormancılık faaliyetinin en gelişmiş olduğu bölgemizin adı nedir?	
18	Yer altından çıkan sıcak su kaynakları üzerine kurulan tesislere ne ad verilir?	
19	Deterjan, boya, kimya vb. sanayilerinde, jet ve roket yakıtı yapımında kullanılan ülkemizin rezerv bakımından dünyada birinci sırada olduğu madenin adı nedir?	
20	Sivas Divriği ve başka yerlerde çıkarılan Zonguldak Ereğli’de işlenen ve inşaat ve başka yerlerde kullanımı için hazır hale getirilen madenin adı nedir?	
21	Pamuğa dayalı gelişen sanayi koluna ne ad verilir?	
22	Eğitim, sağlık, bankacılık, ulaşım gibi alanlar hangi sektör içinde değerlendirilir?	
23	Ülkemizde maden ve taş ocakları kaynaklarını aramak, bulmak ve işletmeye uygun olup olmadığını tespit etmek amacıyla 1935’te Mustafa Kemal Atatürk’ün girişimleriyle kurulan kuruluşun adı nedir?	
24	Sağladığı gelirler sebebiyle ülkemizde “bacasız sanayi” olarak adlandırılan ekonomik faaliyettir. Metinde <u>“bacasız sanayi”</u> le anlatılmak istenen faaliyetin adı nedir?	



@sosyalhocasimustafa



@sosyalhocasimustafakarakus



@sosyalhocasimustafa



@sosyalhocasimustafakarakus

6. SINIF SOSYAL BİLGİLER

5. ÜNİTE 2. KAZANIM AÇIK UÇLU SORULAR

YÖNERGE

**** Aşağıdaki açık uçlu soruların cevaplarını sorunun karşısındaki cevaplar yazan sütuna yazınız.

**** Birden çok cevabı olan sorular için numaralandırma yapılmıştır. Tüm numaralandırılan yerler doldurulmalıdır.

**** Sorular kolaylık ve takip açısından her kazanım için ayrı ayrı hazırlanmıştır.

KAZANIM: SB.6.5.2. Kaynakların bilinçsizce tüketilmesinin canlı yaşamına etkilerini analiz eder.

S. NO	SORULAR	CEVAPLAR
1	<div><div>1</div><div>Taş kömürü</div></div> <div><div>2</div><div>Linyit</div></div> <div><div>3</div><div>Petrol</div></div> <div><div>4</div><div>Doğal gaz</div></div> <p>Görsele verilebilecek uygun başlığı yazınız.</p>	
2	<div><div>1</div><div>Güneş Enerjisi</div></div> <div><div>2</div><div>Rüzgâr Enerjisi</div></div> <div><div>3</div><div>Hidroelektrik Enerji</div></div> <div><div>4</div><div>Jeotermal Enerji</div></div> <p>Görsele verilebilecek uygun başlığı yazınız.</p>	



@sosyalhocasimustafa



@sosyalhocasimustafakarakus



S. NO	SORULAR	CEVAPLAR
3	<p>Ülkemizde tamamı Zonguldak çevresinden çıkarılmaktadır. Zonguldak-Ereğli havzasından çıkarılan bu enerji kaynağının ısı enerjisi oldukça yüksektir. Bu nedenle demir-çelik sanayisinde kullanılır. Bu enerji kaynağı kullanılarak Çatalağzı Termik Santralinde (Zonguldak) elektrik üretilmektedir. Fosil enerji kaynakları içinde atmosferi en fazla kirleten enerji kaynağıdır.</p> <p>Açıklamaları verilen enerji kaynağının adı nedir?</p>	
4	<p>Taş kömürüne göre ısı enerjisi daha düşüktür, ülkemizde yaygın olarak çıkarılan bir kömür çeşididir. Evlerde ısınma amacıyla ve termik santrallerde elektrik üretiminde kullanılır, en fazla Soma (Manisa), Tunçbilek (Kütahya) vb. çıkarılmaktadır.</p> <p>Açıklamaları verilen enerji kaynağının adı nedir?</p>	
5	<p>Güneş enerjisi, güneşli gün sayısı fazla olan bölgelerde ısınmada, elektrik ve sıcak su üretmede kullanılır.</p> <p>Buna göre ülkemizde hangi yerlerde güneş enerjisinden yararlanma oranı daha yüksektir?</p>	<p>*</p> <p>*</p>
6	<p>Akarsuların üzerinde kurulan barajlar yoluyla üretilen elektrik enerjisidir. Hidroelektrik enerji potansiyeli dağlık ve engebeli yerlerde yüksektir.</p> <p>Buna göre ülkemizde potansiyeli <u>en yüksek yer</u> neresidir?</p>	

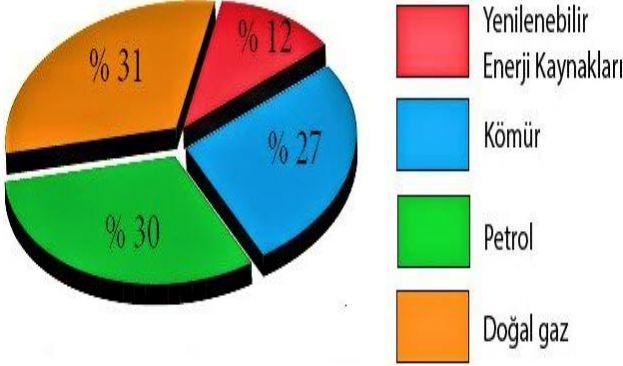




S. NO	SORULAR	CEVAPLAR
7	<p>Fosil enerji kaynağı olarak bilinen taş kömürü, linyit, petrol ve doğal gaz yandıklarında karbondioksit açığa çıkarır ve hava kirliliğine neden olur. En fazla karbondioksiti taş kömürü, en az karbondioksiti ise doğal gaz çıkarmaktadır. Karbondioksit gazının havayı kirletmesinden dolayı bu enerji kaynakları yerine atmosfere karbondioksit yaymayan alternatif enerji kaynaklarına yönelmek gerekmektedir.</p> <p>Metinde geçen yönelmesi gereken <u>“alternatif enerji kaynakları”</u> kavramı ile hangi enerji kaynağından bahsedilmiş olabilir?</p>	
8	<p>Uranyum ve toryum madenlerinin ham madde olarak kullanılmasıyla elde edilen enerji türüdür.</p> <p>Metinde verilen enerji türünün adı nedir?</p>	
9	<p>Yenilenebilir enerji kaynakları arasında yer alır. Ancak ülkemizdeki denizlerin potansiyeli bu enerji tesislerini kurmak için yeterli değildir.</p> <p>Metinde bahsedilen enerji kaynağı nedir?</p>	
10	<p>Dünyada bilinen petrol kaynaklarının yaklaşık 50 yıl ömrü kaldığı düşünülmektedir. Yine doğal gaz rezervlerinin yaklaşık olarak 50, kömürün ise 215 yıl ömrünün kaldığı tahmin edilmektedir.</p> <p>Metinden hangi sonuca ulaşılabilir?</p>	
11	<p>Su kaynaklarının azalması başta insanlar olmak üzere tüm canlıları olumsuz etkilemektedir. Ayrıca insanların akarsu, göl ve denizlere bıraktıkları kirli atık suları ve atık maddeler bu sulara yaşayan canlıların yok olmasına neden olmaktadır.</p> <p>Metne göre verilebilecek en kapsamlı başlığı yazınız.</p>	





S. NO	SORULAR	CEVAPLAR
12	<p>Yenilenmeyen enerji kaynaklarının fazla kullanımı ya da bu kaynakların kullanımı sırasında yaşanan kazalar büyük doğa sorunların yaşanmasına sebep olabilir. Petrol, kömür, doğalgaz gibi fosil yakıtların yanması sonucunda ortaya çıkan gazlar atmosferin yapısının bozulmasına sebep olur. Ayrıca bu durum astım gibi solunum hastalıklarına sebep olarak insan sağlığını tehdit etmektedir.</p> <p>Metinde bahsedilen olay nedir?</p>	
13	<ul style="list-style-type: none"> * Söndürülmeyen piknik ateşleri, * Bitkilerin doğadan aşırı miktarda toplanması, * Yakıt ve kereste elde etmek amacıyla ağaçların bilinçsizce kesilmesi, * Ormanlık alanlara bırakılan kırık cam parçaları, * Yerleşim ve tarım alanı açmak için ormanların kesilmesi <p>Verilenlere göre davranışlarıyla doğal çevreye zarar veren canlı nedir?</p>	
14	 <p>Ülkemizin enerji kaynakları kullanım oranları</p> <p>1- En fazla kullanılan enerji kaynağı nedir?</p> <p>2- En az kullanılan enerji kaynağı nedir?</p> <p>3- Yenilenebilir enerji kaynakları hangileridir?</p> <p>Görsele göre verilen soruları cevaplayınız.</p>	<p>1-</p> <p>2-</p> <p>3-</p> <p>*</p> <p>*</p> <p>*</p> <p>*</p> <p>*</p>
15	<p>Kuraklık, hava kirliliği, su kirliliği, erozyon, heyelan, gıda yetersizliği ve küresel ısınma gibi sorunlara sebep olan olay nedir?</p>	





6. SINIF SOSYAL BİLGİLER

5. ÜNİTE 3. KAZANIM AÇIK UÇLU SORULAR

YÖNERGE

**** Aşağıdaki açık uçlu soruların cevaplarını sorunun karşısındaki cevaplar yazan sütuna yazınız.

**** Birden çok cevabı olan sorular için numaralandırma yapılmıştır. Tüm numaralandırılan yerler doldurulmalıdır.

**** Sorular kolaylık ve takip açısından her kazanım için ayrı ayrı hazırlanmıştır.

KAZANIM: SB.6.5.3. Türkiye'nin coğrafi özelliklerini dikkate alarak yatırım ve pazarlama proje önerileri hazırlar.

S. NO	SORULAR	CEVAPLAR
1	Yeni iş kurarak veya mevcut işleri geliştirerek mal veya hizmet üreten kişiye ne ad verilir?	
2	Bir bölgenin iklimi, yer şekilleri, ulaşımı, nüfusu gibi özellikleri o bölgede yapılan ekonomik faaliyetleri ve yatırımları doğrudan etkiler. Buna göre, bitkisel zeytin yağ fabrikası kurmak isteyen bir yatırımcı hangi kıyıda fabrika kurmalıdır?	
3	Bir bölgenin iklimi, yer şekilleri, ulaşımı, nüfusu gibi özellikleri o bölgede yapılan ekonomik faaliyetleri ve yatırımları doğrudan etkiler. Buna göre, kağıt ve mobilya fabrikası kurmak isteyen bir yatırımcı hangi kıyıda fabrika kurmalıdır?	
4	Bir bölgenin iklimi, yer şekilleri, ulaşımı, nüfusu gibi özellikleri o bölgede yapılan ekonomik faaliyetleri ve yatırımları doğrudan etkiler. Buna göre, et ve süt ile ilgili yatırım yapmak isteyen bir girişimci nerede fabrika kurmalıdır?	





S. NO	SORULAR	CEVAPLAR
5	<p>Bir bölgenin iklimi, yer şekilleri, ulaşımı, nüfusu gibi özellikleri o bölgede yapılan ekonomik faaliyetleri ve yatırımları doğrudan etkiler.</p> <p>Buna göre, makarna fabrikası ile ilgili yatırım yapmak isteyen bir girişimci nerede fabrika kurmalıdır?</p>	
6	<p>Bir bölgenin iklimi, yer şekilleri, ulaşımı, nüfusu gibi özellikleri o bölgede yapılan ekonomik faaliyetleri ve yatırımları doğrudan etkiler.</p> <p>Buna göre, çay fabrikası ile ilgili yatırım yapmak isteyen bir girişimci hangi şehre fabrikayı kurmalıdır?</p>	
7	<div><div>1 Ham madde</div><div>2 Sermaye</div><div>3 Ulaşım</div><div>4 İş gücü</div><div>5 Enerji</div><div>6 Teknoloji</div></div> <p>Görsele verilebilecek uygun başlığı yazınız.</p> <p>.....</p>	
8	<p>Ülkemizin güney kıyıları iklim koşullarından dolayı yaz aylarında, turizm faaliyetleri için uygundur. Özellikle bu şehrimiz, ülkemizde deniz turizminin en çok geliştiği illerimiz arasındadır. Bu nedenle turizme yönelik yatırımlar (otel, restoran, tur organizasyonu, hediyelik eşya üretimi ve satışı gibi) yapılabilir.</p> <p>Metinde geçen bu şehrimizin adı nedir?</p>	





6. SINIF SOSYAL BİLGİLER

5. ÜNİTE 4. KAZANIM AÇIK UÇLU SORULAR

YÖNERGE

**** Aşağıdaki açık uçlu soruların cevaplarını sorunun karşısındaki cevaplar yazan sütuna yazınız.

**** Birden çok cevabı olan sorular için numaralandırma yapılmıştır. Tüm numaralandırılan yerler doldurulmalıdır.





**** Sorular kolaylık ve takip açısından her kazanım için ayrı ayrı hazırlanmıştır.

KAZANIM: SB.6.5.4. Vatandaşlık sorumluluğu ve ülke ekonomisine katkısı açısından vergi vermenin gereğini ve önemini savunur.

S. NO	SORULAR	CEVAPLAR
1	Çalışan ve maddi geliri olan vatandaşların gelirlerinin bir kısmını devlete vermelerine ne ad verilir?	
2	Madde 73 – Herkes, kamu giderlerini karşılamak üzere, mali gücüne göre, vergi ödemekle yükümlüdür. Bu maddede vergilerin neye göre belirleneceği belirtilmiştir?	
3	Devlet tarafından sunulan her hizmetin bir bedeli vardır ve bunu karşılayacak para da sınırlıdır. Devlet, kamu hizmetlerini gerçekleştirebilmek için kamu kaynaklarını kullanır. Bu hizmetlerin sağlıklı yürütülmesi ve devamlılığının sağlanabilmesi için hangi kaynağı kullanır?	
4	Osman Gazi: “ Kim pazarda satış yapıp para kazanırsa bunun iki akçasını versin, satamazsa bir şey vermesin...” Osman Gazi bu sözüyle hangi uygulamayı başlatmıştır?	





S. NO	SORULAR	CEVAPLAR
5	<p>* Ödediğimiz verginin kamu hazinesine aktarılmasını sağlamış olunuz.</p> <p>* Bu işlemlerin kayıt altına alınmasını ve vergilendirilmesini sağlamış olunuz.</p> <p>* Kamu hizmetlerinin daha sağlıklı yürütülmesine katkı sağlamış olunuz.</p> <p>* Bir tüketici olarak haklarımızı kullanmamız gerektiğinde elimizde geçerli bir belge olur.</p> <p>* En önemlisi vatandaşlık görevimizi yerine getirmiş olunuz.</p> <p>Tüm bu kazanımları sağlamak için bize düşen görev nedir?</p>	
6	<p>Devletimiz topladığı vergilerle bizlere çeşitli hizmetler sunar.</p> <p>(1) </p> <p>(2) </p> <p>(3) </p> <p>(4) </p> <p>Sunulan hizmetlerin hangi alanlarla ilgili olduğunu yazınız.</p>	<p>1-</p> <p>2-</p> <p>3-</p> <p>4-</p>





@sosyalhocasimustafa



@sosyalhocasimustafakarakus

S. NO	SORULAR	CEVAPLAR
7	Alışveriş sonrasında fiş ya da fatura alamadığımızda durumu nereye bildirmeliyiz?	
8	<p>Dolaylı vergiler ise satın aldığımız ürünlerden alınan vergilerdir. Dolaylı vergiler ülke ekonomisinde önemli bir yere sahiptir. Dolaylı vergilerin düzenli toplanabilmesi için bireyler alışverişlerinden sonra mutlaka fiş ya da fatura almaları gerekmektedir.</p> <p>Metinde bahsedilen vergi çeşidinin adı nedir?</p>	



@sosyalhocasimustafa



@sosyalhocasimustafakarakus



6. SINIF SOSYAL BİLGİLER

5. ÜNİTE 5. KAZANIM AÇIK UÇLU SORULAR

YÖNERGE

**** Aşağıdaki açık uçlu soruların cevaplarını sorunun karşısındaki cevaplar yazan sütuna yazınız.

**** Birden çok cevabı olan sorular için numaralandırma yapılmıştır. Tüm numaralandırılan yerler doldurulmalıdır.

**** Sorular kolaylık ve takip açısından her kazanım için ayrı ayrı hazırlanmıştır.

KAZANIM: SB.6.5.5. Nitelikli insan gücünün Türkiye ekonomisinin gelişimindeki yerini ve önemini analiz eder.

S. NO	SORULAR	CEVAPLAR
1	İlgi, istek ve yetenekleri doğrultusunda iyi eğitim alarak kendini yetiştiren ve ülkesine katkı sağlayan insanlara ne ad verilir	
2	<div style="text-align: center;"> </div> <p>Görselde ? işareti verilebilecek uygun başlığı yazınız.</p> <p>.....</p>	
3	<p>1- Zihni Derin</p> <p>2- Muhsin Ertuğrul</p> <p>3- Ahmet Adnan Saygun</p> <p>4- Gazi Yaşargil</p> <p>Verilen nitelikli insan örneklerini yaptıkları çalışmalar ile eşleştiriniz.</p> <p>.....</p>	<p>a- (İlk cerrahi beyin ameliyatı yapan Profesör)</p> <p>b- (Ulusal Türk müziğinin kurucusu)</p> <p>c- (Çağdaş Türk tiyatrosunun kurucusu)</p> <p>d- (Ülkemize çay bitkisini kazandıran)</p>





S. NO	SORULAR	CEVAPLAR
4	<p>Nuri Demirağ, Türkiye Cumhuriyeti Devlet Demiryolları inşaatının ilk müteahhitlerindendir. Türkiye'nin 10 bin km'lik demiryolu ağının 1250 km'lik bölümünün inşasını gerçekleştirmiş ve Nuri Demirağ'a bu nedenle Mustafa Kemal Atatürk tarafından "Demirağ" soyadı verilmiştir. Cumhuriyet döneminin sayılı zenginleri arasına girmiş yeni fikirlere açık olması ve çalışkanlığı ile tanınmış bir iş adamıdır. Nuri Demirağ, Türkiye'de uçak fabrikasının kuruluşu, paraşüt üretimi gibi ilkleri gerçekleştirmiştir. Demirağ, demiryolu yapımı yanında büyük inşaat projeleri de gerçekleştirmiştir. Devrin en zengin iş adamı olan Nuri Demirağ, 1936 yılında Türkiye'nin ilk uçak fabrikasını kurmak için girişimlere başladı. O yıllarda ordunun uçak ihtiyacı halktan ve zengin işadamlarından toplanan bağışlarla karşılanıyordu. İstanbul'da fabrika inşa edildi. Deneme uçuşlarını yapabilmek için Yeşilköy'de arazi satın aldı. Bu alan, günümüzde Uluslararası İstanbul Atatürk Havalimanı olarak kullanılır. Uçakların planını Türkiye'nin ilk uçak mühendislerinden Selahattin Reşit Alan çizdi. 1936'da ilk tek motorlu uçak üretildi. İlk uçak siparişini 1938 yılında Türk Hava Kurumu (THK) verdi.</p> <p>1- Nuri Demirağ hangi alanlarda çalışmalar yapmıştır?</p> <p>2- Yaptığı çalışmalar ülke ekonomisine ne tür katkılar sağlamıştır?</p> <p>3- Nuri Demirağ hangi kişilik özelliklerine sahiptir?</p> <p>Metne göre soruları cevaplayınız.</p>	<p>1- * * * 2- * * * * 3- * * *</p>
5	<p>Nitelikli insanlar zamanı, kaynakları ve emeği israf etmezler. Geliştirdikleri yöntemler, kullandıkları araçlar onların ürünleri ve zamanı daha verimli kullanmalarını sağlar. Böylelikle nitelikli insanlar kendilerine ve çevrelerine daha fazla faydalı olurlar.</p> <p>Metinde nitelikli insanların hangi özelliği vurgulanmıştır?</p>	





S. NO	SORULAR	CEVAPLAR
6	<p>Tarihimizde nitelikli insan tanımına en uygun isimlerden birisi de Zihni Derin'dir. 1904 yılında Halkalı Ziraat Mektebinden (okulundan) mezun olan Zihni Derin bir dönem tarım bakanlığı da yapmış, kendisini tarıma adanmıştır. Tarım alanındaki gelişmeleri yakından takip eden Zihni Derin yenilikçi fikirleriyle dikkat çekmiştir. Yurt dışında yaptığı araştırmalar sonucunda çay üretimini Karadeniz'de denemiş ve başarılı olmuştur. Zihni Derin'in çay üretimi alanında yaptığı çalışmalar sonucunda ülkemiz çay ithal eden ülke konumundan çay ihraç eden ülke konumuna gelmiştir. Yaptığı çalışmalar milyonlarca insana ekmek kapısı olmuş, ülke ekonomisine can vermiştir.</p> <p>Metne göre Zihni Derin'in ülke ekonomisine katkılarını anlatan ifadeleri yazınız.</p>	<p>*</p> <p>*</p>
7	<p>İstanbul'da yaşayan ve iş yerine ulaşım için her gün metrobüsü kullanan genç bir mühendis, yaptığı buluş ile dikkatleri üstüne çekti. Metrobüslerin oluşturduğu rüzgârdan elektrik enerjisi üretme fikrini yetkililere ileten genç mühendis, yetkililerden aldığı olumlu cevapla çalışmalarına başladı. Hazırladığı sistem ile metrobüs güzergâhlarına kurulan türbinlerle yirmi bin haneye yetecek elektrik üretmeyi başardı. Ülkemizin elektriği çoğunu dışarıdan aldığı enerji kaynaklarından elde ettiği düşünüldüğünde genç mühendisin hazırladığı projenin önemi daha iyi anlaşılmaktadır. Bu projenin geliştirilip yaygınlaştırılması ülkede elektrik üretimindeki masrafları ve doğaya verilecek zararı daha da azaltacaktır. Genç mühendis ayrıca yeni projeler de üretmeye devam etmektedir. Depremi önceden haber verecek bir izleme istasyonu kurma düşüncesi bu projeler arasındadır.</p> <p>Metne göre genç mühendisin icat ettiği ürünlerin neler olduğunu yazınız.</p>	<p>*</p> <p>*</p>





6. SINIF SOSYAL BİLGİLER

5. ÜNİTE 6. KAZANIM AÇIK UÇLU SORULAR


YÖNERGE

**** Aşağıdaki açık uçlu soruların cevaplarını sorunun karşısındaki cevaplar yazan sütuna yazınız.

**** Birden çok cevabı olan sorular için numaralandırma yapılmıştır. Tüm numaralandırılan yerler doldurulmalıdır.


**** Sorular kolaylık ve takip açısından her kazanım için ayrı ayrı hazırlanmıştır.

KAZANIM: SB.6.5.6. İlgi duyduğu mesleklerin gerektirdiği kişilik özelliklerini, becerileri ve eğitim sürecini araştırır.

S. NO	SORULAR	CEVAPLAR
1	Bireyin hayatını devam ettirebilmek ve geçimini sağlamak için yaptığı işe verilen addır.	
2	 <p>Görselde ? işareti yerine hangi başlık yazılabilir?</p> <p>.....</p>	
3	<p>Örneğin, doktor olmak isteyen biri çabuk telaşlanmamalı, heyecana kapılmamalı ve soğukkanlı olmalıdır. Avukat olmak isteyen birinin ise ikna kabiliyetinin yüksek olması gerekirken, öğretmen olmak isteyen birinin sabırlı, anlayışlı ve şefkatli bir yapıya sahip olması gerekir. Aksi hâlde kişiler mesleklerini yaparken mutsuz olabilirler.</p> <p>Metinde verilen örneklerde meslek seçiminde olması gereken hangi kavramın önemi belirtilmiştir?</p>	





S. NO	SORULAR	CEVAPLAR
4	<p>Örneğin, çizim becerisi olmayan bir kişinin mühendislik mesleğinde, farklı olaylar arasında ilişki kuramayan birinin polislik mesleğinde başarılı olması zor olabilir.</p> <p>Metinde verilen örneklerde meslek seçiminde olması gereken hangi kavramın önemi belirtilmiştir?</p>	
5	 <p>Görselde ? işareti yerine hangi başlık yazılabilir?</p> <p>.....</p>	
6	<p>Örneğin, doktor olmak isteyenler tıp fakültesini, avukat olmak isteyenler hukuk fakültesini, öğretmen olmak isteyenler de eğitim fakültesini başarıyla tamamlamalıdır.</p> <p>Metinde verilen örneklerde meslek seçiminde olması gereken hangi kavramın önemi belirtilmiştir?</p>	
7	<p>Sevdiğin bir işi meslek edinirsen hayatında bir gün bile çalışmazsın.</p> <p style="text-align: right;">Konfüçyüs</p> <p>Konfüçyüs'e göre, hayatta yorulmamanın çözümü nedir?</p>	





@sosyalhocasimustafa



@sosyalhocasimustafakarakus

S. NO	SORULAR	CEVAPLAR
8	<p>1- Canlılara ve doğaya ilgisi olan bir kişi.....</p> <p>2- İkna kabiliyeti yüksek bir kişi.....</p> <p>Verilen özelliklere göre kişilerin yapabileceği mesleklere 3 er örnek yazınız.</p>	<p>1- *</p> <p>*</p> <p>*</p> <p>2- *</p> <p>*</p> <p>*</p>
9	<p>* <i>Halk Eğitim Merkezleri,</i></p> <p>* <i>Çok Amaçlı Toplum Merkezleri (ÇATOM),</i></p> <p>* <i>Konya Meslek Edindirme Kursları (KOMEK)</i></p> <p>Verilen kurumlar kişilere hangi alanda katkı sağlamaktadır?</p>	



@sosyalhocasimustafa



@sosyalhocasimustafakarakus



5. ÜNİTE AÇIK UÇLU SORULAR CEVAP ANAHTARI

5. ÜNİTE 1. KAZANIM CEVAP ANAHTARI			
S. NO	CEVAPLAR	S. NO	
1	<ul style="list-style-type: none"> * Yeryüzü şekillerinin çeşitlilik göstermesi * Üç farklı iklim tipinin görülmesi * Dört mevsimin belirgin olarak yaşanması, * Gelişmiş ulaşım ağının olması, * Yer altı ve yer üstü su kaynaklarının zenginliği, * Önemli geçiş yolları üzerinde bulunması 	13	Kümes hayvancılığı
2	<ul style="list-style-type: none"> * Topraklar * Sular * Ormanlar * Madenler 	14	Büyükbaş hayvancılık
3	Toprak	15	1- Küçükbaş hayvancılık 2- İpekböcekçiliği
4	İncir	16	Orman
5	Turunçgiller	17	Karadeniz
6	Tarım	18	Kaplıca
7	Tarım	19	Bor
8	1- Tarım 2- Turizm 3- Ormancılık 4- Sanayi	20	Demir
9	Seracılık	21	Tekstil (Dokuma)
10	Sulama sorununu çözmüştür.	22	Hizmet
11	Çay	23	Maden Tetkik Arama Enstitüsü (MTA) kurulmuştur.
12	Hayvancılık	24	Turizm





@sosyalhocasimustafa



@sosyalhocasimustafakarakus

5. ÜNİTE 2. KAZANIM CEVAP ANAHTARI

S. NO	CEVAPLAR	S. NO	
1	Yenilenemeyen (tükenebilir) enerji kaynakları	9	Dalga enerjisi
2	Yenilenebilen (tükenmeyen) enerji kaynakları	10	Doğal kaynakların sınırsız olmadığı tükenebileceği sonucuna ulaşılır.
3	Taşkömürü	11	Doğal kaynakların bilinçsiz kullanımı
4	Linyit	12	Hava kirliliği
5	* Akdeniz * Güneydoğu Anadolu	13	İnsan
6	Doğu Anadolu	14	1- Doğal gaz 2- Yenilenebilir enerji kaynakları 3- * Güneş enerjisi * Rüzgâr enerjisi * Hidroelektrik enerji * jeotermal enerji * Biyoenerji
7	Yenilenebilir (tükenmeyen) enerji kaynakları	15	Doğal kaynakların bilinçsizce tüketilmesidir.
8	Nükleer enerji		



@sosyalhocasimustafa



@sosyalhocasimustafakarakus



@sosyalhocasimustafa



@sosyalhocasimustafakarakus

5. ÜNİTE 3. KAZANIM CEVAP ANAHTARI

S. NO	CEVAPLAR	S. NO	
1	Girişimci	5	İç Anadolu
2	Ege	6	Rize
3	Karadeniz	7	Ülkemizde Yatırım Yapmak İçin Gerekli Olan Unsurlar
4	Doğu Anadolu	8	Antalya

5. ÜNİTE 4. KAZANIM CEVAP ANAHTARI

S. NO	CEVAPLAR	S. NO	
1	Vergi	5	Alışverişlerde fiş veya fatura almalıyız.
2	Herkesin ekonomik gücüne göre belirlenmiştir.	6	1- Eğitim 2- Sağlık 3- Savunma 4- Ulaşım
3	Vergi gelirlerini kullanır.	7	Alo maliye 189 hattına bildirebiliriz.
4	Vergi	8	KDV (Katma Değer Vergisi)



@sosyalhocasimustafa



@sosyalhocasimustafakarakus



5. ÜNİTE 5. KAZANIM CEVAP ANAHTARI

S. NO	CEVAPLAR	S. NO	
1	Nitelikli insan gücü	5	Zaman, malzeme, enerji ve emekten tasarruf etmesi vurgulanmıştır.
2	Nitelikli İnsan Gücünü Oluşturan Kişilerin Ortak Özellikleri	6	<p>* Çay üretimi alanında yaptığı çalışmalar sonucunda ülkemiz çay ithal eden ülke konumundan çay ihraç eden ülke konumuna gelmiştir.</p> <p>* Yaptığı çalışmalar milyonlarca insana ekmek kapısı olmuş, ülke ekonomisine can vermiştir.</p>
3	1-d, 2-c, 3-b, 4a	7	<p>*Metrobüslerin oluşturduğu rüzgârdan elektrik enerjisi üretme</p> <p>* Depremi önceden haber verecek bir izleme istasyonu kurma</p>
4	<p>1- * Ulaşım * Havacılık * Bina yapımı</p> <p>2- * Türkiye'nin 10 bin km'lik demiryolu ağının 1250 km'lik bölümünün inşasını gerçekleştirmiştir.</p> <p>* Demirağ, demiryolu yapımı yanında büyük inşaat projeleri de gerçekleştirmiştir.</p> <p>* 1936'da ilk tek motorlu uçak üretildi.</p> <p>3- * Girişimci * Yeni fikirlere açık * Çalışkan</p>		





@sosyalhocasimustafa



@sosyalhocasimustafakarakus

5. ÜNİTE 6. KAZANIM CEVAP ANAHTARI

S. NO	CEVAPLAR	S. NO	
1	Meslek	6	Eğitim
2	Meslek seçiminde dikkat edilmesi gereken unsurlar	7	Sevdiğin bir işi meslek edinmek
3	Kişisel özellikler	8	1- * Zoolog * Veteriner * Ziraat mühendisi 2- * Avukat * Politikacı * Gazeteci
4	Yetenek	9	Mesleki eğitim alanında katkı sağlamaktadır.
5	Meslek seçiminin aşamaları		



@sosyalhocasimustafa



@sosyalhocasimustafakarakus



@sosyalhocasimustafa



@sosyalhocasimustafakarakus

**DİĞER DERS İÇERİKLERİ İÇİN AŞAĞIDAKİ KANAL
LİNKLERİME TIKLAYINIZ.**

YOUTUBE ABONE OL LİNKİ:

<https://www.youtube.com/@sosyalhocasimustafa>

İNSTAGRAM HESABIM:

<https://www.instagram.com/sosyalhocasimustafa/>

TELEGRAM HESABIM:

<https://t.me/sosyalhocasimustafakarakus>

WHATSAPP HESABIM:

<https://whatsapp.com/channel/0029VaA9Dzy4o7qDiBoEdD0z>



@sosyalhocasimustafa



@sosyalhocasimustafakarakus