

# 6.SINIF

## SOSYAL BİLGİLER

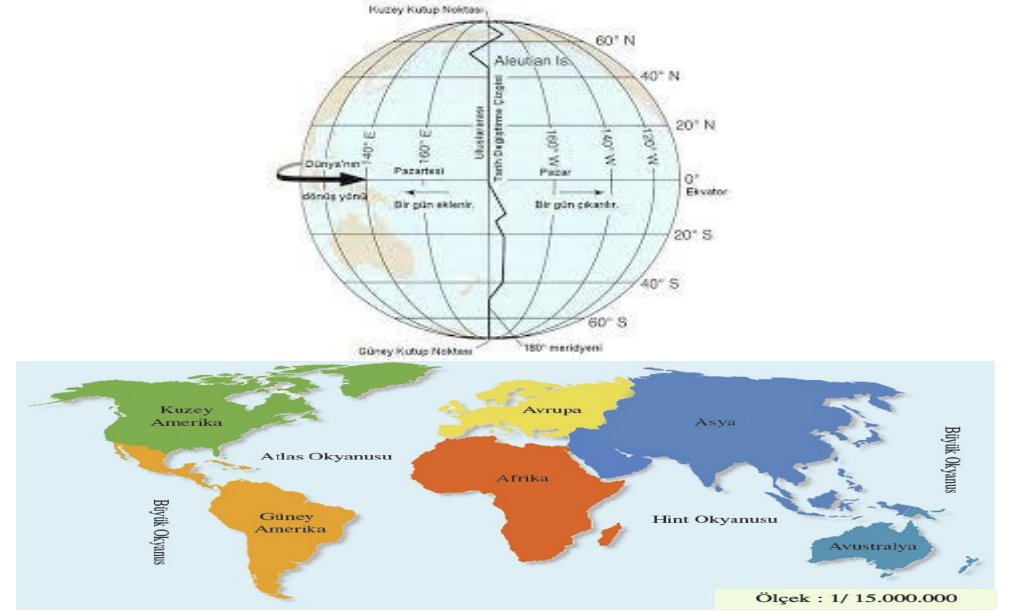


İbrahim Halil Hoca ile

SOSYAL BİLGİLER

GENEL TEKRAR

TESTLERİ



**NOT:** Bu test çeşitli sınavlarda çıkmış sorular, ÖDM soruları ve piyasadaki çeşitli sorulardan hazırlanmıştır. Kesinlikle ticarî amaç güdülmemiştir.

**1. Bir kişinin iş yerinde sekreter, evde anne, yardımlaşma kulübünde temsilci olabileceği düşünüldüğünde roller hakkında aşağıdakilerden hangisi söylenebilir?**

- A) Toplumda bireylerin farklı rolleri bulunur.
- B) Rollerin getirdiği sorumluluklar vardır.
- C) Rollerin tamamı doğuştan kazanılır.
- D) Roller kişilere haklar kazandırır.

**2. Bireylerin üstlendikleri roller değiştikçe kendilerinden beklenen davranışlar da değişmektedir. Üstlendiğimiz role uygun davranışlarda bulunmak ve farklı rollerin davranışlarını birbirine karıştırmamak büyük önem taşımaktadır.**

**Buna göre aşağıdakilerden hangisi 6. sınıfta okuyan Hasan Arif'in yerine getirmesi beklenen davranışlardandır?**

- A) Anne ve babasına ev işlerinde yardım etmek.
- B) Evin ihtiyaçlarının karşılanmasını takip etmek.
- C) Ailede alınan kararların uygulanmasını sağlamak.
- D) Ailesinin güvenilir bir ortama sahip olmasını sağlamak.

**3. Ortaokul 6. sınıf öğrencisi Ceylin, sabah okula gitmek için servise bindi. Servisteki arkadaşlarıyla sohbet ederek okuluna gitti. Sınıf Başkanı olarak sınıf düzenini sağlama görevini yerine getirdi. Teneffüs ziliyle okul kantinine giderek alışveriş yaptı. Okul çıkışı voleybol takımının antrenmanına katıldı. Antrenmandan sonra servise binip eve gitti.**

**Yukarıdaki paragrafta Ceylin'in üstlendiği hangi rolden bahsedilmemiştir?**

- A) Öğrenci
- B) Müşteri
- C) Yolcu
- D) Evlat

**4. Aşağıdakilerden hangisi milli kültürümüz içerisinde yer alan geleneksel Türk spor dallarından birisi değildir?**

- A) Güreş
- B) Atlı okçuluk
- C) Beyzbol
- D) Cirit atma

**5. Bilişim ve teknoloji alanında yaşanan gelişmelerin etkisiyle toplumlar arası etkileşim artmıştır. Bu gelişmenin etkilediği alanlardan birisi de mutfak kültürüdür. Beslenme kültürümüzde daha önce olmayan dondurulmuş hazır yemekler, sandviç, pizza, hazır makarna vb. yiyeceklerin tüketimi artmıştır.**

**Buna göre değişen beslenme alışkanlıkları, öncelikle aşağıdakilerden hangisini olumsuz etkiler?**

- A) Giyim-kuşamı
- B) Sağlığı
- C) Edebiyatı
- D) Sanat anlayışını

**6. Bir gün adamın biri, Nasreddin Hoca'ya bir mektup getirmiş. Mektup Frengistan diyarından gelmiş ve Frenkçe yazılıymış.**

Hoca mektubu almış, evirmiş çevirmiş, bakmış. Sonra adama:

-Ben bunu okuyamam, demiş.

Adam bunu duyunca kaşlarını çatmış:

-Yahu bir de hoca olacaksın, benden utanmıyorsan başındaki kavuktan utan, demiş.

Hoca bunu duyunca, kavuğu başından çıkarmış, adamın başına geçirmiş:

-Marifet kavuktaysa, al sen oku, demiş.

**Bu fıkrada Nasreddin Hoca'ya yapılan davranış aşağıdakilerden hangisiyle açıklanabilir?**

- A) Empati
- B) Sempati
- C) Sorumluluk
- D) Ön yargı

**7.** Okul bahçesinde arkadaşının yere çöp attığını gören Fatma “Yaşadığımız çevreyi temiz tutmak hepimizin görevidir. Bu konuda duyarlı olmalı ve örnek davranışlar sergilemeliyiz.” diyerek arkadaşını uyarmıştır.

**Buna göre Fatma ile ilgili aşağıdakilerden hangisine ulaşılabilir?**

- A) Sorumluluk sahibi bir öğrenci olduğuna
- B) Arkadaşları arasında sevildiğine
- C) Derslerinde başarı gösterdiğine
- D) Spor faaliyetlerinde görev aldığına

**8.** Her yıl 23 Nisan’da ülkemizde uluslararası kutlamalar düzenlenmektedir. Farklı ülkelerden gelen çocuklar, ülkemizde Türk ailelerinin yanında misafir edilmektedirler. Misafirler, 23 Nisan kutlamaları boyunca kendi kültürlerinden örnekler sergilerler.

**Verilen bu bilgiye göre aşağıdakilerden hangisi, 23 Nisan kutlamalarının toplumlar arasında sağlayacağı katkılardan olamaz?**

- A) Yeni arkadaşlıkların kurulması
- B) Millî kültürlerin benimsetilmesi
- C) Ülkeler arası dostlukların pekiştirilmesi
- D) Toplumlar arasında etkileşimin sağlanması

**9.** İlk Türk topluluklarında ölen kişi kıymetli eşyalarıyla beraber “kurgan” adı verilen mezarlara gömülürdü.

**Bu bilgiye göre ilk Türk topluluklarıyla ilgili aşağıdakilerden hangisi söylenebilir?**

- A) Yerleşik yaşama geçtikleri
- B) Savaşçılık özelliklerini kaybettikleri
- C) İdari teşkilatlanmada geliştikleri
- D) Ölümünden sonraki yaşama inandıkları

**10.** İlk Türk devletlerinde devlet işlerinin görüşüldüğü meclise ----- adı verilirdi.

**Bu cümlede boş bırakılan yere aşağıdakilerden hangisi getirilmelidir?**

- A) Kut
- B) Kurultay
- C) Kurgan
- D) Töre

**11.** (I) Çin, yöneticileri birbirine düşürdüğü, beyleri ve halkı birbirine karşı kıskırttığı için, Türk halkının ülke toprakları elinden çıkmış, Çin hükümdarına bağlanmış. (II) Daha sonra Tanrı, Türk halkı yok olmasın diye, millet olsun diye babam İlderis Kağanı, annem İlbiçe Hatun’u göndermiş. (III) Babam, ülkesiz ve hakansız kalmış olan halkı bir araya getirmiş. (IV) Babamın vefatından sonra amcam Kapgan Kağan ile atalarımızın, dedelerimizin sahip olduğu topraklardaki az halkı düzene sokup, örgütleyip halk hâline getirdik...

**Orhun Anıtları’ndan alınan numaralanmış bu cümlelerden hangisi “kut” anlayışını yansıtmaktadır?**

- A) I
- B) II
- C) III
- D) IV

**12.** Tonyukuk Abidesi’nde : “Türk milleti yok olmasın, millet olsun diye babam İlderis Kağan’ı, annem İl Bilge Hatun’u tanrı halk içinde seçip tahta çıkardı.” bilgisi yer almaktadır.

**Bu bilgiye göre aşağıdakilerden hangisine ulaşılamaz?**

- A) Tonyukuk Abidesi’nin Türk tarihine ait bilgi verdiği
- B) Türklerde, yöneticileri tanrının seçtiğine inanıldığı
- C) Türklerin çok tanrılı dinlere inandığı
- D) Hatun’un devlet yönetiminde yer aldığı

13.

- Hicrî takvimin kabulü
- Kudüs'ün alınması
- Devlet teşkilatının güçlendirilmesi

**Yukarıdaki gelişmeler hangi halife döneminde olmuştur?**

- A) Hz. Ömer                      B) Hz. Ebubekir  
C) Hz. Osman                      D) Hz. Ali

**14. Hangi halife döneminde Kur'an-ı Kerim çoğaltılarak önemli şehirlere gönderilmiştir?**

- A) Hz. Ali              B) Hz. Ömer              C) Hz. Ebubekir              D) Hz. Osman

**15. Abbasilerde Beytül Hikme'nin kuruluş amacı aşağıdakilerden hangisidir?**

- A) Askerî faaliyetleri denetlemek              B) Bilimsel araştırmalar yapmak  
C) Büyük davalara bakmak              D) Ulaşımı geliştirmek

**16. Karahanlılar, İslamiyet'i resmî din olarak benimsemiştir. Ancak İslamiyet öncesi döneme ait kut inancını, devletin hanedanın ortak malı sayılmasını ve ikili yönetim anlayışını devam ettirmişlerdir.**

**Buna göre Karahanlılar ile ilgili aşağıdakilerden hangisi söylenebilir?**

- A) Kültürel kimliklerini kaybetmişlerdir.  
B) Yöneticiler halk tarafından seçilmiştir.  
C) Hükümdarın yetkileri sınırlandırılmıştır.  
D) Türk devlet geleneğini sürdürmüşlerdir

**17. Kaşgarlı Mahmud tarafından Abbasi halifesine sunulan, Araplara Türk dilini öğretmek amacıyla yazılmış, birçok Türk lehçesine ait örnekler bulunan eser aşağıdakilerden hangisidir?**

- A) Kutadgu Bilig                      B) Dîvânü Lugâtî't Türk  
C) Divân-ı Hikmet                      D) Atabetü'l Hakâyık

18.

- I. Cami  
II. Kervansaray  
III. Medrese  
IV. Darüşşifa

**Yukarıdaki mimari eserlerden hangileri, Türklerin Müslüman olduğuna doğrudan kanıttır?**

- A) I ve II              B) I ve III              C) II ve IV              D) I, II, III ve IV

**19. Aşağıdakilerden hangisi Haçlı Seferlerinin "siyasi nedenlerinden" biridir?**

- A) Müslümanların elindeki kutsal yerleri alma düşüncesi  
B) Avrupalıların Hristiyanlığı yayma amacı  
C) Bizans'ın Türklere karşı Avrupalılardan yardım istemesi  
D) Doğu'nun zenginliklerini ele geçirme arzusu

**20. Aşağıdaki savaşlardan hangileri Anadolu'nun fethine yöneliktir?**

- I- Pasinler
- II- Dandanakan
- III- Malazgirt

A) Yalnız I      B) Yalnız II      C) I ve III      D) I ve II

**21. İpek Yolu, ülkelerin kültürel alanda da birbirlerinden etkilenmesine neden olmuştur. Buna göre,**

- I. Çinlilerin Türklerden ceket ve pantolon giymeyi öğrenmeleri
- II. Avrupalı tüccarların kervan ticareti yoluyla zenginleşmeleri
- III. Venedik, Ceneviz gibi liman kentlerinin gelişmesi

**gelişmelerinden hangileri kültürel etkileşime örnek olarak gösterilebilir?**

A) Yalnız I      B) Yalnız II      C) I ve II      D) I, II ve III

**22.**

-İpek yolu ticareti sayesinde Çinliler Türklerden ceket ve pantolon giymeyi öğrenmişlerdir.

-İpek yolu ticareti ile tüccarlar uğradıkları ülkelerin, şehirlerin ve köylerin yemeklerini, sanatlarını ve kıyafetlerini öğrenmişlerdir.

-Baharat yolu sayesinde pek çok millet baharatı tanımış ve nasıl kullanıldığını öğrenmiştir.

**Yukarıdaki örneklerden hareketle ticaret yollarının toplumlara etkisi aşağıdakilerden hangisidir?**

- A) Kültürel yozlaşmaya neden olması.
- B) Kültürel etkileşimi sağlaması.
- C) Ticari ilişkileri canlandırması.
- D) Ekonomik kazançlar sağlaması

**23.**

Hiz. Ebubekir: İç karışıklıklar bastırılmış, devletin parçalanması önlenmiştir. Bizans orduları mağlup edilmiştir. Kur'an-ı Kerim kitap hâline getirilmiştir.

Hiz. Ömer: Devletin sınırları hızla genişlemiştir. Teşkilatlanma çalışmalarına önem verilmiştir.

Hiz. Osman: Kur'an-ı Kerim çoğaltılmıştır. İlk İslam donanması oluşturulmuştur. Bizans donanması deniz savaşında mağlup edilmiştir.

Hiz. Ali: İslam toplumu içerisindeki karışıklıkları önlemeye çalışmıştır.

**Verilen bilgilere göre,**

I. Fetih politikasına önem verilmiştir.

II. Kur'an-ı Kerim'in özgün hali korunmak istenmiştir.

III. Zaman zaman toplumsal sorunlar yaşanmıştır.

IV. Devletin sınırları üç kıtaya yayılmıştır.

**yargılarından hangilerine ulaşılabilir?**

A) Yalnız I      B) II ve III      C) I, II ve III      D) I, II ve IV

Türklerin devletlerinde şekillenmiş, geçim kaynakları gelişmiştir.	ana yurdu Orta Asya'da kurulan ilk Türk devletlerinde coğrafyanın etkisi ile bozkır kültürü görülmüştür. En önemli edebiyat çok
--	---

**24. Yukarıda Türk devletlerinin hangi alandaki özelliklerinden bahsedilmemiştir?**

- A) Coğrafi
- B) Siyasi
- C) Ekonomik
- D) Kültürel

25.

- Türkiye, 360 - 420 Kuzey paralelleri ile 260 - 450 Doğu meridyenleri arasında yer alır.
- Türkiye, Kuzey Yarım Kürede ve Başlangıç Meridyeninin doğusunda bulunmaktadır.

**Buna göre aşağıdakilerden hangisi ile ilgili bilgi verilmiştir?**

- A) Türkiye'nin özel konumuyla      B) Türkiye'nin stratejik önemiyle  
C) Türkiye'nin matematik konumuyla      D) Türkiye'nin Dünya üzerindeki önemiyle

26. Akdeniz Bölgesi'nde;

- Seracılık faaliyetleri gelişmiştir.
- Muz tarımı yaygındır.
- Turuncgil gibi fazla gelir getiren meyveler yetiştirilir.

**Akdeniz Bölgesi'nde verilen tarım ürünlerinin yetiştirilmesinde aşağıdakilerden hangisi daha etkili olmaktadır?**

- A) Toprak yapısı      B) Yeryüzü şekilleri  
C) İklim şartları      D) Ulaşım imkânları

27. Ülkemizde orman alanlarının yoğun olduğu yerlerde ormancılık faaliyetleri gelişmiştir. Özellikle mobilya ve kağıt fabrikalarının kurulması ülke ekonomisine katkı sağlamıştır. Özellikle ham maddeye yakınlık ürünün daha uygun fiyata mal edilmesini ve rekabet imkânı sağlamaktadır.


**Verilen bilgilere göre mobilya ve kağıt fabrikalarının haritadaki yerlerden hangisinde kurulması beklenmez?**

- A) Bolu      B) Konya      C) Muğla      D) Kastamonu

28. Ben Asya Kıtası'nın küçük bir ülkesi olan Bangladeş'te yaşıyorum. Pirinç çok sulu toprakta yetiştiği için yağmurun yağmasını dört gözle bekliyoruz. Ancak bazen çok fazla yağış, hayatımızı olumsuz etkiliyor.

**Verilen bilgilere göre aşağıdakilerden hangisine ulaşılamaz?**

- A) Bangladeş'in Asya Kıtası'nda yer aldığına  
B) Ülkede pirinç dışında tarımsal üretim yapılmadığına  
C) Pirinç üretimindeki verimin yağışlara bağlı olduğuna  
D) Aşırı yağışların insan hayatını olumsuz etkilediğine



29. Yukarıdaki görselde mavi renk ile işaretlenen alanın kordinat sistemine göre yerini aşağıdakilerden hangisi tanımlar?

- A) 30°- 40° güney paralelleri ile 40° - 50° batı meridyenleri  
B) 30°- 40° kuzey paralelleri ile 40° - 50° doğu meridyenleri  
C) 40°- 50° kuzey paralelleri ile 30° - 40° batı meridyenleri  
D) 40°- 50° güney paralelleri ile 30° - 40° doğu meridyenleri



**30.** Yukarıdaki haritada ülkemizin mutlak konum değerleri gösterilmiştir.

Buna göre Türkiye;

- I. Başlangıç meridyeninin batısında yer alır,
- II. Ekvatora göre kuzeydedir,
- III. Dağların güney yamaçları daha çok güneş alır,

**bilgilerinden hangilerine ulaşılabilir?**

- A) II ve III
- B) I ve II
- C) I, II ve III
- D) I ve III

**31.** Aşağıdakilerden hangisi Türkiye'nin göreceli konumunun sonuçlarından değildir?

- A) Akdeniz'den Karadeniz'e doğru sıcaklık azalır.
- B) Yer altı kaynakları bakımından zengindir.
- C) Batıdan doğuya doğru yükselti artar.
- D) Üç tarafı denizlerle çevrilidir.

**32.** Renklendirme yöntemiyle hazırlanan fizikî haritalarda renkler yükselti basamağını gösterir.

Aşağıda verilen şehirlerden hangisi harita üzerinde diğerlerine göre farklı bir renk ile ifade edilir?

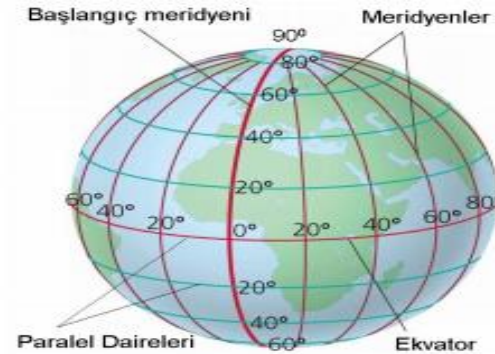
- A) Antalya
- B) İzmir
- C) Rize
- D) Sivas

**33.**

- I. İklim
- II. Turizm
- III. Toprak
- IV. Sanayi

Yukarıda verilen özelliklerden hangileri nüfusun yeryüzünde dağılışına etki eden doğal faktörlerdendir?

- A) Yalnız I
- B) I ve III
- C) II ve III
- D) II ve IV



**34.** Yukarıda verilen şekle bakılarak paralel ve meridyenler ile ilgili aşağıdakilerden hangisine ulaşamaz?

- A) Meridyenlerin boylarının kutuplara doğru küçüldüğüne
- B) Paralellerin, Ekvator'a paralel olarak uzandıklarına
- C) Paralellerin boylarının kutuplara doğru küçüldüğüne
- D) Meridyenlerin kutup noktalarında birleştiğine

Grace Muthony (Greys Mutoni) Anlatıyor...

Ganalı birçok kadın gibi kırsal bir bölgede küçük bir çiftlikte yaşıyorum. Lahana, patates, muz, şeker kamışı gibi ürünler yetiştiriyorum. İhtiyacımdan fazla olan ürünleri kasaba pazarında satıyorum. Yıl boyunca hem sıcaklık hem de yağış fazladır. Bizde yaz, kış, ilkbahar ve sonbahar gibi mevsimler yoktur. Ülkemde sürekli yaz mevsimi yaşandığı için kışlık giysiye ve yakacağa ihtiyacımız olmuyor.

**35. Grace Muthony'in verdiği bilgilerde iklimin aşağıdaki hangi etkisine değinilmemiştir?**

- A) Konut yapımına B) Giyecek ve yiyeceğe  
C) Ekonomik faaliyetlere D) Tarım ürünü çeşitliliğine

**36.** Günümüzde yasal yollar dışında çoğaltılan ve satılan kitap, CD, kaset, bilgisayar yazılımı gibi bandrolsüz ürünleri ifade eder.

**Verilmiş olan tanımlama aşağıdakilerden hangisi için yapılır?**

- A) Barkod B) Telif C) Korsan D) Patent

**37.** “Osmanlı Devleti 1. Dünya Savaşı’nda 22 Aralık 1914’te Rusya üzerine Sarıkamış harekâtı düzenlemişti. Amaç bölgedeki Rus tehlikesini ortadan kaldırmaktı. Askerlerimiz, harekâtın başında başarı göstermiş olsa da devamında yazlık kıyafetleri ile hava sıcaklığının - 40° olduğu, dağların yükseltisinin 4000 metreyi bulduğu bölgede, kış şartlarının dikkate alınmaması sonucu bir gecede yaklaşık 20 bin askerimiz mermi dahi atamadan donarak şehit olmuştur.”

**Öğrencilerine bu bilgileri veren Ebru Öğretmen’in sözleri aşağıda verilen bilim dallarından hangileri ile ilişkili olabilir?**

- A) Tarih - Arkeoloji B) Coğrafya - Sosyoloji  
C) Tarih - Sosyoloji D) Tarih - Coğrafya

- DNA haritası araştırması sayesinde 2015 yılında Nobel Kimya Ödülü’nü aldı.

- Cerrahi mikroskop kullanarak ilk beyin bypass ameliyatını gerçekleştirdi. ‘Yüzyılın beyin cerrahı’ seçildi.

- TÜBİTAK ulusal gözlemevinin açılmasına öncülük etmiş, astronomi bilimine büyük katkılar sunmuş bir astronomdur.

**38. Verilen bilgilerle aşağıda adı geçen bilim insanları eşleştirildiğinde hangi bilim insanı dışarıda kalır?**

- A) Cahit ARF B) Nükhet GÖKDOĞAN C) Aziz SANCAR D) Gazi YAŞARGİL

**39.** Bir araştırma yaparken kullanılan kaynakların listelendiği bölüme “kaynakça” denir.

**Aşağıdakilerden hangisi kaynakça belirtmenin öncelikli nedenidir?**

- A) Araştırma yapacak olan diğer insanlara yol göstermek.  
B) Araştırmayı belgeye dayandırarak güvenilir kılmak.  
C) Bilgisinden yararlanılan kişilerin emeğine saygı göstermek.  
D) Araştırma içeriğini zenginleştirmek.

**40.** “ Çöpleri özelliklerine göre ayrıştırıp geri dönüşümünü sağlayarak çevre kirliliğini önleriz” cümlesini kuran bir kişi bilimsel araştırma basamaklarından hangisinden söz ediyordur?

- A) Konuyu belirlemek B) Problemi ortaya koymak  
C) Hipotezin belirlenmesi D) Kaynak taraması yapmak

**41.** Sosyal Bilgiler öğretmeni öğrencilerinin bilimsel araştırma basamaklarına uygun bir araştırma yapmalarını söylemiştir.

**Buna göre öğrencilerin ilk olarak aşağıdaki basamaklardan hangisini yapması gerekir?**

- A) Konuyu belirlemeleri
- B) Süreyi belirlemeleri
- C) Kaynak taraması yapmaları
- D) Mevcut bilgileri derlemeleri



Buğday, ülkemizde Karadeniz'in kıyı kesimleri hariç her yerde yetiştirilebilmektedir. Konya Ovası, buğday üretiminde önemli bir yere sahiptir.

**42.** Buna göre Konya Ovası civarında;

- I. Bisküvi,
- II. Deri,
- III. Dokuma,
- IV. Makarna

**sektörlerinden hangilerinin gelişmesi beklenir?**

- A) I ve II
- B) I ve IV
- C) II ve III
- D) III ve IV

**43.**

- Bozkır bitki örtüsünün bulunduğu kurak ve yarı kurak alanlarda yaygın olarak yapılır.
- Bitki çeşitliliğinin zengin olduğu dağlık yerlerde yapılır.
- Ülkemizin denize kıyısı olan yerleri ile akarsu ve göllerde yapılır.

**Verilen özellikler ile aşağıdaki hayvancılık faaliyetleri eşleştirildiğinde hangisi dışarıda kalır?**

- A) Büyükbaş Hayvancılık
- B) Arıcılık
- C) Küçükbaş Hayvancılık
- D) Balıkçılık

**44. Aşağıdaki hangi madenlerden hangilerinde ülkemizin dışa bağımlılığı (ithal etme) daha fazladır?**

- A) Taşkömürü-Linyit
- B) Petrol-Linyit
- C) Doğalgaz-Taşkömürü
- D) Doğalgaz-Petrol

**45.** Enerji kaynakları yenilenebilir (kaynağından yeni bir enerji üretilen) ve yenilenemeyen (kaynağından enerji kaynağı üretilmeyen) enerji kaynakları olarak iki gruba ayrılır.

**Yukarıdaki açıklamaya göre aşağıdakilerden hangisi farklı bir grupta yer alır?**

- A) Petrol
- B) Doğalgaz
- C) Uranyum
- D) Güneş

**46. Aşağıda, meslek seçimleri ile ilgili bazı örnekler verilmiştir.**

- Sekizinci sınıfa giden Çağatay, spora olan ilgisi nedeni ile spor lisesine kayıt yaptırmak istemektedir. Ancak babası, akademik kariyer yapmasını istediği Çağatay'ı Anadolu Lisesine kaydettirmiştir.
- Üniversite sınavına giren Ece, keşifçi bir ruha sahiptir ve gök cisimlerine ilgi duymaktadır. Bu nedenle uzay mühendisliği bölümü okumak istemektedir. Ancak annesi, kendisi doktor olmadığı için kızının tıp fakültesini tercih etmesi konusunda ısrarcı davranmıştır.
- Çok iyi resim yapmasına ve ressam olarak sergiler açma hayali kurmasına rağmen Zeynep, öğretmenleri ve arkadaşları tarafından daha çok gelir getiren bir meslek seçmesi için yönlendirilmiştir.

**Verilen örneklerde, meslek seçiminde dikkat edilmesi gereken hangi unsur göz ardı edilmiştir?**

- A) Bizi iyi tanıyan yakın çevremizin düşünceleri önceliklidir.
- B) Yapılan işin ekonomik getirisi yüksek olmalıdır.
- C) İyi bir meslek edinebilmek için eğitim almak gereklidir.
- D) Kişisel özellikler, yetenekler ve ilgiler dikkate alınmalıdır.

Ülke ekonomisinin büyük bir bölümünü vergiler oluşturmaktadır. Yıllık hizmet bütçesinin yaklaşık %85'ini vergilerde elde edilen gelirler oluşturmaktadır. Eğer vergiler zamanında ve eksiksiz toplanırsa devletin yapacağı hizmetlerde bir aksama olmaz.

**47. Buna göre aşağıdakilerden hangisi vergisini zamanında ödemeyen insanların olduğu toplumda karşılaşılabileceğimiz sorunlardan değildir?**

- A) Sağlık hizmetlerinde aksamalar yaşanır.
- B) Ülke kalkınır, yollar, köprüler, okullar yapılır.
- C) Ulaşımda ve haberleşmede kesintiler olur.
- D) Sık sık altyapı hataları ile karşı karşıya kalınır.

**48. Karadeniz Bölgesinin coğrafi özelliklerini dikkate alarak hazırlayacağımız bir yatırım projesinde aşağıdakilerden hangisi yer almamalıdır?**

- A) Fındık ihracatı yapan şirket kurmak
- B) Çay işleme tesisi açmak
- C) Makarna fabrikası kurmak
- D) Kereste fabrikası kurmak



**49. Öğrencilerin hakkında bilgi verdiği maden aşağıdakilerden hangisidir?**

- A) Bakır
- B) Linyit
- C) Bor
- D) Demir

**50. Üretim, dağıtım, tüketim aşamaları düşünüldüğünde aşağıdakilerden hangisi yanlıştır?**

- A) İç Anadolu Bölgesi'nde tahıl tarımının yapılması üretimdir.
- B) Söke un fabrikasında üretilen unun marketlere gönderilmesi üretimdir.
- C) Emel öğretmenin marketten aldığı makarnayı akşam yemeği için hazırlaması tüketimdir.
- D) Akdeniz Bölgesi'nde seracılığın yapılması üretimdir.

**Genel tekrar testimiz bitmiştir. Başarılar dilerim...**