

ONUR AKMEŞE

2012-2021

# ÇIKMIŞ SORULAR

## 6. Sınıf

Bu çalışma son 10 yıl içerisinde MEB tarafından BURSLULUK sınavlarında sorulan 210 soruyu kapsamaktadır. 10 farklı sınavdan derlenmiştir.

Müfredat değişiklikleriyle kaldırılan kazanımlardaki sorular şuan yer alan en yakın kazanıma eklenmiştir. Yakın bir kazanım yok ise soru kullanılmamıştır.

# Sosyal Bilgiler



[www.akmeseonur.com](http://www.akmeseonur.com)



@akmese.onur

@sosyal\_bilgiler\_zumresi2021



**Daha Fazla Ücretsiz İçerik İçin;**

**Web: [www.akmeseonur.com](http://www.akmeseonur.com)**

**Youtube: [Onur AKMEŞE-ZGA Yayınları](https://www.youtube.com/channel/UCkMESE-ZGA)**

**Instagram: [@akmese.onur](https://www.instagram.com/akmese.onur)**

**Instagram: [@sosyal bilgiler zumresi2021](https://www.instagram.com/sosyal_bilgiler_zumresi2021)**



**YouTube**



**Kitaplarımız ile ilgili bilgi ve sipariş için;**

**[www.zgayayinlari.com](http://www.zgayayinlari.com)**

**Whatsapp: 0 850 30 83 ZGA (942)**

**Yukarıdaki bağlantıların üzerine tıklayarak sitelere ulaşabilirsiniz.**



**8. SINIF SORU BANKAMIZ**

**ZÜMRELERİN  
GÜCÜ  
ADINA  
YAYINLARI**



**8. SINIF 30'LU DENEMEMİZ**

**2022-2023 Eğitim Öğretim Döneminde 6. ve 7. Sınıf Sosyal Bilgiler Soru Bankalarımız ile SİZLERLEYİZ.**



## BİREY VE TOPLUM



# 1.ÜNİTE



**BU ÜNİTEDEN 2012 YILINDAN  
2021 YILINA KADAR YAPILAN  
10 SINAVDA TOPLAM  
19 SORU ÇIKMIŞTIR.**

**1.SOSYAL ROLLERİN ZAMAN İÇERİSİNDEKİ DEĞİŞİMİNİ İNCELER.**

**2.SOSYAL, KÜLTÜREL VE TARİHİ BAĞLARIN TOPLUMSAL BİRLİKTELİĞİN OLUŞMASINDAKİ YERİNİ VE ROLÜNÜ ANALİZ EDER.**

**3.TOPLUMDA UYUM İÇERİSİNDE YAŞAYABİLMEK İÇİN FARKLILIKLARA YÖNELİK ÖN YARGILARI SORGULAR.**

**4.TOPLUMSAL BİRLİKTELİĞİN OLUŞMASINDA SOSYAL YARDIMLAŞMA VE DAYANIŞMAYI DESTEKLEYİCİ FAALİYETLERE KATILIR.**

**5.BİR SORUNA GETİRİLEN ÇÖZÜMLERİN HAK, SORUMLULUK VE ÖZGÜRLÜKLER TEMELİNDE OLMASI GEREKTİĞİNİ SAVUNUR.**



**@akmese.onur**

**@sosyal\_bilgiler\_zumresi2021**

## BU KAZANIMDAN SON 10 YILDA 1 SORU SORULMUŞTUR.

1

Birey olarak dünyaya geldiğimiz andan itibaren çeşitli roller üstleniriz. Rollerimizin bir kısmı doğuştan sahip olduğumuz rollerdir. Bunları seçme olanağımız yoktur. Bu roller biyolojik özelliklerimizden kaynaklanan, herhangi bir ilgi ve yetenek gerektirmeyen rollerimizdir.

**Buna göre aşağıdakilerden hangisi doğuştan sahip olduğumuz rollerden biridir?**

- A) Başkan  
B) Kaptan  
C) Pilot  
D) Evlat





**KAZANIM 1: SOSYAL ROLLERİN ZAMAN İÇERİSİNDEKİ DEĞİŞİMİNİ İNCELER.**

**BU KAZANIMDAN SON 10 YILDA 1 SORU SORULMUŞTUR.**

### **CEVAP ANAHTARI**

1-D

2-

3-

4-

5-

6-

7-



@akmese.onur

@sosyal\_bilgiler\_zumresi2021

**SADECE SOSYAL BİLGİLER ÖĞRETMENLERİNİN YER ALDIĞI WHATSAP GRUPLARIMIZDAN BİRİNE KATILMAK İÇİN MAIL ATABİLİRSİNİZ.**

**onurakmese16@gmail.com**

Daha Fazlası İçin Tıkla

**[www.akmeseonur.com](http://www.akmeseonur.com)**



**BU KAZANIMDAN SON 10 YILDA 8 SORU SORULMUŞTUR.**

1

Aşağıdaki ifadelerle Türk kültürünü oluşturan öğelerden hangisi yanlış eşleştirilmiştir?

	İfadeler	Türk Kültürünü Oluşturan Öğeler
A)	Yiyecek, giyecek, el sanatları, spor müsabakaları gibi bizi bir araya getirip ortak duygularda buluşmamızı sağlar.	Din
B)	Düğün merasimleri dost ve akrabaların bir araya toplanmasını sağlar.	Gelenek ve görenekler
C)	Çanakkale Zaferi'nde milletçe destan yazdık.	Tarih
D)	Birliğimizi ve dirliğimizi sağlayan önemli iletişim aracıdır.	Dil

2

“Toplumun tüm kesimlerinin bir su teknesinin başında, bir araya gelebileceğinin ispatıdır.” cümlesinde ebru sanatının hangi özelliği vurgulanmaktadır?

- A) Ekonomiye katkı sağlaması
- B) Zor bir sanat olması
- C) Birleştirici olması
- D) Millî özellikler taşıması

3

Konuşulan dil, inanç, gündelik hayat ve toplumun geçmişten günümüze kadar geçirdiği ortak yaşantı millî kültürü oluşturmaktadır.

Bu bilgide millî kültür ile ilgili aşağıdakilerden hangisine değnilmemiştir?

- A) Ekonomik faaliyetleri etkilediğine
- B) Oluşumunun uzun zaman aldığına
- C) Birden fazla unsurdan oluştuğuna
- D) Nesilden nesile aktarıldığına

4

“Hiçbir millet, aynen diğer bir milletin taklitçisi olmamalıdır. Çünkü böyle bir millet, ne taklit ettiği milletin aynısı olabilir, ne kendi milliyeti içinde kalabilir.”

Atatürk bu sözleriyle aşağıdakilerden hangisinin önemini vurgulamıştır?

- A) Demokrasi bilincini geliştirmenin
- B) Millî kültüre sahip çıkmanın
- C) Saygı ve hoşgörü ortamı oluşturmanın
- D) Bilimsel gelişmeleri desteklemenin

5

Atatürk'ün bilimsel çalışmalarda kullanılmasını istediği dil, aşağıdakilerden hangisidir?

- A) Türkçe
- B) İngilizce
- C) Fransızca
- D) Arapça



**BU KAZANIMDAN SON 10 YILDA 8 SORU SORULMUŞTUR.**

6

Türk dili alanında da bilimsel çalışmalar yapan Atatürk, bir sözcüğün kökeninin nereden geldiğini bulunca; “Uzun bir çalışmadan sonra bunu keşfettiğim zaman, Sakarya Muharebesi’ni kazandığım dakikadaki memnuniyeti duydum.” demiştir.

Bu sözden, Atatürk’ün bilime verdiği öneme ilişkin çıkarılabilecek en genel yargı, aşağıdakilerden hangisidir?

- A) Dil alanındaki çalışmaları desteklemiştir.
- B) Doğru bilgi için detaylı araştırmalar yapmıştır.
- C) Türk dilinin gelişmesi için çaba göstermiştir.
- D) Dil çalışmalarındaki başarıyı savaşta zafer kadar önemli bulmuştur.

7

“... Bu iki ulusal kurumun, tarihimizin ve dilimizin; karanlıklar içinde unutulmuş derinliklerini, dünya kültüründe başlangıcı temsil ettiklerini, kabul edilebilir bilimsel belgelerle ortaya koydukça yalnız Türk ulusunun değil, bütün bilim dünyasının ilgisini ve uyanmasını sağlayan, kutsal bir görev yapmakta olduklarını güvenle söyleyebilirim...”

ATATÜRK

Atatürk’ün bu sözüyle övdüğü kurumlar, aşağıdakilerin hangisinde birlikte verilmiştir?

- A) Türk Dil Kurumu - Anadolu Ajansı
- B) Türk Dil Kurumu - Türk Tarih Kurumu
- C) Türk Tarih Kurumu - Güzel Sanatlar Akademisi
- D) Dil ve Tarih - Coğrafya Fakültesi - Türk Hava Kurumu

8

Atatürk, Türk tarihinin bilimsel yöntemlerle araştırılması ve bu konularda çalışmalar yapılması için Türk Tarih Kurumunun açılmasına öncülük etmiş ve çalışmalara bizzat katılmıştır.

Buna göre Atatürk’le ilgili aşağıdakilerden hangisi söylenebilir?

- A) Sosyal bilimlerin gelişmesine önem gösterdiği
- B) Ekonomik ve askerî gelişmelere öncelik verdiği
- C) Türk dilinin gelişmesi için çalıştığı
- D) Teknolojik gelişmeleri desteklediği





**KAZANIM 2:** SOSYAL, KÜLTÜREL VE TARİHİ BAĞLARIN TOPLUMSAL BİRLİKTELİĞİN OLUŞMASINDAKİ YERİNİ VE ROLÜNÜ ANALİZ EDER.



**BU KAZANIMDAN SON 10 YILDA 8 SORU SORULMUŞTUR.**

### CEVAP ANAHTARI

1-A 8-C

2-C

3-A

4-B

5-A

6-D

7-B



@akmese.onur

@sosyal\_bilgiler\_zumresi2021

**SADECE SOSYAL BİLGİLER ÖĞRETMENLERİNİN YER ALDIĞI WHATSAP GRUPLARIMIZDAN BİRİNE KATILMAK İÇİN MAIL ATABİLİRSİNİZ.**

**onurakmese16@gmail.com**

Daha Fazlası İçin Tıkla

[www.akmeseonur.com](http://www.akmeseonur.com)



**BU KAZANIMDAN SON 10 YILDA 1 SORU SORULMUŞTUR.**

1

Bir grubun bütün üyelerine yönelik abartılan, genelleştirilen olumlu veya olumsuz değerlendirmelere kalıp yargı adı verilir.

**Buna göre aşağıdakilerden hangisi kalıp yargıya örnektir?**

- A) Erkekler yemek pişirmez.
- B) Bu sene kesin bizim takım şampiyon olacak.
- C) Bu problemi Mehmet'ten başkası çözemez.
- D) Eminim ki bugün yine okula geç kalacak.







**KAZANIM 3:** TOPLUMDA UYUM İÇERİSİNDE YAŞAYABİLMEK İÇİN FARKLILIKLARA YÖNELİK ÖN YARGILARI SORGULAR.



**BU KAZANIMDAN SON 10 YILDA 1 SORU SORULMUŞTUR.**

### CEVAP ANAHTARI

1-A

2-

3-

4-

5-

6-

7-



@akmese.onur

@sosyal\_bilgiler\_zumresi2021

**SADECE SOSYAL BİLGİLER ÖĞRETMENLERİNİN YER ALDIĞI WHATSAP GRUPLARIMIZDAN BİRİNE KATILMAK İÇİN MAIL ATABİLİRSİNİZ.**

**onurakmese16@gmail.com**

Daha Fazlası İçin Tıkla

[www.akmeseonur.com](http://www.akmeseonur.com)



**BU KAZANIMDAN SON 10 YILDA 4 SORU SORULMUŞTUR.**

1

Aşağıdakilerden hangisi yardımlaşma ve dayanışmanın faydalarından biri değildir?

- A) Toplumsal barışa katkı sağlar.
- B) Birlik ve beraberliği güçlendirir.
- C) Kardeşlik ve dostluk duygularını geliştirir.
- D) Beyin göçüne neden olur.

2

Atatürk Ortaokulu öğretmen ve öğrencileri, ihtiyaç sahiplerine destek olmak amacıyla bir bağış kampanyası düzenlemişlerdir.

Bu durum aşağıdakilerden hangisine örnek gösterilebilir?

- A) Dürüstlüğü
- B) Yardımlaşma ve dayanışmaya
- C) Misafirperverliğe
- D) Adalete

3

“Baş başa vermeyince taş yerinden kalkmaz.” atasözü aşağıdakilerden hangisine verilen önemi vurgulamaktadır?

- A) Cömertlik
- B) Merhamet
- C) Yardımlaşma
- D) Hoşgörü

4

Altıncı sınıf öğrencisi Tuğçe, yaşadığı çevreyi temiz tutmaya özen göstermekte ve okulda kurulan çevre kulübü faaliyetlerindeki görevlerini zamanında yapmaktadır.

Buna göre Tuğçe'nin davranışları aşağıdaki kavramlardan hangisine örnektir?

- A) Hak
- B) Özgürlük
- C) Ön yargı
- D) Sorumluluk





**KAZANIM 4:** TOPLUMSAL BİRLİKTELİĞİN OLUŞMASINDA SOSYAL YARDIMLAŞMA VE DAYANIŞMAYI DESTEKLEYİCİ FAALİYETLERE KATILIR.



**BU KAZANIMDAN SON 10 YILDA 4 SORU SORULMUŞTUR.**

### CEVAP ANAHTARI

1-D

2-B

3-C

4-D

5-

6-

7-



@akmese.onur

@sosyal\_bilgiler\_zumresi2021

**SADECE SOSYAL BİLGİLER ÖĞRETMENLERİNİN YER ALDIĞI WHATSAP GRUPLARIMIZDAN BİRİNE KATILMAK İÇİN MAIL ATABİLİRSİNİZ.**

**onurakmese16@gmail.com**

Daha Fazlası İçin Tıkla

[www.akmeseonur.com](http://www.akmeseonur.com)



**BU KAZANIMDAN SON 10 YILDA 5 SORU SORULMUŞTUR.**

1

Sinan Bey, mağazadan yeni aldığı botların hatalı üretildiğini fark etmiştir.

Bu durumda Sinan Bey, öncelikle aşağıdaki davranışlardan hangisini yapmalıdır?

- A) Botları tamire götürmelidir.
- B) Dilekçe ile valiliğe şikâyetle bulunmalıdır.
- C) Ürün ile birlikte mağazaya gitmelidir.
- D) Tüketici Sorunları Hakem Heyeti'ne başvurmalıdır.

2

Bizim ülkemizde düşünce özgürlüğü anayasayla güvence altına alınmıştır.



Melek

Ama bu özgürlüğün kullanılması suçların önlenmesi, suçluların cezalandırılması, başkalarının özel ve aile hayatlarının korunması gibi durumlarda sınırlandırılabilir.



Harun

Bu konuşmada Harun, Melek'i aşağıda verilen hangi konuda uyarmaktadır?

- A) Özgürlüklerin gerekli durumlarda kısıtlanabileceği
- B) Demokratik toplumlarda tüm insanların eşit olduğu
- C) Her düşünceye saygılı olunması gerektiği
- D) Temel hakların vazgeçilmez olduğu

3

- (1) Selim Bey sokağın çok karanlık olduğunu fark ederek çantasından el fenerini çıkarıp yolunu bulmaya çalıştı. (2) Okuldan evlerine dönmeye çalışan çocuklara yardım etti. (3) Sabah muhtara giderek işini ihmal ettiğini söyledi ve muhtarla tartıştı. (4) Daha sonra belediyeye gidip durumu anlatan bir dilekçe yazdı ve dilekçeyi yetkililere teslim etti.

Selim Bey, yaşadığı soruna çözüm ararken numaralanmış cümlelerin hangisinde haklarını kullanmıştır?

- A) 1. B) 2. C) 3. D) 4.

4

Vatandaşlar kendileriyle veya kamu ile ilgili dilek ve şikâyetleri hakkında, yetkili makamlara yazı ile başvurma hakkına sahiptir.

Bu hak aşağıdakilerden hangisidir?

- A) Sağlık B) Yaşama
- C) Dilekçe D) Çalışma

5

Hak ve özgürlüklerimiz Anayasamız tarafından güvence altına alınmıştır. Ancak bizim de hak ve özgürlükler konusunda yerine getirmemiz gereken çeşitli sorumluluklarımız bulunmaktadır.

Buna göre aşağıdaki sorumluluklardan hangisi eğitim hakkı ile ilişkilidir?

- A) Doktorun verdiği ilaçları zamanında kullanma
- B) Okul kurallarına uyarak düzenli ders çalışma
- C) Evdeki çöpleri belirtilen saatte dışarı çıkarma
- D) Karşıdan karşıya geçerken trafik kurallarına uyma



**KAZANIM 5:** BİR SORUNA GETİRİLEN ÇÖZÜMLERİN HAK, SORUMLULUK VE ÖZGÜRLÜKLER  
TEMELİNDE OLMASI GEREKTİĞİNİ SAVUNUR.

**BU KAZANIMDAN SON 10 YILDA 5 SORU SORULMUŞTUR.**

### CEVAP ANAHTARI

1-C

2-A

3-D

4-C

5-B

6-

7-



@akmese.onur

@sosyal\_bilgiler\_zumresi2021

**SADECE SOSYAL BİLGİLER ÖĞRETMENLERİNİN YER ALDIĞI WHATSAP  
GRUPLARIMIZDAN BİRİNE KATILMAK İÇİN MAIL ATABİLİRSİNİZ.**

**onurakmese16@gmail.com**

Daha Fazlası İçin Tıkla

[www.akmeseonur.com](http://www.akmeseonur.com)







## KÜLTÜR VE MİRAS



# 2.ÜNİTE



**BU ÜNİTEDEN 2012 YILINDAN  
2021 YILINA KADAR YAPILAN  
10 SINAVDA TOPLAM  
60 SORU ÇIKMIŞTIR.**

1. ORTA ASYA'DA KURULAN İLK TÜRK DEVLETLERİNİN COĞRAFİ, SİYASAL, EKONOMİK VE KÜLTÜREL ÖZELLİKLERİNE İLİŞKİN ÇIKARIMLARDA BULUNUR.
2. İSLAMİYET'İN ORTAYA ÇIKIŞINI VE BERABERİNDE GETİRDİĞİ DEĞİŞİMLERİ YORUMLAR.
3. TÜRKLERİN İSLAMİYET'İ KABULLERİ İLE BİRLİKTE SİYASİ, SOSYAL VE KÜLTÜREL ALANLARDA MEYDANA GELEN DEĞİŞİMLERİ FARK EDER.
4. TÜRKLERİN ANADOLU'YU YURT EDİNME SÜRECİNİ XI VE XIII. YÜZYILLAR KAPSAMINDA ANALİZ EDER.
5. TARİHİ TİCARET YOLLARININ TOPLUMLAR ARASI SİYASİ, KÜLTÜREL VE EKONOMİK İLİŞKİLERDEKİ ROLÜNÜ AÇIKLAR.



@akmese.onur

@sosyal\_bilgiler\_zumresi2021

**BU KAZANIMDAN SON 10 YILDA 29 SORU SORULMUŞTUR.**

1

Türk milleti! Kendine gel, aklını başına devşir! İtaatsizliğin yüzünden, seni kalkındırmış bilgili kağanına ve zenginleşmiş, kalkınmış güzel yurduna karşı kendin yanıldın, kötülük getirdin.

**Bu metne göre Bilge Kağan Türk milletine aşağıdakilerden hangisini öğütlemektedir?**

- A) Dürüstlüğü B) Çalışkanlığı  
C) Devlete bağlılığı D) Hoşgörüyü

2

“Yapılan arkeolojik kazılarda Altay bölgesinde Hunlar zamanında açılmış sulama kanallarına rastlanmıştır. Kök Türkler zamanında da kullanıldığı anlaşılan Tötü Kanalı'nın boyu 10 km'ye yakındı ve o kadar yüksek teknik bilgiye dayanmakta idi ki Ruslar 1935 yılında bu kanalı aynen kullanmaya devam ettiler.”

İbrahim Kafesoğlu

**Bu bilgiye göre Tötü Kanalı'nın kullanılması Kök Türklerin hangisiyle uğraştıklarına kanıt olarak gösterilebilir?**

- A) Ticaret B) Tarım  
C) Sanayi D) Madencilik

3

“Hun sanatının temeli konargöçer yaşam tarzına dayanır.” **diyen bir tarihçiye göre aşağıdaki eserlerden hangisinin bu döneme ait olması beklenemez?**

- A) Pazırık halısı B) Demir savaş aletleri  
C) Deri çizmeler D) Dinî tapınaklar

4

Uygur ülkesi ile Çin arasında sayıları altmış sekize ulaşan gümrük kapıları açılmış, bu kapılara atlarla gıda maddeleri getirilmiştir. Satılan mal üzerinden gümrük vergisi alınması bir düzene bağlanmıştır.

**Bu bilgiye göre Uygurlarla ilgili olarak aşağıdakilerden hangisi söylenebilir?**

- A) Uygur ekonomisinde ticaretin büyük bir payı olmuştur.  
B) Çin kültürü ve inançları Uygurları derinden etkilemiştir.  
C) Uygurlar her zaman Çinlilerle barış içinde yaşamışlardır.  
D) Çinliler Uygurlara canlı hayvan ve ipek satmışlardır.

5

**Kağanlığın Tanrı tarafından verilen bir görev olarak görüldüğü ve kan yoluyla babadan oğula geçtiğine inanılan anlayış aşağıdakilerden hangisidir?**

- A) Kut B) Gök Tanrı  
C) Töre D) Yuğ



**BU KAZANIMDAN SON 10 YILDA 29 SORU SORULMUŞTUR.**

6

**Türk ordu teşkilatındaki onlu sistem ilk defa hangi Türk hükümdarı tarafından uygulanmıştır?**

- A) Satuk Buğra Han      B) Tuğrul Bey  
C) Bilge Kağan      D) Mete Han

7

Uygurlar; Hunlar ve Kök Türklerden farklı olarak - - - -

**Bu cümle aşağıdakilerden hangisiyle tamamlanmalıdır?**

- A) yerleşik hayata geçmişlerdir.  
B) Orta Asya'da kurulmuşlardır.  
C) Çin'le ilişki içinde olmuşlardır.  
D) Türk boylarını yönetimleri altında toplamışlardır.

8

- I. Bilge Kağan  
II. Kültigin  
III. Oğuz Kağan

**Orhun Kitabeleri yukarıdaki devlet adamlarından hangileri adına yazılmıştır?**

- A) Yalnız I      B) Yalnız II  
C) I ve II.      D) II ve III.

9

(I) Çin, yöneticileri birbirine düşürdüğü, beyleri ve halkı birbirine karşı kışkırttığı için, Türk halkının ülke toprakları elinden çıkmış, Çin hükümdarına bağlanmış. (II) Daha sonra Gök Tanrı, Türk halkı yok olmasın diye, millet olsun diye babam İlteriş Kağanı, annem İlbilge Hatun'u göndermiş. (III) Babam, ülkesiz ve hakansız kalmış olan halkı bir araya getirmiş. (IV) Babamın vefatından sonra amcam Kapgan Kağan ile atalarımızın, dedelerimizin sahip olduğu topraklardaki az halkı düzene sokup, örgütleyip halk hâline getirdik...

**Orhun Anıtları'ndan alınan numaralanmış bu cümlelerden hangisi "kut" anlayışını yansıtmaktadır?**

- A) I      B) II      C) III      D) IV

10

**Kavimler Göçü'nün aşağıdaki sonuçlarından hangisi göçün kültürel etkileşime neden olduğuna kanıttır?**

- A) Avrupa'da Türk ordu sisteminin benimsenmesi  
B) Roma İmparatorluğu'nun "Batı" ve "Doğu" olarak ikiye ayrılması  
C) İlk Çağ'ın sona erip Orta Çağ'ın başlaması  
D) Hunların, Avrupa Hun Devleti'ni kurması



**BU KAZANIMDAN SON 10 YILDA 29 SORU SORULMUŞTUR.**

11

“ ... Oğuz Kağan büyük kurultayı topladı. Büyük bir ziyafet verdi. Ülkesini oğulları arasında bölüştürdü...”

**Oğuz Kağan Destanı'ndan yapılan bu alıntıya göre ilk Türk devletleri devlet yönetiminde aşağıdaki anlayışlardan hangisini benimsemiştir?**

- A) Ordu - millet işbirliğinin sağlanması
- B) Ülkenin hükümdar ailesinin ortak malı sayılması
- C) Devlet yönetiminde hakan eşlerinin söz sahibi olması
- D) Hükümdara devlet yönetme yetkisinin tanrı tarafından verilmesi

12

İlk Türk devletlerinde devlet işlerinin görüşüldüğü meclise - - - - adı verilirdi.

**Bu cümlede boş bırakılan yere aşağıdakilerden hangisi getirilmelidir?**

- A) kut
- B) kurultay
- C) kurgan
- D) töre

13

**Orta Asya Türk devletlerinde görülen aşağıdaki durumlardan hangisi coğrafi şartların bir sonucudur?**

- A) Ülkenin hükümdar ailesinin ortak malı sayılması
- B) Gök Tanrı inancına sahip olunması
- C) Kut anlayışının benimsenmesi
- D) Hayvancılıkla uğraşılması

14

Türk devletlerinde hükümdar öldüğünde hanedadaki tüm erkek üyelerin başa geçme hakkı vardı.

**Aşağıdakilerden hangisi verilen bu durumun bir sonucudur?**

- A) Kara ticaretinin gelişmesi
- B) Taht kavgalarının çıkması
- C) Sözlü edebiyatın oluşması
- D) Halkın boylar hâlinde yaşaması

15

**Çok sayıda ulusun tarihî kaynaklarında Türklerle ilgili bilgilere rastlanması durumu, aşağıdakilerden hangisiyle açıklanabilir?**

- A) Türk boy ve hanlıklar arasındaki siyasi çekişmelerle
- B) İslamiyet'i kabul ederek Müslüman olmalarıyla
- C) Çinlilerle uzun yıllar mücadele etmeleriyle
- D) Yeni ülkeler fethetmeleriyle

16

**İlk Türk devletlerinden Kök Türklerde Orhun Anıtları'nın ve Ergenekon Destanı'nın varlığı, onların aşağıdaki alanların hangisinde ürünler verdiklerini kanıtlar?**

- A) Din
- B) İktisat
- C) Kültür
- D) Astronomi





**BU KAZANIMDAN SON 10 YILDA 29 SORU SORULMUŞTUR.**

17

Uygurlar, surlarla çevirdikleri şehirlerde saraylar, tapınaklar, evler ve dükkânlar inşa etmişlerdir. Kaynaklarda, başkent Karabalasagun şehrinin demirden yapılmış on iki büyük kapısından söz edilmektedir. Başka bir kaynakta da Uygurların, topraklarından geçen bir nehrin yönünü değiştirerek kanallarla bahçelerini ve tarlalarını suladıkları, buralarda her türlü tahıl yetiştirdikleri anlatılmaktadır.

Verilen parçadan Uygurlarla ilgili aşağıdaki yargılardan hangileri çıkarılabilir?

- I- Yerleşik yaşam sürmüşlerdir.
- II- Mimari alanda gelişmişlerdir.
- III- Yaşamlarında tarım önemli bir yer tutmaktadır.
- IV- Doğal şartlara boyun eğmişlerdir.

- A) I ve III
- B) II ve IV
- C) I, II ve III
- D) I, II, III ve IV

18

Orhun Abideleri günümüzde hangi ülke sınırları içerisinde?

- A) Rusya
- B) Hindistan
- C) İran
- D) Moğolistan

19

Uygurlardan günümüze; mal edinme, satış protokolü, iş sözleşmeleri, ortaklık kurma, vakıfnameler, vasiyetnameler, ipotek senetleri gibi çeşitli belgeler kalmıştır.

Bu bilgiye göre Uygurlarla ilgili olarak, aşağıdakilerden hangisi söylenebilir?

- A) Askerliği kanunlarla düzenlemişlerdir.
- B) Sanatın geliştirilmesine özel bir önem vermişlerdir.
- C) Uygurlar, İlk Çağ Anadolu uygarlıklarındandır.
- D) Yönetim anlayışlarında hukuki düzenlemelerin önemli bir yeri vardır.

20

Orta Asya'da kurulmuş olan ilk Türk devletlerinde;

- I- taşınabilir sanat eserlerinin yapılması,
- II- hayvancılığın temel geçim kaynağı olması,
- III- insanların savaşçı ve mücadeleci bir yapıya sahip olması

durumlarından hangilerinin oluşumunda coğrafi şartların etkili olduğu söylenebilir?

- A) Yalnız I
- B) I ve II
- C) II ve III
- D) I, II ve III





**BU KAZANIMDAN SON 10 YILDA 29 SORU SORULMUŞTUR.**

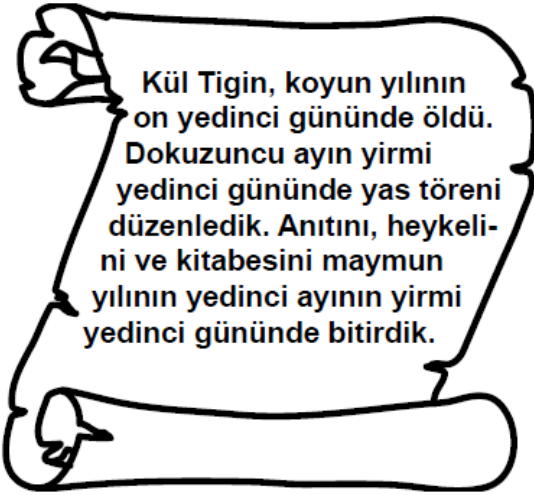
21

Kök Türkler, yılın belirli zamanlarında kutladıkları bayram ve şöenlerde tanrı adına kurbanlar keserek beraberce eğlenirlerdi. Bu kutlamalarda şarkılar söylerler, çeşitli yarışmalar düzenlerlerdi. En sevilen ve beğenilen yarışma ise at yarışlarıydı.

Verilen parçaya göre, Türklerin yaptıkları bu faaliyetlerde, aşağıdaki kültür unsurlarından hangisine ait bir örnek yoktur?

- A) Dil
- B) Din
- C) Spor
- D) Yönetim

22



Orhun Kitabelerinden alınan bu parçadan Kök Türklerle ilgili, aşağıdaki bilgilerden hangisine ulaşamaz?

- A) Uygurlar tarafından yıkıldıklarına
- B) Taş işçiliğiyle uğraştıklarına
- C) Cenazeleri için tören düzenlediklerine
- D) 12 Hayvanlı Türk Takvimi'ni kullandıklarına

23

Orta Asya'da Türkler, yazın su ve otlak alanların bol olduğu yaylaklarda, kışın ise hayvanları için daha elverişli olan kışlaklarda yaşarlardı.

Bu durum Türklerin aşağıdakilerden hangisini benimsediğini gösterir?

- A) İkili yönetim sistemini
- B) Konargöçer yaşam biçimini
- C) Ordu-millet anlayışını
- D) Sosyal devlet düşüncesini

24

Hun hükümdarı Mete Han'ın aşağıdaki faaliyetlerinden hangisi Hun ekonomisini güçlendirmeye yöneliktir?

- A) Dağınık halde yaşayan Türkleri bir çatı altında toplaması
- B) Orduda ilk defa onlu sistemi kurması
- C) Çinlilere karşı Türk millî kültürünü korumaya çalışması
- D) Ticari önemi olan İpek Yolu'nun denetimini ele geçirmesi



**BU KAZANIMDAN SON 10 YILDA 29 SORU SORULMUŞTUR.**

25

Aşağıdakilerden hangisi Orta Asya'da Türklerin konargöçer bir yaşam sürdürdüklerine kanıt olarak gösterilebilir?

- A) Devleti ikili sistemle yönetmeleri
- B) Vatan sevgisinin gelişmiş olması
- C) Taşınabilir eşyalar kullanmaları
- D) Çinliler ile savaşlar yapmaları

26

Orta Asya'da yaşayan Türkler, ekip biçme zamanını ve göç tarihlerini belirlemek için gök ile ilgili olaylara bakarak "On İki Hayvanlı Türk Takvimi"ni oluşturmuşlardır. Bu sayede zamanı sistemli hâlde kullanmaya başlamışlardır.

Buna göre Türkler ile ilgili aşağıdakilerden hangisi söylenebilir?

- A) Gök Tanrı inancını benimsemişlerdir.
- B) Astronomi alanında çalışmalar yapmışlardır.
- C) Askerî alanda ilerlemişlerdir.
- D) Madencilikle uğraşmışlardır.

27

İlk Türk devletlerinde önemli meselelerin görüşüldüğü danışma meclisine ne ad verilmiştir?

- A) Kurultay
- B) Sagu
- C) Kut
- D) Budun

28

İlk Türk topluluklarında ölen kişi kıymetli eşyalarıyla beraber "kurgan" adı verilen mezarlara gömülürdü.

Bu bilgiye göre ilk Türk topluluklarıyla ilgili aşağıdakilerden hangisi söylenebilir?

- A) Yerleşik yaşama geçtikleri
- B) Savaşçılık özelliklerini kaybettikleri
- C) İdari teşkilatlanmada geliştikleri
- D) Ölümden sonraki yaşama inandıkları

29

Altay Dağları eteklerindeki Pazırık kurganından çıkarılan ve dünyanın en eski halılarının biri olan Pazırık Halısı'nın, Asya Hun Türklerine ait olduğu kabul edilmektedir.

Buna göre Asya Hun Türkleri ile ilgili aşağıdakilerden hangisi söylenebilir?

- A) Madencilikte geliştikleri
- B) Tarımla uğraştıkları
- C) Dokumacılıkla ilgilendikleri
- D) Ticaret sayesinde zenginleştikleri



**KAZANIM 6:** ORTA ASYA'DA KURULAN İLK TÜRK DEVLETLERİNİN COĞRAFİ, SİYASAL, EKONOMİK VE KÜLTÜREL ÖZELLİKLERİNE İLİŞKİN ÇIKARIMLARDA BULUNUR.

**BU KAZANIMDAN SON 10 YILDA 29 SORU SORULMUŞTUR.**

### CEVAP ANAHTARI

1-C	8-C	15-D	22-A	29-C
2-B	9-B	16-C	23-B	
3-D	10-A	17-C	24-D	
4-A	11-B	18-D	25-C	
5-A	12-B	19-D	26-B	
6-D	13-D	20-D	27-A	
7-A	14-B	21-D	28-D	



@akmese.onur

@sosyal\_bilgiler\_zumresi2021

**SADECE SOSYAL BİLGİLER ÖĞRETMENLERİNİN YER ALDIĞI WHATSAP GRUPLARIMIZDAN BİRİNE KATILMAK İÇİN MAIL ATABİLİRSİNİZ.**

**onurakmese16@gmail.com**

Daha Fazlası İçin Tıkla

[www.akmeseonur.com](http://www.akmeseonur.com)



**BU KAZANIMDAN SON 10 YILDA 12 SORU SORULMUŞTUR.**

1

Müslümanlarla Mekkeli müşrikler arasında yapılan Bedir Savaşı'nı, Müslümanlar kazandı. Savaş sırasında ele geçirilen esirlere, Müslümanlara okuma yazma öğretmeleri şart koşuldu. Müslümanlara okuma yazma öğreten esirler serbest bırakıldı.

**Bu durum İslamiyet'in aşağıdakilerden hangisine verdiği önemi gösterir?**

- A) Mimariye B) Orduya  
C) Eğitime D) Ekonomiye

2

**Abbasilerde Beytül Hikme'nin kuruluş amacı aşağıdakilerden hangisidir?**

- A) Askerî faaliyetleri denetlemek  
B) Bilimsel araştırmalar yapmak  
C) Büyük davalara bakmak  
D) Ulaşımı geliştirmek

3

Hiz. Ömer Dönemi'nde sınırların genişlemesinden dolayı ülke illere ayrılmış ve bu illere valiler atanmıştır.

**Bu uygulamanın temel amacı aşağıdakilerden hangisidir?**

- A) Devlet yönetimini kolaylaştırmak  
B) Ordunun güçlenmesini sağlamak  
C) Tarımsal üretimi yaygınlaştırmak  
D) Hazine gelirlerini artırmak

4

1. Mekke'nin fethi  
2. Hudeybiye Antlaşması  
3. Bedir Savaşı  
4. Hicret

**Numaralanmış olaylar, oluş sırasına göre aşağıdakilerin hangisinde doğru olarak verilmiştir?**

- A) 4 - 3 - 2 - 1 B) 2 - 1 - 4 - 3  
C) 3 - 2 - 1 - 4 D) 1 - 4 - 3 - 2

5

**Medine Sözleşmesi'nin "Müslüman ve Yahudi topluluklar barış içerisinde yaşayacaklardır ve inançlarını yaşamakta serbest olacaklardır." maddesinde aşağıdaki temel hak ve özgürlüklerden hangisi korunmaya çalışılmıştır?**

- A) Mülkiyet hakkı  
B) Eğitim hakkı  
C) Din ve vicdan hürriyeti  
D) Seyahat hürriyeti

6

**Hangi halife döneminde Kur'an-ı Kerim çoğaltılarak önemli şehirlere gönderilmiştir?**

- A) Hz. Ali B) Hz. Ömer  
C) Hz. Ebubekir D) Hz. Osman





**BU KAZANIMDAN SON 10 YILDA 12 SORU SORULMUŞTUR.**

7

- Arap'ın Arap olmayana üstünlüğü yoktur.
- Kan davaları tamamen kaldırılmıştır.
- Haksızlığa boyun eğilmesine karşı gelinmiştir.

Bu kararlar aşağıdakilerden hangisinden alınmıştır?

- A) Magna Carta
- B) Veda Hutbesi
- C) Kanun-i Esasi
- D) İnsan Hakları Bildirgesi

8

**Hiz. Osman Dönemi'nde;**

- Kıbrıs, Bizans'tan alındı.
- Halkının bir bölümü Türk olan Horasan bölgesinin fethine başlandı.
- Kur'an-ı Kerim çoğaltılarak önemli şehirlere gönderildi.

Bu bilgilere göre, Hiz. Osman Dönemi ile ilgili olarak aşağıdakilerden hangisi söylenemez?

- A) İslam donanması kurulmuştur.
- B) İslam Devleti'nin sınırları genişlemiştir.
- C) Müslümanlar Akdeniz'e hâkim olmuştur.
- D) İslamiyet, Arap Yarımadası'nın dışında yayılmaya başlamıştır.

9

"Bir Arap'ın Arap olmayana, Arap olmayanın da bir Arap'a üstünlüğü yoktur."

**Hiz. Muhammed'in bu ifadesi demokrasinin aşağıdaki hangi ilkesiyle ilgilidir?**

- A) Hürriyet
- B) Eşitlik
- C) Katılımcılık
- D) Millî egemenlik

10



I



II

İslam tarihinde halifeler, yaptıkları faaliyetler ve yönetimde gösterdikleri davranışlardan dolayı, kişilikleri, bazı sembollerle özdeşleşmiştir.

Buna göre, yukarıdaki görsellerin İslam halifeleriyle doğru eşleştirilmesi, aşağıdakilerin hangisinde sırasıyla yapılmıştır?

- |                   |                |
|-------------------|----------------|
| I                 | II             |
| A) Hiz. Ali       | Hiz. Osman     |
| B) Hiz. Ömer      | Hiz. Ebu Bekir |
| C) Hiz. Osman     | Hiz. Ömer      |
| D) Hiz. Ebu Bekir | Hiz. Ali       |

11

Hiz. Muhammed, Veda Hutbesi'nde insanlara; "Kimse başkasının suçundan dolayı sorumlu tutulamaz." diye öğütte bulunmuştur.

Bu öğüt ile aşağıdakilerden hangisine vurgu yapılmıştır?

- A) Suçun şahsiliğine
- B) Düşünce özgürlüğüne
- C) Yargının bağımsızlığına
- D) Mülkiyet dokunulmazlığına

12

**Aşağıdaki gelişmelerden hangileri Hiz. Muhammed Dönemi'ne aittir?**

- I- Hicret
- II- İran'ın fethi
- III- Bedir Savaşı
- IV- Kur'an'ın çoğaltılması

- A) I ve II
- B) II ve III
- C) III ve IV
- D) I ve III





**KAZANIM 7: İSLAMİYET'İN ORTAYA ÇIKIŞINI VE BERABERİNDE GETİRDİĞİ DEĞİŞİMLERİ YORUMLAR.**

**BU KAZANIMDAN SON 10 YILDA 12 SORU SORULMUŞTUR.**

**CEVAP ANAHTARI**

- |     |      |
|-----|------|
| 1-C | 8-C  |
| 2-B | 9-B  |
| 3-A | 10-B |
| 4-A | 11-A |
| 5-C | 12-D |
| 6-D | 13-  |
| 7-B | 14-  |



@akmese.onur

@sosyal\_bilgiler\_zumresi2021

**SADECE SOSYAL BİLGİLER ÖĞRETMENLERİNİN YER ALDIĞI WHATSAP GRUPLARIMIZDAN BİRİNE KATILMAK İÇİN MAIL ATABİLİRSİNİZ.**

**onurakmese16@gmail.com**

Daha Fazlası İçin Tıkla

[www.akmeseonur.com](http://www.akmeseonur.com)



**BU KAZANIMDAN SON 10 YILDA 8 SORU SORULMUŞTUR.**

1

- I. Cami
- II. Kervansaray
- III. Medrese
- IV. Darüşşifa

Yukarıdaki mimari eserlerden hangileri, Türklerin Müslüman olduğuna doğrudan kanıttır?

- A) I ve II
- B) I ve III
- C) II ve IV
- D) I, II, III ve IV

2

Türkler hangi savaştan sonra kitleler hâlinde Müslüman olmuşlardır?

- A) Bedir
- B) Talas
- C) Malazgirt
- D) Pasinler

3

Kaşgarlı Mahmud tarafından Abbasi halifesine sunulan, Araplara Türk dilini öğretmek amacıyla yazılmış, birçok Türk lehçesine ait örnekler bulunan eser aşağıdakilerden hangisidir?

- A) Kutadgu Bilig
- B) Dîvânü Lugâti't Türk
- C) Divân-ı Hikmet
- D) Atabetü'l Hakâyık

4

“Divan-ı Lügatit Türk” adlı eser, aşağıdakilerden hangisi tarafından yazılmıştır?

- A) Firdevsi
- B) Nizamülmülk
- C) Kaşgarlı Mahmut
- D) Yusuf Has Hacıp

5

Karahanlılar, İslamiyet’i resmî din olarak benimsemiştir. Ancak İslamiyet öncesi döneme ait kut inancını, devletin hanedanının ortak malı sayılmasını ve ikili yönetim anlayışını devam ettirmişlerdir.

Buna göre Karahanlılar ile ilgili aşağıdakilerden hangisi söylenebilir?

- A) Kültürel kimliklerini kaybetmişlerdir.
- B) Yöneticiler halk tarafından seçilmiştir.
- C) Hükümdarın yetkileri sınırlandırılmıştır.
- D) Türk devlet geleneğini sürdürmüşlerdir.



**BU KAZANIMDAN SON 10 YILDA 8 SORU SORULMUŞTUR.**

6

Türk - İslam mimarisinde, cami çevresinde oluşan okul, kütüphane, aşevi, hamam gibi eserlerden meydana gelen yapılara ..... adı verilir.

Cümlede boş bırakılan yere aşağıdakilerden hangisi yazılmalıdır?

- |            |              |
|------------|--------------|
| A) Külliye | B) Ribat     |
| C) İmaret  | D) Darüşşifa |

7

“Yönetici; akıllı, bilgili ve adil olmalıdır. Cesur ve tedbirli davranmalıdır. Halkını ve ülkesini koruyabilmesi için iyi, merhametli, gözü tok, sabırlı, alçak gönüllü, şefkatli, sakin tabiatlı ve yumuşak huylu olmalıdır. Yönetici adaletle iş görmelidir.”

“Kutadgu Bilig” adlı eserinde, hükümdara bu şekilde öğüt veren Türk büyüğü, aşağıdakilerden hangisidir?

- |                    |                    |
|--------------------|--------------------|
| A) Yunus Emre      | B) Ahmet Yesevî    |
| C) Kaşgarlı Mahmut | D) Yusuf Has Hacib |

8

Türk kültüründe görülen,

- 12 hayvanlı Türk takviminin yanında Hicri takviminin de kullanılmaya başlanması
- Hutbe okutmanın hükümdarlık sembolleri arasına girmesi

gibi değişikliklerin, aşağıdaki alanların hangisinde yaşanan değişimin sonucu olduğu söylenebilir?

- |          |           |
|----------|-----------|
| A) Din   | B) Hukuk  |
| C) Sanat | D) Mimari |





**KAZANIM 8:** TÜRKLERİN İSLAMİYET'İ KABULLERİ İLE BİRLİKTE SİYASİ, SOSYAL VE KÜLTÜREL ALANLARDA MEYDANA GELEN DEĞİŞİMLERİ FARK EDER.



**BU KAZANIMDAN SON 10 YILDA 8 SORU SORULMUŞTUR.**

### CEVAP ANAHTARI

- 1-B      8-A  
2-B  
3-B  
4-C  
5-D  
6-A  
7-C



@akmese.onur

@sosyal\_bilgiler\_zumresi2021

**SADECE SOSYAL BİLGİLER ÖĞRETMENLERİNİN YER ALDIĞI WHATSAP GRUPLARIMIZDAN BİRİNE KATILMAK İÇİN MAIL ATABİLİRSİNİZ.**

**onurakmese16@gmail.com**

Daha Fazlası İçin Tıkla

[www.akmeseonur.com](http://www.akmeseonur.com)



**BU KAZANIMDAN SON 10 YILDA 10 SORU SORULMUŞTUR.**

1

Türkiye Selçuklu Devleti'nde kervansaraylar aşağıdakilerden hangisini geliştirmek amacıyla yapılmıştır?

- A) Eğitimi B) Ticareti  
C) Sanatı D) Hukuku

2

Türkiye Selçuklu Devleti Dönemi'nde darüşşifa veya şifahane adı verilen yapıların inşa edilmesi aşağıdakilerden hangisine verilen önemi gösterir?

- A) Askerliğe B) Ekonomiye  
C) Sağlığa D) Sanata

3

Aşağıdakilerden hangisi Haçlı Seferlerinin "siyasi nedenlerinden" biridir?

- A) Müslümanların elindeki kutsal yerleri alma düşüncesi  
B) Avrupalıların Hristiyanlığı yayma amacı  
C) Bizans'ın Türklere karşı Avrupalılardan yardım istemesi  
D) Doğu'nun zenginliklerini ele geçirme arzusu

4

Malazgirt Savaşı ile Anadolu'ya giren Türkler, fethettikleri yerlerde kervansaray, medrese, cami, han, külliye gibi yapılar inşa ederek kalıcı eserler bıraktılar. Anadolu'da ticaret yapan tüccarların konaklayabileceği kervansaraylar sayesinde yolların güvenliğini sağladılar. Medreselerde bilim ve sanata önem vererek Caca Bey, El Cezeri gibi bilim insanları ve Ahi Evran, Mevlana gibi düşünürlerin yetişmesini sağladılar.

Buna göre Anadolu'yu yurt edinen Türkler ile ilgili olarak aşağıdakilerden hangisi söylenemez?

- A) İmar faaliyetlerine önem vermişlerdir.  
B) Ticaretin gelişmesini sağlamışlardır.  
C) İlmî çalışmaları desteklemişlerdir.  
D) Yazılı hukuk kuralları oluşturmuşlardır.

5

Malazgirt Savaşı'nda Bizans ordusunu yenilgiye uğratarak Anadolu kapılarını Türklere açan Selçuklu hükümdarı aşağıdakilerden hangisidir?

- A) Melikşah  
B) Tuğrul Bey  
C) Alparslan  
D) Sultan Sencer



**BU KAZANIMDAN SON 10 YILDA 10 SORU SORULMUŞTUR.**

6

“Ey askerlerim!  
Eğer şehid olursam bu beyaz elbise kefenim olsun. O zaman ruhum göklere çıkacaktır. Melikşah'ı yerime tahta çıkarınız ve ona bağlı kalınız. Zaferi kazanırsak önümüzde çok güzel günler olacaktır.”

**Bu konuşmayı aşağıdakilerden hangisi yapmıştır?**

- A) Nizamülmülk B) Tuğrul Bey  
C) Alparslan D) Gazneli Mahmut

7

**Kervansaraylar aşağıdakilerden hangisini geliştirmek amacıyla yapılmıştır?**

- A) Ticareti B) Tarımı  
C) Eğitimi D) Sanatı

8

**Büyük Selçuklu Devleti aşağıdaki savaşların hangisinden sonra kurulmuştur?**

- A) Katvan  
B) Pasinler  
C) Malazgirt  
D) Dandanakan

9

**Aşağıdaki savaşlardan hangileri Anadolu'nun fethine yöneliktir?**

- I- Pasinler  
II- Dandanakan  
III- Malazgirt

- A) Yalnız I B) Yalnız II  
C) I ve III D) I ve II

10

**Melikşah, kurdurduğu rasathane ile gök cisimlerinin ve gökyüzü olaylarının gözlemlenmesini sağlamış ve Celali Takvimi'ni hazırlatmıştır.**

**Bu bilgiye göre Melikşah zamanında aşağıdaki bilimlerden hangisinde gelişme olmuştur?**

- A) Matematik B) Astronomi  
C) Felsefe D) Tarih



**KAZANIM 9:** TÜRKLERİN ANADOLU'YU YURT EDİNME SÜRECİNİ XI VE XIII. YÜZYILLAR KAPSAMINDA ANALİZ EDER.



**BU KAZANIMDAN SON 10 YILDA 10 SORU SORULMUŞTUR.**

### CEVAP ANAHTARI

- |     |      |
|-----|------|
| 1-B | 8-D  |
| 2-C | 9-C  |
| 3-C | 10-B |
| 4-D |      |
| 5-C |      |
| 6-C |      |
| 7-A |      |



@akmese.onur

@sosyal\_bilgiler\_zumresi2021

**SADECE SOSYAL BİLGİLER ÖĞRETMENLERİNİN YER ALDIĞI WHATSAP GRUPLARIMIZDAN BİRİNE KATILMAK İÇİN MAIL ATABİLİRSİNİZ.**

**onurakmese16@gmail.com**

Daha Fazlası İçin Tıkla

[www.akmeseonur.com](http://www.akmeseonur.com)



**BU KAZANIMDAN SON 10 YILDA 1 SORU SORULMUŞTUR.**

1

İpek Yolu, iki bin yıldır pek çok ülkeden geçerek Asya'dan Avrupa'ya uzanan bir köprü olmuştur. Bu köprüden sadece mallar değil, kültürler ve insanlar da geçmiştir. Zenginliğin ve bilginin taşındığı bu yol, kontrolünü elinde tutan devletlere ekonomik, askerî, kültürel ve siyasi imkânlar sağlamıştır.

Yukarıdaki paragrafta, İpek Yolu'nun hangi özelliğine değnilmemistir?

- A) Devletler arası savaşa neden olmasına
- B) Farklı coğrafyalardan geçişine
- C) Kültür köprüsü oluşuna
- D) Ekonomik değerine



**KAZANIM 10:** TARİHİ TİCARET YOLLARININ TOPLUMLAR ARASI SİYASİ, KÜLTÜREL VE EKONOMİK İLİŞKİLERDEKİ ROLÜNÜ AÇIKLAR



**BU KAZANIMDAN SON 10 YILDA 1 SORU SORULMUŞTUR.**

### CEVAP ANAHTARI

1-A

2-

3-

4-

5-

6-

7-



@akmese.onur

@sosyal\_bilgiler\_zumresi2021

**SADECE SOSYAL BİLGİLER ÖĞRETMENLERİNİN YER ALDIĞI WHATSAP GRUPLARIMIZDAN BİRİNE KATILMAK İÇİN MAIL ATABİLİRSİNİZ.**

**onurakmese16@gmail.com**

Daha Fazlası İçin Tıkla

[www.akmeseonur.com](http://www.akmeseonur.com)





## İNSANLAR, YERLER VE ÇEVRELER



# 3.ÜNİTE



**BU ÜNİTEDEN 2012 YILINDAN  
2021 YILINA KADAR YAPILAN  
10 SINAVDA TOPLAM  
48 SORU ÇIKMIŞTIR.**

- 1.KONUM İLE İLGİLİ KAVRAMLARI KULLANARAK KITALARIN, OKYANUSLARIN VE ÜLKEMİZİN COĞRAFİ KONUMUNU TANIMLAR.
- 2.TÜRKİYE'NİN TEMEL FİZİKİ COĞRAFYA ÖZELLİKLERİNDEN YER ŞEKİLLERİNİ, İKLİM ÖZELLİKLERİNİ VE BİTKİ ÖRTÜSÜNÜ İLGİLİ HARİTALAR ÜZERİNDE İNCELER.
- 3.TÜRKİYE'NİN TEMEL BEŞERÎ COĞRAFYA ÖZELLİKLERİNİ İLGİLİ HARİTALAR ÜZERİNDE GÖSTERİR.
- 4.DÜNYANIN FARKLI DOĞAL ORTAMLARINDAKİ İNSAN YAŞANTILARINDAN YOLA ÇIKARAK İKLİM ÖZELLİKLERİ HAKKINDA ÇIKARIMLARDA BULUNUR.



@akmese.onur

@sosyal\_bilgiler\_zumresi2021



**BU KAZANIMDAN SON 10 YILDA 8 SORU SORULMUŞTUR.**

1

Yüz ölçümü en küçük olan kıta aşağıdakilerden hangisidir?

- A) Okyanusya
- B) Güney Amerika
- C) Antarktika
- D) Avrupa

2

Aşağıdaki haritada bazı kıtalar numaralandırılarak gösterilmiştir.



Haritada I, II ve III olarak numaralanmış kıtaların isimleri aşağıdakilerin hangisinde doğru olarak verilmiştir?

	I	II	III
A)	Asya	Avrupa	Afrika
B)	Avrupa	Asya	Afrika
C)	Avrupa	Afrika	Asya
D)	Asya	Afrika	Avrupa

3

Mutlak konum; bir yerin paralel ve meridyenler ile ifade edilen, yani ekvatora ve başlangıç meridyenine göre belirlenen konumudur.

**Buna göre Türkiye'nin aşağıdaki özelliklerinden hangisi mutlak konum ile ilgilidir?**

- A) Kuzey Yarımküre'de yer alması
- B) Asya ve Avrupa kıtalarını birbirine bağlaması
- C) Batısından doğusuna doğru dağların yükseltisinin artması
- D) Üç tarafının denizlerle çevrili olması

4

Göreceli konum; bir yerin kıtalara, okyanuslara, denizlere, yer şekillerine, yeraltı kaynaklarına, ulaşım yollarına ve komşu ülkelere göre belirlenen konumudur.

**Buna göre aşağıdakilerden hangisi Türkiye'nin göreceli konumu ile ilgilidir?**

- A) Asya, Avrupa ve Afrika kıtalarının kesişme noktasında bulunması
- B) Ekvator'un kuzeyinde, başlangıç meridyeninin ise doğusunda yer alması
- C) Dört mevsimin belirgin olarak yaşanması
- D) Dağların kuzey yamaçlarının güney yamaçlarından daha soğuk olması

**BU KAZANIMDAN SON 10 YILDA 8 SORU SORULMUŞTUR.**

5

Aşağıda verilenlerden hangisi Türkiye'nin konumuna ait bir özelliktir?

- A) Almanya ve İtalya sınır komşularıdır.
- B) Yer şekilleri düz ve sadedir.
- C) Büyük Okyanus kıyısındadır.
- D) Kuzey Yarım Küre'de yer alır.

6

Türkiye'nin coğrafi konumu ile ilgili olarak aşağıdakilerden hangisi söylenebilir?

- A) Afrika kıtasında toprakları vardır.
- B) Atlas Okyanusu'na kıyısı vardır.
- C)  $26^{\circ}$  -  $45^{\circ}$  kuzey paralelleri arasında yer alır.
- D) Başlangıç meridyeninin doğusunda yer alır.

7

Aşağıdakilerden hangisi Türkiye'nin bulunduğu bölgede önemini artırmaz?

- A) Asya ve Avrupa arasında köprü olması
- B) Zengin yer altı ve yer üstü kaynaklarının olması
- C) Yükseltinin batıdan doğuya doğru gidildikçe artması
- D) Akdeniz ve Karadeniz'i bağlayan boğazlara sahip olması

8

Ülkemiz  $36^{\circ}$  -  $42^{\circ}$  kuzey paralelleri ile  $26^{\circ}$  -  $45^{\circ}$  doğu meridyenleri arasında yer alır.

**Yalnızca bu bilgiye dayanarak ülkemiz ile ilgili aşağıdaki çıkarımlardan hangisi yapılamaz?**

- A) Üç tarafı denizlerle çevrilidir.
- B) Ekvator, ülkemizin güneyinde yer alır.
- C) Greenwich meridyeni batı yönümüzde bulunur.
- D) Türkiye'nin güneyi ile kuzeyi arasında 6 paralel vardır.



**KAZANIM 11:** KONUM İLE İLGİLİ KAVRAMLARI KULLANARAK KITALARIN, OKYANUSLARIN VE ÜLKEMİZİN COĞRAFİ KONUMUNU TANIMLAR.



**BU KAZANIMDAN SON 10 YILDA 8 SORU SORULMUŞTUR.**

### CEVAP ANAHTARI

- |     |     |
|-----|-----|
| 1-A | 8-A |
| 2-C |     |
| 3-A |     |
| 4-A |     |
| 5-D |     |
| 6-D |     |
| 7-C |     |



@akmese.onur

@sosyal\_bilgiler\_zumresi2021

**SADECE SOSYAL BİLGİLER ÖĞRETMENLERİNİN YER ALDIĞI WHATSAP GRUPLARIMIZDAN BİRİNE KATILMAK İÇİN MAIL ATABİLİRSİNİZ.**

**onurakmese16@gmail.com**

Daha Fazlası İçin Tıkla

[www.akmeseonur.com](http://www.akmeseonur.com)



**BU KAZANIMDAN SON 10 YILDA 26 SORU SORULMUŞTUR.**

1

Türkiye fiziki haritasını kullanarak aşağıdaki bilgilerden hangisine ulaşabiliriz?

- A) Eğitim durumu B) Sağlık hizmetleri  
C) Madenlerin dağılışı D) Yeryüzü şekilleri

2

Ülkemiz kuzey yarım kürede yer aldığı için dağların kuzey yamaçları soğuk, güney yamaçları ise sıcak olmaktadır.

Aşağıdakilerden hangisi bu durumun sebebidir?

- A) Yükselti  
B) Bakı  
C) Dağların uzanış yönü  
D) Denizellik ve karasallık

3

- Yazları sıcak ve kurak, kışları ılık ve yağışlıdır.
- Yağışlar daha çok kış mevsiminde görülür.
- Kar yağışı nadiren görülür.
- Bitki örtüsü makidir.
- Güneşli gün sayısı fazla olduğu için deniz turizmi gelişmiştir.

Verilen özellikler ülkemizin hangi coğrafi bölgesine aittir?

- A) Karadeniz  
B) Akdeniz  
C) İç Anadolu  
D) Doğu Anadolu

4

Ankara'da yaşayan Veysel, yaz tatilinde Rize'de çay tarımı ile uğraşan amcasının yanına gitmiştir. Burada bol yağışın olduğunu, ormanların geniş yer tuttuğunu, yaylacılık faaliyetlerinin ve büyükbaş hayvancılığın yapıldığını gözlemlemiştir.

Buna göre Veysel'in gittiği Rize ve çevresinde hangi iklim tipi görülmektedir?

- A) Akdeniz B) Karadeniz  
C) Karasal D) Muson

5

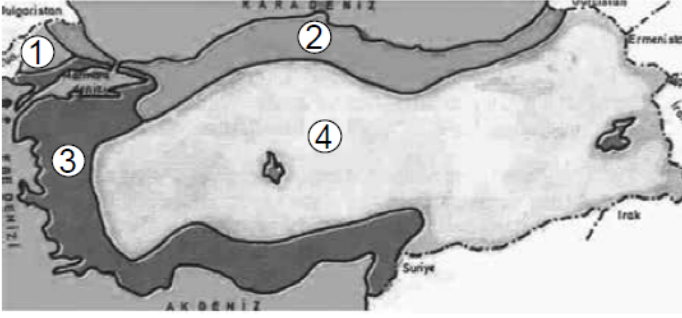
Ülkemizde yükselti ve engebenin fazla olduğu bölgelerle ilgili aşağıdakilerden hangisi söylenemez?

- A) Yıllık sıcaklık ortalaması düşüktür.  
B) Diğer bölgelerden göç alır.  
C) Tarım alanları dardır.  
D) Ulaşım olanakları zordur.

**BU KAZANIMDAN SON 10 YILDA 26 SORU SORULMUŞTUR.**

6

Türkiye haritası üzerinde belirli bölgeler numaralandırılarak verilmiştir.



Buna göre, numaralanmış yerlerin hangilerinde karasal iklim görülmektedir?

- A) 1 ve 2. B) 2 ve 3.  
C) 1 ve 4. D) 2, 3 ve 4.

7

Fiziki haritada kullanılan yeşil, sarı, kahverengi gibi renkler ve tonları aşağıdakilerden hangisini gösterir?

- A) İklim türlerini  
B) Yükselti basamaklarını  
C) Yeraltı kaynaklarını  
D) Bitki örtüsünü

8

Akarsular tarafından derince yarılmış çevresine göre yüksekte olan geniş düzlüklere ne ad verilir?

- A) Vadi B) Ova  
C) Plato D) Dağ

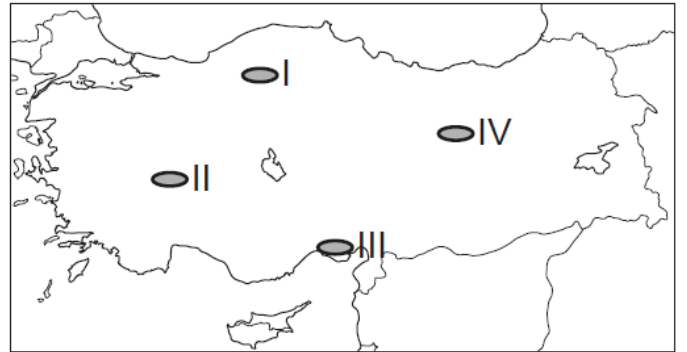
9

Karadeniz iklimi ile ilgili aşağıdakilerden hangisi söylenebilir?

- A) Pamuk üretimine uygundur.  
B) Yaz mevsimi sıcak ve kuraktır.  
C) Genel bitki örtüsü bozkırdır.  
D) Her mevsim yağışlıdır.

10

Yazları sıcak ve kurak, kışları ılık ve yağışlıdır. Kar yağışı ve don olayı ender yaşanır. Bitki örtüsü makidir.



Yukarıda anlatılan iklim tipi harita üzerinde numaralandırılarak gösterilen yerlerin hangisinde görülür?

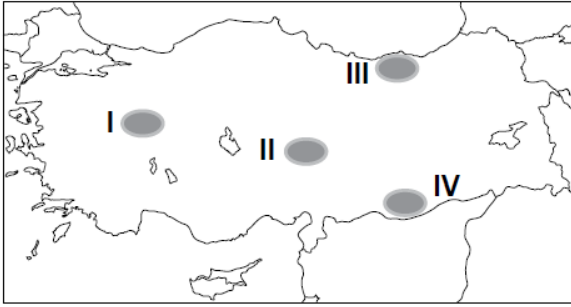
- A) I. B) II. C) III. D) IV.



**BU KAZANIMDAN SON 10 YILDA 26 SORU SORULMUŞTUR.**

11

Kurak ve yarı kurak bölgelerde ağaçlandırma yapıldıktan sonra fidanların sulanması zorunlu iken bu zorunluluk nemli bölgelerde daha azdır.



Buna göre, haritada taralı alanlardan hangisinde dikilen fidanların sulanmasına duyulan ihtiyaç daha azdır?

- A) I      B) II      C) III      D) IV

12

Hakan Bey: İlk görev yerimizde kışlar çok sert ve soğuk, yazlar ise serin ve yağışlı geçmekteydi. Şimdi yaşadığımız şehirde ise kışları ılık, bitki örtüsü gür ve her mevsim yağışlı geçmektedir.

Hakan Bey’in görev yaptığı şehirler sırasıyla aşağıdakilerden hangileri olabilir?

- A) Kars - Rize      B) Van - Konya  
C) Ordu - Gaziantep      D) Mersin - Eskişehir

13

Aşağıdakilerden hangisi Akdeniz ikliminin özelliklerinden biri değildir?

- A) Bitki örtüsü bozkırdır.  
B) Kışlar ılık ve yağışlıdır.  
C) Yazlar sıcak ve kuraktır.  
D) Kar yağışı çok az görülür.

14

Kars ile Iğdır arasındaki mesafe yakın olmasına rağmen Iğdır’ın yıllık ortalama sıcaklığı yaklaşık 7°C daha fazladır.

Bu farklılığın nedeni aşağıdakilerden hangisidir?

- A) Bitki örtüsü  
B) Yükselti değerleri  
C) Toprak özellikleri  
D) Yağış miktarları

15

Aşağıdakilerden hangisi Türkiye’de dağların kıyıya paralel uzanmasının sonuçlarından?

- A) Kuzeyden esen rüzgârların sıcaklığı düşürmesi  
B) Denizel etkilerin iç kesimlere sokulamaması  
C) Yükselti ortalamasının batıdan doğuya doğru artması  
D) Sıcaklık ortalamalarının güneyden kuzeye doğru azalması

**BU KAZANIMDAN SON 10 YILDA 26 SORU SORULMUŞTUR.**

**16 ve 17. soruları verilen metne göre cevaplayınız.**

**16**

Köyümüz yurdumuzun denizden uzak iç kesimlerindedir. Yaz döneminde kuraklık hakimdir, gündüz sıcaklıklar 35 °C'ye yaklaşırken gece 10 °C nin altına düşer. Kış mevsimi ise soğuk ve kar yağışlıdır. Köyümüzde çoğunlukla buğday tarımı ve küçükbaş hayvancılık yapılır. Nisanda her tarafı saran yeşil otlar, Haziran da sararır ve kurur ...

Verilen bilgilere göre bu köy ve çevresinde aşağıdaki iklimlerden hangisi görülmektedir?

- A) Karadeniz B) Akdeniz  
C) Karasal D) Muson

**17**

Köy aşağıdaki illerden hangisinin sınırları içinde olabilir?

- A) Nevşehir B) Mersin  
C) İstanbul D) Rize

**18**

Ankara ile Erzurum Ekvator çizgisine yaklaşık olarak aynı uzaklıktadır. Ancak Erzurum'da sıcaklık ortalaması daha düşüktür.

**Bu durumun sebebi nedir?**

- A) Yükselti B) Bakı  
C) Rüzgarlar D) Dağların uzanışı

**19**

Ülkemizin iç kesimlerinde deniz etkilerinin görülmeşi aşağıdakilerden hangisiyle ilgilidir?

- A) Yerçekilleriyle  
B) Enlem etkisiyle  
C) Su kaynaklarıyla  
D) Rüzgarların yönüyle

**20**

Ege bölgesinde deniz kıyısında yetişen bir tarım ürünü, bölgenin iç kesimlerinde de yetişebilmektedir. Karadeniz bölgesinde ise bu durumun tam tersi yaşanmaktadır.

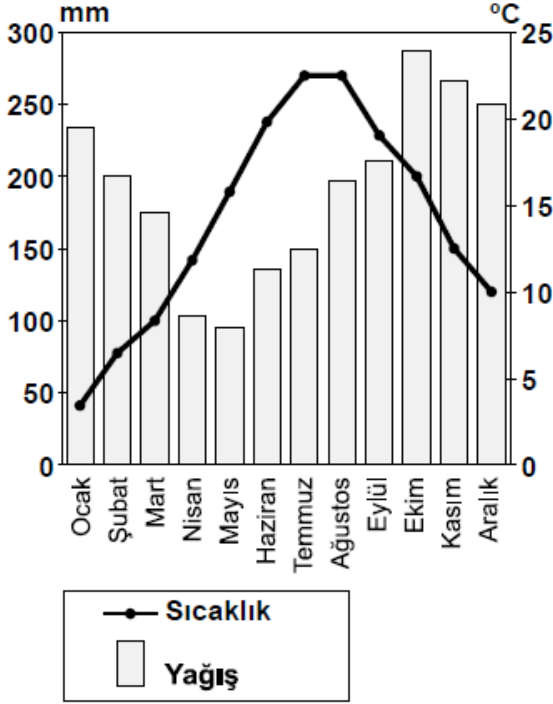
**Ege ve Karadeniz bölgelerindeki bu farklılığın sebebi aşağıdakilerden hangisidir?**

- A) Yükselti farkı  
B) Kıyı uzunlukları  
C) Dağların uzanışı  
D) Deniz suyu sıcaklığı

**BU KAZANIMDAN SON 10 YILDA 26 SORU SORULMUŞTUR.**

21 ve 22. soruları verilen metne göre cevaplayınız.

21



Yağış ve sıcaklık grafiği verilen merkez için aşağıdakilerden hangisi söylenebilir?

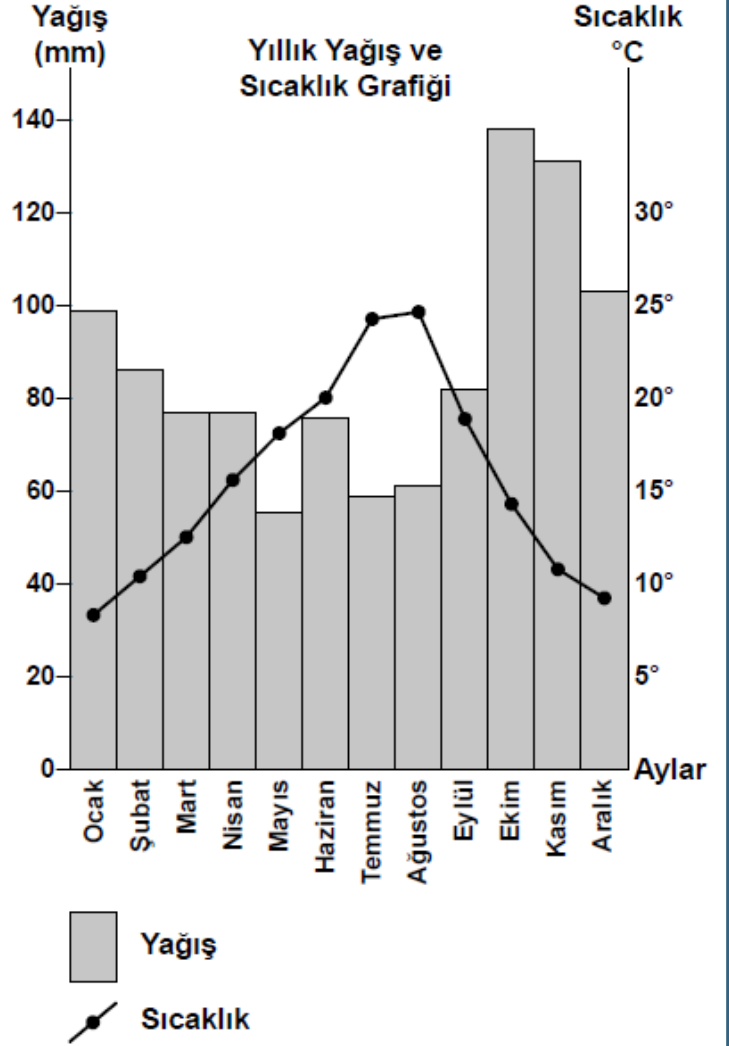
- A) Şubat en soğuk aydır.
- B) Her mevsim yağış alır.
- C) En kurak ay ekimdir.
- D) Bazı aylarda yağış 400 mm'yi aşar.

22

Yağış ve sıcaklık grafiği verilen merkez aşağıdakilerden hangisi olabilir?

- A) Rize
- B) Kars
- C) Ankara
- D) Konya

23

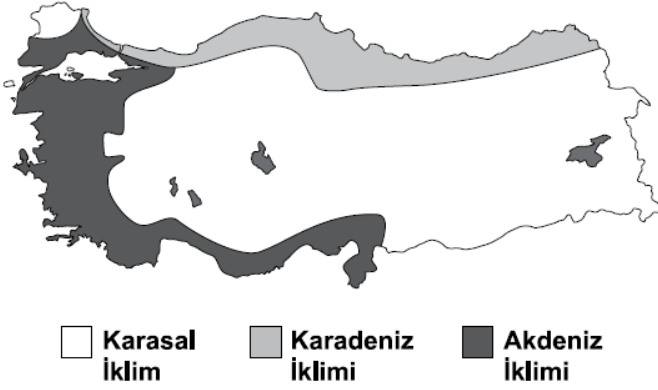


Yukarıdaki grafik Türkiye’de bir merkeze aittir. Bu merkezde hangi iklimin görüldüğü söylenebilir?

- A) Karasal iklimin
- B) Akdeniz ikliminin
- C) Karadeniz ikliminin
- D) Şiddetli karasal iklimin

**BU KAZANIMDAN SON 10 YILDA 26 SORU SORULMUŞTUR.**

24



Türkiye’nin iklim haritası incelendiğinde, güneyde dar bir şerit hâlinde uzanan Akdeniz ikliminin batıda kıyıdan iç kesimlere daha çok sokulduğu görülmektedir.

Bu durum aşağıdakilerden hangisiyle açıklanabilir?

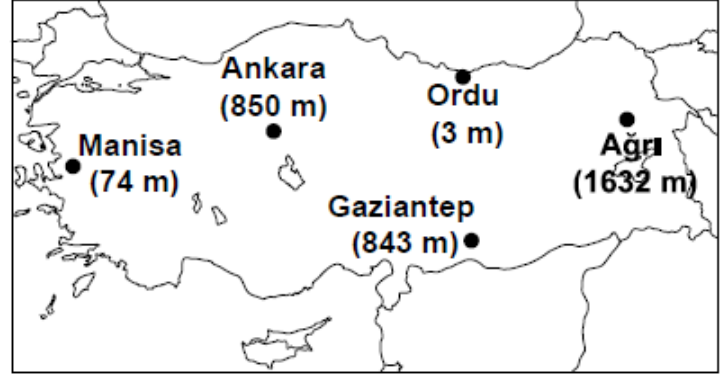
- A) Dağların uzanış şekliyle
- B) Bitki örtüsünün dağılışıyla
- C) Su kaynaklarının dağılışıyla
- D) Doğuya doğru yükseltinin artmasıyla

25

Karadeniz’de ahşap, iç bölgelerde kerpiç, Akdeniz’de taş evlerin yaygın oluşunda etkili olan faktör aşağıdakilerden hangisidir?

- A) Kültürel yapı
- B) Yeryüzü şekilleri
- C) Nüfus yoğunluğu
- D) Çevresindeki doğal malzemeler

26



Yükselti faktörü göz önüne alındığında haritada verilen merkezlerden hangileri arasında, sıcaklık farkının daha fazla olması beklenir?

- A) Ordu - Ağrı
- B) Ankara - Ağrı
- C) Manisa - Ankara
- D) Gaziantep - Ordu



**KAZANIM 12:** TÜRKİYE'NİN TEMEL FİZİKİ COĞRAFYA ÖZELLİKLERİNDEN YER ŞEKİLLERİNİ, İKLİM ÖZELLİKLERİNİ VE BİTKİ ÖRTÜSÜNÜ İLGİLİ HARİTALAR ÜZERİNDE İNCELER.



**BU KAZANIMDAN SON 10 YILDA 26 SORU SORULMUŞTUR.**

### CEVAP ANAHTARI

1-D	8-C	15-B	22-A
2-B	9-D	16-C	23-C
3-B	10-B	17-A	24-A
4-B	11-C	18-A	25-D
5-B	12-A	19-A	26-A
6-C	13-A	20-C	
7-B	14-B	21-B	



@akmese.onur

@sosyal\_bilgiler\_zumresi2021

**SADECE SOSYAL BİLGİLER ÖĞRETMENLERİNİN YER ALDIĞI WHATSAP GRUPLARIMIZDAN BİRİNE KATILMAK İÇİN MAIL ATABİLİRSİNİZ.**

**onurakmese16@gmail.com**

Daha Fazlası İçin Tıkla

[www.akmeseonur.com](http://www.akmeseonur.com)

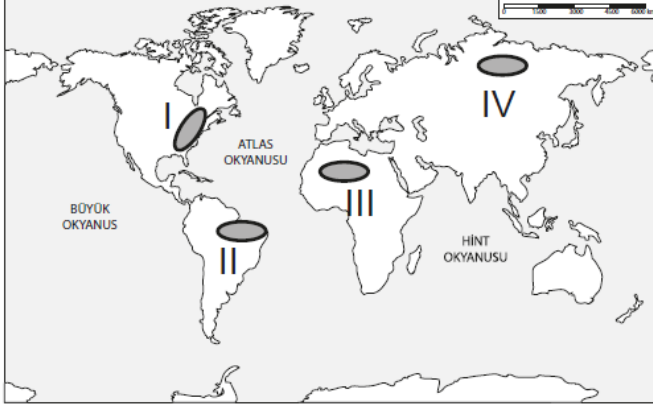




**BU KAZANIMDAN SON 10 YILDA 7 SORU SORULMUŞTUR.**

1

Sanayisi gelişmiş olan bölgelerin nüfusu yoğundur ve bu bölgeler ekonomik açıdan gelişmiştir.



Harita üzerinde numaralandırılmış bölgelerden hangisi bu yerlere örnektir?

- A) I. B) II. C) III. D) IV.

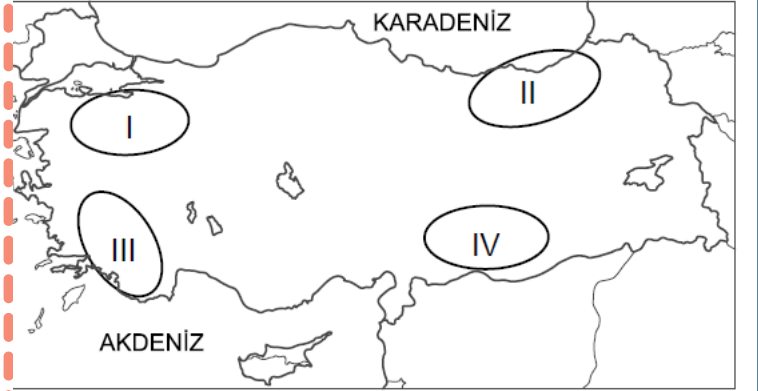
2

Aşağıdakilerden hangisi “beşerî coğrafya”nın inceleme konularından biridir?

- A) Karadeniz ormanlarındaki ağaç türleri  
B) Akdeniz kıyılarındaki turizm faaliyetleri  
C) Doğu Anadolu’nun iklim özellikleri  
D) Türkiye’deki yer altı kaynaklarının dağılışı

3

Ayşe sınıf arkadaşlarına tatilde Uzungöl’de bir pansiyonda kaldığını, Sümela Manastırı’nı gezdiğini, dünyaca ünlü Anzer balını tattığını söylemiştir.



Buna göre Ayşe, Türkiye haritasında numaralandırılmış yerlerden hangisine gitmiştir?

- A) I. B) II. C) III. D) IV.

4

Aşağıdakilerden hangisi nüfusun dağılışını etkileyen beşerî faktörlerden biridir?

- A) İklim özellikleri  
B) Yer şekilleri  
C) Sanayi faaliyetleri  
D) Toprak özellikleri

**BU KAZANIMDAN SON 10 YILDA 7 SORU SORULMUŞTUR.**

5

Ticaretin gelişmesiyle insanlar şehirlerini, ürünlerinin ticaretini yapabilecekleri su ve yol kenarlarına kurdular.

**Bu bilgiyle aşağıdakilerden hangileri arasındaki etkileşim vurgulanmıştır?**

- A) Ekonomik faaliyetler - Yerleşme
- B) Devlet yönetimi - Yerleşme
- C) Yaşam şekli - Doğal şartlar
- D) Tarım - Ticaret

6

Devlet Su İşleri Genel Müdürlüğü ülkemizin bir çok yerinde tarımsal sulamada geleneksel yöntemler yerine yağmurlama ve damla sulama sistemine geçerek, her yıl yaklaşık %30'luk su tasarrufu yaptığı gibi tarımsal üretimi de artırmıştır.

**Metne göre, bu yöntemin temel amacı aşağıdakilerden hangisidir?**

- A) Suyun verimli kullanılmasını sağlamak
- B) Tarım ürünlerinde çeşitliliği artırmak
- C) Yeni iş sahaları oluşturmak
- D) Çevre kirliliğini önlemek

7

Beşerî coğrafya, insanların yeryüzünde yaptıkları değişimleri inceleyen bilimdir. Tarım, sanayi, ulaşım, turizm, nüfus, yerleşme ve kentleşme gibi insan faaliyetlerini inceler.

**Buna göre aşağıdakilerden hangisi beşerî coğrafyanın konusu değildir?**

- A) Bölgelerde görülen iklim türleri
- B) İnsanların geçim kaynakları
- C) Tarım faaliyetleri ve türleri
- D) Bölgelere göre nüfus dağılışı



**KAZANIM 13:** TÜRKİYE'NİN TEMEL BEŞERİ COĞRAFYA ÖZELLİKLERİNİ İLGİLİ HARİTALAR ÜZERİNDE GÖSTERİR.



**BU KAZANIMDAN SON 10 YILDA 7 SORU SORULMUŞTUR.**

### CEVAP ANAHTARI

1-A

2-B

3-B

4-C

5-A

6-A

7-A



@akmese.onur

@sosyal\_bilgiler\_zumresi2021

**SADECE SOSYAL BİLGİLER ÖĞRETMENLERİNİN YER ALDIĞI WHATSAP GRUPLARIMIZDAN BİRİNE KATILMAK İÇİN MAIL ATABİLİRSİNİZ.**

**onurakmese16@gmail.com**

Daha Fazlası İçin Tıkla

[www.akmeseonur.com](http://www.akmeseonur.com)



**BU KAZANIMDAN SON 10 YILDA 7 SORU SORULMUŞTUR.**

1

Yaşadığım yerde insanlar eskiden beri ulaşım için develeri kullanırlar. Develer çok sıcak ve kurak hava şartlarında su içmeden uzun mesafe katedebilirler. Yolculuk sırasında yaşanabilen kum fırtınaları yönümüzü bulmamızı zorlaştırır.

**Bu kişinin yaşadığı yerde hangi iklim tipi görülmektedir?**

- A) Çöl B) Muson  
C) Kutup D) Ekvatorial

2



**Haritada numaralandırılmış alanlardan hangisi seyrek nüfusludur?**

- A) I. B) II. C) III. D) IV.

3

“Yaşadığım bölgede toprak sürekli donmuş halde olduğu için bitki örtüsü yoktur. Bu yüzden tarım ürünleri yetiştirilemez. Avcılık ve balıkçılık önemli geçim kaynağımızdır. Kış aylarında buzdan ve balina kemiklerinden yapılmış evlerde yaşarız.”

**Buna göre yukarıdaki ifadeleri kullanan kişinin yaşadığı yerde görülen iklim tipi hangisidir?**

- A) Çöl B) Kutup  
C) Muson D) Ekvatorial

4

“Yaşadığım yer her gün sıcak ve bol yağışlıdır. Burada tropikal yağmur ormanları bulunmaktadır. Ormanların fazla olmasına bağlı olarak ahşap evler yaygındır. Ayrıca bu bölgede bol miktarda Hindistan cevizi, mango, kakao gibi tarım ürünleri yetiştirilmektedir.”


**Bu kişinin yaşadığı yerde hangi iklim tipi görülmektedir?**

- A) Ekvatorial B) Çöl  
C) Kutup D) Karasal

**BU KAZANIMDAN SON 10 YILDA 7 SORU SORULMUŞTUR.**

5

Aşağıda verilen resim, haritada numaralandırılarak gösterilen alanlardan hangisiyle ilişkilendirilebilir?



A) 1 B) 2 C) 3 D) 4

6

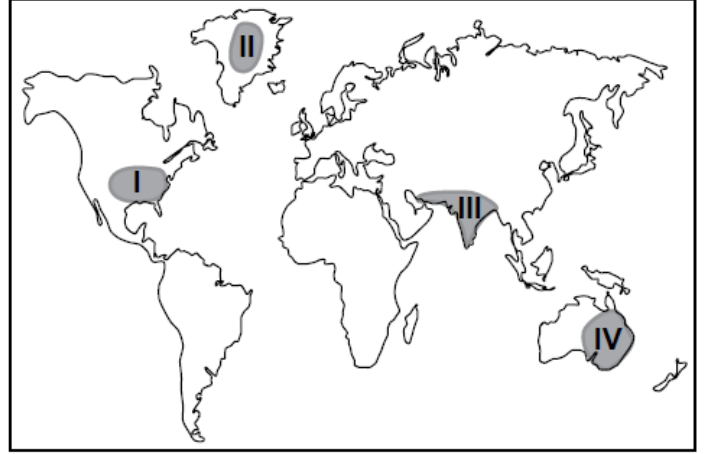
Yaşadığımız yerde yılın her ayı yağışlı ve sıcaktır. Bitkiler gür ve uzun boylu olduğundan gökyüzü neredeyse görünmez hâldedir. Bu nedenle etrafımızdaki ormanlara "balta girmemiş ormanlar" denir. Yabani hayvanların saldırısından ve selden korunmak için evlerimizi kazıklar üzerine inşa ederiz.

**Bunları söyleyen kişinin yaşadığı yerde hangi iklim tipi görülür?**

A) Muson B) Çöl  
C) Karasal D) Ekvatorial

7

- Sıcaklık yıl boyunca 0°C'nin altındadır.
- Yağışlar az ve kar şeklindedir.
- Toprak sürekli don olduğu için bitki örtüsü yoktur.



Yukarıda verilen özellikler harita da taranarak numaralandırılmış yerlerin hangisinde görülür?

A) 1 B) 2 C) 3 D) 4



**KAZANIM 14:** DÜNYANIN FARKLI DOĞAL ORTAMLARINDAKİ İNSAN YAŞANTILARINDAN YOLA ÇIKARAK İKLİM ÖZELLİKLERİ HAKKINDA ÇIKARIMLARDA BULUNUR.

**BU KAZANIMDAN SON 10 YILDA 7 SORU SORULMUŞTUR.**

### CEVAP ANAHTARI

- 1-A
- 2-C
- 3-B
- 4-A
- 5-C
- 6-D
- 7-B



@akmese.onur

@sosyal\_bilgiler\_zumresi2021

**SADECE SOSYAL BİLGİLER ÖĞRETMENLERİNİN YER ALDIĞI WHATSAP GRUPLARIMIZDAN BİRİNE KATILMAK İÇİN MAIL ATABİLİRSİNİZ.**

**onurakmese16@gmail.com**

Daha Fazlası İçin Tıkla

[www.akmeseonur.com](http://www.akmeseonur.com)





**BİLİM, TEKNOLOJİ VE TOPLUM**



# 4.ÜNİTE



**BU ÜNİTEDEN 2012 YILINDAN  
2021 YILINA KADAR YAPILAN  
10 SINAVDA TOPLAM  
17 SORU ÇIKMIŞTIR.**

- 1.SOSYAL BİLİMLERDEKİ ÇALIŞMA VE BULGULARDAN HAREKETLE SOSYAL BİLİMLERİN TOPLUM HAYATINA ETKİSİNE ÖRNEKLER VERİR.
- 2.BİLİMSEL VE TEKNOLOJİK GELİŞMELERİN GELECEKTEKİ YAŞAM ÜZERİNE ETKİLERİNE İLİŞKİN FİKİRLER İLERİ SÜRER.
- 3.BİLİMSEL ARAŞTIRMA BASAMAKLARINI KULLANARAK ARAŞTIRMA YAPAR.
- 4.TELİF VE PATENT HAKLARI SAKLI ÜRÜNLERİN YASAL YOLLARDAN TEMİN EDİLMESİNİN GEREKLİLİĞİNİ SAVUNUR.



@akmese.onur

@sosyal\_bilgiler\_zumresi2021

**BU KAZANIMDAN SON 10 YILDA 6 SORU SORULMUŞTUR.**

1

**I**  
Kazı vb. yöntemlerle ortaya çıkarılan eski kültür ve uygarlıkları, onlardan kalan maddi kalıntıları (her türlü alet, malzeme, ev eşyaları ve sanat yapıtları) inceleyen kazı bilimidir.

**II**

İnsan ırklarını, kalıntılarını, iskelet, kafatası gibi fiziki yapılarını inceleyen insan bilimidir.

Kutucuklardaki tanımlar, aşağıdakilerden hangisinde ilgili olduğu sosyal bilim dalıyla doğru olarak eşleştirilmiştir?

- | <u>I</u>       | <u>II</u>   |
|----------------|-------------|
| A) Arkeoloji   | Antropoloji |
| B) Antropoloji | Sosyoloji   |
| C) Psikoloji   | Arkeoloji   |
| D) Antropoloji | Arkeoloji   |

2

Atatürk'ün;

- I- Türkiye İş Bankasını kurması,
- II- Dil ve Tarih - Coğrafya Fakültesini açması,
- III- Türk Tarih Kurumunu kurması

uygulamalarından hangisi ya da hangileri, sosyal bilimlere geliştirmeye yöneliktir?

- |              |                 |
|--------------|-----------------|
| A) Yalnız I  | B) Yalnız II    |
| C) II ve III | D) I, II ve III |

3

İnsanın duygu, düşünce ve davranışlarını inceleyen bilim dalı aşağıdakilerden hangisidir?

- |              |             |
|--------------|-------------|
| A) Biyoloji  | B) Hukuk    |
| C) Psikoloji | D) Coğrafya |

4

Yapılan kazılar sonucunda Şanlıurfa'nın Örencik köyü yakınlarında dünyanın bilinen ilk tapınağı olan Göbeklitepe ortaya çıkarılmıştır.

**Buna göre Göbeklitepe'nin ortaya çıkarılmasında aşağıdaki sosyal bilim dallarından hangisi etkili olmuştur?**

- |              |              |
|--------------|--------------|
| A) Sosyoloji | B) Psikoloji |
| C) Filoloji  | D) Arkeoloji |

5

"Büyük devletler kuran atalarımız, büyük ve kapsamlı uygarlıklara da sahip olmuştur. Bunu aramak, incelemek, Türklüğe ve dünyaya bildirmek bizler için bir borçtur. Türk çocuğu, atalarını tanıdıkça daha büyük işler yapmak için kendinde kuvvet bulacaktır."

ATATÜRK

**Aşağıdaki bilim dallarından hangisiyle ilgili yapılan çalışmalar, Atatürk'ün bu sözünü destekler niteliktedir?**

- |              |             |
|--------------|-------------|
| A) Astronomi | B) Coğrafya |
| C) Tarih     | D) Hukuk    |

**BU KAZANIMDAN SON 10 YILDA 6 SORU SORULMUŞTUR.**

6

Yeni geldiğim bu okulda kendimi uzun süre yabancı hissettim. İnsanlarla konuşmakta zorlandım. Yanlış yaparım korkusuyla hiçbir şey yapamıyordum. Öğretmenlerim ve arkadaşlarımda desteğiyle okula alıştım.



Ayşe

**Ayşe'nin yaşadıkları aşağıdaki sosyal bilimlerden hangisinin inceleme alanına girer?**

- |              |              |
|--------------|--------------|
| A) Sosyoloji | B) Psikoloji |
| C) Hukuk     | D) Ekonomi   |

**KAZANIM 15:** SOSYAL BİLİMLERDEKİ ÇALIŞMA VE BULGULARDAN HAREKETLE SOSYAL BİLİMLERİN TOPLUM HAYATINA ETKİSİNE ÖRNEKLER VERİR.

**BU KAZANIMDAN SON 10 YILDA 6 SORU SORULMUŞTUR.**

### CEVAP ANAHTARI

1-A

2-C

3-C

4-D

5-C

6-B



@akmese.onur

@sosyal\_bilgiler\_zumresi2021

**SADECE SOSYAL BİLGİLER ÖĞRETMENLERİNİN YER ALDIĞI WHATSAP GRUPLARIMIZDAN BİRİNE KATILMAK İÇİN MAIL ATABİLİRSİNİZ.**

**onurakmese16@gmail.com**

Daha Fazlası İçin Tıkla

[www.akmeseonur.com](http://www.akmeseonur.com)







**KAZANIM 16:** BİLİMSEL VE TEKNOLOJİK GELİŞMELERİN GELECEKTEKİ YAŞAM ÜZERİNE ETKİLERİNE İLİŞKİN FİKİRLER İLERİ SÜRER.



**BU KAZANIMDAN SON 10 YILDA 0 SORU SORULMUŞTUR.**





**KAZANIM 16:** BİLİMSEL VE TEKNOLOJİK GELİŞMELERİN GELECEKTEKİ YAŞAM ÜZERİNE ETKİLERİNE İLİŞKİN FİKİRLER İLERİ SÜRER.



**BU KAZANIMDAN SON 10 YILDA 0 SORU SORULMUŞTUR.**

### CEVAP ANAHTARI

- 1-
- 2-
- 3-
- 4-
- 5-
- 6-
- 7-



@akmese.onur

@sosyal\_bilgiler\_zumresi2021

**SADECE SOSYAL BİLGİLER ÖĞRETMENLERİNİN YER ALDIĞI WHATSAP GRUPLARIMIZDAN BİRİNE KATILMAK İÇİN MAIL ATABİLİRSİNİZ.**

**onurakmese16@gmail.com**

Daha Fazlası İçin Tıkla

[www.akmeseonur.com](http://www.akmeseonur.com)



**BU KAZANIMDAN SON 10 YILDA 6 SORU SORULMUŞTUR.**

1

**Konular:**

- Selin tanımı ve oluşumu
- Selin zararları
- Sel oluşumunu engellemek için alınacak önlemler

**Verilen çalışma, aşağıdaki bilimsel araştırma basamaklarından hangisine ait olabilir?**

- A) Kaynakların belirlenmesi
- B) Varsayımların ortaya konması
- C) Araştırılacak problemin belirlenmesi
- D) Elde edilen notların sınıflandırılması

2

**Bilimsel bir araştırma sürecinde yapılacak ilk iş aşağıdakilerden hangisidir?**

- A) Problemin belirlenmesi
- B) Varsayımların tespit edilmesi
- C) Elde edilen bilgilerin yorumlanması
- D) Yararlanılacak kaynakların belirlenmesi

3

Bilimsel bir araştırma yapan Yağız, ansiklopedi ve dergilerden faydalanmıştır. Ayrıca internet sayesinde de birçok yeni bilgiye ulaşmıştır.

**Yağız'ın, bu çalışmaları yaptığı bilimsel araştırma basamağı aşağıdakilerden hangisidir?**

- A) Veri toplama
- B) Konu belirleme
- C) Rapor hazırlama
- D) Varsayımlarda bulunma

4

Ahmet, bilimsel araştırma basamaklarına uygun olarak “gençlerin zamanını nasıl değerlendirdiği” konusunda bilimsel bir araştırma yapacaktır.

**Buna göre Ahmet aşağıdaki hangi basamakla çalışmasına devam etmelidir?**

- A) Konunun belirlenmesi
- B) Varsayımların test edilmesi
- C) Varsayımlarda bulunulması
- D) Kaynakların dipnot ile gösterilmesi

5

Sosyal Bilgiler öğretmeni öğrencilerinin bilimsel araştırma basamaklarına uygun bir araştırma yapmalarını söylemiştir.

**Buna göre öğrencilerin ilk olarak aşağıdaki basamaklardan hangisini yapması gerekir?**

- A) Konuyu belirlemeleri
- B) Süreyi belirlemeleri
- C) Kaynak taraması yapmaları
- D) Mevcut bilgileri derlemeleri

6

**Bilimsel bir araştırmada aşağıdakilerden hangisinin en son gerçekleştirilmesi beklenir?**

- A) Konuyu belirleme
- B) Varsayımlarda bulunma
- C) Kaynaklardan bilgi toplama
- D) Metin oluşturma

**KAZANIM 17: BİLİMSEL ARAŞTIRMA BASAMAKLARINI KULLANARAK ARAŞTIRMA YAPAR.**

**BU KAZANIMDAN SON 10 YILDA 6 SORU SORULMUŞTUR.**

### **CEVAP ANAHTARI**

**1-C**

**2-A**

**3-A**

**4-C**

**5-A**

**6-D**



**@akmese.onur**

**@sosyal\_bilgiler\_zumresi2021**

**SADECE SOSYAL BİLGİLER ÖĞRETMENLERİNİN YER ALDIĞI WHATSAP GRUPLARIMIZDAN BİRİNE KATILMAK İÇİN MAIL ATABİLİRSİNİZ.**

**onurakmese16@gmail.com**

**Daha Fazlası İçin Tıkla**

**[www.akmeseonur.com](http://www.akmeseonur.com)**



**BU KAZANIMDAN SON 10 YILDA 5 SORU SORULMUŞTUR.**

1

Buluş yapan bir kişinin Türk Patent Enstitüsüne başvurması gerekir.

**Buluşlarla ilgili bu gerekliliğin nedeni aşağıdakilerden hangisidir?**

- A) Tanıtımını yapmak
- B) Geliştirilmesini sağlamak
- C) Kullanım haklarını devretmek
- D) Başkaları tarafından sahiplenilmesini önlemek

2

**Genel Ağ'dan film, müzik gibi içerikleri yasa dışı biçimde indiren ve paylaşan bir kişi, aşağıdakilerden hangisini ihlal etmiştir?**

- A) Telif ve patent hakkını
- B) Özel yaşamın gizliliğini
- C) Din ve vicdan özgürlüğünü
- D) Kişi dokunulmazlığı hakkını

3

**Aşağıdakilerden hangisi korsan ürünlerle ilgili yanlış bir bilgidir?**

- A) Emek hırsızlığı sayılmaktadır.
- B) Kültür Bakanlığı bandrolüne sahiptir.
- C) Telif hakları yoktur.
- D) Yasa dışı yollarla kopyalanır.

4

Arkadaşının bilgisayarından “Parasız Yatılılık ve Bursluluk Sınavına Hazırlık Eğitim Seti” ile ilgili çalışma CD’lerini izleyen Buket, eğitim setinin soru çözümlerini çok beğenir. Hemen evine yakın bir elektronik markete giderek beğendiği eğitim setinden satın alır.

**Buket, bu davranışı ile aşağıdakilerden hangisine saygı göstermiş olur?**

- A) Telif hakkına
- B) Patent hakkına
- C) Çoğaltma hakkına
- D) Bandrol uygulamasına

5

Anayasamızın 64. maddesine göre: “Devlet, sanat faaliyetlerini ve sanatçıyı korur. Sanat eserlerinin ve sanatçının korunması, değerlendirilmesi, desteklenmesi ve sanat sevgisinin yayılması için gereken tedbirleri alır.”

**Buna göre aşağıdakilerden hangisi Anayasamıza aykırı bir durumdur?**

- A) Yeni bir eserin patentinin alınması
- B) Eser sahibinin telif hakkını kullanması
- C) Başka birisine ait kitabın korsan olarak basılması
- D) Yerli fikirlerin uluslararası alanda da korunması





**KAZANIM 18:** TELİF VE PATENT HAKLARI SAKLI ÜRÜNLERİN YASAL YOLLARDAN TEMİN EDİLMESİNİN GEREKLİLİĞİNİ SAVUNUR.



**BU KAZANIMDAN SON 10 YILDA 5 SORU SORULMUŞTUR.**

### CEVAP ANAHTARI

- 1-D
- 2-A
- 3-B
- 4-A
- 5-C
- 6-
- 7-



@akmese.onur

@sosyal\_bilgiler\_zumresi2021

**SADECE SOSYAL BİLGİLER ÖĞRETMENLERİNİN YER ALDIĞI WHATSAP GRUPLARIMIZDAN BİRİNE KATILMAK İÇİN MAIL ATABİLİRSİNİZ.**

**onurakmese16@gmail.com**

Daha Fazlası İçin Tıkla

[www.akmeseonur.com](http://www.akmeseonur.com)





**ÜRETİM, DAĞITIM VE TÜKETİM**



**5.ÜNİTE**



**BU ÜNİTEDEN 2012 YILINDAN  
2021 YILINA KADAR YAPILAN  
10 SINAVDA TOPLAM  
38 SORU ÇIKMIŞTIR.**

- 1.ÜLKEMİZİN KAYNAKLARIYLA EKONOMİK FAALİYETLERİNİ İLİŞKİLENDİRİR.
- 2.KAYNAKLARIN BİLİNÇSİZCE TÜKETİLMESİNİN CANLI YAŞAMINA ETKİLERİNİ ANALİZ EDER.
- 3.TÜRKİYE'NİN COĞRAFİ ÖZELLİKLERİNİ DİKKATE ALARAK YATIRIM VE PAZARLAMA PROJE ÖNERİLERİ HAZIRLAR.
- 4.VATANDAŞLIK SORUMLULUĞU VE ÜLKE EKONOMİSİNE KATKISI AÇISINDAN VERGİ VERMENİN GEREĞİNİ VE ÖNEMİNİ SAVUNUR.
- 5.NİTELİKLİ İNSAN GÜCÜNÜN TÜRKİYE EKONOMİSİNİN GELİŞİMİNDEKİ YERİNİ VE ÖNEMİNİ ANALİZ EDER.
6. İLGİ DUYDUĞU MESLEKLERİN GEREKTİRDİĞİ KİŞİLİK ÖZELLİKLERİNİ, BECERİLERİ VE EĞİTİM SÜRECİNİ ARAŞTIRIR.



**@akmese.onur**

**@sosyal\_bilgiler\_zumresi2021**

**BU KAZANIMDAN SON 10 YILDA 18 SORU SORULMUŞTUR.**

1

Türkiye’de Zonguldak ve çevresinde çıkartılan, demir-çelik fabrikalarında demirin eritilmesi için kullanılan maden aşağıdakilerden hangisidir?

- A) Petrol B) Krom  
C) Taş kömürü D) Oltu taşı

2

Sağladığı gelirler sebebiyle “bacasız sanayi” olarak adlandırılan ekonomik faaliyet aşağıdakilerden hangisidir?

- A) Ticaret B) Tarım  
C) Madencilik D) Turizm

3

Hizmet; ticaret, ulaştırma, sağlık, eğitim ve güvenlik gibi faaliyetlerin tümünü kapsayan ekonomik sektördür.

Buna göre aşağıdaki örneklerden hangisinin hizmet sektörüne ait olduğu söylenebilir?

- A) Araba üreten bir fabrikada işçi olarak çalışılması  
B) Kümes ve besi hayvancılığı faaliyeti ile uğraşılması  
C) Domatesten salça üreten bir tesiste üretici olunması  
D) Bir hastanede doktor olarak görev yapılması

4

Aşağıdakilerden hangisi tekstil sanayisinde ham madde olarak kullanılmaktadır?

- A) Pamuk B) Mercimek  
C) Ayçiçeği D) Çavdar

5

Ülkemizde büyükbaş hayvancılık faaliyetlerinin dağılımında yaz yağışlarının fazla olması, bitki örtüsünün gür çayır ve meralardan oluşması etkilidir.

Buna göre aşağıdaki yerlerin hangisinde büyükbaş hayvancılığın yaygın olması beklenir?

- A) Bursa B) İzmir  
C) Kars D) Aydın

6

Bursa ve çevresinde aşağıdaki ekonomik faaliyetlerden hangisi gelişmiştir?

- A) İpek böcekçiliği B) Bakır madenciliği  
C) Çay tarımı D) Petrol üretimi

**BU KAZANIMDAN SON 10 YILDA 18 SORU SORULMUŞTUR.**

7

Türkiye'nin boğazlara sahip olması aşağıdaki konulardan hangisinde önemini artırmıştır?

- A) Tarım B) Madencilik  
C) Ulaşım D) Sanayi

8

Aşağıdakilerden hangisi Türkiye'nin bor madeni bakımından zengin olduğunun göstergesidir?

- A) İşlenilmesinin yüksek teknoloji gerektirmesi  
B) Dünya bor ihracatında ilk sıralarda yer alması  
C) Birçok sektörde ham madde olarak kullanılması  
D) Kütahya, Balıkesir ve Eskişehir'de yataklarının bulunması

9

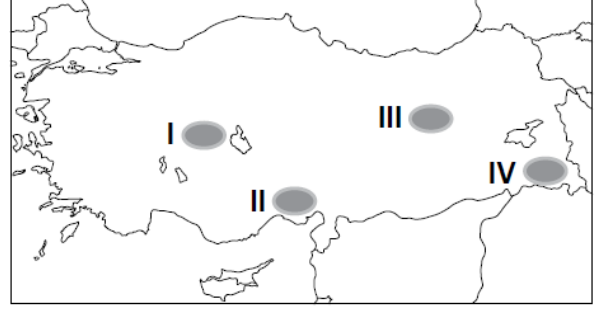
Bir bölgenin doğal bitki örtüsü ile hayvancılık faaliyetleri arasında yakın bir ilişki vardır.

Aşağıda verilen bitki örtüsü ve hayvancılık faaliyetleri eşleştirmelerinden hangisi yanlıştır?

- | <u>Bitki örtüsü</u> |   | <u>Hayvan türü</u> |
|---------------------|---|--------------------|
| A) Bozkır           | → | Koyun              |
| B) Çayır            | → | Sığır              |
| C) Maki             | → | Kıl keçisi         |
| D) Çam ormanları    | → | İpek böceği        |

10

Toprak ve iklim koşullarının uygun olması yetiştirilen ürün miktarı ve çeşitliliği üzerinde etkili olmaktadır.



Buna göre, haritada verilen yerlerden hangisinde toprak ve iklim koşulları yetiştirilen ürün çeşitliliğini daha çok artırmıştır?

- A) I B) II C) III D) IV

11

Aşağıdaki kaynak ve yararlanma şekli eşleştirmelerinden hangisi yanlıştır?

	Kaynak	Yararlanma Şekli
A)	Orman	Kâğıt
B)	Demir	Enerji Üretimi
C)	Akarsu	Balıkçılık
D)	Toprak	Seramik

12

Hammaddenin işlenerek yeni ürünlere dönüştürülmesi hangi ekonomik faaliyet türüdür?

- A) Tarım B) Sanayi  
C) Hizmet D) Ulaşım

**BU KAZANIMDAN SON 10 YILDA 18 SORU SORULMUŞTUR.**

13

Aşağıdakilerden hangisi ormanların ekonomik faydası olarak gösterilebilir?

- A) Sel oluşumunu önler
- B) Dinlenme ve eğlenme yerleridir.
- C) Yaban hayvanlarının yaşam alanıdır.
- D) Orman ürünleri için hammadde kaynağıdır.

14

- Su
- Gübre
- Toprak
- Kaliteli tohum

Verilenler, aşağıdaki ekonomik faaliyetlerden hangisine ait temel kavramlardır?

- A) Sanayi
- B) Tarım
- C) Hizmet
- D) Ticaret

15

Geçim kaynakları, ulaşım araçları, giyinme ve beslenme gibi özelliklerin tümü yaşama şekillerini oluşturur.

Yaşam şekli üzerinde en belirleyici olan coğrafi özellik aşağıdakilerden hangisidir?

- A) Yer şekilleri
- B) İklim özellikleri
- C) Bitki örtüsü
- D) Yer altı kaynakları

16

Aşağıda dört öğrenci ormanların yararlarıyla ilgili düşüncelerini belirtmiştir.

- Mustafa : Yaban hayatının devamlılığını sağlar.
- Salih : Atmosferin temizlenmesini sağlar.
- Ayşe : Heyelan ve çığın oluşumunu engeller.
- Meltem : Sanayinin pek çok alanına hammadde kaynağıdır.

Öğrencilerden hangisi ekonomik değerine vurgu yapmıştır?

- A) Mustafa
- B) Salih
- C) Ayşe
- D) Meltem

17

Bir tarım bölgesinde yetiştirilen ürün ile bu ürünün işlenmesini sağlayan fabrikalar arasındaki ilişki dikkate alındığında, pamuk yetiştirilen bir yerde hangi sanayi dalı gelişir?

- A) Tekstil
- B) Kereste
- C) Şeker
- D) Konserve

18

Toprak, sanayi sektörü için önemli bir hammadde kaynağıdır.

Buna göre aşağıdakilerden hangisi, üretiminde hammadde olarak toprağı kullanmaz?

- A) Seramik sanayi
- B) Çimento sanayi
- C) Tuğla sanayi
- D) Mobilya sanayi





**KAZANIM 19: ÜLKEMİZİN KAYNAKLARIYLA EKONOMİK FAALİYETLERİNİ İLİŞKİLENDİRİR.**



**BU KAZANIMDAN SON 10 YILDA 18 SORU SORULMUŞTUR.**

### **CEVAP ANAHTARI**

1-C	8-B	15-B
2-D	9-D	16-D
3-D	10-B	17-A
4-A	11-B	18-D
5-C	12-B	19-
6-A	13-D	20-
7-C	14-B	21-



**@akmese.onur**

**@sosyal\_bilgiler\_zumresi2021**

**SADECE SOSYAL BİLGİLER ÖĞRETMENLERİNİN YER ALDIĞI WHATSAP GRUPLARIMIZDAN BİRİNE KATILMAK İÇİN MAIL ATABİLİRSİNİZ.**

**onurakmese16@gmail.com**

**Daha Fazlası İçin Tıkla**

**[www.akmeseonur.com](http://www.akmeseonur.com)**



**BU KAZANIMDAN SON 10 YILDA 5 SORU SORULMUŞTUR.**

1

Dünya nüfus artışına rağmen tarım alanlarının artmaması, gelecekte öncelikle aşağıdaki sorunlardan hangisinin ortaya çıkmasına neden olur?

- A) Su kirliliğinin
- B) Hava kirliliğinin
- C) Açlık - kıtlık tehlikesinin
- D) Plansız kentleşmenin

2

Aşağıdakilerden hangisi doğal kaynakların korunması için alınacak tedbirlerden değildir?

- A) Tarım arazisi açmak için ormanların kesilmesi
- B) Meralarda aşırı hayvan otlatılmasının önlenmesi
- C) Hava kirliliğini yaratan unsurlar için önlem alınması
- D) Ambalaj atıklarının geri dönüşümde değerlendirilmesi

3

Aşağıdakilerden hangisinin yapılması enerji israfına neden olur?

- A) Enerji tasarruflu ampuller kullanmak
- B) Bulaşık makinesini tam dolu iken çalıştırmak
- C) Seyretmediğimiz zaman televizyonu kapatmak
- D) Odadan ayrıldığımızda lambaları açık bırakmak

4

Çevre kirliliğinin en önemli sebeplerinden biri de su kirliliğidir. İnsanlar tarafından kirlatilen su; doğal hayatı, turizmi, insan sağlığını ve tarımı da olumsuz etkilemektedir. Bu sorunun çözümünde yerel yönetimlere, sanayi kuruluşlarına ve tüm insanlara büyük görevler düşmektedir.

Parçadaki bilgiden çıkarılabilecek en kapsamlı yargı, aşağıdakilerden hangisidir?

- A) Sanayi atıkları, su kirliliğinin nedenlerinden biridir.
- B) Turizm gelirlerinin azalma sebebi su kirliliğidir.
- C) Su kirliliğini önlemek belediyelerin görevidir.
- D) Su kirliliği çok boyutlu bir sorundur.

5

Aşağıdakilerden hangisi toprak, su ve hava kirliliğinin canlı yaşamı üzerindeki olumsuz etkilerinden biri değildir?

- A) Temiz ve içilebilir su kaynaklarının azalması
- B) Bitki topluluklarının yok olması
- C) Küresel ısınmanın ortaya çıkması
- D) Trafik kazaları sonucu can kayıplarının yaşanması



**KAZANIM 20:** KAYNAKLARIN BİLİNÇSİZCE TÜKETİLMESİNİN CANLI YAŞAMINA ETKİLERİNİ ANALİZ EDER.



**BU KAZANIMDAN SON 10 YILDA 5 SORU SORULMUŞTUR.**

### CEVAP ANAHTARI

- 1-C
- 2-A
- 3-D
- 4-D
- 5-D
- 6-
- 7-



@akmese.onur

@sosyal\_bilgiler\_zumresi2021

**SADECE SOSYAL BİLGİLER ÖĞRETMENLERİNİN YER ALDIĞI WHATSAP GRUPLARIMIZDAN BİRİNE KATILMAK İÇİN MAIL ATABİLİRSİNİZ.**

**onurakmese16@gmail.com**

Daha Fazlası İçin Tıkla

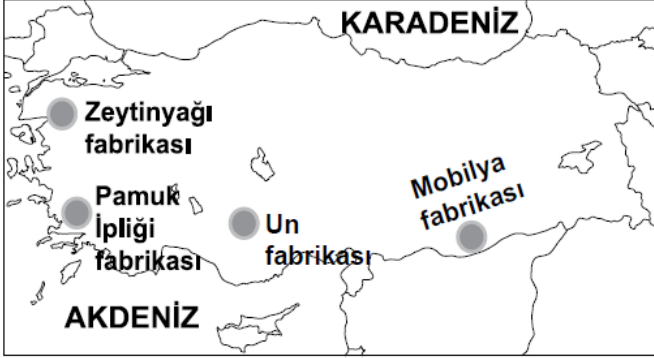
[www.akmeseonur.com](http://www.akmeseonur.com)



**BU KAZANIMDAN SON 10 YILDA 3 SORU SORULMUŞTUR.**

1

Ülkemize yatırım yapmak isteyen bazı iş adamlarının yapacağı fabrikaların kurulacağı yerler aşağıdaki haritada verilmiştir.



Fabrikaların ham madde kaynağına yakın olması istendiğinde hangi fabrikanın yeri yanlış gösterilmiştir?

- A) Pamuk ipliği      B) Un  
C) Zeytinyağı      D) Mobilya

2

Mobilya fabrikası kurmayı planlayan bir işadamı, tesisinin ham madde kaynağına yakın olmasını istemektedir.

Bunun için, aşağıdaki illerden hangisini tercih etmelidir?

- A) Mardin      B) Elazığ  
C) Giresun      D) Nevşehir

3

Tabloda bir yatırım projesine ait bilgiler verilmiştir:

PROJE	
Coğrafi Özellikler	Dağlık ve engebeli arazi, yüksek boylu otlar, düşük sıcaklık değerleri
Yatırım Önerisi	Et ve süt ürünleri işletmesi
Pazarlama Önerileri	- Uzaklıktan dolayı ürünlerin taşınmasında soğutma sistemli araçların kullanılması - Reklam ve ürün tanıtımına ağırlık verilmesi

Verilen bilgilere göre bu tesisin yapılacağı alan aşağıdakilerden hangisidir?

- A) Aydın ve çevresi      B) Kars ve çevresi  
C) İstanbul ve çevresi      D) Konya ve çevresi



**KAZANIM 21:** TÜRKİYE'NİN COĞRAFİ ÖZELLİKLERİNİ DİKKATE ALARAK YATIRIM VE PAZARLAMA PROJE ÖNERİLERİ HAZIRLAR.



**BU KAZANIMDAN SON 10 YILDA 3 SORU SORULMUŞTUR.**

### CEVAP ANAHTARI

- 1-D
- 2-C
- 3-B
- 4-
- 5-
- 6-
- 7-



@akmese.onur

@sosyal\_bilgiler\_zumresi2021

**SADECE SOSYAL BİLGİLER ÖĞRETMENLERİNİN YER ALDIĞI WHATSAP GRUPLARIMIZDAN BİRİNE KATILMAK İÇİN MAIL ATABİLİRSİNİZ.**

**onurakmese16@gmail.com**

Daha Fazlası İçin Tıkla

[www.akmeseonur.com](http://www.akmeseonur.com)





**BU KAZANIMDAN SON 10 YILDA 4 SORU SORULMUŞTUR.**

1

Ülke ekonomisine katkıda bulunmak isteyen bir işveren, aşağıdaki faaliyetlerden hangisini öncelikle yapmalıdır?

- A) Vergisini zamanında ödemelidir.
- B) Çalışanlarına eğitim vermelidir.
- C) İş güvenliğine önem vermelidir.
- D) Çalışanlarına güvenmelidir.

2

- I. Her vatandaş aynı miktarda vergi öder.
- II. Vergi ödemek bir vatandaşlık görevidir.
- III. Toplanan vergilerle vatandaşlara yeni hizmetler sunulur.

Numaralanmış bilgilerden hangileri doğrudur?

- A) I ve II.
- B) I ve III.
- C) II ve III.
- D) I, II ve III.

3

Alışverişlerde ödenen paranın bir kısmının vergi olarak devlet hazinesine aktarılmasını sağlamak için aşağıdakilerden hangisi yapılmalıdır?

- A) Satın alınan ürünler uzun süre kullanılmalıdır.
- B) Alışveriş sonunda satış fişi veya fatura alınmalıdır.
- C) Ürünlerin son kullanma tarihine bakılmalıdır.
- D) Alışverişlerde indirimden yararlanılmalıdır.

4

Yürüdüğümüz yollarda,  
İçtiğimiz sularda,  
Hepimizin hakkı var.  
Karınca kararınca.

Mine Dikilioğlu

Bu dördlükte, vatandaşlık görevlerimizden hangisine vurgu yapılmıştır?

- A) Oy kullanma
- B) Vergi verme
- C) Askerlik yapma
- D) Seçimlere katılma



**KAZANIM 22:** VATANDAŞLIK SORUMLULUĞU VE ÜLKE EKONOMİSİNE KATKISI AÇISINDAN  
VERGİ VERMENİN GEREĞİNİ VE ÖNEMİNİ SAVUNUR.



**BU KAZANIMDAN SON 10 YILDA 4 SORU SORULMUŞTUR.**

### CEVAP ANAHTARI

- 1-A
- 2-C
- 3-B
- 4-B
- 5-
- 6-
- 7-



@akmese.onur

@sosyal\_bilgiler\_zumresi2021

**SADECE SOSYAL BİLGİLER ÖĞRETMENLERİNİN YER ALDIĞI WHATSAP  
GRUPLARIMIZDAN BİRİNE KATILMAK İÇİN MAIL ATABİLİRSİNİZ.**

**onurakmese16@gmail.com**

Daha Fazlası İçin Tıkla

[www.akmeseonur.com](http://www.akmeseonur.com)



**BU KAZANIMDAN SON 10 YILDA 1 SORU SORULMUŞTUR.**

1

Aynı mesleğe sahip insanların bir kısmı diğerlerinden daha verimli çalışabilmektedirler. Yaptığı işin hakkını veren, verimli insanlara nitelikli insanlar denilmektedir.

**Buna göre aşağıdakilerden hangisi nitelikli insana ait bir özelliktir?**

- A) İyi eğitilmiş olmaya gerek duymazlar.
- B) Zamanı, kaynakları ve emeği israf etmezler.
- C) Sahip oldukları bilgiyi geliştirmeye ihtiyaç duymazlar.
- D) Görev ve sorumluluklarını yerine getirmede isteksizdirler.



**KAZANIM 23:** NİTELİKLİ İNSAN GÜCÜNÜN TÜRKİYE EKONOMİSİNİN GELİŞİMİNDEKİ YERİNİ VE ÖNEMİNİ ANALİZ EDER.



**BU KAZANIMDAN SON 10 YILDA 1 SORU SORULMUŞTUR.**

### CEVAP ANAHTARI

1-B

2-

3-

4-

5-

6-

7-



@akmese.onur

@sosyal\_bilgiler\_zumresi2021

**SADECE SOSYAL BİLGİLER ÖĞRETMENLERİNİN YER ALDIĞI WHATSAP GRUPLARIMIZDAN BİRİNE KATILMAK İÇİN MAIL ATABİLİRSİNİZ.**

**onurakmese16@gmail.com**

Daha Fazlası İçin Tıkla

[www.akmeseonur.com](http://www.akmeseonur.com)



**BU KAZANIMDAN SON 10 YILDA 7 SORU SORULMUŞTUR.**

1



Ali

- Spora karşı ilgi ve yeteneğim var.
- Düzenli fiziksel etkinlikler yapıyorum.
- Sportif organizasyonlara katılıyorum.
- İletişim gücü yüksek, sosyal bir insanım.
- Öğrendiklerimi başkalarıyla paylaşmayı severim.

**Ali'nin ilgi ve yeteneklerini dikkate alarak bir meslek seçimi yapması durumunda aşağıdakilerden hangisini seçmesi beklenir?**

- A) Hakimlik
- B) Mimarlık
- C) Beden eğitimi öğretmenliği
- D) Bilgisayar mühendisliği

2

**Meslek seçmek durumunda olan bir kişi aşağıdakilerden hangisine öncelikle dikkat etmelidir?**

- A) Mesleğin toplumdaki saygınlığına
- B) Sadece ailesinin fikirlerine
- C) Mesleğin maddi getirisine
- D) Kendi ilgi ve becerilerine

3

Meltem iş yaşamında başarılı, mutlu ve üretken bir birey olmak istiyor. Ancak hangi mesleği seçmesi gerektiği konusunda kararsızlık yaşıyor.

**Buna göre Meltem meslek seçimi yaparken;**

- I. kişisel özellikleri,
- II. ilgi ve yetenekleri,
- III. mesleğin iş imkanları

**durumlarından hangilerine dikkat ederse doğru bir karar verebilir?**

- A) Yalnız I.
- B) Yalnız III.
- C) I ve II.
- D) I, II ve III.

4

Sevgi, sosyal bilimlere ilgi duyan, sözel yeteneklere sahip, geçmişi araştırmayı ve incelemeyi seven bir öğrencidir.

**Sevgi'nin ilgi ve yeteneğini dikkate alarak bir meslek seçimi yapması durumunda aşağıdakilerden hangisini seçmesi beklenir?**

- A) Tarihçilik
- B) Veterinerlik
- C) Doktorluk
- D) Mühendislik



**BU KAZANIMDAN SON 10 YILDA 7 SORU SORULMUŞTUR.**

5

Etrafımdaki çocuklara bir şeyler öğretmeyi seviyorum. Bunu yaparken sevecen ve sabırlı tavırlar sergiliyorum.



İpek



Zeynep

Keyifle gezdiğim resim sergilerinde hayal gücümün daha çok geliştiğini düşünüyorum.

Buna göre İpek ve Zeynep'in aşağıdaki mesleklerden öncelikle hangilerini seçmeleri beklenir?

İpek

Zeynep

- |             |            |
|-------------|------------|
| A) Öğretmen | Sanatçı    |
| B) Doktor   | Asker      |
| C) Yazar    | Yönetici   |
| D) Sporcu   | Politikacı |

6

İnsanlar birbirlerinden farklı yetenek ve becerilere sahiptir, mesleklerini seçerken de bunlara dikkat ederler.

Buna göre bir öğretmenin aşağıdaki yetenek veya becerilerden hangisine sahip olması gerekir?

- A) Kendisinden başkasına güvenmemek
- B) İnsanlarla iyi iletişim kurabilmek
- C) Atletik yapıya sahip olmak
- D) El işlerine yatkın olmak

7

**İLAN!**

Malatya'daki şantiyemizde çalıştırılmak üzere iyi derecede teknik çizim yapabilen

alınacaktır.

Verilen ilanda boş bırakılan yere, sizce aşağıdaki mesleklerden hangisi yazılmalıdır?

- |                    |                     |
|--------------------|---------------------|
| A) Ressam          | B) Satış Temsilcisi |
| C) Kepçe Operatörü | D) İnşaat Mühendisi |



**KAZANIM 24:** İLGİ DUYDUĞU MESLEKLERİN GEREKTİRDİĞİ KİŞİLİK ÖZELLİKLERİNİ, BECERİLERİ VE EĞİTİM SÜRECİNİ ARAŞTIRIR.



**BU KAZANIMDAN SON 10 YILDA 7 SORU SORULMUŞTUR.**

### CEVAP ANAHTARI

- 1-C
- 2-D
- 3-D
- 4-A
- 5-A
- 6-B
- 7-D



@akmese.onur

@sosyal\_bilgiler\_zumresi2021

**SADECE SOSYAL BİLGİLER ÖĞRETMENLERİNİN YER ALDIĞI WHATSAP GRUPLARIMIZDAN BİRİNE KATILMAK İÇİN MAIL ATABİLİRSİNİZ.**

**onurakmese16@gmail.com**

Daha Fazlası İçin Tıkla

[www.akmeseonur.com](http://www.akmeseonur.com)





**ETKİN VATANDAŞLIK**



# 6.ÜNİTE



**BU ÜNİTEDEN 2012 YILINDAN  
2021 YILINA KADAR YAPILAN  
10 SINAVDA TOPLAM  
15 SORU ÇIKMIŞTIR.**

- 1.DEMOKRASİNİN TEMEL İLKELERİ AÇISINDAN FARKLI YÖNETİM BİÇİMLERİNİ KARŞILAŞTIRIR.
- 2.TÜRKİYE CUMHURİYETİ DEVLETİNDE YASAMA, YÜRÜTME VE YARGI GÜÇLERİ ARASINDAKİ İLİŞKİYİ AÇIKLAR.
- 3.YÖNETİMİN KARAR ALMA SÜRECİNİ ETKİLEYEN UNSURLARI ANALİZ EDER.
- 4.TÜRKİYE CUMHURİYETİNİN ETKİN BİR VATANDAŞI OLARAK HAK VE SORUMLULUKLARININ ANAYASAL GÜVENCE ALTINDA OLDUĞUNU AÇIKLAR.
- 5.TÜRK TARİHİNDEN VE GÜNCEL ÖRNEKLERDEN YOLA ÇIKARAK TOPLUMSAL HAYATTA KADINA VERİLEN DEĞERİ FARK EDER.



@akmese.onur

@sosyal\_bilgiler\_zumresi2021

**BU KAZANIMDAN SON 10 YILDA 8 SORU SORULMUŞTUR.**

1

Tabloda yönetim biçimleri ve özellikleri verilmiştir:

YÖNETİM BİÇİMLERİ	ÖZELLİKLERİ
Cumhuriyet	Demokrasi ile ilişkilendirilebilir, halk söz sahibidir.
Teokrasi	Devlet yönetiminde dinî kurallar etkilidir.
Monarşi	Halk, yöneticilerini belirli bir süreliğine seçer.
Oligarşi	Yönetme yetkisi bir grubun elindedir.

Buna göre yönetim biçimlerinden hangisine ait özellik yanlıştır?

- A) Cumhuriyet B) Teokrasi  
C) Monarşi D) Oligarşi

2

Magna Carta'ya (Magna Karta) göre yargı kararı olmadan hiç kimse tutuklanamaz, hapsedilemez ve sürgün edilemezdi.

Magna Karta'da geçen bu hüküm günümüz modern yönetim anlayışının hangi özelliği ile ilişkilendirilebilir?

- A) Yaşama hakkı  
B) Düşünce özgürlüğü  
C) Din ve vicdan özgürlüğü  
D) Hukukun üstünlüğü

3

Demokrasinin temel ilkelerinin en iyi şekilde uygulandığı yönetim sistemi aşağıdakilerden hangisidir?

- A) Monarşi B) Cumhuriyet  
C) Meşrutiyet D) Oligarşi

4

- Devlet ve toplum kuralları, din kurallarına göre belirlenir.
- Yöneticiler din adamlarıdır.
- Yöneticiler yalnızca tanrıya karşı sorumludur.

Verilen bilgiler hangi yönetim biçimi ile ilgilidir?

- A) Cumhuriyet B) Oligarşi  
C) Monarşi D) Teokrasi

5

Osmanlı Devleti'nde 1876 yılında kabul edilen Kanunuesasi'nin aşağıdaki maddelerinden hangisi, hukukun üstünlüğü ilkesini vurgulamaktadır?

- A) Osmanlı Devleti'nin resmî dili Türkçedir.  
B) Kanuna dayalı olmadığı sürece kimseden vergi alınamaz.  
C) Herkesin mal ve mülk edinme hakkı vardır.  
D) İşkence ve her türlü eziyet kesinlikle yasaktır.

**BU KAZANIMDAN SON 10 YILDA 8 SORU SORULMUŞTUR.**

6

Kral, Tanrı'nın yeryüzündeki temsilcisi olarak görülür. Ülkem dinî kurallara göre yönetilir.



Leyla



Benim ülkemde hükümdarın emirleri kanun sayılır. Saltanat babadan oğula geçer.

Hasan

Ülkemde siyasi güç bir gruba aittir. Yönetime katılma hakkı, sadece bu grup tarafından kullanılabilir.



Suna



Egemenliğin kaynağı millettir. Ülkemde yasama, yürütme ve yargı gücü, farklı kurumlarca uygulanır.

Hüseyin

Yukarıdaki öğrencilerden hangisinin ülkesi insan haklarının en fazla gözetildiği yönetim biçimine sahiptir?

- A) Leyla B) Hasan  
C) Suna D) Hüseyin

7

Yaşadığım ülke ayrıcalıklı bir azınlık tarafından yönetilir. Bu kişiler devletin bütün kurumlarını kontrolünde tutar.



Tuna

Benim yaşadığım ülkede ise egemenliğin kaynağı millettir. Devleti yönetecek kişilerin seçimi iş başına geldiği yönetimdir.



Meltem

Tuna ile Meltem'in bahsettikleri yönetim şekilleri aşağıdakilerden hangileridir?

	Tuna	Meltem
A)	Teokrasi	Monarşi
B)	Monarşi	Oligarşi
C)	Oligarşi	Cumhuriyet
D)	Cumhuriyet	Teokrasi

8

I  
Benim ülkemde siyasi güç, bir grup tarafından kullanılır.

II  
Tanrı adına ülkeyi dinî kurallara göre yönetirim.

Bu açıklamalar, aşağıdaki yönetim biçimlerinden hangilerine ait olabilir?

I	II
A) Monarşi	Oligarşi
B) Oligarşi	Teokrasi
C) Monarşi	Cumhuriyet
D) Cumhuriyet	Teokrasi





**KAZANIM 25:** DEMOKRASİNİN TEMEL İLKELERİ AÇISINDAN FARKLI YÖNETİM BİÇİMLERİNİ KARŞILAŞTIRIR.



**BU KAZANIMDAN SON 10 YILDA 8 SORU SORULMUŞTUR.**

### CEVAP ANAHTARI

1-C 8-B

2-D

3-B

4-D

5-B

6-D

7-C



@akmese.onur

@sosyal\_bilgiler\_zumresi2021

**SADECE SOSYAL BİLGİLER ÖĞRETMENLERİNİN YER ALDIĞI WHATSAP GRUPLARIMIZDAN BİRİNE KATILMAK İÇİN MAIL ATABİLİRSİNİZ.**

**onurakmese16@gmail.com**

Daha Fazlası İçin Tıkla

[www.akmeseonur.com](http://www.akmeseonur.com)





**KAZANIM 26:** TÜRKİYE CUMHURİYETİ DEVLETİNDE YASAMA, YÜRÜTME VE YARGI GÜÇLERİ ARASINDAKİ İLİŞKİYİ AÇIKLAR.



**BU KAZANIMDAN SON 10 YILDA 1 SORU SORULMUŞTUR.**



Anayasamızda yer alan “yasama yetkisi” aşağıdakilerden hangisi ile ilgilidir?

- A) Kanun yapma
- B) Kanunları uygulama
- C) Kanunlara uymayanları yargılama
- D) Kanunlar çerçevesinde ülkeyi yönetme



**KAZANIM 26:** TÜRKİYE CUMHURİYETİ DEVLETİNDE YASAMA, YÜRÜTME VE YARGI GÜÇLERİ ARASINDAKİ İLİŞKİYİ AÇIKLAR.



**BU KAZANIMDAN SON 10 YILDA 1 SORU SORULMUŞTUR.**

## CEVAP ANAHTARI

**1-A**



**@akmese.onur**

**@sosyal\_bilgiler\_zumresi2021**

**SADECE SOSYAL BİLGİLER ÖĞRETMENLERİNİN YER ALDIĞI WHATSAP GRUPLARIMIZDAN BİRİNE KATILMAK İÇİN MAIL ATABİLİRSİNİZ.**

**onurakmese16@gmail.com**

**Daha Fazlası İçin Tıkla**

**[www.akmeseonur.com](http://www.akmeseonur.com)**



**KAZANIM 27: YÖNETİMİN KARAR ALMA SÜRECİNİ ETKİLEYEN UNSURLARI ANALİZ  
EDER.**

**BU KAZANIMDAN SON 10 YILDA 0 SORU SORULMUŞTUR.**



**KAZANIM 27: YÖNETİMİN KARAR ALMA SÜRECİNİ ETKİLEYEN UNSURLARI ANALİZ  
EDER.**



**BU KAZANIMDAN SON 10 YILDA 0 SORU SORULMUŞTUR.**

## **CEVAP ANAHTARI**



**@akmese.onur**

**@sosyal\_bilgiler\_zumresi2021**

**SADECE SOSYAL BİLGİLER ÖĞRETMENLERİNİN YER ALDIĞI WHATSAP  
GRUPLARIMIZDAN BİRİNE KATILMAK İÇİN MAIL ATABİLİRSİNİZ.**

**onurakmese16@gmail.com**

**Daha Fazlası İçin Tıkla**

**[www.akmeseonur.com](http://www.akmeseonur.com)**





**BU KAZANIMDAN SON 10 YILDA 3 SORU SORULMUŞTUR.**

1

**Hasan :** İnsanın doğuştan sahip olduğu temel haklardan biridir.

**Aysun :** Bireyin başkalarına zarar vermeden her şeyi yapabilmesidir.

**Öğrenciler hangi kavram hakkında konuşmaktadırlar?**

- A) Özgürlük  
C) Katılımcılık
- B) Eşitlik  
D) Millî egemenlik

2

- I. Yaşama hakkı  
II. Mülkiyet hakkı  
III. Özel hayatın gizliliği

**Yukarıdakilerden hangileri temel hak ve özgürlüklerimiz arasında yer alır?**

- A) Yalnız I  
C) I, II ve III.
- B) I ve II.  
D) II ve III.

3

18 yaş üzeri, akli dengesi yerinde olan herkes organlarını bağışlayabilir. Kişiler, organ bağışladıklarını mutlaka yakınlarıyla paylaşmalıdır. Çünkü bir kişinin beyin ölümü gerçekleştiğinde yakınları izin vermedikçe kişinin herhangi bir organı alınamaz.

**Bu durum aşağıdaki hangi temel hakla güvence altına alınmıştır?**

- A) Eğitim  
B) Özel hayatın gizliliği  
C) Kişi dokunulmazlığı  
D) Düşünce özgürlüğü



**KAZANIM 28:** TÜRKİYE CUMHURİYETİNİN ETKİN BİR VATANDAŞI OLARAK HAK VE SORUMLULUKLARININ ANAYASAL GÜVENCE ALTINDA OLDUĞUNU AÇIKLAR.



**BU KAZANIMDAN SON 10 YILDA 3 SORU SORULMUŞTUR.**

### CEVAP ANAHTARI

- 1-A
- 2-C
- 3-C
- 4-
- 5-
- 6-
- 7-



@akmese.onur

@sosyal\_bilgiler\_zumresi2021

**SADECE SOSYAL BİLGİLER ÖĞRETMENLERİNİN YER ALDIĞI WHATSAP GRUPLARIMIZDAN BİRİNE KATILMAK İÇİN MAIL ATABİLİRSİNİZ.**

**onurakmese16@gmail.com**

Daha Fazlası İçin Tıkla

[www.akmeseonur.com](http://www.akmeseonur.com)



**BU KAZANIMDAN SON 10 YILDA 3 SORU SORULMUŞTUR.**

1

Osmanlı Devleti Dönemi'nde Türk kadınları, kurdukları vakıflarla birçok cami, hastane, hamam, çeşme gibi yapılar inşa ettirmişlerdir. İstanbul'da Mihrişah Valide Sultan'ın yaptırdığı Sıbyan Mektebi, Hürrem Sultan'ın yaptırdığı Çifte Hamam bunlardan bazılarıdır.

Bu bilgiden, Türk kadını ile ilgili olarak;

- I- sosyal hayatta yer almışlardır.
- II- yönetimde etkin rol oynamışlardır.
- III- topluma yarar sağlayan eserler yaptırmışlardır.

yargılarından hangisini/hangilerini çıkarabiliriz?

- A) Yalnız III
- B) I ve III
- C) II ve III
- D) I, II ve III

2

Türk kadını 1930 yılında belediye seçimlerine katılma hakkı elde etmiştir. 1933 yılında muhtar ve ihtiyar kuruluna seçme ve seçilme hakkı, 1934 yılında genel seçimlerde seçme ve seçilme hakkı verilmiştir. Kadınlar, Bulgaristan ve Fransa'da 1944 yılında, İtalya'da 1945 yılında, İsviçre'de 1971 yılında siyasi haklarını elde etmişlerdir.

**Buna göre Türkiye'deki kadın hakları ile ilgili olarak aşağıdakilerden hangisi söylenebilir?**

- A) Ülkemizdeki kadın milletvekili sayısı erkeklerden fazladır.
- B) Türk kadınının elde ettiği ilk siyasi hak muhtarlık seçimleridir.
- C) Türkiye'deki kadınlar tüm siyasi haklarını aynı tarihte kazanmıştır.
- D) Türk kadını siyasi haklarına birçok ülkeden önce kavuşmuştur.

3

Kadınlar, Türklerin Anadolu'yu yurt edinmelerinde; vakıflar kurmalarında; cami, hastane, hamam gibi yapıların yaygınlaşmasında önemli rol üstlenmişlerdir.

**Bu bilgiden aşağıdakilerden hangisine ulaşılabılır?**

- A) Kadınlar erkeklere göre daha fazla hakka sahip olmuşlardır.
- B) Kadınların toplumsal dönüşümde etkisi yoktur.
- C) Kadınlar sadece aile içinde söz sahibidir.
- D) Kadınlar toplumsal hayatta etkilidir.



**KAZANIM 29:** TÜRK TARİHİNDEN VE GÜNCEL ÖRNEKLERDEN YOLA ÇIKARAK TOPLUMSAL HAYATTA KADINA VERİLEN DEĞERİ FARK EDER.



**BU KAZANIMDAN SON 10 YILDA 3 SORU SORULMUŞTUR.**

### CEVAP ANAHTARI

- 1-B
- 2-D
- 3-D
- 4-
- 5-
- 6-
- 7-



@akmese.onur

@sosyal\_bilgiler\_zumresi2021

**SADECE SOSYAL BİLGİLER ÖĞRETMENLERİNİN YER ALDIĞI WHATSAP GRUPLARIMIZDAN BİRİNE KATILMAK İÇİN MAIL ATABİLİRSİNİZ.**

**onurakmese16@gmail.com**

Daha Fazlası İçin Tıkla

[www.akmeseonur.com](http://www.akmeseonur.com)





## KÜRESEL BAĞLANTILAR



# 7.ÜNİTE



**BU ÜNİTEDEN 2012 YILINDAN  
2021 YILINA KADAR YAPILAN  
10 SINAVDA TOPLAM  
13 SORU ÇIKMIŞTIR.**

- 1.ÜLKEMİZİN TÜRK CUMHURİYETLERİ VE KOMŞU DEVLETLERLE OLAN KÜLTÜREL, SOSYAL, SİYASİ VE EKONOMİK İLİŞKİLERİNİ ANALİZ EDER.
- 2.ÜLKEMİZİN DİĞER ÜLKELERLE OLAN EKONOMİK İLİŞKİLERİNİ ANALİZ EDER.
- 3.ÜLKEMİZİN SAHİP OLDUĞU SİYASİ, ASKERÎ, EKONOMİK VE KÜLTÜREL ÖZELLİKLERE BAĞLI OLARAK ULUSLARARASI ALANDA ÜSTLENDİĞİ ROLLERİ ANALİZ EDER.
- 4.POPÜLER KÜLTÜRÜN, KÜLTÜRÜMÜZ ÜZERİNDEKİ ETKİLERİNİ SORGULAR.



@akmese.onur

@sosyal\_bilgiler\_zumresi2021

**BU KAZANIMDAN SON 10 YILDA 2 SORU SORULMUŞTUR.**

1

Türk dilini konuşan ve ülkemize komşu olan ülkelerin kalkınmalarına yardımcı olmak ve bu ülkelerle çeşitli alanlarda işbirliğini geliştirmek amacıyla 1992 yılında oluşturulan kuruluş aşağıdakilerden hangisidir?

- |         |        |
|---------|--------|
| A) NATO | B) TRT |
| C) TİKA | D) BM  |

2

Aşağıdakilerden hangisi, Türkçe konuşan ülkeler ve toplumlar arasındaki kültürel ilişkilerin geliştirilmesi amacıyla oluşturulan TÜRKSOY'un kurucularındandır?

- |                 |                |
|-----------------|----------------|
| A) Tacikistan   | B) Bulgaristan |
| C) Türkmenistan | D) Yunanistan  |





**KAZANIM 30:** ÜLKEMİZİN TÜRK CUMHURİYETLERİ VE KOMŞU DEVLETLERLE OLAN KÜLTÜREL, SOSYAL, SİYASİ VE EKONOMİK İLİŞKİLERİNİ ANALİZ EDER.



**BU KAZANIMDAN SON 10 YILDA 2 SORU SORULMUŞTUR.**

### CEVAP ANAHTARI

- 1-C
- 2-C
- 3-
- 4-
- 5-
- 6-
- 7-



@akmese.onur

@sosyal\_bilgiler\_zumresi2021

**SADECE SOSYAL BİLGİLER ÖĞRETMENLERİNİN YER ALDIĞI WHATSAP GRUPLARIMIZDAN BİRİNE KATILMAK İÇİN MAIL ATABİLİRSİNİZ.**

**onurakmese16@gmail.com**

Daha Fazlası İçin Tıkla

[www.akmeseonur.com](http://www.akmeseonur.com)



**BU KAZANIMDAN SON 10 YILDA 2 SORU SORULMUŞTUR.**

1

Türkiye, aşağıdaki ülkelerden hangisiyle daha fazla ticaret yapmaktadır?

- |           |             |
|-----------|-------------|
| A) Norveç | B) Almanya  |
| C) Kanada | D) Brezilya |

2

Aşağıdakilerden hangisi Türkiye'nin ihraca-  
tında daha fazla paya sahiptir?

- |                    |                   |
|--------------------|-------------------|
| A) Sanayi ürünleri | B) Orman ürünleri |
| C) Deniz ürünleri  | D) Madenler       |

**KAZANIM 31: ÜLKEMİZİN DİĞER ÜLKELERLE OLAN EKONOMİK İLİŞKİLERİNİ ANALİZ EDER.**

**BU KAZANIMDAN SON 10 YILDA 2 SORU SORULMUŞTUR.**

### **CEVAP ANAHTARI**

- 1-B**
- 2-A**
- 3-**
- 4-**
- 5-**
- 6-**
- 7-**



**@akmese.onur**

**@sosyal\_bilgiler\_zumresi2021**

**SADECE SOSYAL BİLGİLER ÖĞRETMENLERİNİN YER ALDIĞI WHATSAP GRUPLARIMIZDAN BİRİNE KATILMAK İÇİN MAIL ATABİLİRSİNİZ.**

**onurakmese16@gmail.com**

**Daha Fazlası İçin Tıkla**

**[www.akmeseonur.com](http://www.akmeseonur.com)**



**BU KAZANIMDAN SON 10 YILDA 8 SORU SORULMUŞTUR.**

1

Komşuları ile ve bütün devletlerle iyi geçinmek Türkiye siyasetinin esasıdır.



Atatürk, bu sözü ile dış politikada, aşağıdakilerden hangisinin önemini vurgulamıştır?

- A) Tam bağımsızlığın
- B) Ulusal egemenliğin
- C) Yurtta ve dünyada barışın
- D) Çıkarlarımıza uygun dış siyasetin

2

- Türkiye 2007 yılında deprem afeti yaşayan Peru'ya ve sellerle boğuşan Bulgaristan'a destek olmuştur.
- Japonya 1999 yılında yaşanan Marmara depremi nedeniyle Türkiye'ye 500 adet pre-fabrik konut göndermiştir.

Verilen örnekler ülkeler arası ilişkilerde aşağıdakilerden hangisinin gelişmesine katkıda bulunmaz?

- A) Dayanışma
- B) Rekabet
- C) İş birliği
- D) Yardımlaşma

3

Aşağıdakilerden hangisi uluslararası düzenlenen kültür festivalleri, bilimsel organizasyonlar, fuarlar ve spor müsabakaları gibi faaliyetlerin ülkelere sağladığı yararlar arasında sayılamaz?

- A) Bir ülkenin tanıtımına katkıda bulunmak
- B) Ülkeler arası ilişkileri güçlendirmek
- C) Ülkelere ekonomik katkıda bulunmak
- D) Kültür çatışmasına sebep olmak

4

“Dünya milletlerinin saadetine çalışmak, diğer bir yoldan kendi huzur ve saadetini sağlamaya çalışmak demektir.” sözüyle Atatürk, aşağıdakilerden hangisinin önemine vurgu yapmıştır?

- A) Ekonomik bağımsızlığın
- B) Güçler ayrılığı ilkesinin
- C) Uluslararası barışın
- D) Demokrasinin

5

Her yıl 23 Nisan'da ülkemizde uluslararası kutlamalar düzenlenmektedir. Farklı ülkelerden gelen çocuklar, ülkemizde Türk ailelerinin yanında misafir edilmektedirler. Misafirler, 23 Nisan kutlamaları boyunca kendi kültürlerinden örnekler sergilerler.

Verilen bu bilgiye göre aşağıdakilerden hangisi, 23 Nisan kutlamalarının toplumlar arasında sağlayacağı katkılardan olamaz?

- A) Yeni arkadaşlıkların kurulması
- B) Millî kültürlerin benimsenmesi
- C) Ülkeler arası dostlukların pekiştirilmesi
- D) Toplumlar arasında etkileşimin sağlanması

**BU KAZANIMDAN SON 10 YILDA 8 SORU SORULMUŞTUR.**

**6 ve 7. soruları alttaki  
metne göre  
cevaplandırınız.**

8

Aşağıdakilerden hangisi Türkiye'nin millî dış politikada benimsediği bir ilke değildir?

- A) Barışçılık  
B) Bağımsızlık  
C) Yayılmacılık  
D) Eşitlik

6

Rusya'da nüfus yoğunluğunun çok düşük olmasının temel sebebi aşağıdakilerden hangisidir?

- A) İki kıtada topraklarının olması  
B) Maden bakımından zengin olması  
C) Olumsuz iklim özelliklerine sahip olması  
D) Tarımda çalışan nüfusun az olması

7

Türkiye'nin kendi kaynakları dikkate alındığında, Rusya'dan aşağıdakilerden hangisini ithal (dış alım) etmesi beklenir?

- A) Taşıt araçları  
B) Tarımsal ürün  
C) Mobilya  
D) Enerji kaynağı



**KAZANIM 32:** ÜLKEMİZİN SAHİP OLDUĞU SİYASİ, ASKERİ, EKONOMİK VE KÜLTÜREL ÖZELLİKLERE BAĞLI OLARAK ULUSLARARASI ALANDA ÜSTLENDİĞİ ROLLERİ ANALİZ EDER.



**BU KAZANIMDAN SON 10 YILDA 8 SORU SORULMUŞTUR.**

### CEVAP ANAHTARI

- |     |     |
|-----|-----|
| 1-C | 8-C |
| 2-B |     |
| 3-D |     |
| 4-C |     |
| 5-B |     |
| 6-C |     |
| 7-D |     |



@akmese.onur

@sosyal\_bilgiler\_zumresi2021

**SADECE SOSYAL BİLGİLER ÖĞRETMENLERİNİN YER ALDIĞI WHATSAP GRUPLARIMIZDAN BİRİNE KATILMAK İÇİN MAIL ATABİLİRSİNİZ.**

**onurakmese16@gmail.com**

Daha Fazlası İçin Tıkla

[www.akmeseonur.com](http://www.akmeseonur.com)





**BU KAZANIMDAN SON 10 YILDA 1 SORU SORULMUŞTUR.**

1

Aşağıdakilerden hangisi Türkçenin bozulmasına yol açan sebeplerden biri değildir?

- A) Yabancı kelimelerin dilimize girmesi
- B) İş yeri tabelalarında yabancı kelimelerin kullanılması
- C) Genel Ağ ortamında Türkçenin yanlış kullanılması
- D) Teknolojik buluşlara Türkçe isim verilmesi

**KAZANIM 33: POPÜLER KÜLTÜRÜN, KÜLTÜRÜMÜZ ÜZERİNDEKİ ETKİLERİNİ SORGULAR.**

**BU KAZANIMDAN SON 10 YILDA 1 SORU SORULMUŞTUR.**

## **CEVAP ANAHTARI**

**1-D**



**@akmese.onur**

**@sosyal\_bilgiler\_zumresi2021**

**SADECE SOSYAL BİLGİLER ÖĞRETMENLERİNİN YER ALDIĞI WHATSAP GRUPLARIMIZDAN BİRİNE KATILMAK İÇİN MAIL ATABİLİRSİNİZ.**

**onurakmese16@gmail.com**

**Daha Fazlası İçin Tıkla**

**[www.akmeseonur.com](http://www.akmeseonur.com)**



**Daha Fazla Ücretsiz İçerik İçin;**

**Web: [www.akmeseonur.com](http://www.akmeseonur.com)**

**Youtube: [Onur AKMEŞE-ZGA Yayınları](https://www.youtube.com/channel/UCkMESE-ZGA)**

**Instagram: [@akmese.onur](https://www.instagram.com/akmese.onur)**

**Instagram: [@sosyal bilgiler zumresi2021](https://www.instagram.com/sosyal_bilgiler_zumresi2021)**



**YouTube**



**Kitaplarımız ile ilgili bilgi ve sipariş için;**

**[www.zgayayinlari.com](http://www.zgayayinlari.com)**

**Whatsapp: 0 850 30 83 ZGA (942)**

**Yukarıdaki bağlantıların üzerine tıklayarak sitelere ulaşabilirsiniz.**



**8. SINIF SORU BANKAMIZ**



**8. SINIF 30'LU DENEMEMİZ**

**2022-2023 Eğitim Öğretim Döneminde 6. ve 7. Sınıf Sosyal Bilgiler Soru Bankalarımız ile SİZLERLEYİZ.**