

6 SINIF SOSYAL BİLGİLER

3.Ünite Deneme Sınavı 2

YUSUF BAYRAM

SOSYAL BİLGİLER ÖĞRETMENİ

- Yeryüzünün ya da bir parçasının, kuşbakışı görünüşüyle belli bir orana göre küçültülüp bir düzlem üzerine geçirilmesine denir.
 - Haritalarda kullanılan küçültme oranına denir.
 - Bir yerin kuş bakışı görünüşünün küçültülerek, ölçeksiz olarak bir düzlem üzerine çizilmesine denir.
1. Ölçek
 2. Kroki
 3. Harita

1.Yukarıda hangisi veya hangilerinin tanımı verilmiştir?

- A) Yalnız 3 B) 1 ve 3
C) Yalnız 1 D) 1, 2 ve 3

Yükselti ve Engebenin Fazla Olduğu Yerlerde:

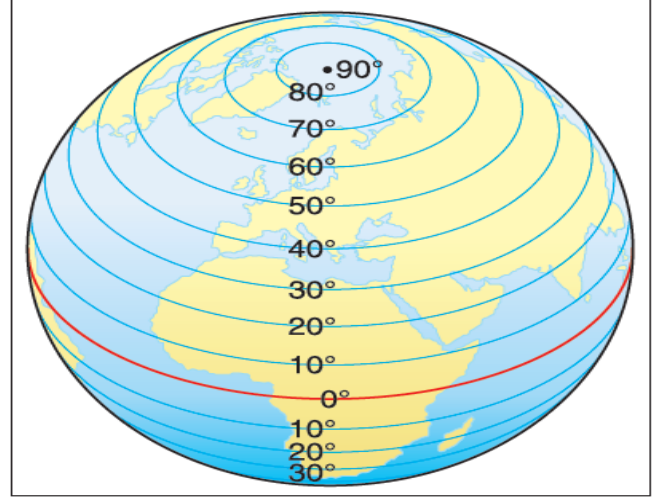
- Sıcaklık ortalaması
- Tarım alanları
- Sanayi ve ticaret
- Diğer bölgelere göç
- Nüfusu

2.Yukarıdaki boşluklara hangileri ile gelirse doğru olacaktır?

- A) Düşüktür, Azdır, Gelişmemiştir, Fazladır, Seyrek.
B) Düşüktür, Fazladır, Gelişmemiştir, Azdır, Seyrek.
C) Yüksek, Fazladır, Gelişmiştir, Fazladır, Seyrek.
D) Düşüktür, Fazladır, Gelişmemiştir, Azdır, Yoğundur.

3.Aşağıdaki örneklerden hangisi Göreceli (özel) Konum ile ilgili değildir?

- A) Ülkemiz Asya, Avrupa ve Afrika kıtalarının birbirine en çok yaklaştığı yerdedir.
B) Ülkemizin güneyi Ekvatora daha yakındır. Bu nedenle güney kıyılarımız, kuzey kıyılarıma göre daha sıcaktır.
C) Ülkemizin batıdan doğuya doğru yükseltisinin artmasından dolayı doğuya doğru sıcaklıklar azalır.
D) Ülkemizde denizlerden uzaklaştıkça nemlilik azalarak iç bölgelerde karasal iklim özellikleri görülür.



4.Aşağıdakilerden hangisi Paralellere ait bir özellik değildir?

- A) Ekvatorun kuzeyinde 90, güneyinde 90 olmak üzere 180 paralel vardır.
B) Ekvatordan kutuplara doğru gidildikçe Dünya'nın şekinden dolayı boyları kısalır.
C) Ekvatordan kutuplara doğru gidildikçe aralarındaki mesafe kısalır.
D) Dünya'nın şekinden dolayı kutuplarda nokta halini alır.

“Asya kıtasının güneyinde yer alan Hindistan'da yaşamaktayım. Burada yazları bol yağışlar görülürken kışları yağışlar oldukça azalır. Yaz mevsiminde etkili olan aşırı yağışlar bölgemizde sellere neden olmaktadır. Tarım alanları ve evler sel suları altında kalmaktadır. Bu durum hayatımızı oldukça zorlaştırmaktadır. Burada yetiştirilen pirinç sofralarımızın en çok tüketilen yiyeceğidir.”

5.Yaşadığı bölgeyi yukarıdaki gibi anlatan birisi hangi iklimde yaşamaktadır?

- A) Muson B) Ekvatorial
C) Akdeniz D) Kutup

Yer altı kaynakları bakımından zengin olan yerlerde madencilik gelişmiştir. Buna bağlı olarak bu yerlerde nüfus fazladır. Ülkemizde Taş kömürünün ve petrolün çıkartıldığı yerlerde nüfusun fazla olması yer altı kaynaklarının nüfusun dağılışına örnektir.

6.Taş kömürü ve Petrol ülkemizde hangi illerimizde çıkarılmaktadır?

- A) Gaziantep, Zonguldak
B) Manisa, Kırklareli
C) Batman, Kütahya
D) Zonguldak, Batman

6 SINIF SOSYAL BİLGİLER

3.Ünite Deneme Sınavı 2

YUSUF BAYRAM

SOSYAL BİLGİLER ÖĞRETMENİ



Bakı, bir yerin güneşe dönük olma durumudur. Güneş'e dönük yamaçlar, gölgede kalan yamaçlara göre güneş ışınlarını daha büyük açılarla alır ve daha fazla ısınır.

7.Buna göre Güney Yarım Küredeki dağların hangi yöndeki yamaçları bakı durumundadır?

- A) Güney
- B) Kuzey
- C) Doğu
- D) Batı

Sanayisi gelişmiş ülkeler, genellikle ekonomik olarak güçlü olan ülkelerdir. Örnek olarak günümüzde Japonya, Çin, Almanya, ABD vb. ülkeleri söyleyebiliriz. Ancak sanayileşmeyi gerçekleştirirken doğayı korumayı da ihmal etmemeliyiz. Fabrika bacalarına filtre takılması, atılan kirli suların toprağa ve sulara boşaltılmaması, mümkün olduğunca geri dönüşümü olan ham maddelerin kullanılması doğayı korumak için yapılabilecek önemli çalışmalardır. Ülkemizde T.C. Çevre ve Şehircilik Bakanlığı bünyesinde "Sıfır Atık Projesi" yürütülmektedir.

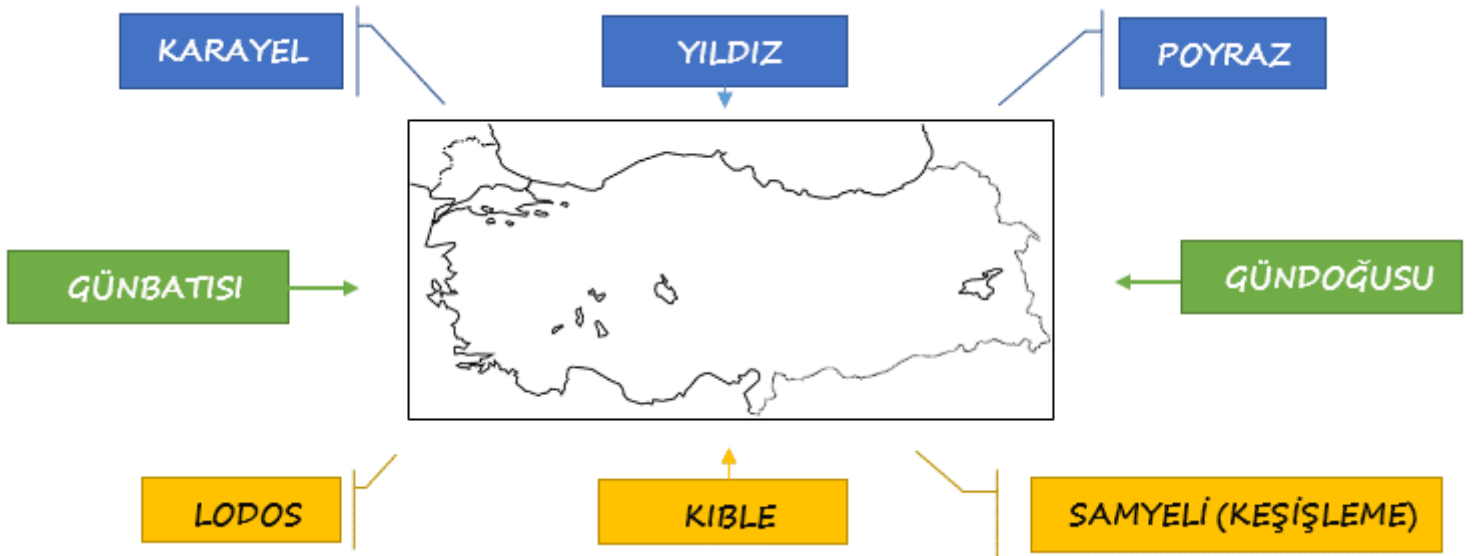
8.Yukarıdaki bilgilere göre hangisine ulaşılabilir?

- A) Bir ülkenin sanayisi gelişirken diğer yandan doğayı koruması olası değildir.
- B) Japonya ekonomik olarak güçlü bir ülkedir.
- C) "Sıfır atık Projesi" ülkemizde yürütülmektedir.
- D) Fabrika bacalarına filtre takılmalıdır.

Sınırları belli bir alanda, belli bir zamanda yaşayan insan sayısına denir.

9.Yukarıda hangisinin tanımı yapılmıştır?

- A) Nüfus Yoğunluğu
- B) Nüfus Artış Hızı
- C) Bağımlı Nüfus
- D) Nüfus



Rüzgârlar, geldikleri yerin sıcaklık koşullarını estikleri yerlere taşıyan hava akımlarıdır. Sıcak yerlerden esen rüzgârlar hava sıcaklığını artırırken, soğuk yerlerden esen rüzgârlar hava sıcaklığını düşürür.

10.Yukarıdaki görselden ve bilgiden yola çıkarak hangisine ulaşılabilir?

- A) Karayel sıcaklığı düşürür.
- B) Lodos sıcaklığı yükseltir.
- C) Samyeli sıcaklığı düşürür.
- D) Poyraz sıcaklığı düşürür.

6 SINIF SOSYAL BİLGİLER

3.Ünite Deneme Sınavı 2

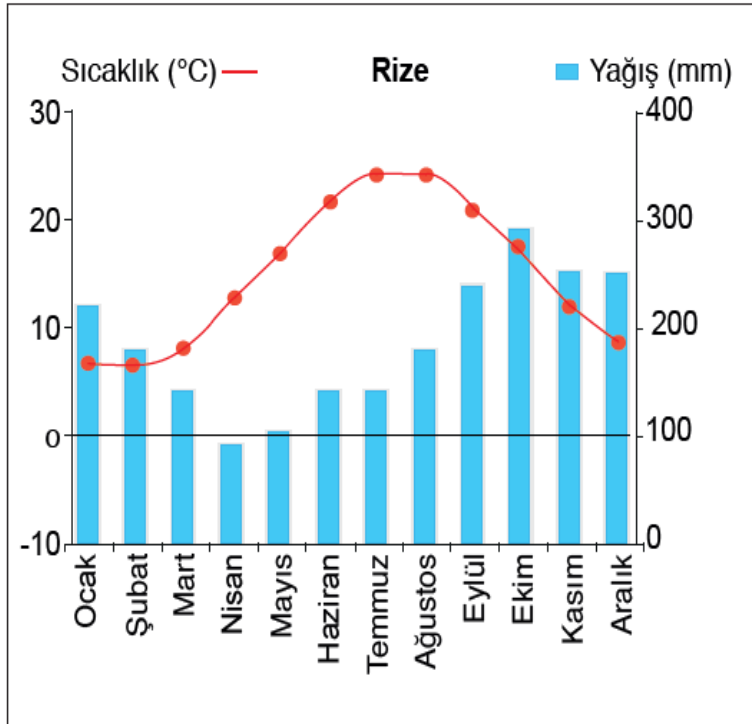
YUSUF BAYRAM

SOSYAL BİLGİLER ÖĞRETMENİ

- Nüfusun dağılışında sanayi, ulaşım, ticaret vb. faaliyetler etkilidir.
- Sanayi, ticaret ve turizmin geliştiği yerlerde nüfus azdır.
- Ülkemizde petrolün çıkarıldığı yerlerde nüfus fazladır.
- Ülkemizde hayvancılık sadece süt üretimi için yapılır.
- Ülkemizde çay Karadeniz'in doğu kıyılarında Rize ve çevresinde yetiştirilmektedir.

11.Yukarıda kaç tane doğru ifade vardır?

- A) 2
- B) 3
- C) 4
- D) 5



12.Yukarıdaki grafiğe göre hangisine ulaşılabilir?

- A) Yazlar sıcak ve kuraktır.
- B) En fazla yağış yazın düşer.
- C) Her mevsim yağışlıdır.
- D) Kış mevsiminde sıcaklık 0 °C'in altına düşer.

- İdari merkezdir, tarım, fazladır. Sanayi, ticaret gelişmiştir, nüfusu fazladır.
- Yer şekilleri dağlık ve engebelidir, turizm gelişmiştir, nüfusu yaz döneminde artar.
- Tarım, sanayi, turizm gelişmiştir, nüfusu fazladır.

13.Yukarıda hangi üç şehrimizin özellikleri verilmiştir.

- A) Ankara, Sinop, Kars
- B) İstanbul, İzmir, Erzurum
- C) Hakkari, Ankara, Yozgat
- D) Ankara, Muğla, İstanbul

- Ardışık iki paralel arası mesafe Dünya'nın her yerinde 111 km'dir.
- Meridyenler yerel saat hesaplamasında da kullanılır ve her iki meridyen arasındaki zaman farkı 4 dakikadır.
- Ülkemiz 36°-42° kuzey paralelleri ile 26°-45° doğu meridyenleri arasında yer alır.

14.Bu bilgilerden yola çıkarak hangisine ulaşılabilir?

- A) 36 - 42 Kuzey Paralelleri arasında bulunan Türkiye'nin en kuzeyi ile en güneyi arasındaki mesafe 666 km'dir.
- B) Türkiye'nin en doğusu ile en batısı arasındaki zaman farkı 76 dk'dır.
- C) Türkiye, Başlangıç Meridyeni olan Greenwich'in batısında yer alır.
- D) Türkiye, Başlangıç Paraleli olan Ekvator'un kuzeyinde yer alır.

Ülkemizin nüfus dağılışını incelediğimizde yer şekilleri sade, iklimi ılıman, tarım, sanayi, ticaret, turizm vb. ekonomik faaliyetleri gelişmiş olan yerlerde nüfus fazladır.

15.Yukarıdaki bilgiden yola çıkarak hangi şehrimizde nüfusun daha fazla olduğu söylenebilir?

- A) Bursa
- B) Kırıkkale
- C) Ağrı
- D) Burdur

6.SINIF SOSYAL BİLGİLER
3.ÜNİTE DENEME SINAVI 2
CEVAP ANAHTARI

1-D	6-D	11-B
2-A	7-B	12-C
3-B	8-A	13-D
4-C	9-D	14-C
5-A	10-C	15-A

Her türlü paylaşıma açıktır. Ticari amaçlı kullanılamaz. ©