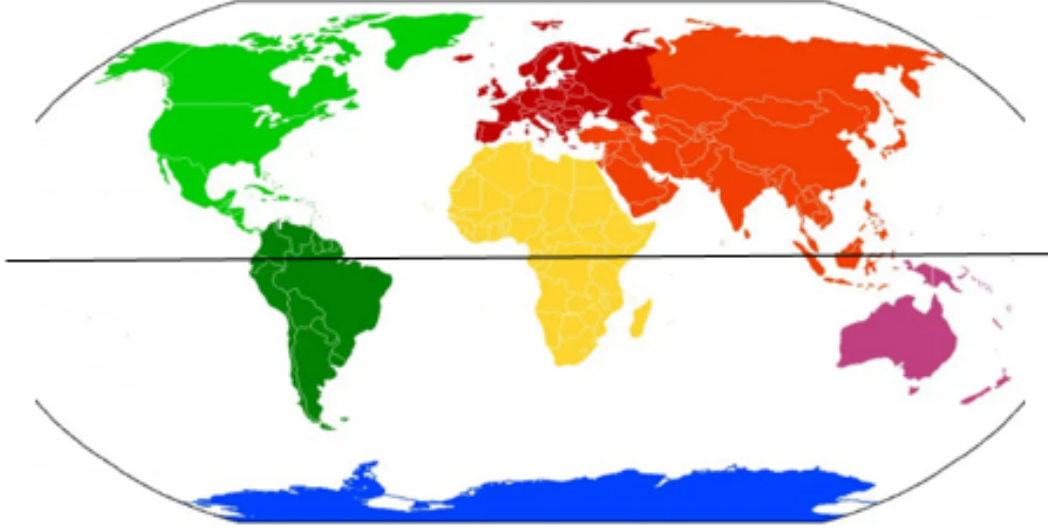


1. Aşağıdaki haritada kıtalar gösterilmektedir.



Buna göre hem Kuzey hem de Güney Yarımkürede hangi kıtalar yer alır?

	<u>I</u>	<u>II</u>	<u>III</u>
A)	Kuzey Amerika	Asya	Afrika
B)	Asya	Afrika	Okyanusya
C)	Güney Amerika	Afrika	Asya
D)	Asya	Avrupa	Kuzey Amerika

2. Yarıyıl tatili için İzmir'den Erzurum'a giden Yaman, hangisini söyleyemez?

- A) Ulaşım olanakları kısıtlıdır
- B) Yıllık sıcaklık ortalaması düşüktür
- C) Bitki örtüsü bozkırdır
- D) Sanayisi gelişmiştir

3.



http://cografyaharita.com/haritalarim/2a_turkiye_fiziki_haritasi2.png

Haritada kullanılan renklendirmelere göre hangisi söylenebilir?

- A) Yıllık yağış miktarını gösterir
- B) Toprak çeşitlerini gösterir
- C) Yükselti basamaklarını gösterir
- D) Nüfus miktarını gösterir

4. Hangisi Türkiye'nin Güney Yarımkürede olmadığını kanıtlar?

- A) Güneyden esen rüzgarların sıcaklığı artırması
- B) Erzurum'un, İzmir'den daha soğuk olması
- C) Farklı iklimlerin görülmesi
- D) Yer şekillerinin engebeli olması



5. Beşeri coğrafya, insanların turizm, madencilik, tarım, sanayi, nüfus vb. etkinlikler ile çevreyi etkilemelerini inceler.

Hangi harita Türkiye'nin beşerî coğrafyası hakkında bilgi vermez?

A) **Türkiye Madenler Haritası**



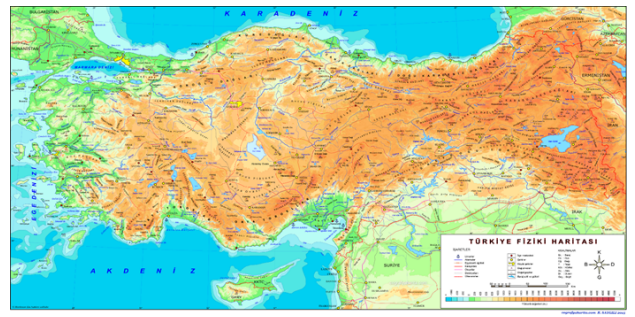
B) **Türkiye Turizm Haritası**



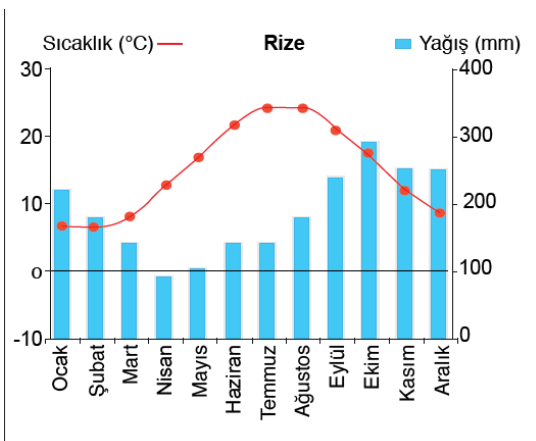
C) **Türkiye Tarım Ürünleri Haritası**



D) **Türkiye Fiziki Haritası**



Rize'nin yağış ve sıcaklık grafiği verilmiştir.



6. Grafiğe göre Karadeniz iklimi için hangisi söylenebilir?

- A) Yazlar sıcak ve kurak geçer
- B) En çok yağış ekim ayında meydana gelir
- C) En sıcak ay hazirandır
- D) En fazla yağışı ilkbaharda alır

Cevap Anahtarı

1 – C

2 – D

3 – C

4 – A

5 – D

6 – B

