





ÜNİTE 7 ULUSLARARASI İLİŞKİLERİMİZ

Konu: TÜRKİYE BEKLENİLENDİR

1. Aşağıda bazı ülkelerin milli gelirlerine oranla yaptıkları yardımlar gösterilmiştir.

	TÜRKİYE	% 0,37
	İNGİLTERE	% 0,10
	ABD	% 0,04
	ALMANYA	% 0,04
	KUVEYT	% 0,33

(TİKA 2015)

Tabloya göre;

- I. Gelirine oranla en fazla yardımı Türkiye yapmıştır,
 - II. ABD ve Almanya'nın milli gelirleri aynıdır,
 - III. Ülkeler arası yardımlaşma ve işbirliği vardır,
 - IV. Milli geliri en yüksek olan ülke Türkiye'dir,
- çıkarımlarından hangilerine ulaşılabilir?**

- A) I-II B) I-III
C) II-III D) I-II-III

2. Birleşmiş Milletler Mülteci Örgütü'nün (UNHCR) 2019 yılı verilerine göre Türkiye, 4 milyon mülteciye kucak açmış durumdadır. Aynı zamanda TİKA, AFAD vb. kuruluşlar aracılığıyla dünyanın dört bir tarafında yardım faaliyetlerinde bulunmaktadır.

Açıklamaya göre ülkemizin üstlendiği rolle ilgili hangisine ulaşılabilir?

- A) Dünya barışına katkı sağlamaktadır.
B) Uluslar arası yardım faaliyetlerinde bulunmaktadır.
C) Uluslar arası sorunların çözümüne katkı sağlamaktadır.
D) Dünyada en çok mülteci barındıran ülkedir.

3.

Türkiye'nin uluslar arası alanda üstlendiği rollerden birine örnek olarak İslam İşbirliği Teşkilatı'ndaki faaliyetleri verilebilir. 1969 yılından beri faaliyetlerini sürdüren teşkilatın 13. İslam Zirve Toplantısı, 2016 yılında İstanbul'da yapılmıştır. Bu toplantı ile kuruluşun dönem başkanlığı Mısır'dan Türkiye'ye geçmiştir.

Açıklamada ülkemizin hangi alandaki uluslar arası faaliyeti örneklendirilmiştir?

- A) Siyasi B) Kültürel
C) Askeri D) Ekonomik

4. Türkiye, askeri gücünü siyasi yönden ve diplomasi yönünden başarıya çeviren devletlerden birisidir. Ülkemizin NATO teşkilatına üye olmasında Kore Savaşı'ndaki askeri gücünün büyük önemi vardır. Türk Silahlı Kuvvetleri, Birleşmiş Milletler Teşkilatı ve NATO gibi teşkilatlara üyeliğin getirdiği sorumluluklarla varlığını ülke sınırları dışına taşımıştır. Silahlı kuvvetlerimiz Somali, Gürcistan, Bosna-Hersek, Kosova, Afganistan, Lübnan gibi pek çok ülkede barış gücü operasyonlarında görev almıştır.

Açıklamaya göre hangisine ulaşılabilir?

- A) Türkiye askeri gücü ile uluslar arası alanda etkin bir role sahiptir.
B) Türkiye dünya barışı için üstüne düşen sorumluluğu yerine getirmektedir.
C) Türk Silahlı Kuvvetleri dünyanın en güçlü ordusudur.
D) Ülkemiz üyesi olduğu uluslar arası teşkilatlarda aktif roller almaktadır.

ÜNİTE 7 ULUSLARARASI İLİŞKİLERİMİZ

5. Türkiye bulunduğu konumu itibarıyla petrol ve doğalgaz zengini Orta Doğu ülkeleri ile Avrupa'daki tüketici pazarlar arasında stratejik bir konuma sahiptir. Yani enerji ihraç eden doğu ülkeleri ile enerji ithal eden batı ülkelerinin enerji yollarının kesişim noktasında yer almaktadır. Ülkemiz, toprakları üstünden geçen boru hatları ile enerji ihtiyacını karşılarken dünyadaki stratejik konumunun da güçlendirmektedir.

Açıklamaya göre ülkemizin sahip olduğu konum;

- I. siyasi,
- II. ekonomik,
- III. kültürel,
- IV. askeri,

alanlardan hangilerindeki önemini daha da artırmıştır?

- A) I-II
- B) I-III
- C) II-III
- D) I-II-III

6.

UNESCO (Birleşmiş Milletler Eğitim Bilim ve Kültür Örgütü), Türk Milli Komisyonu'nun girişimleri sonucu Matrakçı Nasuh'un ölümünün 450. yılını, Evliya Çelebi'nin doğumunun 400. yıl dönümünü ve Mevlana Celaleddini Rumi'nin 800. doğum yıl dönümünü dünya çapında anmıştır. Ayrıca UNESCO tarafından 2016-2017 Ahmet Yesevi ve Fuat Köprülü yılı ilan edilmiştir.

Buna göre Türkiye;

- I. Küresel eğitim, kültür ve bilim politikalarında söz sahibidir,
- II. Kültürel değerlerimizin uluslar arası alanda tanınmasına yönelik politikalar üretmiştir,
- III. Girişimleri sonucu ülke ekonomisine katkı sağlamıştır,

çıkarımlarından hangilerine ulaşılabilir?

- A) II-III
- B) I-II
- C) I-III
- D) I-II-III

7.

I. Türkiye Maarif Vakfı'nın yurt dışında ülkemiz adına doğrudan eğitim faaliyetlerinde bulunması.

II. Türkiye'nin NOTO ve BM gibi örgütlerle işbirliği yaparak barış gücü operasyonlarında görev alması.

III. Türkiye'nin uluslar arası boru hatları projeleriyle Orta Asya, Hazar ve Orta Doğu bölgelerindeki zengin doğalgaz ve petrol rezervlerini Avrupa'ya ulaştırması.

Ülkemizin dünyada üstlendiği yukarıdaki roller ile ilişkili oldukları alanlar eşleştirilirse hangisi doğru olur?

Ekonomik Askeri Kültürel

- | | | | |
|----|-----|-----|-----|
| A) | I | II | III |
| B) | II | III | I |
| C) | III | II | I |
| D) | III | I | II |

8.

"En uzakta sandığımız bir olayın bize bir gün dokunmayacağını bilemeyiz. Dünyanın herhangi bir yerinde rahatsızlık varsa 'Bana ne!' dememeliyiz. Böyle bir rahatsızlık varsa tıpkı kendi aramızda olmuş gibi onunla ilgilenmeliyiz. Olay ne kadar uzak olursa olsun bu ilkedен aşmamak gerekir. İşte bu düşünüş; insanları, ulusları ve hükümetleri bencillikten kurtarır." (Mustafa Kemal ATATÜRK)

Atatürk'ün sözünden hareketle ülkemiz uluslar arası alanda hangisini yapmamalıdır?

- A) Uluslar arası yardımlaşma ve işbirliği faaliyetleri içinde yer almalı.
- B) Uluslar arası barışı desteklemeli.
- C) Sorunlara ortak çözümler üretilmesine katkı sağlamalı.
- D) Diğer devletlerin iç işlerine karışmalı.

CEVAPLAR

1	A	<input checked="" type="radio"/>	C	D
2	A	B	C	<input checked="" type="radio"/>
3	<input checked="" type="radio"/>	B	C	D
4	A	B	<input checked="" type="radio"/>	D
5	<input checked="" type="radio"/>	B	C	D
6	A	<input checked="" type="radio"/>	C	D
7	A	B	<input checked="" type="radio"/>	D
8	A	B	C	<input checked="" type="radio"/>

ÖNEMLİ HATIRLARMA:

UZAKTAN EĞİTİM FAALİYETLERİ
KAPSAMINDA EBA VEYA
WHATSAPP PLATFORMLARINDA
PAYLAŞIMA AÇIKTIR.

TİCARİ AMAÇLI
KULLANILAMAZ.

Not: Soruların hazırlanmasında Milli Eğitim Bakanlığı'na bağlı devlet okullarında okutulan Sosyal Bilgiler ders kitaplarındaki içerik ve görsellerden faydalanılmıştır.