

ÜNİTE 7 ULUSLARARASI İLİŞKİLERİMİZ

Konu: DIŞ ALIM DIŞ SATIM

1.



İTHAL ETTİĞİMİZ BAZI ÜRÜNLER

- Uçak
- Petrol ürünleri
- Tıbbi malzemeler

Sadece yukarıdaki bilgilere göre Türkiye'nin hangi alanla ilgili bir ihtiyacı yoktur?

- A) Ulaşım B) Sağlık
C) Enerji D) Tarım

2.

İnsanların birbiriyle ilişkileri olduğu gibi ülkeler arasında da ekonomik ilişkiler vardır. Ülkeler bu ilişkilerini kaynaklarına ve ihtiyaçlarına göre belirlemektedir. Ülkeler ihtiyacından fazla ürettiği ürünleri başka ülkelere satar. Bazen de ürettiği kaynakları ile karşılayamadığı ihtiyaçlarını başka ülkelere satın alır.

Açıklamaya göre;

- I. Kaynaklar ve ihtiyaçlar ekonomik faaliyetlere yön vermektedir,
- II. Ülkeler bazı ihtiyaçlarını ithal ederek karşılamaya çalışır,
- III. Bir ülkenin tüm ihtiyaçlarını kendi kendine karşılaması mümkündür,

Çıkarımlarından hangilerine ulaşılabilir?

- A) I-II B) I-III
C) II-III D) I-II-III

3.



I.



II.



III.



IV.

Yukarıdaki görsellerden hangileri ihrac ürünlerimiz arasındadır?

- A) I-III B) II-IV
C) I-II-III D) III-IV

4.

(I) Bir ülkenin başka ülkelere mal veya hizmet satmasına ihracat (dışsatım) denir.

(II) Ülkelerin gelişip büyümesi için ithalatın ihracattan fazla olması gerekir.

(III) Bir ülkeni ihtiyacı olan ürün veya hizmetleri başka ülkelere almasına ithalat (dışalım) denir.

(IV) Dış ticaret ülkeler arasında ekonomik ilişkilerin yanı sıra siyasi, sosyal, kültürel ilişkilerin gelişmesini de sağlar.

Yukarıdaki bilgilerden hangisi hatalıdır?

- A) I
B) II
C) III
D) IV

ÜNİTE 7 ULUSLARARASI İLİŞKİLERİMİZ

Konu: DIŞ ALIM DIŞ SATIM

5.

TÜİK 2018

En çok **ihraç**
ettiğimiz on ürün

En çok **ithal**
ettiğimiz on ürün

1. Motorlu kara taşıtları	Kimyasal ürünler
2. Ana metaller	Ana metaller
3. Makine ve teçhizat	Madencilik
4. Tekstil ürünleri	Makine ve teçhizat
5. Giyim eşyası	Motorlu kara taşıtı
6. Gıda ürünleri	Petrol ürünleri
7. Kimyasal ürünler	Atık ve hurdalar
8. Metal ürünler	Elektrikli makineler
9. Mobilya	Haberleşme cihazları
10. Plastik ve kauçuk	Tıbbi aletler

Tablodaki bilgilere göre;

- Sadece ihraç edilen ürünler Tekstil ürünleri, giyim eşyası, gıda ürünleri, metal ürünler, mobilya, plastik ve kauçuktur,
- Petrol ürünleri, Tıbbi aletler, haberleşme cihazları hem ithal hem de ihraç ürünlerindendir.
- İthalatımıza ödediğimiz para ihracatımıza ödediğimizden daha azdır,

hangilerine ulaşılabilir?

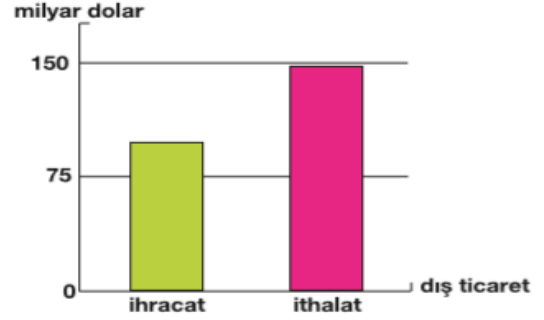
- A) I-II B) I-III
C) II-III D) Yalnız I

6. Ülkeler arasında insan, ürün ve hizmet çıkışı uluslar arası anlaşmalarla düzenlenmiştir. Bu kurallar çerçevesinde ülkelerin sınırlarında giriş ve çıkış kontrollerinin yapıldığı gümrük kapıları oluşturulmuştur.

Ülkemizin kara sınırları düşünüldüğünde hangi ülke ile gümrük kapımız yoktur?

- A) Irak B) İran
C) Rusya D) Yunanistan

7.

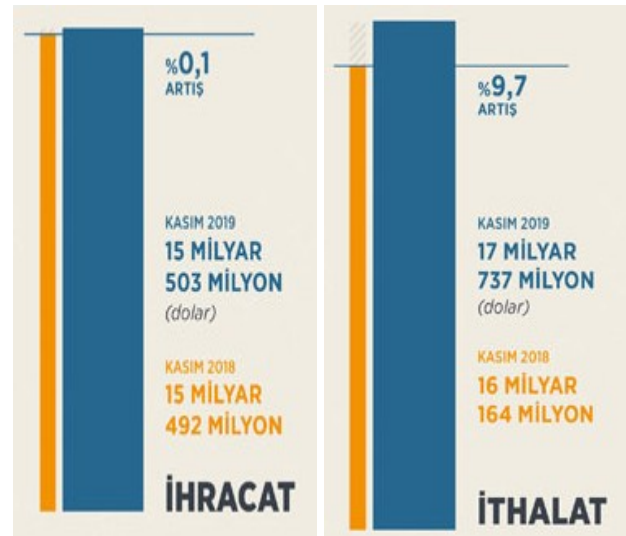


Yukarıdaki grafikte bir ülkenin ithalat ve ihracat miktarı gösterilmiştir. Grafiği inceleyen kişi "Bu ülkenin dış ticaret açığı bulunmaktadır." demiştir.

Buna göre hangisine ulaşılabilir?

- A) İthalatı ihracatından fazladır.
B) İhracatı ithalatından fazladır.
C) Kaynakları ihtiyaçlarını karşılayabilir.
D) Nüfusu çok fazladır.

8.



Yukarıda ülkemizin 2018 ve 2019 yılı Kasım ayı ihracat ve ithalat oranları ve miktarları karşılaştırılmıştır.

Grafikteki bilgilere göre hangisine ulaşılabilir?

- A) Ülkemizin dış ticaret açığı artmıştır.
B) İhracatın ithalatı karşılama oranı yükselmiştir.
C) Sanayi ürünleri ihracatı azalmıştır.
D) Ülkemizin dışa bağımlılığı azalmıştır.

ÜNİTE 7 ULUSLARARASI İLİŞKİLERİMİZ

Konu: DIŞ ALIM DIŞ SATIM

En çok ihracat yaptığımız beş ülke

1. Almanya
2. Birleşik Krallık
3. BAE
4. Irak
5. ABD

En çok ithalat yaptığımız beş ülke

1. Çin
2. Almanya
3. Rusya Federasyonu
4. ABD
5. İtalya

(TÜİK 2018)

Buna göre Türkiye'nin dış ticareti ile ilgili;

- I. Almanya dış ticaretimizle önemli bir konuma sahiptir,
- II. Çin ile ithalata dayalı ilişkilerimiz vardır,
- III. Komşu ülkeler ile alışverişimiz yoktur,

hangilerine ulaşılabilir?

- A) I-II B) I-III
C) II-III D) I-II-III

10.

Almanya

- Gıda maddeleri
- Porselen, cam
- Beyaz eşya
- Tekstil ürünleri

Irak

- Gıda maddeleri
- Tekstil ürünleri

Fransa

- Gıda maddeleri
- Tekstil ürünleri
- Değerli eşyalar

Yukarıda ihracat yaptığımız bazı ülkeler ve ihraç ürünleri gösterilmiştir. **Bilgilere göre aşağıdakilerden hangisine ulaşamaz?**

- A) Tekstil ürünleri üretimimiz fazladır.
B) Gıda maddeleri üretimi ihtiyacımızı karşılamaktadır.
C) Maden ürünleri ihracatımızda önemlidir.
D) Ülkemiz ekonomik gelir elde etmektedir.

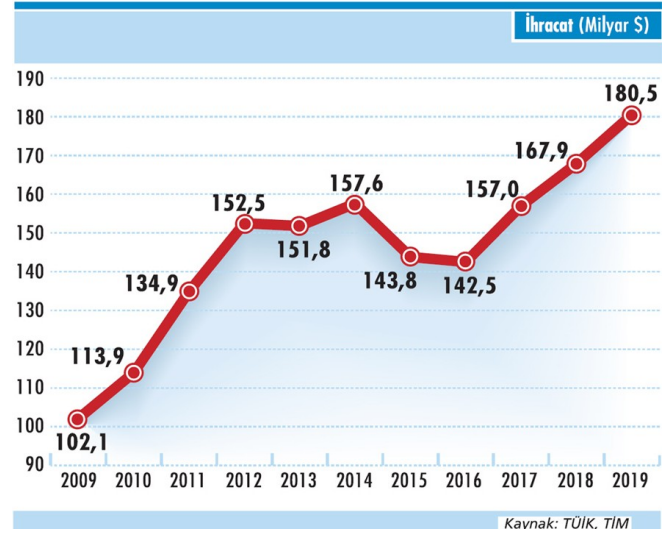
11.



Ülkemiz kaynakları ve ihtiyaçları doğrultusunda pek çok ülkeyle dış ticaret yapmaktadır. **Ülkemizin dış ticaretini geliştirebilmesi için aşağıdakilerden hangisini yapması yeterli olmaz?**

- A) Diğer ülkelerle dostluk ilişkilerini geliştirmesi.
B) Sosyal ve kültürel alanlarda işbirliği yapması.
C) Sadece gelişmiş ülkelerle ticaret yapması.
D) Öz kaynaklarını verimli kullanması.

12.



Yukarıdaki grafikte ülkemizin 2009 ve 2019 yılları arası on yıllık ihracat miktarı verilmiştir.

Grafığe göre hangisine ulaşamaz?

- A) 2009 ve 2012 yılları arasında ihracat sürekli artmıştır.
B) 2016 yılından itibaren sürekli yükselmiştir.
C) 2014 ve 2016 yılları arasında sürekli olarak azalmıştır.
D) İhracatımızın azalmasında dünyadaki ekonomik krizlerin etkisi olmuştur.

CEVAPLAR

1	A	B	C	<input checked="" type="radio"/>
2	A	B	<input checked="" type="radio"/>	D
3	A	<input checked="" type="radio"/>	C	D
4	A	<input checked="" type="radio"/>	C	D
5	A	B	C	<input checked="" type="radio"/>
6	A	B	<input checked="" type="radio"/>	D
7	<input checked="" type="radio"/>	B	C	D
8	<input checked="" type="radio"/>	B	C	D
9	A	<input checked="" type="radio"/>	C	D
10	A	B	<input checked="" type="radio"/>	D
11	A	B	<input checked="" type="radio"/>	D
12	A	B	C	<input checked="" type="radio"/>

ÖNEMLİ HATIRLARMA:

UZAKTAN EĞİTİM FAALİYETLERİ
KAPSAMINDA EBA VEYA
WHATSAPP PLATFORMLARINDA
PAYLAŞIMA AÇIKTIR.

TİCARİ AMAÇLI
KULLANILAMAZ.

Not: Soruların hazırlanmasında Milli Eğitim Bakanlığı'na bağlı devlet okullarında okutulan Sosyal Bilgiler ders kitaplarındaki içerik ve görsellerden faydalanılmıştır.