

1. Nüfusun yeryüzüne dağılışında insan etkisinin olmadığı faktörlere **DOĞAL** faktörler denir.

Nüfusun yeryüzüne dağılışında insan etkisinin olduğu faktörlere **BEŞERİ** faktörler denir.

Aşağıda yoğun nüfuslanmış bazı illerimiz ve yoğun nüfuslu olmalarında etkili olan önemli özellikleri verilmiştir.

Tanımlara göre aşağıdakilerin hangisinde nüfusun dağılışı farklı bir nedene bağlanabilir?

- A) Mersin ve Hatay'da ılıman iklim şartlarının hakim olması.
- B) Konya'da yer şekillerinin sade olması.
- C) Zonguldak ve Batman'da yeraltı kaynaklarının olması.
- D) Adana'da tarıma dayalı sanayi kollarının gelişmiş olması.

2.



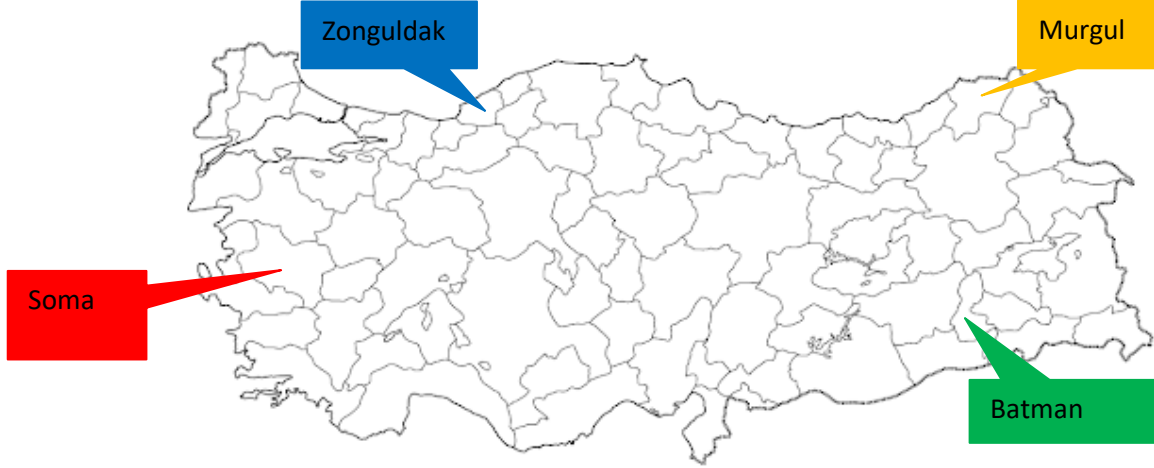
Ülkemizin nüfus dağılışı incelendiğinde yer şekilleri sade, iklimi ılıman, tarım sanayi, ticaret, turizm vb. ekonomik faaliyetlerin gelişmiş olduğu yerlerde nüfusun fazla olduğu gözlenir.

Yukarıdaki harita üzerinde gösterilen illerimizden hangisi açıklamadaki genellemeye uymaz?

- A) İzmir
- B) Hakkâri
- C) Adana
- D) Samsun

ÜNİTE 3 YERYÜZÜNDE YAŞAM

3.



Harita üzerinde belirtilen alanların yoğun nüfuslu olmasında etkili olan faktör aşağıdakilerden hangisidir?

- A) Yer altı kaynakları bakımından zengin olmaları.
- B) Turizm faaliyetlerinin gelişmiş olması.
- C) İklim koşullarının ılıman olması.
- D) Yer şekillerinin sade olması.

4.



- 1. Nüfusu en fazladır.
- 2. Buğday üretimi yaygındır.
- 3. Taş kömürü çıkarılır.

Yukarıdaki bilgiler harita üzerindeki illerle eşleştirilmek istenirse doğru seçenek hangisi olur?

	İstanbul	Konya	Zonguldak
A)	2	1	3
B)	1	3	2
C)	1	2	3
D)	3	2	1

5. Aşağıdaki tabloda ülkemize ait bazı beşeri özellikler “**Doğru-Yanlış**” olarak kodlanmıştır.

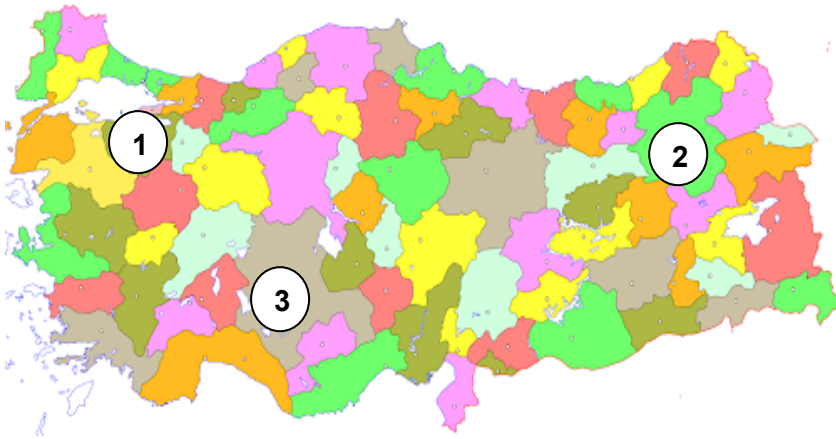
I.	Ülkemizde hayvancılık sadece süt üretimi için yapılır.	Y
II.	Ülkemizde çay üretimi Doğu Karadeniz kıyılarında yapılmaktadır.	D
III.	Yükseltinin arttığı yerlerde tarım arazileri dağınık ve parçalıdır.	Y
IV.	Sanayi ticaret ve turizmin geliştiği yerlerde nüfus fazladır.	D

Tablonun hangi satırında hatalı bir kodlama yapılmıştır?

- A) I
- B) II
- C) III
- D) IV

ÜNİTE 3 YERYÜZÜNDE YAŞAM

6.



Meyve Suyu Tesisi



Un Fabrikası



Süt Entegre Tesisi

Ülkemizin doğal ve beşeri özellikleri dikkate alındığında yukarıdaki tesisler harita üstündeki numaralı alanların hangilerine kurulmalıdır?

	Meyve suyu Tesisi	Un Fabrikası	Süt Entegre Tesisi
A)	1	3	2
B)	3	2	1
C)	1	2	3
D)	2	1	3

7.



Türkiye Sanayi Haritası

Haritaya göre;

- I. Karadeniz Bölgesi'nde dokuma sanayisi gelişmiştir,
- II. Şeker sanayisi yurt geneline yayılmıştır,
- III. Tarıma ve madencilığe dayalı sanayi kolları gelişmiştir,

çıkarımlarından hangilerine ulaşılabilir?

- A) I-II-III** **B) I-III** **C) I-II** **D) II-III**

ÜNİTE 3 YERYÜZÜNDE YAŞAM

8.



Yukarıda Türkiye Orman Dağılımı Haritası verilmiştir. Haritaya göre;

- I. Orman varlığımızın büyük bölümü kıyı kesimlerde yer almaktadır,
- II. Karasal iklimin etkili olduğu alanlarda orman varlığı azdır,
- III. Ormancılığa dayalı sanayi kolları Marmara Bölgesi'nde yoğunlaşmıştır,

çıkarımlarından hangilerine ulaşılabilir?

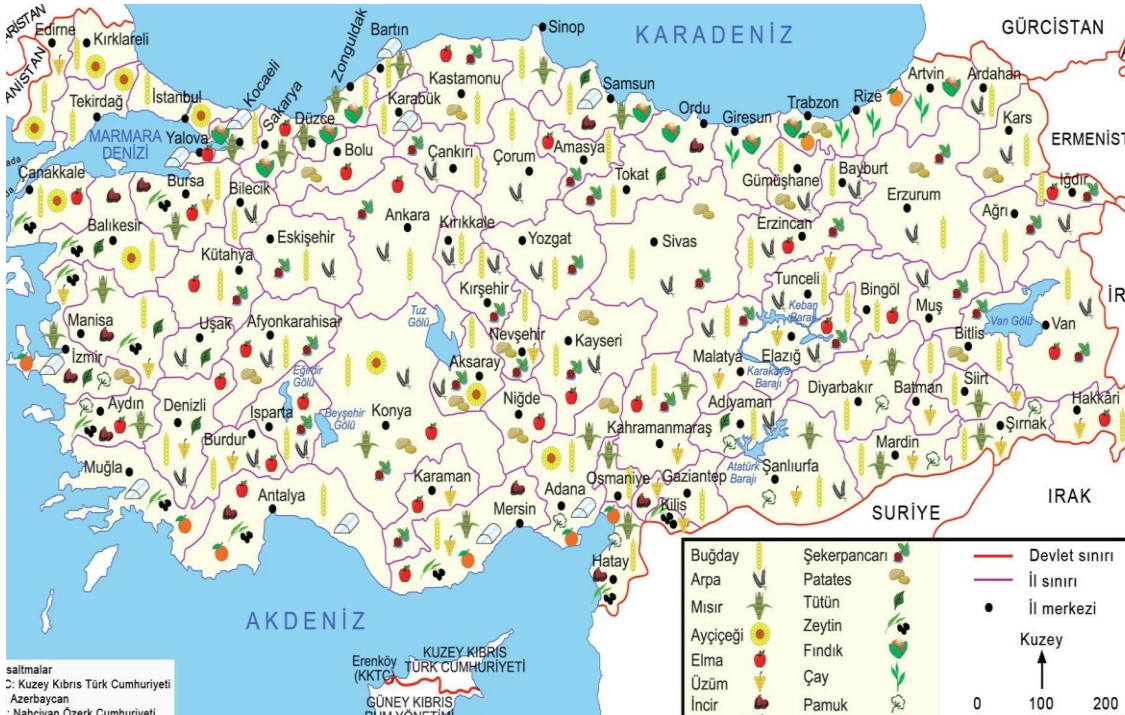
A) I-II

B) II-III

C) I-III

D) I-II-III

9.



Yandaki Türkiye Tarım Ürünleri Haritasına göre;

- I. Tarım ürünü çeşitliliği fazladır,
- II. Her bölgede buğday üretimi yapılmaktadır,
- III. Ayçiçeği üretimi Marmara Bölgesi'nde yoğunlaşmıştır,

hangilerine ulaşılabilir?

A) I-II

B) II-III

C) I-III

D) I-II-III

CEVAPLAR

1	A	B	C	<input checked="" type="radio"/>
2	A	<input checked="" type="radio"/>	C	D
3	<input checked="" type="radio"/>	B	C	D
4	A	B	<input checked="" type="radio"/>	D
5	A	B	<input checked="" type="radio"/>	D
6	<input checked="" type="radio"/>	B	C	D
7	A	B	C	<input checked="" type="radio"/>
8	<input checked="" type="radio"/>	B	C	D
9	A	B	C	<input checked="" type="radio"/>

ÖNEMLİ HATIRLARMA:

UZAKTAN EĞİTİM FAALİYETLERİ
KAPSAMINDA EBA VEYA
WHATSAPP PLATFORMLARINDA
PAYLAŞIMA AÇIKTIR.

**TİCARİ AMAÇLI
KULLANILAMAZ.**