

## ÜNİTE 3 YERYÜZÜNDE YAŞAM

## 1. Türkiye Fiziki Haritası



Yukarıdaki haritaya göre yükseltisi en az olan ve en fazla olan bölgelerimiz hangileridir?

- A) Ege Bölgesi / Güneydoğu Anadolu Bölgesi
- B) Marmara Bölgesi / Doğu Anadolu Bölgesi
- C) Marmara Bölgesi / Karadeniz Bölgesi
- D) Akdeniz Bölgesi / Doğu Anadolu Bölgesi

## 2.



Türkiye fiziki haritasını inceleyen Ali Fuat kahverengi renklerin batıdan doğuya doğru arttığını gözlemlemiştir.

Ali Fuat yukarıdaki durumu aşağıdakilerden hangisiyle açıklarsa doğru söylemiş olur?

- A) Dağların kıyıya dik uzanması.
- B) Doğuda alçak düzlüklerin çok yer kaplaması.
- C) Yükseltinin batıdan doğuya doğru artması.
- D) Ülkemizin doğusunda iklim koşullarının sert olması.

## 3.

Ülkemizin fiziki haritası incelendiğinde dağların genellikle doğu-batı doğrultusunda uzandığı gözlenir. Dağların uzanış doğrultusuna bağlı olarak yollar da doğu-batı doğrultusunda yapılmaktadır. Aynı zamanda yükselti ve engebeyin fazla olduğu yerlerde tarlaların dağınık ve parçalı olduğu gözlenir.

Açıklamada ülkemizin temel fiziki coğrafya özelliklerinin hangi faaliyetler üstündeki etkisi örneklendirilmiştir.

- A) Ulaşım / Tarım
- B) İklim / Ekonomi
- C) Üretim / Sanayi
- D) Ulaşım / Bitki örtüsü

4. Aşağıdaki tabloda yükselti ve engebeye bağlı olarak meydana gelen değişimler ifade edilmiştir.

YÜKSELTİ VE ENGEBENİN FAZLA OLDUĞU YERLER	YÜKSELTİ VE ENGEBENİN AZ OLDUĞU YERLER
I. Sıcaklık ortalamaları düşüktür.	Sıcaklık ortalamaları yüksektir.
II. Ulaşım imkânları zordur.	Ulaşım kolay sağlanır.
III. Sanayi ve ticaret gelişmiştir.	Sanayi ve ticaret az gelişme göstermiştir.
IV. Diğer bölgelere göç verir.	Çevresindeki bölgelerden göçler alır.

Tablodaki açıklamaların doğru olması için hangi satırdaki bilgiler yer değiştirmelidir?

- A) I
- B) II
- C) III
- D) IV

## ÜNİTE 3 YERYÜZÜNDE YAŞAM

**5.**



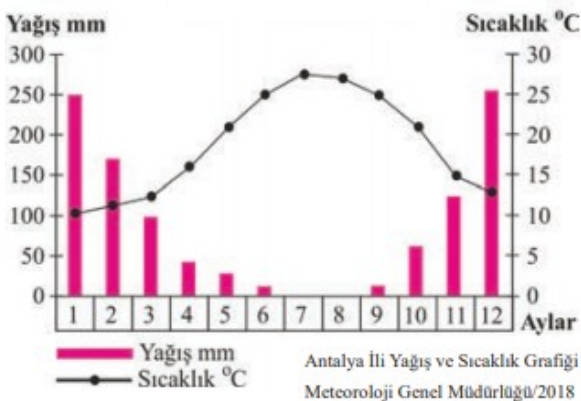
Yukarıdaki harita ülkemizdeki başlıca kıyı ovalarını ve iç ovalarını göstermektedir.

**Haritaya göre;**

- I. Kıyı ovaları akarsuların denize döküldükleri yerlerde bulunmaktadır,
- II. İç ovalar daha çok denizden uzak alanlarda yer almaktadır,
- III. Kıyı ovaların kapladığı alan iç ovalardan daha fazladır,

**bilgilerinden hangilerine ulaşılabilir?**

- A) I-II**  
**C) I-III**  
**6.**



**Yukarıdaki yağış ve sıcaklık grafiğine göre;**

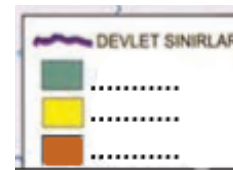
- I. Yaz mevsimi kuraktır,
- II. Yağışın en fazla olduğu dönem kıştır,
- III. Bitki örtüsü makidir,

**çıkarımlarından hangilerine ulaşılabilir?**

- A) I-II-III**
- B) II-III**
- C) I-III**
- D) I-II**

7.

## Türkiye Bitki Örtüsü Haritası



Yukarıdaki haritanın lejant bölümünde “sarı, yeşil ve turuncu” renklerin hangi bitki örtüsünü yansıttığı boş bırakılmıştır.

**Haritanın tamamlanabilmesi için boş bırakılan alanlara hangi bitki örtüleri yazılmalıdır?**

Yeşil	Sarı	Turuncu
A) Maki	Orman	Bozkır
B) Orman	Bozkır	Maki
C) Orman	Maki	Bozkır
D) Bozkır	Maki	Orman

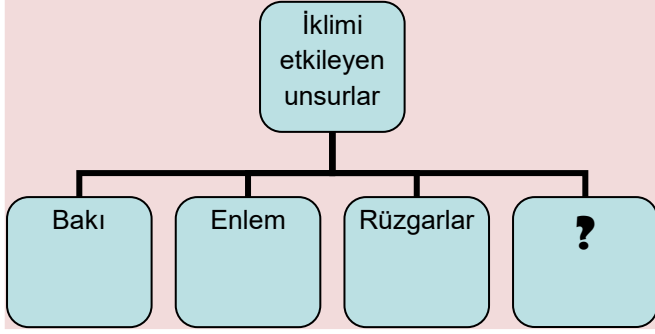
**8. Ülkemizde farklı iklim tipleri görülmektedir. Bu durum ülkemizin coğrafi konumuyla ilgilidir. Dünyanın şekli ve güneş ışınlarının geliş açısından dolayı ekvatorдан kutuplara gidildikçe sıcaklık azalır. Bu nedenle ülkemizde güneyden kuzeye gidildikçe sıcaklık genel olarak azalır. Örneğin, aynı zamanlarda Antalya, daha kuzeyde yer alan Çanakkale'ye göre daha sıcaktır.**

**Açıklamada ülkemizde farklı iklimlerin görülmesinde etkili olan hangi faktör örneklendirilmiştir?**

- A) Yükselti**  
**B) Bakı etkisi**  
**C) Ekvatora uzaklık**  
**D) Denizellik ve karasallık**

## ÜNİTE 3 YERYÜZÜNDE YAŞAM

Konu: Ülkemizin Coğrafi Özellikleri



Diyagramdaki “?” ile boş bırakılan alana hangisi yazılamaz?

- A) Karasallık
- B) Dağların uzanış yönü
- C) Yükselti
- D) Bitki örtüsü

10.

Akdeniz iklimi ülkemizde Akdeniz, Ege ve Marmara kıyılarında görülmektedir. Akdeniz kıyılarında dağlar kıyı ile paralel doğrultuda uzandığı için bu iklimin etkisi iç kısımlarda gözlenmez. Dağların denize dik uzandığı Ege kıyılarında ise Akdeniz ikliminin etkileri iç bölgelere daha fazla sokulmuştur.

Açıklamada iklimi etkileyen hangi faktör örneklendirilmiştir?

- A) Dağların uzanış yönü
- B) Bakı etkisi
- C) Karasallık
- D) Yükselti

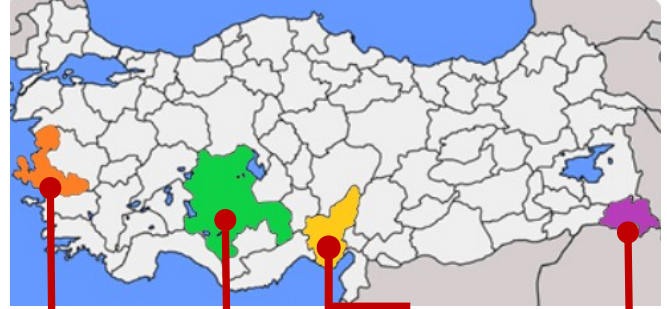
11.

I	Yükselti doğudan batıya artmaktadır.
II.	Genellikle karasal iklimin etkisi altındadır.
III.	Kuzey kıyıları güney kıyılarından daha sıcaktır.
IV.	Ortalama yükseltisi fazladır.

Ülkemizle ilgili coğrafi özelliklerden hangisi yanlış ifade edilmiştir?

- A) I
- B) II
- C) III
- D) IV

12.



**İzmir:**  
Yükselti ve engebe az.

**Konya:**  
Yer şekilleri sade ve engebe az.

**Adana:**  
Yükselti ve engebe az.

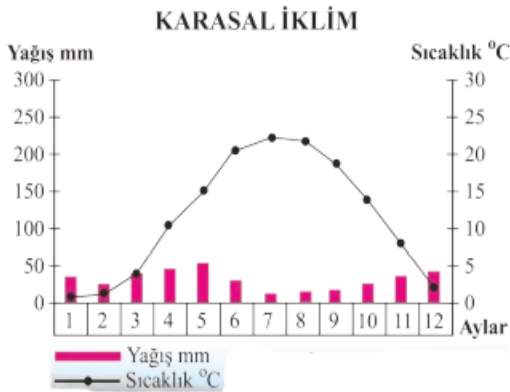
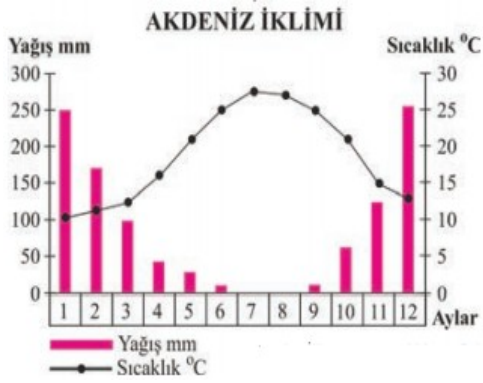
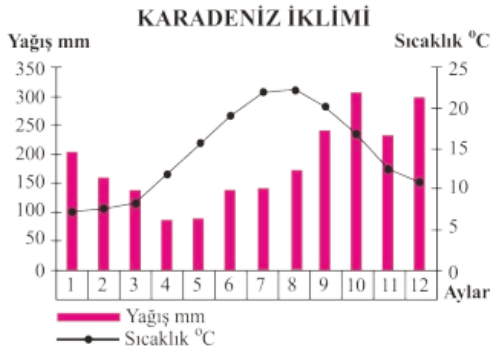
**Hakkari:**  
Yer şekilleri dağlık ve engebeli.

Yukarıdaki bilgilere göre Türkiye fiziki haritasında hangi ilimizde kahverengi renklerin daha fazla kullanılması gerekir?

- A) İzmir
- B) Konya
- C) Adana
- D) Hakkari

## ÜNİTE 3 YERYÜZÜNDE YAŞAM

13.



Yukarıdaki Yağış ve sıcaklık grafiklerine göre;

- I. Karadeniz iklimi her mevsim yağışlıdır,
- II. Sıcaklık ortalamaları en düşük iklim karasal iklimdir,
- III. Akdeniz ikliminde kış mevsimi ılık geçmektedir,

Çıkarımlarından hangilerine ulaşılabilir?

- A) I-II                                      B) II-III  
C) I-III                                      D) I-II-III

14.

## Türkiye İklim Haritası

Sadece haritadaki bilgiler kullanılarak aşağıdakilerden hangisi söylenemez?

- A) Etki alanı en çok olan iklim karasal iklimdir.  
B) Karadeniz iklimi Karadeniz'e kıyısı olan alanlarda görülmektedir.  
C) Akdeniz ikliminde yazlar sıcak ve kurak geçmektedir.  
D) Marmara bölgesi her üç iklimin etki alanındadır.



## CEVAPLAR

- |    |                                  |                                  |                                  |                                  |
|----|----------------------------------|----------------------------------|----------------------------------|----------------------------------|
| 1  | A                                | <input checked="" type="radio"/> | C                                | D                                |
| 2  | A                                | B                                | <input checked="" type="radio"/> | D                                |
| 3  | <input checked="" type="radio"/> | B                                | C                                | D                                |
| 4  | A                                | B                                | <input checked="" type="radio"/> | D                                |
| 5  | <input checked="" type="radio"/> | B                                | C                                | D                                |
| 6  | A                                | B                                | C                                | <input checked="" type="radio"/> |
| 7  | A                                | <input checked="" type="radio"/> | C                                | D                                |
| 8  | A                                | B                                | <input checked="" type="radio"/> | D                                |
| 9  | A                                | B                                | C                                | <input checked="" type="radio"/> |
| 10 | <input checked="" type="radio"/> | B                                | C                                | D                                |

- |    |   |   |                                  |                                  |
|----|---|---|----------------------------------|----------------------------------|
| 11 | A | B | <input checked="" type="radio"/> | D                                |
| 12 | A | B | C                                | <input checked="" type="radio"/> |
| 13 | A | B | C                                | <input checked="" type="radio"/> |
| 14 | A | B | <input checked="" type="radio"/> | D                                |

## ÖNEMLİ HATIRLARMA:

UZAKTAN EĞİTİM FAALİYETLERİ  
KAPSAMINDA EBA VEYA  
WHATSAPP PLATFORMLARINDA  
PAYLAŞIMA AÇIKTIR.

TİCARİ AMAÇLI  
KULLANILAMAZ.

Not: Soruların hazırlanmasında Milli Eğitim Bakanlığı'na bağlı devlet okullarında okutulan Sosyal Bilgiler ders kitaplarındaki içerik ve görsellerden faydalanılmıştır.