

# SOSYAL BİLGİLER

1.



Arkadaşlar, çocuk olarak bizim de haklarımız var. Birçok arkadaşımız haklarımız hakkında yeterli bilgiye sahip değil. Haklarımızı maddeler hâlinde yazarak bir kitapçık oluşturdum. Bu kitapçıklardan herkese bir tane vereceğim. Okuyun, çocuk olarak haklarınızı öğrenin.

**Ayşe'nin "çocuk hakları" hakkında yazdığı kitapçıkta aşağıdakilerden hangisi bulunmaz?**





- A) Madde: Beni ilgilendiren konularda benim de görüşlerim alınır. Büyükler beni dinler, düşüncemi öğrenmeye özen gösterirler.
- B) Madde: Eğitimimi eksiksiz yapabilmem için desteklenir ve korunurum.
- C) Madde: Büyükler kendi çıkarları için çocukları kullanamazlar.
- D) Madde: Çalışma masamı ve yatağımı kendim toplar, kendim temizlerim.

2.



Bazı kültürel öğelerimiz yöreden yöreye değişiklik gösterirken bazılarında değişiklik görülmez. Yöreden yöreye değişmeyen kültürel öğelerimize kim örnek verebilir?

**Hangi öğrencinin verdiği örnek doğrudur?**

- A)  Ülkemizin her yöresinin yemekleri aynı özellikleri gösterir.
- B)  Ülkemizin her yöresinde oynanan halk oyunları aynı konuları işler. Aynı şekilde oynanır.
- C)  Millî bayramlarımızın kutlama törenleri her yörede aynı şekilde yapılır.
- D)  Ülkemizin her yöresinde düğün törenlerinde söylenen halk ezgileri, oynanan oyunlar aynıdır.





3.



Cumhuriyet, halkın doğrudan doğruya seçtiği temsilciler aracılığıyla egemenliği elinde tuttuğu yönetim şeklidir. Cumhuriyet, devletimizin siyasi rejiminin adıdır. Atatürkçülüğün temel ilkelerinin başına, devletimizin değişmez yönetim biçimi olan cumhuriyet yönetiminden dolayı cumhuriyetçilik ilkesi konmuştur. Atatürk'e göre "Milletin geleceğine yalnız ve ancak millet egemen olacaktır." Yine ona göre "Türk milletinin tabiatına en uygun idare cumhuriyet idaresidir." Çocuklar, anlattıklarına göre tahtada verilen inkılaplardan hangisi cumhuriyet ilkesiyle doğrudan ilişkilendirilebilir?

- I. Türk Tarih Kurumunun kurulması
- II. Saltanatın kaldırılması
- III. Soyadı Kanununun kabul edilmesi
- IV. Tekke ve zaviyelerin kapatılması

**Öğretmenin sorusunu hangi öğrenci doğru yanıtlamıştır?**

- A)  I
- B)  II
- C)  III
- D)  IV

4.



İç Anadolu Bölgesi'nde Konya Ovası kıyı bölgelerimizdeki ovalara göre daha tenhadır yani daha az nüfuslanmıştır.

Bunun en önemli nedeni ne olabilir?

**Öğretmenin sorusuna hangi öğrenci doğru yanıt vermiştir?**

- A) İklim özelliklerinin elverişli olmaması
- B) Tarım alanlarının dar olması
- C) Ulaşımın zor olması
- D) Konya Ovası'nda Tuz Gölü'nün bulunması

5.



Bir bölgede çok şiddetli bir deprem olursa o bölgede depremin etkisiyle hangi doğal afetler de meydana gelebilir?

**Öğretmenin sorusuna hangi öğrencinin verdiği yanıt **yanlıştır**?**

- A) Bölgede heyelanlar oluşabilir.
- B) Mevsim kış ve dağlık bir bölge ise çığ oluşabilir.
- C) Şiddetli erozyon olabilir.
- D) Bölgenin denize kıyısı varsa tsunami oluşabilir.

6.



İnsanların bazı faaliyetleri bazı doğal afetlerin oluşmasına ya da etkilerinin artmasına neden olabilir.

Tahtada bazı insan faaliyetleri ve neden oldukları ya da etkisini artırdığı doğal afetler eşleştirilmek istenmiştir. Hangi eşlemede hata yapılmıştır?

Faaliyet	Doğal afet
I. Tünel açılması	Heyelan
II. Dağ yamaçlarını ağaçlandırmak	Çığ
III. Maden ocaklarının açılması	Heyelan ve çökme
IV. Bitki örtüsünün tahrip edilmesi	Erozyon

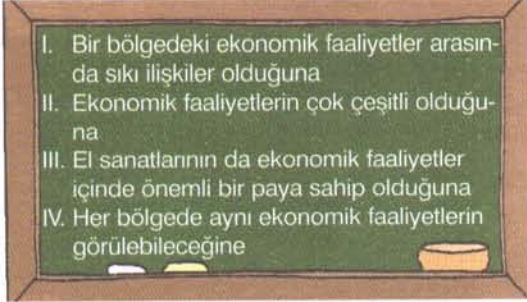
**Öğretmenin sorusunu hangi öğrenci doğru yanıtlamıştır?**

- A) I
- B) II
- C) III
- D) IV

7.



Bir bölgede küçükbaş hayvancılık yapılıyorsa o bölgede halı ve kilim dokumacılığı, şeker pancarı yetiştiriliyorsa şeker sanayi, zeytin yetiştiriliyorsa zeytinyağı sanayi gelişir. Bu durum tahtada yazılı olanlardan hangisine örnek oluşturur?



Öğretmenin sorusunu hangi öğrenci doğru yanıtlamıştır?

- A) I
- B) II
- C) III
- D) IV

8.

- I. Tarım  
II. Hayvancılık  
III. Turizm  
IV. Madencilik



Tahtada yazılı olan ekonomik faaliyetlerden hangisinin yapılmasında iklim ve yeryüzü şekilleri doğrudan etkili değildir?

Öğretmenin sorusunu hangi öğrenci doğru yanıtlamıştır?

- A) I
- B) II
- C) III
- D) IV

9.



Bir bölgede ormanın zengin olması o bölgede hangi mesleğin gelişmesine daha çok katkı sağlar?

Öğretmenin sorusuna hangi öğrenci doğru örnek vermiştir?

- A) Balıkçılık
- B) Marangozluk
- C) Madencilik
- D) Veterinerlik

10. Aşağıda verilenlerden hangisi sanayi alanında iş yapan bir girişimcidir?

- A) Ben bir tıp doktoruyum ve iki tane özel hastanem var.
- B) Benim Türkiye'nin en önemli turizm merkezlerinden biri olan Bodrum'da iki otelim var. Bu yıl iki otel daha açıyorum.
- C) Çocuklarımla birlikte ortak olduğumuz bir şirketimiz var. Bu şirketin 4 tane özel okulu var.
- D) İki fabrikam var. Bunlardan birinde plastik boru üretiyorum. Diğerinde de çamaşır ve bulaşık makinesi gibi beyaz eşya üretimi yapıyoruz.



11.

Antalya, Alanya, Fethiye gibi yöreler ülkemizin çok önemli yaz turizmi merkezlerindendir. Turizmin bu yörelerde çok yaygın bir ekonomik faaliyet olması, buralarda tahtada yazılı olanlardan hangisinin yaygınlaşmasını doğrudan etkilememiştir?



Öğretmenin sorusuna hangi öğrenci doğru yanıt vermiştir?

- A) I
- B) II
- C) III
- D) IV

12. Aşağıdakilerden hangisi bir buluş sonucunda meydana gelen teknolojik gelişme-ye örnektir?

- A) Bir bölgede meyve ağaçlarının sayılarının artırılması ile meyveciliğin yaygınlaşması
- B) Bazı sert taşların kesilerek kaldırım taşı yapılması
- C) Gözle görülemeyen ışınların bulunmasından sonra röntgen cihazlarının yapılması
- D) Ateşin bulunmasından sonra insanların yiyeceklerini pişirerek tüketmesi

13. Atatürk'ün aşağıdaki sözlerinden hangisi bilime verdiği önemi gösterir?

- A) "Hayatta en hakiki mürşit ilimdir."
- B) "Türkiye'nin gerçek sahibi ve efendisi gerçek üretici olan köylüdür."
- C) "Medeniyetin esası, ilerlemenin ve kuvvetin temeli, aile hayatındadır. Bu hayatta yozlaşma, muhakkak sosyal ve siyasi bozulmaya neden olur."
- D) "Sanatsız kalmış bir milletin, hayat damarlarından biri kopmuş demektir."

14. Hüseyin ilköğretim okulu 4. sınıf öğrencisidir. Kuşların yaşamları, çoğalmaları ve beslenmeleriyle ilgili bir ödev hazırlayacaktır.

Bunun için hangi seçenekte verilen kaynaklardan yararlanması doğru olur?

- A) Ansiklopedi ve sosyal bilgiler kitapları
- B) Bilim ve Çocuk dergisi - İnternet
- C) Kültür Bakanlığı yayınları
- D) TEMA Vakfı yayınları - Kızılay yayınları

15.



Ayşe

Ümit, ödevin çok güzel olmuş. Öğretmenimiz de çok beğenir sanıyorum. Ama ödevin sonunda yararlandığın kaynakların ve yazarlarının adlarını niçin yazdın?



Ümit

Ümit, Ayşe'nin sorusuna aşağıdakilerden hangisini söyleyerek yanıt vermiştir?

- A) Yararlandığım kaynaklardaki tüm bilgileri öğrendiğimi anlatmak için
- B) Ödev konum hakkında daha önce hangi bilim insanlarının çalışmalar yaptığını göstermek için
- C) Yararlandığım kaynakları yazan yazar ve bilim insanlarının emeklerine saygı duyduğumu göstermek için
- D) Yararlandığım kaynaklardan hangisindeki bilgilerin daha geniş olduğunu göstermek için

16.



Bilim insanları .....  
Bu nedenle bilimsel çalışmalar yaparken bıkmadan, yorulmadan çalışırlar.

Gülçin konuşmasında boş bırakılan yerde aşağıdakilerden hangisini söylemiştir?

- A) sabırlıdırlar
- B) sorumluluk taşırlar
- C) meraklıdırlar
- D) çabuk fikir değiştirirler