



1-Aşağıdaki cümlelerden doğru ve yanlış olanları işaretleyiniz.(3'er puan)

	D	Y
Bir kişinin aynı anda farklı rolleri olabilir.		
Manyas Kuş Cenneti Antalya'da bulunan doğal bir güzelliğimizdir.		
Türkiye Fiziki Haritasında Marmara Bölgesi'nde yeşil renler fazladır.		
Gov, edu ve k12 gibi uzantılara sahip siteler güvenilirdir.		
Doğu Anadolu Bölgesi'nde ayçiçeği tarımı yapmak önemli ekonomik kazanç sağlar.		

2-Aşağıda verilen kelimeleri uygun boşluklara yazınız.(3'er puan)

Frig	İklim	Önsöz
Kaynakça	Hitit	İç Anadolu
Karadeniz	İbni Sina	Hava Durumu

✚ Bir yerde görülen uzun süreli hava olaylarına.....denir.

✚ Tıp alanındaki çalışmalarıyla tanınan Türk-İslam bilgini.....dır.

✚ Emeğe saygı duymak içinbelirlenmesi gerekmektedir.

✚ Kâğıt ile ilgili yatırım yapmak isteyen Çetin Bey,..... Bölgesine yatırım yaparsa doğru bir yatırım yapmış olur.

✚ Kadeş,Hattuşaş,Pankuş,Tavanna,Çorum..... uygarlığı ile ilgili anahtar kelimelerdir.

3-Aşağıdaki resimlerin altına doğru ifadeleri yazınız.(5'er puan)

Hangi yer şekliyim?



Cennet ülkemde neresiyim?



Güvenli bir alışveriş için neyim eksik?



Hangi ekonomik faaliyetim?



4-Aşağıdaki çoktan seçmeli soruları cevaplayınız.(5'er puan)

1-



Buna göre aşağıdakilerden hangisi yapılırsa başkalarının haklarına saygı gösterilmiş olur?

- A) Ödevlerini zamanında yapmak.
- B) Çizgi film izlemek.
- C) Kitap okumak.
- D) Okul araç gereçlerine zarar vermemek

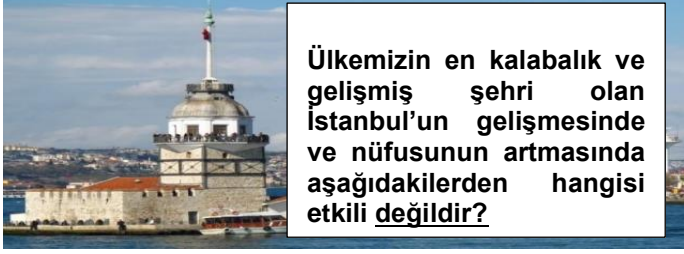
2-

Her toplumun kendine özgü bir kültürü vardır. Geçmişten günümüze kadar gelen kültürel öğelere sahiptir.

Aşağıdakilerden hangisi kültürel öğelerimizden biridir?

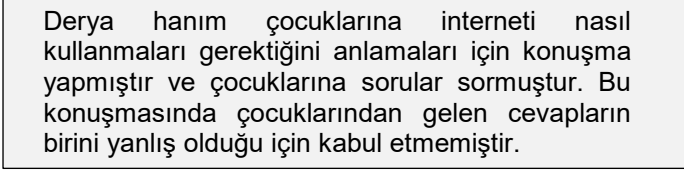
- A) Noel
C) Tango
B) Türkü
D) Pizza

3-



- A) Sanayinin gelişmiş olması
C) Su kaynaklarının olması
B) Turizmin gelişmiş olması
D) İkliminin sert olması

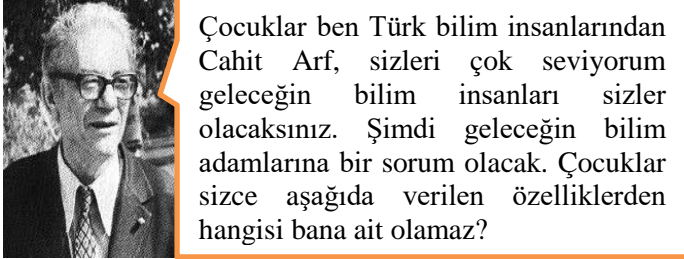
4-



Buna göre Derya hanımın kabul etmediği cevap hangisi olabilir?

- A) İnternette bulduğumuz bütün bilgiler güvenilirdir.
B) Bilgisayarımıza virüs programı indirmeliyiz.
C) Kişisel bilgilerimizi paylaşmamalıyız.
D) Büyüklerin izni olmaksızın ev ve okul dışında internet olan yerlere gitmemeliyiz.

5-



- A) Meraklı
C) Şüpheli
B) Kararsız
D) Araştırmacı

6-

Teknolojinin olumlu yönleri olduğu gibi olumsuz yönleri de bulunmaktadır.

Buna teknoloji ile ilgili verilenlerden;

- I. Aile içi iletişimi azaltır.
II. Zamandan tasarruf sağlar
III. Eğitim ve sağlık alanında ilerlemelere neden olur.

Hangileri teknolojinin olumlu yönlerindendir?

- A) Yalnız III
C) I ve II
B) I ve II
D) II ve III

7-



Yukarıda iş ilanını veren şirketin aşağıdaki ekonomik faaliyetlerden hangisi ile ilgilendiği söylenebilir?

- A) Tarım
C) Sanayi
B) Madencilik
D) Turizm

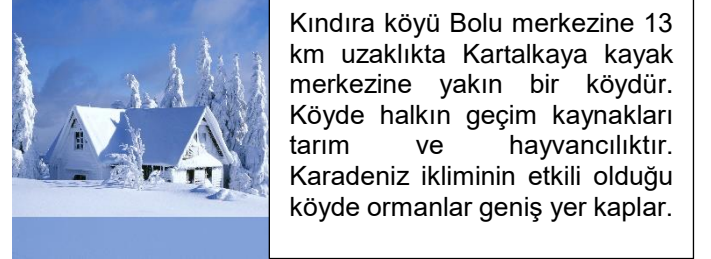
8-

- I. Ay çiçeği yağının marketlere ulaştırılması
II. Edirne'de tarlalarda ayçiçeği yetiştirilmesi
III. Lokanta'da ayçiçeği yağı ile yemek yapılması

Yukarıda verilen ekonomik faaliyetlerden hangileri üretime girmektedir?



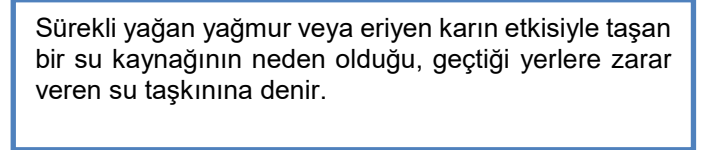
9-



Buna göre Kındıra köyünün geçim kaynakları arasında aşağıdakilerden hangisi yoktur?

- A) Ormancılık
C) Ticaret
B) Tarım
D) Turizm

10-



Metinde bilgi verilen doğal afet aşağıdakilerden hangisidir?

- A) Sel
C) Çığ
B) Erezyon
D) Heyelan

- ✚ SORULAR TAMAMEN GÜNCEL MÜFREDAT TARANARAK HAZIRLANMIŞTIR.
- ✚ SINAV KAPSAMI 22.MARTA KADAR İŞLENEN KONULARDIR.
- ✚ ÖĞRENCİLERİN YENİ SINAV SİSTEMİNE DE ADAPTE OLMASI AMACIYLA SORULAR YORUMLAMA AĞIRLIKLIDIR.
- ✚ 6-7 ve 8.SINIFLARLA İLGİLİ II.DÖNEM I.YAZILILARINA VE HAZIRLADIĞIMIZ TÜM DÖKÜMANLARA ULAŞMAK İÇİN [Facebook Sosyal Bilgiler Paylaşım Platformu](#) na üye olabilirsiniz.
- ✚ SINAVLARIN CEVAP ANAHTARLARI VE WORLD DOSYALARINA FACEBOOK ADRESİMİZDEN ULAŞABİLİRSİNİZ.

Facebook Sosyal Bilgiler Paylaşım Platformu

ÇETİN KAYADELEN