

I. DÖNEM SOSYAL BİLGİLER DERSİ II. YAZILI DEĞERLENDİRME SINAVI

ADI SOYADI :

08.01.2018

SINIF / NO : 5-..... /

1) Aşağıda verilen seçeneklerden hangisinde bir olay birden fazla kişiyi etkilememiştir?

- A) İMES Organize Sanayi Sitesinde çıkan yangında birçok mağazanın zarar görmesi
- B) Şile Otobanında yaşanan trafik kazası sonrasında trafiğin durması
- C) Galatasaray – FB derbisinde Gomis’in attığı gole bir tarafın sevinmesi diğer tarafın üzülmesi
- D) Ahmet Cihangir, sağlıklı ve dengeli beslendiği için herhangi bir sağlık sorunu yaşamamıştır

2) Zehra Betül, annesi ve babasıyla yaşarken bir de erkek kardeşi dünyaya gelmiştir. Aynı zamanda Kardelenler Sınıfında okumaktadır.

Buna göre Zehra Betül’ün aşağıdaki rollerden hangisine sahip olduğu söylenemez?

- A) Abla
- B) Sınıf Başkanı
- C) Evlat
- D) Öğrenci

3) Aşağıdakilerden hangisi Sosyal Bilgiler dersinin katkılarında değildir?

- A) Dünyadaki kültürleri tanımak
- B) Tarihimizi ve kültürümüzü öğrenerek ulusal bilincimizi geliştirmek
- C) Vatandaş olarak sahip olduğumuz hak ve sorumlulukların farkında olmak
- D) Zihinden işlem yapabilmeyi öğrenmek

4)

- I. Başkentleri Sardes şehrinden başlayıp Ninova’ya kadar uzanan **Kral Yolu**u yaptılar.
- II. Dünyanın yedi harikasından biri olarak sayılan **Artemis Tapınağı**nı yapmışlardır.
- III. **Tapates** adı verilen halı ve kilimleri ile ünlüdürler.
- IV. **Tuşpa (Van) Kalesi** günümüze kadar ulaşabilen eserlerindendir.

Yukarıda İlkçağ Medeniyetlerine ait bazı özellikler verilmiştir.

Medeniyet – Özellik eşleştirilmesi hangi seçenekte doğru bir şekilde yapılmıştır?

	I	II	III	IV
A)	Lidya	Hitit	Frig	İyon
B)	Hitit	Lidya	Urartu	Frig
C)	Lidya	İyon	Frig	Urartu
D)	Urartu	Lidya	İyon	Hitit


5) Aşağıdakilerden hangisi doğal varlıklarımızdan biridir?



Süleymaniye Camii



Efes Antik Kenti



Dolmabahçe Sarayı



Ağrı Dağı

- 6) Yurdumuzun deęişik bölgelerinde çeşitli el sanatları ön plana çıkmıştır. Gaziantep yöresinde bakırcılık, Kayseri-Bünyan'da halıcılık, İznik'te çinicilik ön plandadır.

Buna göre el sanatlarıyla ilgili aşağıdaki ifadelerden hangisi doğrudur?

- A) Yalnızca kendi yöresinde kullanılmıştır.
B) Deęişime uğramadan günümüze ulaşmıştır.
C) Kültürel unsurlarımızda çeşitlilik görülmüştür.
D) Yöreler arasında rekabet olmuştur.

- 7) Doğada kendiliğinden olan, insan eli değmeden oluşan varlıklara doğal varlık; insanlar tarafından ortaya konan eserlere ise tarihi eser denmektedir.

Bu bilgiye göre aşağıda yer alan eşleştirmelerden hangisi doğrudur?

	<u>DOĞAL VARLIK</u>	<u>TARİHİ ESER</u>
A)	İşhak Paşa Sarayı	Manyas Kuş Cenneti
B)	Ayder Yaylası	Topkapı Sarayı
C)	Munzur Çayı	Uzungöl Yaylası
D)	Sümela Manastırı	Tuşpa Kalesi

8)



Türkiye fiziki haritasına baktığımızda doğuya doğru gidildikçe dağların renginin koyulaştığı görülür.

Bu durum aşağıdakilerden hangisi ile açıklanabilir?

- A) Yüksekliğin artmasıyla
B) Sıcaklığın azalmasıyla
C) Ovaların çok olmasıyla
D) Ormanların fazla olmasıyla

- 9) Kültür ve Turizm Bakanlığı, ülkemizin tanıtımı amacıyla hazırladığı broşürde "Kültürel Değerlerimiz" başlığı altında hangisine yer vermez?

A) Kokoreç

B) Lokum



C) Gitar



D) Hacıvat-Karagöz



10)



Şemada verilen bilgiler aşağıdaki bölgelerimizden hangisine aittir?

- A) Akdeniz
B) Ege
C) Karadeniz
D) Güneydoğu Anadolu

11)

Ülkemiz, iklim çeşitliliği bakımından zengin bir ülkedir.



Yukarıdaki şemaya aşağıdaki iklim tiplerinden hangisi yazılamaz?

- A) Karadeniz iklimi B) Akdeniz iklimi
C) Karasal iklim D) Ekvatorial iklim

12)



Aşağıdakilerden hangisi haritadaki boyalı bölgenin özelliklerinden biri değildir?

- A) Ülkemizin en geniş ovaları bulunur.
B) Her mevsim yağış görülür
C) Evleri genellikle ahşaptır.
D) Karadeniz'e kıyısı vardır.

13) Ülkemizde ortalama yükseltinin en az olduğu bölge Marmara Bölgesi'dir.



Buna göre Marmara Bölgesi'ni gösteren fiziki haritada aşağıdaki renklerden hangisi daha çok kullanılmaktadır?

- A) Kahverengi B) Sarı
C) Turuncu D) Yeşil

14) Aşağıda verilenlerden hangisi kabartma haritaları üzerinde gösterilemez?

A)



Gediz Nehri

B)




Malatya Ovası

C)



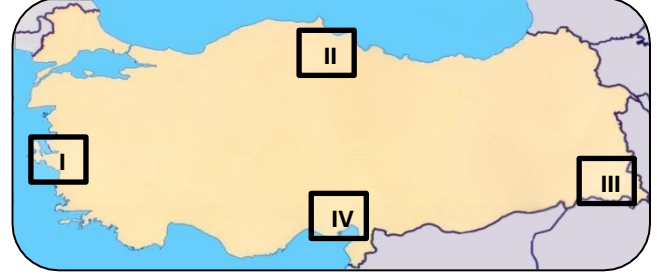
Ağrı Dağı

D)



Düden Şelalesi

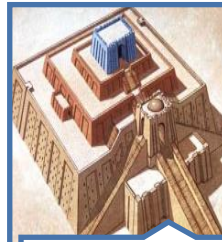
15)




Haritada numaralandırılarak gösterilen yerlerden hangisinin nüfus yoğunluğu daha azdır?

- A) I B) II
C) III D) IV


16)



Ziggurat adını verdikleri tapınakları gözlemevi olarak kullandılar.



Mısırlılar ile Kadeş Barış Antlaşmasını yaptılar.




Asma bahçeleri dünyanın yedi harikasıdır.

Yukarıda verilen bilgiler aşağıdaki uygarlıklarla eşleştirildiğinde hangi uygarlık dışarıda kalır?

- A) Hititler B) İyonlar
C) Sümerler D) Babiller

17)



Mescid-i Akse

Yukarıda verilen görsel için, Filistin'in başkenti Kudüs'te yaşanan savaştan ötürü Müslümanlar daha çok hangi hakkını kullanamamaktadırlar?

- A) Eğitim hakkını B) Sağlık Hakkını
C) Din ve Vicdan Özgürlüğünü D) Düşünce ve İfade Özgürlüğünü

18)



Kerpiç ev



Ahşap ev



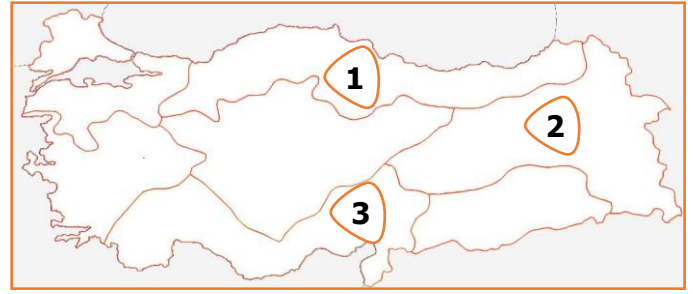
Taş ev

Ülkemizin kırsal kesimlerinde konut yapımında farklı yapı malzemelerinin kullanılmasında iklim özellikleri de etkili olmaktadır.

Resimleri verilen evlerin en çok yapıldığı iklimler aşağıdaki seçeneklerin hangisinde doğru olarak eşleştirilmiştir?

	Kerpiç Ev	Ahşap Ev	Taş Ev
A)	Karasal	Karadeniz	Akdeniz
B)	Akdeniz	Karasal	Karadeniz
C)	Karadeniz	Akdeniz	Karasal
D)	Karasal	Akdeniz	Karadeniz

19) Türkiye, taşıdığı belirli coğrafi özellikler bakımından birbirinden ayrılan, kendi içinde benzerlikler gösteren 7 coğrafi bölgeye ayrılmıştır.



Buna göre yukarıdaki harita üzerinde numaralandırılmış olarak gösterilen bölgelerimiz sırasıyla aşağıdaki seçeneklerin hangisinde doğru olarak verilmiştir?

	1	2	3
A)	Ege Bölgesi	Karadeniz Bölgesi	İç Anadolu Bölgesi
B)	Akdeniz Bölgesi	Marmara Bölgesi	İç Anadolu Bölgesi
C)	Karadeniz Bölgesi	Doğu Anadolu Bölgesi	Akdeniz Bölgesi
D)	Karadeniz Bölgesi	Ege Bölgesi	Akdeniz Bölgesi

20)

I	II	III
Akarsular tarafından derin bir şekilde yarılmış ve çevresine göre yüksekte kalmış düzlüklerdir.	Karaların üzerindeki çukurlarda birikmiş durgun sulardır.	Deniz sularının karaların içine sokulmuş büyük ve derin girintisidir.

Buna göre verilen yeryüzü şekillerinin tanımları aşağıdakilerin hangisinde doğru eşleştirilmiştir?

	I	II	III
A)	Vadi	Deniz	Koy
B)	Plato	Göl	Körfez
C)	Delta Ovası	Göl	Koy
D)	Akarsu	Göl	Vadi

Başarılar Dilerim... Cüneyt BANAN
Sosyal Bilgiler Öğretmeni

5. SINIFLAR İÇİN SOSYAL BİLGİLER DERSİ SINAV CEVAP ANAHTARI
(08 OCAK 2018)

SORU SAYISI: 20

Doğru Yanıtlar Tablosu		Sorunun İçeriği ve Özü
1-	D	OLAYLARIN ÇOK BOYUTLULUĞU
2-	B	ÜSTLENDİĞİMİZ ROLLER
3-	D	SOSYAL BİLGİLERİN KATKILARI
4-	C	İLKÇAĞ UYGARLIKLARI
5-	D	DOĞAL VARLIKLAR
6-	D	EL SANATLARI – KÜLTÜREL DEĞERLERİMİZ
7-	B	TARİHİ ESER VE DOĞAL VARLIK
8-	A	TÜRKİYE FİZİKİ HARİTASI
9-	C	KÜLTÜREL DEĞERLERİMİZ
10-	B	EGE BÖLGESİ
11-	D	ÜLKEMİZDE GÖRÜLEN İKLİMLER
12-	A	KARADENİZ BÖLGESİNİN ÖZELLİKLERİ
13-	D	MARMARA BÖLGESİ FİZİKİ HARİTA
14-	D	YER ŞEKİLLERİNİN KABARTMA HAR. GÖSTERİLMESİ
15-	C	NÜFUS YOĞUNLUĞU
16-	B	İLKÇAĞ UYGARLIKLARI
17-	C	DİN VE VİCDAN ÖZGÜRLÜĞÜ
18-	A	İKLİMLER
19-	C	COĞRAFİ BÖLGELERİMİZ
20-	B	YERYÜZÜ ŞEKİLLERİ