

ONUR AKMEŞE

2012-2021

ÇIKMIŞ SORULAR

5. Sınıf

Bu çalışma son 10 yıl içerisinde MEB tarafından BURSLULUK sınavlarında sorulan 212 soruyu kapsamaktadır. 10 farklı sınavdan derlenmiştir.

Müfredat değişiklikleriyle kaldırılan kazanımlardaki sorular şuan yer alan en yakın kazanıma eklenmiştir. Yakın bir kazanım yok ise soru kullanılmamıştır.

Sosyal Bilgiler



www.akmeseonur.com



@akmese.onur

@sosyal_bilgiler_zumresi2021



Onur Akmeşe

Daha Fazla Ücretsiz İçerik İçin;

Web: www.akmeseonur.com

Youtube: [Onur AKMEŞE-ZGA Yayınları](https://www.youtube.com/channel/UCkMESE-ZGA)

Instagram: [@akmese.onur](https://www.instagram.com/akmese.onur)

Instagram: [@sosyal bilgiler zumresi2021](https://www.instagram.com/sosyal_bilgiler_zumresi2021)



YouTube



Kitaplarımız ile ilgili bilgi ve sipariş için;

www.zgayayinlari.com

Whatsapp: 0 850 30 83 ZGA (942)

Yukarıdaki bağlantıların üzerine tıklayarak sitelere ulaşabilirsiniz.



8. SINIF SORU BANKAMIZ

**ZÜMRELERİN
GÜCÜ
ADINA
YAYINLARI**



8. SINIF 30'LU DENEMEMİZ

2022-2023 Eğitim Öğretim Döneminde 6. ve 7. Sınıf Sosyal Bilgiler Soru Bankalarımız ile SİZLERLEYİZ.



BİREY VE TOPLUM



1.ÜNİTE



**BU ÜNİTEDEN 2012 YILINDAN
2021 YILINA KADAR YAPILAN
10 SINAVDA TOPLAM
29 SORU ÇIKMIŞTIR.**

- 1.SOSYAL BİLGİLER DERSİNİN, TÜRKİYE CUMHURİYETİ'NİN ETKİN BİR VATANDAŞI OLARAK KENDİ GELİŞİMİNE KATKISINI FARK EDER.**
- 2.YAKIN ÇEVRESİNDE YAŞANAN BİR ÖRNEKTEN YOLA ÇIKARAK BİR OLAYIN ÇOK BOYUTLULUĞUNU AÇIKLAR.**
- 3.KATILDIĞI GRUPLARDA ALDIĞI ROLLERİN GEREKTİRDİĞİ HAK VE SORUMLULUKLARA UYGUN DAVRANIR.**
- 4.ÇOCUK HAKLARINDAN YARARLANMAYA VE BU HAKLARIN İHLALLERİNE ÖRNEKLER VERİR.**



@akmese.onur

@sosyal_bilgiler_zumresi2021

BU KAZANIMDAN SON 10 YILDA 3 SORU SORULMUŞTUR.

1

Aşağıdakilerden hangisi sosyal bilgiler dersinin faydalarından biri değildir?

- A) Hak ve sorumluluklarımızı öğretir.
- B) Millet olma bilincimizi geliştirir.
- C) Maddenin yapısı hakkında bilgi edinmemizi sağlar.
- D) Ülkemizi ve dünyamızı daha iyi tanımamıza yardımcı olur.

2

Zeynep ve arkadaşları atık kâğıt ve pillerin geri dönüşümü için bir proje çalışması yapmışlardır.

Zeynep ve arkadaşlarının bu projeyi yapmalarında aşağıdakilerden hangisi etkili olmuştur?

- A) Doğaya karşı duyarlı olmaları
- B) Tarihe ilgi duymaları
- C) Kanun ve kurallara uymaları
- D) Millî kültürümüzü tanımaları

3

Haklarını ve sorumluluklarını bilen ve buna göre hareket eden kişiler birer etkin vatandaşdır.

Buna göre etkin bir vatandaşın aşağıdakilerden hangisini yapması beklenmez?

- A) Anlayışlı ve yardımseverdir.
- B) Askerlik görevini yerine getirir.
- C) Kanunlara ve kurallara uyar.
- D) Kendi hatalarını başkasına yükler.



KAZANIM 1: SOSYAL BİLGİLER DERSİNİN, TÜRKİYE CUMHURİYETİ'NİN ETKİN BİR VATANDAŞI OLARAK KENDİ GELİŞİMİNE KATKISINI FARK EDER.

BU KAZANIMDAN SON 10 YILDA 3 SORU SORULMUŞTUR.

CEVAP ANAHTARI

1-C

2-A

3-D



@akmese.onur

@sosyal_bilgiler_zumresi2021

SADECE SOSYAL BİLGİLER ÖĞRETMENLERİNİN YER ALDIĞI WHATSAP GRUPLARIMIZDAN BİRİNE KATILMAK İÇİN MAIL ATABİLİRSİNİZ.

onurakmese16@gmail.com

Daha Fazlası İçin Tıkla

www.akmeseonur.com



BU KAZANIMDAN SON 10 YILDA 2 SORU SORULMUŞTUR.

1

Ayşe ve ailesi Ankara’da yaşamaktadırlar. Ayşe’nin babası İstanbul’dan iyi bir iş teklifi almıştır. Bu teklif tüm ailede büyük bir heyecan ve mutluluk oluşturmuştur. Sonuç olarak Ankara’dan taşınmışlardır. Yeni bir ev, yeni bir okul, yeni bir çevre ile tanışmak Ayşe için sıra dışı bir deneyim olmuştur. Bütün aile bu durumdan birçok açıdan etkilenmişlerdir.

Buna göre şehir değişikliği durumu için aşağıdakilerden hangisi söylenebilir?

- A) Sonuçları çok boyutludur.
- B) Ayşe durumdan en az etkilenen kişidir.
- C) Karar birden fazla nedene bağlanmıştır.
- D) Aile bu durumdan dolayı üzgündür.

2

Denizciler pusula bulunmadan önce kaybolmamak için kıyıları takip ediyorlardı. Pusulanın bulunmasıyla birlikte uzak yerlere yolculuklara çıktılar. Bu yolculuklar sonucunda yeni kıtalar keşfettiler. Keşfedilen yerlerde bulunan farklı ürünler dünyanın çeşitli yerlerine yayıldı. Deniz ticareti Akdeniz’den okyanuslara kaydı. Ayrıca bu keşiflerle Dünya’nın yuvarlak olduğu da kanıtlandı.

Bu bilgide pusulanın bulunması ile ilgili aşağıdakilerden hangisi üzerinde durulmuştur?

- A) Sonuçlarının çok boyutlu olması
- B) Dünya ekonomisini olumsuz etkilemesi
- C) Birlik ve dayanışma duygularını güçlendirmesi
- D) Kültürler arasındaki farklılıkları kaldırması



KAZANIM 2: YAKIN ÇEVRESİNDE YAŞANAN BİR ÖRNEKTEN YOLA ÇIKARAK BİR OLAYIN ÇOK BOYUTLULUĞUNU AÇIKLAR.

BU KAZANIMDAN SON 10 YILDA 2 SORU SORULMUŞTUR.

CEVAP ANAHTARI

1-A

2-A



@akmese.onur

@sosyal_bilgiler_zumresi2021

SADECE SOSYAL BİLGİLER ÖĞRETMENLERİNİN YER ALDIĞI WHATSAP GRUPLARIMIZDAN BİRİNE KATILMAK İÇİN MAIL ATABİLİRSİNİZ.

onurakmese16@gmail.com

Daha Fazlası İçin Tıkla

www.akmeseonur.com



BU KAZANIMDAN SON 10 YILDA 15 SORU SORULMUŞTUR.

1

Tabloda grup ve gruba ait rol eşleştirmesi ve-
rilmiştir:

	Grup	Rol
I	Futbol takımı	Futbolcu
II	Aile	Kardeş
III	Akraba	Yeğen
IV	Arkadaş	Amca

Bu eşleştirmelerden kaç tanesi doğrudur?

- A) 1 B) 2 C) 3 D) 4

2

Sosyal bilgiler öğretmeni öğrencilerinden
sorumlulukla ilgili örnek vermelerini istemiştir.
Öğrenciler şu örnekleri vermişlerdir:

- Ayşe** : Hastanede tedavi olmak
Mehmet : Okulda eğitim görmek
Derya : Planlı ve düzenli çalışmak
Emre : Barınma ihtiyacını karşılamak

**Buna göre hangi öğrenci sorumlulukla
ilgili doğru örneği vermiştir?**

- A) Ayşe B) Mehmet
C) Derya D) Emre

3

“Vatanını en çok seven, görevini en iyi yapandır.”

**Atatürk bu sözü ile aşağıdakilerden hangi-
sinin önemini vurgulamıştır?**

- A) Dayanışmanın B) Hoşgörünün
C) Bağımsızlığın D) Sorumluluğun

4

Bir grupta rol alarak bazı haklar elde ederiz.
Yer aldığımız gruplardaki rollerimizin gerekle-
rini yerine getirmemiz ise sorumluluklarımızı
oluşturur.

Buna göre;

- I. aile içi kararlarda düşüncelerimizi söylemek,
II. derslerimizde başarılı olmak için gerekenle-
ri yapmak,
III. odamızı temiz ve düzenli tutmak

**maddelerinden hangileri sorumluluklarımız
arasında yer alır?**

- A) Yalnız I. B) Yalnız II.
C) I ve II. D) II ve III.

5

- Sınıf kurallarına uymak
- Çalışma odamızı temiz tutmak

**Verilen davranışlar hangi kavrama örnek
olabilir?**

- A) Hak B) Sorumluluk
C) Grup D) Dayanışma

6

**Murat evli ve iki çocuk babası bir öğret-
mendir.**

**Buna göre, aşağıdakilerden hangisi Murat'ın
üstlenebileceği rollerden biri olamaz?**

- A) Baba B) Eş
C) Öğretmen D) Kardeş



BU KAZANIMDAN SON 10 YILDA 15 SORU SORULMUŞTUR.

7

- I. Hak → Okul kuralları hakkında bilgilendirilmek
- II. Hak → Nöbetle ilgili görevleri yerine getirmek
- III. Sorumluluk → Okulun olanaklarından faydalanmak

Yukarıdaki numaralanmış eşleştirmelerden hangileri doğrudur?

- A) I ve II.
- B) Yalnız I
- C) II ve III.
- D) I, II ve III.

8

Yaşlı anne ve babasıyla yaşayan Belkıs Hanım, okuldaki öğrencilerinin tavsiyesiyle katıldığı müzik kursunda çok mutlu olmuştu.

Belkıs Hanım'ın sahip olduğu roller aşağıdakilerin hangisinde doğru verilmiştir?

- A) Evlat - Öğretmen - Öğrenci
- B) Anne - Evlat - Öğretmen
- C) Müdür - Anne - Öğrenci
- D) Anne - Öğrenci - Öğretmen

9

Aşağıdakilerden hangisi diğerlerine göre daha uzun süreli bir gruptur?

- A) Oyun grubu
- B) Öğrenci Kulübü
- C) Aile grubu
- D) Halk oyunları grubu

10



Yukarıdaki şemada soru işareti (?) ile belirtilen alana aşağıdaki kavramlardan hangisinin getirilmesi uygun olur?

- A) Hak
- B) Rol
- C) Sorumluluk
- D) İş bölümü

11

Merhaba, adım Çiçek. Ailemle birlikte Ankara'da yaşıyoruz. Büyükanem de bizimle kalıyor. Evde birbirimizle yardımlaşmaya özen gösteriyoruz. Ablam ihtiyacım olduğunda ödevlerime yardım ediyor. Ben de boş zamanlarımda büyükanmeme sevdiği kitapları okuyorum.

Bu parçaya göre aşağıdakilerden hangisi Çiçek'in rollerinden biri değildir?

- A) Abla
- B) Torun
- C) Kardeş
- D) Öğrenci



BU KAZANIMDAN SON 10 YILDA 15 SORU SORULMUŞTUR.

7

5/A sınıfı başkanı Yusuf, sınıf defterini ve yoklama fişini ilgili müdür yardımcısının odasından alıp sınıfa getirir.

Yusuf'un bu davranışını, aşağıdaki kavramlardan hangisiyle ilişkilendirebiliriz?

- A) Rol B) Hak C) Grup D) Kurum

8

Çocuk olarak çeşitli hak ve sorumluluklarımız vardır.

Aşağıdakilerden hangisi sorumluluklarımızdandır?

- A) Eğitim görmek
B) Oyun oynamak
C) Sağlıklı çevrede yaşamak
D) Okulumuzu temiz tutmak

9

Hepimiz, içinde bulunduğumuz gruplarda rolümüz gereği çeşitli hak ve sorumluluklara sahibiz.

Buna göre, aşağıdakilerden hangisi 5. sınıf öğrencisinin haklarından biridir?

- A) Sabah kalktığında yatağını toplaması
B) Yatmadan önce dişlerini fırçalaması
C) Hastanede istediği doktora muayene olabilmesi
D) Okul bahçesinin temiz olmasına özen göstermesi

10

Merve; ailesine, okuluna ve içinde yaşadığı topluma karşı sorumludur. Üzerine düşen görev ve sorumlulukları zamanında yerine getirir.

Aşağıdakilerden hangisi Merve'nin ailesine karşı yerine getirmesi gerekli sorumluluklarındanıdır?

- A) Parkta çevredekileri rahatsız etmeden oyun oynaması
B) Sınıfındaki eşyaları özenle kullanması
C) Ev işlerinde annesine yardımcı olması
D) Kimsesiz çocuklara yardım etmesi





KAZANIM 3: KATILDIĞI GRUPLARDA ALDIĞI ROLLERİN GEREKTİRDİĞİ HAK VE SORUMLULUKLARA UYGUN DAVRANIR.



BU KAZANIMDAN SON 10 YILDA 15 SORU SORULMUŞTUR.

CEVAP ANAHTARI

1-C	8-A	15-C
2-C	9-C	
3-D	10-C	
4-D	11-A	
5-B	12-A	
6-D	13-D	
7-B	14-C	



@akmese.onur

@sosyal_bilgiler_zumresi2021

SADECE SOSYAL BİLGİLER ÖĞRETMENLERİNİN YER ALDIĞI WHATSAP GRUPLARIMIZDAN BİRİNE KATILMAK İÇİN MAIL ATABİLİRSİNİZ.

onurakmese16@gmail.com

Daha Fazlası İçin Tıkla

www.akmeseonur.com



BU KAZANIMDAN SON 10 YILDA 9 SORU SORULMUŞTUR.

1

Devlet kurumları tarafından çocukların ücretsiz olarak aşılınması, hastalandıklarında tedavi edilmesi çocukların sahip olduğu hangi hak ile ilgilidir?

- A) Eğitim B) Sağlık
C) Düşünce D) Oyun

2

Aşağıdakilerden hangisinde “eğitim hakkının ihlali” söz konusudur?

- A) Yeni doğan bebeğin nüfus kütüğüne kaydedilmemesi
B) Çocukların düşüncelerini özgürce ifade etmelerinin engellenmesi
C) Bir ailenin konutuna izinsiz müdahale edilmesi
D) Okul çağındaki bir çocuğun okula gönderilmemesi

3

“Ben, çocuk meclisinde duygularımı ve fikirlerimi rahatça ifade etmeyi öğrendim.” diyen bir öğrenci, çocuk meclisinin çocuk haklarından hangisini kullanmasına fırsat verdiğini belirtmiştir?

- A) Oyun oynama hakkını
B) Beslenme hakkını
C) Düşünce özgürlüğü hakkını
D) Barınma hakkını

4

“Merhaba ben Ece, 4. sınıfa gidiyorum. Bugün güzel ve güneşli bir gündü. Öğretmenimize dersi okulumuzun bahçesinde yapmak istediğimizi söyledim. Öğretmenimiz “Bir ders için bunu yapabiliriz.” diyerek hepimizi bahçeye çıkardı. Çimlere oturduk ve öğretmenimizi dinledik. Zil çaldığında ise arkadaşlarımla körebe oynadım.”



Bu metinde Ece'nin aşağıda verilen haklarından hangisini kullandığı söylenemez?

- A) Eğitim alma
B) Oyun oynama
C) Yeterli beslenme
D) Düşüncelerini söyleme

5

Dünya çocuklarını korumak ve yaşam koşullarını iyileştirmek amacıyla Birleşmiş Milletler tarafından kurulan yardım kuruluşu aşağıdakilerden hangisidir?

- A) TEMA B) UNICEF
C) LÖSEV D) ÇEVKO



BU KAZANIMDAN SON 10 YILDA 9 SORU SORULMUŞTUR.

6

- I. Eğitim görmek
 - II. Düşünce ve vicdan özgürlüğüne sahip olmak
 - III. Oyun, eğlence ve kültürel etkinliklere katılmak
- Yukarıda verilenlerden hangileri çocukların “gelişme” ile ilgili hakları arasında yer alır?**

- A) I ve II
- B) I ve III
- C) II ve III
- D) I, II ve III

7

“Öğretmenimiz bir konu belirleyerek sınıfta tartışılmasını istedi. Konu ile ilgili düşüncesini paylaşmak isteyen bütün arkadaşlarımıza söz hakkı tanıdı.”

Buna göre öğretmen, aşağıdaki çocuk haklarından hangisinin kullanılmasına ortam hazırlamıştır?

- A) Eğitim
- B) Yaşama
- C) Dernek kurma
- D) İfade özgürlüğü

8

Aşağıdaki çocuk haklarından hangisi güvenlik ihtiyacı ile ilgilidir?

- A) Eğitime erişim
- B) İfade özgürlüğü
- C) Özel yaşamı saklı tutma
- D) Silahlı çatışmalardan korunma

9

Madde 32: Çocuk işçiliği

Hükümet sizi, sağlık veya gelişiminiz için zararlı nitelikte, eğitiminizi engelleyen veya başka insanların sizi sömürmelerine neden olan işlerden korumalıdır.

Aşağıdakilerden hangisi Çocuk Hakları Sözleşmesi’nin verilen maddesine uygun bir yaklaşımdır?

- A) Çocukların vasıfsız işlerde çalıştırılmaları uygundur.
- B) Çocuklar da yetişkinlerin aldıkları ücret kadar ücret almalıdırlar.
- C) Eğitimlerine devam ettikleri sürece çocukların çalıştırılmaları normaldir.
- D) Çocukların ne şekilde olursa olsun çalıştırılmaları doğru değildir.





KAZANIM 4: ÇOCUK HAKLARINDAN YARARLANMAYA VE BU HAKLARIN İHLALLERİNE ÖRNEKLER VERİR.



BU KAZANIMDAN SON 10 YILDA 9 SORU SORULMUŞTUR.

CEVAP ANAHTARI

1-B 8-D

2-D 9-D

3-C

4-C

5-B

6-D

7-D



@akmese.onur

@sosyal_bilgiler_zumresi2021

SADECE SOSYAL BİLGİLER ÖĞRETMENLERİNİN YER ALDIĞI WHATSAP GRUPLARIMIZDAN BİRİNE KATILMAK İÇİN MAIL ATABİLİRSİNİZ.

onurakmese16@gmail.com

Daha Fazlası İçin Tıkla

www.akmeseonur.com





KÜLTÜR VE MİRAS



2.ÜNİTE



**BU ÜNİTEDEN 2012 YILINDAN
2021 YILINA KADAR YAPILAN
10 SINAVDA TOPLAM
28 SORU ÇIKMIŞTIR.**

- 1.SOMUT KALINTILARINDAN YOLA ÇIKARAK KADİM UYGARLIKLARIN İNSANLIK TARİHİNE KATKILARINI FARK EDER.
- 2.ÇEVRESİNDEKİ DOĞAL VARLIKLAR İLE TARİHİ MEKÂNLARI, NESNELERİ VE ESERLERİ TANITIR.
- 3.ÜLKEMİZİN ÇEŞİTLİ YERLERİNİN KÜLTÜREL ÖZELLİKLERİ İLE YAŞADIĞI ÇEVRENİN KÜLTÜREL ÖZELLİKLERİNİ KARŞILAŞTIRARAK BUNLAR ARASINDAKİ BENZER VE FARKLI UNSURLARI BELİRLER.
- 4.KÜLTÜREL ÖGELERİN, İNSANLARIN BİR ARADA YAŞAMASINDAKİ ROLÜNÜ ANALİZ EDER.
- 5.GÜNLÜK YAŞAMDAKİ KÜLTÜREL UNSURLARIN TARİHİ GELİŞİMİNİ DEĞERLENDİRİR.



@akmese.onur

@sosyal_bilgiler_zumresi2021

BU KAZANIMDAN SON 10 YILDA 10 SORU SORULMUŞTUR.

1

Hititlerde devlet, askerî ve dinî yetkileri olan kral tarafından yönetilirdi. Kralın en önemli yardımcısı Tavananna adı verilen kraliçeydi. Tanrılara hesap vermek amacıyla anal adı verilen yıllıklar tutarlardı.

Buna göre Hitit uygarlığı ile ilgili aşağıdakilerden hangisi söylenemez?

- A) Kadın devlet yönetimine katılmıştır.
- B) Yazılı belgeler oluşturmuşlardır.
- C) Devlet yönetiminde din etkilidir.
- D) Tek tanrılı bir din anlayışı vardır.

2

Sümerler, ziggurat denilen yapıların en üst katını gözlemevi olarak kullanmışlardır. Ay'ı, gezegenleri ve yıldızları gözlemleyen Sümerler ay yılı esasına dayanan takvimi icat etmişlerdir.

Bu bilgiye göre Sümerlerin aşağıdakilerden hangisiyle uğraştıkları söylenebilir?

- A) Sanat
- B) Astronomi
- C) Ticaret
- D) Siyaset

3

Aşağıdakilerden hangisi Mezopotamya'da kurulan uygarlıklardan biridir?

- A) Frigler
- B) Urartular
- C) Sümerler
- D) İyonlar

4

Ege Bölgesi'nin verimli topraklarına yerleşmişler. En önemli gelirlerini ticaretten elde etmişler. Kendi ülkelerinden başlayıp Mezopotamya'ya kadar uzanan Kral Yolu ile zenginleşmişler. Ticareti kolaylaştırmak için de takas usulüne son verip madeni parayı kullanmaya başlamışlar.

Verilen bilgiler Anadolu'da kurulan hangi uygarlığa aittir?

- A) İyonlar
- B) Frigler
- C) Hititler
- D) Lidyalılar

5

Frigler, altın, gümüş ve bronz kullanarak fibula adı verilen çatal iğneyi icat etmişlerdir. Evlerinin tabanlarını renkli taşlarla süslemişlerdir. Frig kilimleri ve mobilyaları Anadolu'nun birçok pazarında satılmıştır.

Bu bilgiden Friglerin aşağıdakilerden hangisiyle uğraştıkları çıkarılamaz?

- A) Dokumacılık
- B) Maden işçiliği
- C) Askerlik
- D) Ağaç işçiliği



BU KAZANIMDAN SON 10 YILDA 10 SORU SORULMUŞTUR.

6

Aşağıdakilerden hangisi ile “tarihî devirler”in başladığı kabul edilir?

- A) İlk yazılı kanunların yapılmasıyla
- B) Tarımın başlamasıyla
- C) Yazının kullanılmasıyla
- D) Zigguratların inşa edilmesiyle

7

Özgür düşünceye önem veren ve birçok bilim insanı yetiştiren İlk Çağ Uygarlığı aşağıdakilerden hangisidir?

- A) İyonlar
- B) Sümerler
- C) Lidyalılar
- D) Frigler

8

Thales (Tales), Pythagoras (Pisagor), Hipokrates (Hipokrat), Homeros, Diogenes (Diyojen) gibi ünlü bilim insanları İyonlar döneminde yetişmiştir.

Bu bilgide İyonların aşağıdaki özelliklerinden hangisi vurgulanmaktadır?

- A) Fenike alfabesini kullanması
- B) Çok tanrılı bir inanca sahip olması
- C) Akdeniz ve Karadeniz’de koloniler kurması
- D) Bilim ve düşüncede ileri bir medeniyet olması

9

- Başkentleri Ninova’dır.
- Çivi yazısını Anadolu’ya getirmişlerdir.
- Dünyanın ilk kütüphanesini kurmuşlardır.

Hakkında bilgi verilen uygarlık aşağıdakilerden hangisidir?

- A) Sümerler
- B) Asurlar
- C) İyonlar
- D) Babiller

10

- Kral yolunu yapmışlardır.
- Değiş-tokuş usulünü sona erdiren parayı icat etmişlerdir.

Bu bilgilere göre Lidyalılar aşağıdaki alanların hangisine katkı sağlamıştır?

- A) Eğitim
- B) Hukuk
- C) Sanat
- D) Ticaret





KAZANIM 5: SOMUT KALINTILARINDAN YOLA ÇIKARAK KADİM UYGARLIKLARIN İNSANLIK TARİHİNE KATKILARINI FARK EDER.



BU KAZANIMDAN SON 10 YILDA 10 SORU SORULMUŞTUR.

CEVAP ANAHTARI

- 1-D 8-D
- 2-B 9-B
- 3-C 10-D
- 4-D
- 5-C
- 6-C
- 7-A



@akmese.onur

@sosyal_bilgiler_zumresi2021

SADECE SOSYAL BİLGİLER ÖĞRETMENLERİNİN YER ALDIĞI WHATSAP GRUPLARIMIZDAN BİRİNE KATILMAK İÇİN MAIL ATABİLİRSİNİZ.

onurakmese16@gmail.com

Daha Fazlası İçin Tıkla

www.akmeseonur.com



BU KAZANIMDAN SON 10 YILDA 9 SORU SORULMUŞTUR.

1

Doğada insan etkisi olmadan oluşan vadi, göl, deniz, plato gibi gezip görülebilecek unsurların tümüne doğal varlık adı verilir.

Buna göre aşağıdakilerden hangisi Türkiye’deki doğal varlıklardan biridir?

- A) Sümela Manastırı
- B) İshakpaşa Sarayı
- C) Truva Atı
- D) Pamukkale Travertenleri

2

Arkeolojik kazılarla ortaya çıkarılan Şanlıurfa yakınlarındaki Göbeklitepe, dünyanın bilinen en eski ibadet merkezlerinden biridir.

Bu bilgide Göbeklitepe’nin hangi alandaki öneminden bahsedilmiştir?

- A) Askerî
- B) Dinî
- C) Siyasi
- D) Ekonomik

3

Süleymaniye Camisi ülkemizde bulunan - - - arasında yer alır.

Cümlede boş bırakılan yere aşağıdakilerden hangisi yazılmalıdır?

- A) doğal varlıklar
- B) modern yapılar
- C) tarihî eserler
- D) müzeler

4



Verilen görsel aşağıdaki doğal varlıklarımızdan hangisine aittir?

- A) Uzungöl
- B) Peri Bacaları
- C) Uludağ
- D) Manyas Kuş Cenneti

5

Geçmişte yaşamış insan topluluklarına ait kalıntıların bulunduğu yapı ve alanlara “tarihî mekân” adı verilmektedir.

Buna göre aşağıdakilerden hangisi tarihî mekâna örnektir?

- A) Çatalhöyük Antik Kenti
- B) Manyas Kuş Cenneti
- C) Hz. Muhammed’in Kılıcı
- D) Fatih Sultan Mehmet’in Tuğrası



BU KAZANIMDAN SON 10 YILDA 9 SORU SORULMUŞTUR.

6

Altın sarısı kumsalıyla caretta caretta (karetta karettta) kaplumbağalarına yaşam alanı olan belde, Kaunos Antik Kenti'ni gezmek isteyen turistlere de ev sahipliği yapıyor.

Doğal ve tarihî yapısı hakkında kısa bilgi verilen mekân, aşağıdaki illerimizden hangisinin sınırları içerisinde?

- A) Çanakkale B) Mersin
C) Antalya D) Muğla

7

AYASOFYA MÜZESİ, BAKIM VE ONARIM ÇALIŞMALARI NEDENİYLE ÜÇ AY ZİYARETÇİ GİRİŞİNE KAPATILMIŞTIR.

Bu açıklama, aşağıdaki bakanlıklardan hangisi tarafından yapılmış olabilir?

- A) Adalet B) İçişleri
C) Millî Eğitim D) Kültür ve Turizm

8

Aşağıdaki turistik mekânlardan hangisi doğal yollarla oluşmuştur?

- A) Peribacaları
B) Rumeli Hisarı
C) Sümela Manastırı
D) İshak Paşa Sarayı

9



Pamukkale
Travertenleri
Denizli



Mevlâna
Türbesi
Konya



Efes
Harabeleri
İzmir

Görsellerde verilen tarihî ve doğal varlıkları koruma ve tanıtmaya, aşağıdaki bakanlıklardan hangisinin görev ve sorumluluk alanına girer?

- A) Adalet Bakanlığı
B) Sağlık Bakanlığı
C) Millî Eğitim Bakanlığı
D) Kültür ve Turizm Bakanlığı





KAZANIM 6: ÇEVRESİNDEKİ DOĞAL VARLIKLAR İLE TARİHİ MEKÂNLARI, NESNELERİ VE ESERLERİ TANITIR.



BU KAZANIMDAN SON 10 YILDA 9 SORU SORULMUŞTUR.

CEVAP ANAHTARI

- | | |
|-----|-----|
| 1-D | 8-A |
| 2-B | 9-D |
| 3-C | |
| 4-B | |
| 5-A | |
| 6-D | |
| 7-D | |



@akmese.onur

@sosyal_bilgiler_zumresi2021

SADECE SOSYAL BİLGİLER ÖĞRETMENLERİNİN YER ALDIĞI WHATSAP GRUPLARIMIZDAN BİRİNE KATILMAK İÇİN MAIL ATABİLİRSİNİZ.

onurakmese16@gmail.com

Daha Fazlası İçin Tıkla

www.akmeseonur.com



BU KAZANIMDAN SON 10 YILDA 7 SORU SORULMUŞTUR.

1

- Tüm dünyada Türk tatlısı olarak bilinir.
- Düğünlerde, ziyaretlerde misafirlere ikram edilir.

Hakkında bilgi verilen kültürel öğemiz aşağıdakilerden hangisidir?

- A) Çay B) Gül suyu
C) Kolonya D) Lokum

2

Özel olarak hazırlanmış suda, fırça ve çeşitli aletler yardımıyla istenilen desenler oluşturulur ve bu desenler kâğıt üzerine aktarılır.

Hakkında bilgi verilen geleneksel el sanatımız aşağıdakilerden hangisidir?

- A) Ebru B) Bakırcılık
C) Halıcılık D) Çini

3

Aşağıdakilerden hangisi yörelere göre farklılık gösteren kültürel özelliklerden biri değildir?

- A) Millî bayramlar B) Yemekler
C) Türküler D) El sanatları

4

Tabloda kültürel özelliklerimize ait örnekler verilmiştir:

Yemekler	Halk Oyunları	El Sanatları
1. Baklava	3. Horon	5. ?
2. Lahmacun	4. Zeybek	6. Ebru Sanatı

Buna göre boş bırakılan 5 numaralı yere aşağıdakilerden hangisinin yazılması uygundur?

- A) Çinçilik B) Cağ kebabı
C) Halay D) Zeytinyağlı sarma

5

Aşağıdakilerden hangisi “millî bayramlarımızın” temel özelliklerinden biridir?

- A) Akraba ve komşu ziyaretlerinin yapılması
B) Büyüklerimizin ellerinden öpülmesi
C) Dargın insanların barıştırılması
D) Başarılarımızın ve kahramanlığımızın anılması



BU KAZANIMDAN SON 10 YILDA 7 SORU SORULMUŞTUR.

6

Her toplum kendi kültürüne ait değerleri yaşatmak ve korumak için çaba harcamalıdır.

Buna göre aşağıdaki öğrencilerden hangisi kültürümüzü yaşatma konusunda bir örnek vermiştir?

A) Beyzbol sporunun okullarda yaygınlaştırılması



Ayşe

B) Hamburger yeme yarışması düzenlenmesi



Cemil

C) Keloğlan masalı anlatma yarışması yapılması



Burhan

D) Müzik derslerinde gitar öğrenilmesi



Derya

7

Aşağıda verilen halk oyunları ile, oynandığı il eşleştirmelerinden hangisi doğrudur?

Halk oyunu

Oynandığı il

A) Hora

Elazığ

B) Çayda çıra

Isparta

C) Horon

Trabzon

D) Zeybek

Erzurum



KAZANIM 7: ÜLKEMİZİN ÇEŞİTLİ YERLERİNİN KÜLTÜREL ÖZELLİKLERİ İLE YAŞADIĞI ÇEVRENİN KÜLTÜREL ÖZELLİKLERİNİ KARŞILAŞTIRARAK BUNLAR ARASINDAKİ BENZER VE FARKLI UNSURLARI BELİRLER.

BU KAZANIMDAN SON 10 YILDA 7 SORU SORULMUŞTUR.

CEVAP ANAHTARI

1-D

2-A

3-A

4-A

5-D

6-C

7-C



@akmese.onur

@sosyal_bilgiler_zumresi2021

SADECE SOSYAL BİLGİLER ÖĞRETMENLERİNİN YER ALDIĞI WHATSAP GRUPLARIMIZDAN BİRİNE KATILMAK İÇİN MAIL ATABİLİRSİNİZ.

onurakmese16@gmail.com

Daha Fazlası İçin Tıkla

www.akmeseonur.com





KAZANIM 8: KÜLTÜREL ÖGELERİN, İNSANLARIN BİR ARADA YAŞAMASINDAKİ ROLÜNÜ ANALİZ
EDER.



BU KAZANIMDAN SON 10 YILDA 0 SORU SORULMUŞTUR.





KAZANIM 8: KÜLTÜREL ÖGELERİN, İNSANLARIN BİR ARADA YAŞAMASINDAKİ ROLÜNÜ ANALİZ
EDER.



BU KAZANIMDAN SON 10 YILDA 0 SORU SORULMUŞTUR.

CEVAP ANAHTARI

1-



@akmese.onur

@sosyal_bilgiler_zumresi2021

**SADECE SOSYAL BİLGİLER ÖĞRETMENLERİNİN YER ALDIĞI WHATSAP
GRUPLARIMIZDAN BİRİNE KATILMAK İÇİN MAIL ATABİLİRSİNİZ.**

onurakmese16@gmail.com

Daha Fazlası İçin Tıkla

www.akmeseonur.com



BU KAZANIMDAN SON 10 YILDA 2 SORU SORULMUŞTUR.

1

“Geçmiş dönemde evlerin önünde iki üç gün süren düğünler yapılırken, günümüzde düğün salonlarında üç dört saat süren düğünler yapılmaktadır.”

Bu bilgiden yola çıkarak aşağıdaki ifadelerden hangisine ulaşılabilir?

- A) İklim şartları kültürü etkiler.
- B) Kültürel unsurlar zaman içinde değişebilir.
- C) Kültürel özellikler bölgelere göre farklılaşır.
- D) Eğitim imkânları yaşamı kolaylaştırır.

2

Aşağıdakilerden hangisi gündelik hayatımızdaki kültürel unsurlarımızın değişimine olumsuz bir örnektir?

- A) Geleneksel el sanatlarının sanayileşme ile yok olmaya başlaması
- B) Bayramlarda uzakta olan akrabalarla telefonla bayramlaşılması
- C) Halk oyunlarımızla birlikte modern dansların da öğrenilmesi
- D) Düğün eğlencelerinin gürültüyü engellemek için düğün salonlarında yapılması



KAZANIM 9: GÜNLÜK YAŞAMDAKİ KÜLTÜREL UNSURLARIN TARİHİ GELİŞİMİNİ DEĞERLENDİRİR.



BU KAZANIMDAN SON 10 YILDA 2 SORU SORULMUŞTUR.

CEVAP ANAHTARI

1-B

2-A



@akmese.onur

@sosyal_bilgiler_zumresi2021

SADECE SOSYAL BİLGİLER ÖĞRETMENLERİNİN YER ALDIĞI WHATSAP GRUPLARIMIZDAN BİRİNE KATILMAK İÇİN MAIL ATABİLİRSİNİZ.

onurakmese16@gmail.com

Daha Fazlası İçin Tıkla

www.akmeseonur.com





İNSANLAR, YERLER VE ÇEVRELER



3.ÜNİTE



**BU ÜNİTEDEN 2012 YILINDAN
2021 YILINA KADAR YAPILAN
10 SINAVDA TOPLAM
62 SORU ÇIKMIŞTIR.**

- 1.HARİTALAR ÜZERİNDE YAŞADIĞI BÖLGENİN YERYÜZÜ ŞEKİLLERİNİ GENEL OLARAK AÇIKLAR.
- 2.YAŞADIĞI BÖLGEDE GÖRÜLEN İKLİMİN, İNSAN FAALİYETLERİNE ETKİSİNİ, GÜNLÜK YAŞANTISINDAN ÖRNEKLER VEREREK AÇIKLAR.
- 3.BÖLGESİNDEKİ DOĞAL ÖZELLİKLER İLE BEŞERÎ ÖZELLİKLERİN NÜFUS VE YERLEŞİM ÜZERİNDEKİ ETKİLERİNİ İLİŞKİLENDİRİR.
- 4.YAŞADIĞI ÇEVREDEKİ AFETLERİN VE ÇEVRE SORUNLARININ OLUŞUM NEDENLERİNİ SORGULAR.
- 5.DOĞAL AFETLERİN TOPLUM HAYATI ÜZERİNE ETKİLERİNİ ÖRNEKLERLE AÇIKLAR.



@akmese.onur

@sosyal_bilgiler_zumresi2021

BU KAZANIMDAN SON 10 YILDA 14 SORU SORULMUŞTUR.

1

Aşağıda bir yeryüzü şekline ait görsel verilmiştir:



Bu yeryüzü şekli aşağıdakilerden hangisidir?

- A) Ada
B) Burun
C) Vadi
D) Ova

2

Aşağıdakilerden hangisi bir çizimin harita olabilmesi için gerekli koşullardan biri değildir?

- A) Kuş bakışı görünüşüne göre çizilmesi
B) Bir düzlem üzerine aktarılması
C) Farklı renkler kullanılması
D) Belli bir ölçek dâhilinde küçültülmesi

3

Aşağıda bazı yeryüzü şekillerinin tanımları yapılmıştır.

- I. Çevresine göre alçakta kalan geniş düzlüklerdir.
II. Üç tarafı sularla çevrili, bir tarafı karayla bağlantılı yeryüzü şeklidir.

Buna göre I ve II olarak numaralanmış tanımlar aşağıdaki yeryüzü şekillerinden hangilerine aittir?

	I	II
A)	Ova	yarımada
B)	Plato	dağ
C)	Ova	plato
D)	Dağ	yarımada

4

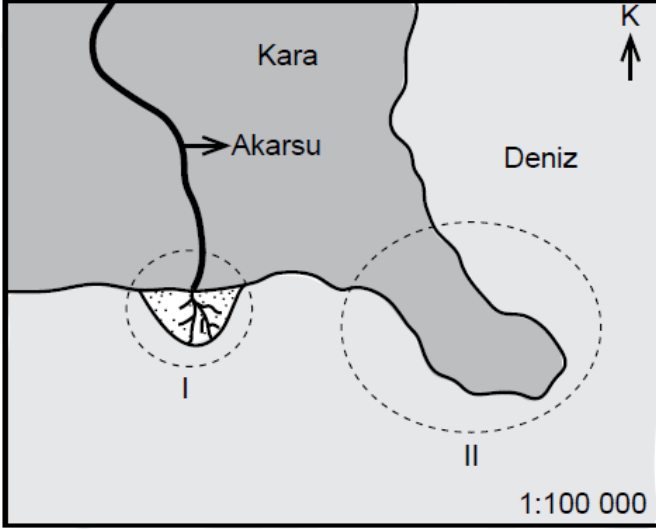
- Akarsuların yatağını aşındırarak oluşturduğu yeryüzü şeklidir.
- İhlara ve Munzur bu yeryüzü şekline örnek gösterilebilir.

Tanımı ve örnekleri verilen yeryüzü şekli aşağıdakilerden hangisidir?

- A) Vadi
B) Göl
C) Boğaz
D) Koy

BU KAZANIMDAN SON 10 YILDA 14 SORU SORULMUŞTUR.

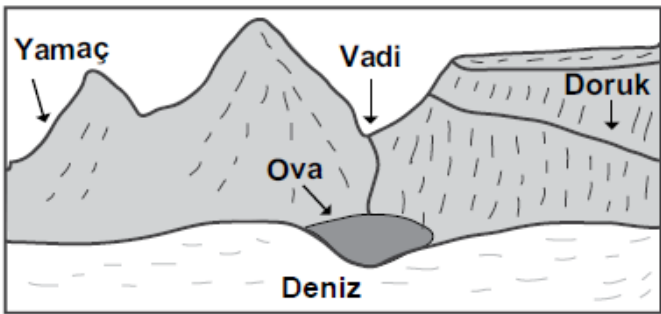
5



Görselde I ve II numaralı daireler içinde gösterilen yer şekilleri aşağıdakilerden hangileridir?

- | | I | II |
|----|--------|----------|
| A) | Körfez | Burun |
| B) | Plato | Sıradağ |
| C) | Ova | Ada |
| D) | Delta | Yarımada |

6



Yukarıdaki görsel üzerinde gösterilen yer şekillerinden hangisinin adı yanlış verilmiştir?

- A) Yamaç B) Doruk C) Vadi D) Ova

7

Türkiye kabartma haritasını inceleyen bir öğrenci aşağıdakilerden hangisini gözlemleyemez?

- A) Ege'de dağların denize dik uzandığını
B) Türkiye'de ormanların nerelerde yoğunlaştığını
C) Doğu Anadolu'da dağların çok olduğunu
D) İç Anadolu ile Güneydoğu'da ova ve plato-
ların yaygın olduğunu

8

Haritalarda kullanılan özel işaretlerin anlamlarını gösteren, genellikle sağ alt köşede yer alan işaret tablosuna verilen isim aşağıdakilerden hangisidir?

- A) Ölçek B) Derinlik
C) Yükselti D) Lejant

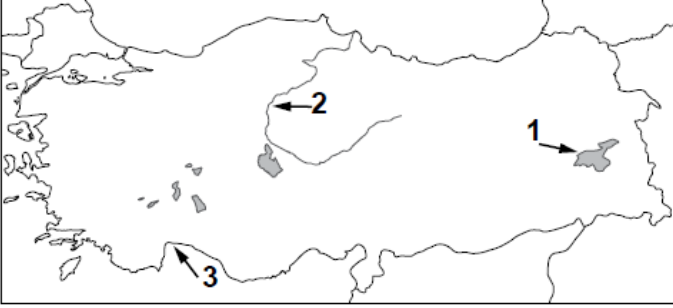
9

Çevresine göre yüksek olan ve tabandan zirveye doğru yamaçları eğimli, yeryüzü şekillerine ne ad verilir?

- A) Dağ B) Ova
C) Vadi D) Ada

BU KAZANIMDAN SON 10 YILDA 14 SORU SORULMUŞTUR.


10



Haritada numaralandırılarak verilen yeryüzü şekilleri aşağıdakilerin hangisinde doğru eşleştirilmiştir?

1	2	3
A) Akarsu	Göl	Körfez
B) Göl	Körfez	Akarsu
C) Körfez	Akarsu	Göl
D) Göl	Akarsu	Körfez

11



Türkiye Kabartma Haritası

Bu haritaya bakıldığında aşağıdaki coğrafi özelliklerden hangisi tespit edilir?

- A) İklim özellikleri
- B) Nüfus yoğunluğu
- C) Yeryüzü şekilleri
- D) Bitki örtüsü özellikleri

12

Ülkemizde ortalama yükseltinin en az olduğu bölge Marmara Bölgesi'dir.

Buna göre Marmara Bölgesi'ni gösteren fiziki haritada aşağıdaki renklerden hangisi daha çok kullanılır?

- A) Kahverengi
- B) Sarı
- C) Turuncu
- D) Yeşil

13

Türkiye fiziki haritasında aşağıdakilerden hangisi yeşil renk ile gösterilir?

- A) Antalya Ovası
- B) Konya Ovası
- C) Uzunyayla Platosu
- D) Küre Dağları

14

Bir fiziki haritada kahverengi rengin fazlaca kullanılması o bölgenin hangi özelliğini gösterir?

- A) Karasal iklim tipinin görüldüğünü
- B) Ortalama yükseltisinin fazla olduğunu
- C) Tarımsal faaliyetlerin yapıldığını
- D) Orman örtüsünün zayıf olduğunu

KAZANIM 10: HARİTALAR ÜZERİNDE YAŞADIĞI BÖLGENİN YERYÜZÜ ŞEKİLLERİNİ GENEL OLARAK AÇIKLAR.

BU KAZANIMDAN SON 10 YILDA 14 SORU SORULMUŞTUR.

CEVAP ANAHTARI

1-C 8-D
2-C 9-A
3-A 10-D
4-A 11-C
5-D 12-D
6-B 13-A
7-B 14-D



@akmese.onur

@sosyal_bilgiler_zumresi2021

SADECE SOSYAL BİLGİLER ÖĞRETMENLERİNİN YER ALDIĞI WHATSAP GRUPLARIMIZDAN BİRİNE KATILMAK İÇİN MAIL ATABİLİRSİNİZ.

onurakmese16@gmail.com

Daha Fazlası İçin Tıkla

www.akmeseonur.com



BU KAZANIMDAN SON 10 YILDA 12 SORU SORULMUŞTUR.

1

İklim uzun süreli hava olaylarının ortalaması iken, hava durumu kısa süreli hava olaylarıdır.

Buna göre aşağıdaki ifadelerden hangisi iklime bir örnektir?

- A) Çarşamba günü Ankara'da yağmur bekleniyor.
- B) İzmir'deki şiddetli fırtınanın etkisi hâlâ sürüyor.
- C) Erzurum'da kışlar soğuk ve kar yağışlı geçer.
- D) İstanbul'da yoğun sis, trafiği aksattı.

2

İklim insan faaliyetleri üzerinde etkilidir.

Aşağıdakilerden hangisi bu bilgiye uygun bir örnek değildir?

- A) İç Anadolu Bölgesi'nde yaygın olan bitki örtüsü bozkırdır.
- B) Erzurum-Kars yöresinde büyükbaş hayvancılık yaygındır.
- C) Ege kıyılarında turizm gelişmiştir.
- D) Karadeniz'de ahşap malzemeye yapılan evler görülmektedir.

3

Aşağıdakilerden hangisi karasal iklimin özelliklerindendir?

- A) Denize kıyısı olan yerlerde görülmesi
- B) Günlük ve yıllık sıcaklık farklarının fazla olması
- C) Kışların ılık ve yağışlı geçmesi
- D) Bitki örtüsünün maki olması

4

İklim, bir yerde hava olaylarının uzun yıllar boyunca gösterdiği ortalama durumdur.

Buna göre aşağıdakilerden hangisi iklime örnek gösterilebilir?

- A) Mersin'de yarın sisli bir hava bekleniyor.
- B) Ağrı'da yoğun kar yağışı trafiği aksattı.
- C) Rize'de dün yağın yağmur sele neden oldu.
- D) Kayseri'de yazlar sıcak ve kurak geçer.

5

İç Anadolu'nun özellikle kırsal kesimlerinde evlerin kerpiçten, Akdeniz Bölgesi'nde taştan, Karadeniz'de ise ahşaptan yapılmasında etkili olan faktör aşağıdakilerden hangisidir?

- A) İklim
- B) Yeraltı kaynakları
- C) Ekonomik faaliyetler
- D) Yeryüzü şekilleri

BU KAZANIMDAN SON 10 YILDA 12 SORU SORULMUŞTUR.

6

Aşağıdakilerin hangisinde iklimin etkisi yoktur?

- A) Turizm sezonunun başlangıcı ve bitişinde
- B) Yeraltı kaynaklarının dağılışı
- C) Tarımsal ürünlerin çeşitliliğinde
- D) Bitki türlerinin dağılışı

7

Karasal iklimin etkili olduğu bir bölgede yaşayan kişi aşağıdakilerden hangisini söylenemez?

- A) Kışın çok kalın giyiniriz.
- B) Çevremizde makiler yaygındır.
- C) Yağışlar kışın genellikle kar şeklindedir.
- D) Buğday ve arpa çok ürettiğimiz ürünlerdendir.

8

Türkiye’de yazların sıcak ve kurak kışların ılık ve yağışlı geçtiği bir bölge için aşağıdakilerden hangisi kesinlikle söylenebilir?

- A) Yaz turizminin gelişmiş olduğu
- B) Tarımsal üretimin düşük olduğu
- C) Maki bitki örtüsünün yaygın olduğu
- D) Ticari faaliyetlerin önemli olduğu

9



Haritada taranmış alanlar için aşağıdakilerden hangisi söylenemez?

- A) I’de çay tarımı yapılır.
- B) II’de seracılık gelişmiştir.
- C) I’de ahşap evler bulunur.
- D) II’de her mevsim yağışlı geçer.

10

İklim koşulları, bir yerin nüfusunu etkileyen önemli faktörlerden biridir.

Aşağıdakilerden hangisi bu yargının doğruluğunu ispatlayan bir durumdur?

- A) Çöl ve kutuplarda nüfusun çok seyrek olması
- B) Maden çıkarılan yerlerde nüfus miktarının fazla olması
- C) Sanayi şehirlerinde nüfus yoğunluğunun yüksek olması
- D) Ulaşım ağının gelişmediği yerlerde nüfus miktarının düşük olması

BU KAZANIMDAN SON 10 YILDA 12 SORU SORULMUŞTUR.

11

Aşağıdakilerden hangisi iklimin konut tipine etkisine örnek olarak gösterilebilir?

- A) Şehir merkezlerinde yüksek betonarme binaların yapılması
- B) Erzurum-Kars yöresinde büyükbaş hayvancılığın yaygın olması
- C) Karadeniz’de ormanın bol olduğu yerlerde ahşap evlerin yapılması
- D) Akdeniz ve Ege kıyılarında yaz turizminin gelişmesi

12

Hava durumu, kısa süreli hava olayları iken iklim, uzun süreli hava olaylarının ortalamasıdır.

Buna göre aşağıdaki ifadelerden hangisi iklime bir örnektir?

- A) Antalya’da aniden bastıran yağmur sel olup taşıtı.
- B) Güneşi gören Ankaralıları parklara hücum etti.
- C) İzmir’de sıcak ve kurak bir yaz daha yaşandı.
- D) Bursa’da kuvvetli esen rüzgâr çatıları uçurdu.

KAZANIM 11: YAŞADIĞI BÖLGEDE GÖRÜLEN İKLİMİN, İNSAN FAALİYETLERİNE ETKİSİNİ, GÜNLÜK YAŞANTISINDAN ÖRNEKLER VEREREK AÇIKLAR.

BU KAZANIMDAN SON 10 YILDA 12 SORU SORULMUŞTUR.

CEVAP ANAHTARI

1-C 8-C
2-A 9-D
3-B 10-A
4-D 11-C
5-A 12-C
6-B
7-B



@akmese.onur

@sosyal_bilgiler_zumresi2021

SADECE SOSYAL BİLGİLER ÖĞRETMENLERİNİN YER ALDIĞI WHATSAP GRUPLARIMIZDAN BİRİNE KATILMAK İÇİN MAIL ATABİLİRSİNİZ.

onurakmese16@gmail.com

Daha Fazlası İçin Tıkla

www.akmeseonur.com



BU KAZANIMDAN SON 10 YILDA 17 SORU SORULMUŞTUR.

1

Düzlük alanlarda nüfus fazlalaşırken, dağlık ve engebeli arazilerde nüfus daha azdır.

Bu bilgide nüfusun dağılışını etkileyen doğal özelliklerden hangisi anlatılmıştır?

- A) İklim tipi
C) Yeryüzü şekilleri
- B) Toprak yapısı
D) Bitki örtüsü

2

Ormanların gür olduğu yerlerde yerleşme az görülür. Örneğin, Karadeniz Bölgesi'nin bazı kesimlerinde nüfusun seyrek olmasında etkili olan faktörlerden biri ormanların fazlalığıdır.

Bu bilgide nüfusun dağılışını etkileyen doğal özelliklerden hangisi vurgulanmıştır?

- A) Toprak yapısı
C) Su kaynakları
- B) Bitki örtüsü
D) Yeryüzü şekilleri

3

Aşağıdakilerden hangisi "sanayi tesislerinin yoğunluğu" ve "iş imkânlarının fazla olması" nedeniyle göç alan şehirlerimize örnek gösterilebilir?

- A) Ağrı
C) Artvin
- B) Şırnak
D) Bursa

4

Semih: "Yaşadığım yerde yükselti azdır. Bu nedenle ulaşım kolaydır. Burada sanayi çok gelişmiştir. Buna bağlı olarak ticaret, bankacılık, ulaşım gibi ekonomik faaliyetler de gelişme göstermiştir. İş imkanlarının fazlalığı nedeniyle sürekli göç alan şehrimizin nüfusu da artmıştır."

Buna göre Semih aşağıdaki şehirlerden hangisinde yaşamaktadır?

- A) Artvin
C) İstanbul
- B) Kars
D) Sinop

5

Aşağıdakilerden hangisi insanların doğayı şekillendirerek yaptığı değişikliklerden biri değildir?

- A) Köprü
C) Tünel
- B) Baraj
D) Ova

6

Çay ve fındık üretiminde yağış ve neme ihtiyaç duyulmaktadır.

Buna göre aşağıdaki yerlerden hangisinin çay ve fındık üretimine uygun olduğu söylenebilir?

- A) Giresun
C) Siirt
- B) Yozgat
D) Burdur

BU KAZANIMDAN SON 10 YILDA 17 SORU SORULMUŞTUR.

7

İnsan ihtiyaçlarını karşılamak için doğal çevrede değişiklikler yapar. Yol yaparken önüne çıkan engelleri aşmak için I açar. Su ve enerji ihtiyaçlarını karşılamak için akarsu önlerine II kurar.

Yukarıdaki metinde numaralı yerlere sırasıyla yazılması gerekenler seçeneklerin hangisinde doğru olarak verilmiştir?

	I	II
A)	Tünel	Baraj
B)	Köprü	Viyadük
C)	Baraj	Köprü
D)	Tünel	Köprü

8

Aşağıdakilerden hangisi doğal etkenlerin nüfus dağılışı üzerindeki etkisine örnektir?

- A) Dağlık alanlarda nüfusun seyrek olması
- B) Sanayi bölgelerinde nüfusun kalabalık olması
- C) Ulaşımın gelişmediği yerlerde nüfusun seyrek olması
- D) Turizmin geliştiği bölgelerde nüfusun kalabalık olması

9

Yaşadığım bölge ülkemizin ticaret, bankacılık, ulaşım ve turizm merkezidir. Eğitim, sağlık ve sosyal hizmetler gelişmiştir. İş imkânlarının fazla olması nedeniyle sürekli göç alır. Ülkemizin en kalabalık nüfusa sahip bölgesidir.

Bu metinde hangi bölgeden söz edilmiştir?

- A) Ege
- B) Marmara
- C) Akdeniz
- D) Karadeniz

10

Ova ve plato gibi düz alanlar tarım, sanayi ve ulaşım gibi ekonomik faaliyetleri yapmak için daha uygundur. Engebeli ve dağlık alanlar ise insanların ekonomik faaliyet yapmasını zorlaştırır. Bu nedenle ova ve platoların bulunduğu yerlerin nüfusu dağlık ve engebeli alanlardan fazladır.

Bu bilgide nüfusun dağılışı etkileyen doğal faktörlerden hangisinin önemi vurgulanmaktadır?

- A) İklim
- B) Yeryüzü şekilleri
- C) Su kaynakları
- D) Toprağın yapısı

11

Havaalanı yapılması planlanan ve birbirine komşu olan Ordu ile Giresun illerimizin arazisinin dağlık ve ormanlık olması önemli bir sorundu. Havaalanı yapmak için bu illerin arasındaki deniz doldurularak arazi elde edilmiş, günümüzdeki havaalanı da buraya kurulmuştur.

Bu metne göre aşağıdakilerden hangisi söylenebilir?

- A) İnsanlar ihtiyaçları doğrultusunda doğada değişiklik yapar.
- B) Deniz doldurularak arazi üretmek eski bir yöntemdir.
- C) Her şehrin, havaalanına ihtiyacı bulunmaktadır.
- D) Karadeniz kıyıları deniz yolu ulaşımına elverişlidir.

BU KAZANIMDAN SON 10 YILDA 17 SORU SORULMUŞTUR.

12

Ülkemizde nüfusun en yoğun olduğu yer Marmara Bölgesi'dir.

Bu duruma bölgenin hangi özelliğinin etkisi en azdır?

- A) İkliminin ılıman olması
- B) Sanayisinin gelişmiş olması
- C) Arazisinin düz ve verimli olması
- D) Komşu ülkelere sınırının olması

13

İklim şartları ve yer şekillerinin uygun olduğu, ulaşım ağı ile iş imkânlarının geliştiği yerlerde nüfus yoğunluğu yüksektir.

Buna göre, aşağıdaki bölgelerimizin hangisinde nüfus yoğunluğu daha yüksektir?

- A) İç Anadolu Bölgesi
- B) Karadeniz Bölgesi
- C) Marmara Bölgesi
- D) Güneydoğu Anadolu Bölgesi

14



Haritada taranarak gösterilen alanlar karşılaştırıldığında aşağıdakilerden hangisi söylenemez?

- A) I. alanda yağışlar daha fazladır.
- B) II. alanda kuraklık daha fazla hissedilir.
- C) I. alan orman bakımından daha zengindir.
- D) II. alanda turuncgiller yaygın olarak yetiştirilir.

15

Aşağıdakilerden hangisi insanların doğal ortamda yaptığı değişikliklere örnek gösterilebilir?

- A) Peribacalarının önünde sergi açılması
- B) Göksu Nehri üzerine baraj yapılması
- C) Manyas Gölü'ndeki kuşların korunması
- D) Ormanlık alanlardaki çöplerin toplanması

16



Haritada numaralandırılarak verilen alanlardan hangisinde nüfus yoğunluğu daha fazladır?

- A) I
- B) II
- C) III
- D) IV

17

Aşağıdakilerden hangisi Türkiye'de nüfus yoğunluğu yüksek olan yerlerin genel özelliklerinden biridir?

- A) Yer şekillerinin dağlık olması
- B) Yeraltı kaynaklarının fakir olması
- C) Ilıman iklim özelliklerine sahip olması
- D) Tarım topraklarının verimsiz olması



KAZANIM 12: BÖLGESİNDEKİ DOĞAL ÖZELLİKLER İLE BEŞERÎ ÖZELLİKLERİN NÜFUS VE YERLEŞİM ÜZERİNDEKİ ETKİLERİNİ İLİŞKİLENDİRİR.



BU KAZANIMDAN SON 10 YILDA 17 SORU SORULMUŞTUR.

CEVAP ANAHTARI

1-C	8-A	15-B
2-B	9-B	16-A
3-D	10-B	17-C
4-C	11-A	
5-D	12-D	
6-A	13-C	
7-A	14-D	



@akmese.onur

@sosyal_bilgiler_zumresi2021

SADECE SOSYAL BİLGİLER ÖĞRETMENLERİNİN YER ALDIĞI WHATSAP GRUPLARIMIZDAN BİRİNE KATILMAK İÇİN MAIL ATABİLİRSİNİZ.

onurakmese16@gmail.com

Daha Fazlası İçin Tıkla

www.akmeseonur.com



BU KAZANIMDAN SON 10 YILDA 18 SORU SORULMUŞTUR.

1

Eren ve ailesi Rize’de yaşamaktadır. Yaşadığı köy dik yamaçlı bir arazide yer almaktadır. Yağışın fazla olduğu ve karların erimeye başladığı dönemde ailesi doğal afet tehlikesinden dolayı tedirgin olmaktadır.

Buna göre Eren ve ailesinin aşağıdaki doğal afetlerden hangisinin gerçekleşme olasılığından dolayı tedirgin oldukları söylenebilir?

- A) Heyelan B) Deprem
C) Erozyon D) Orman yangını

2

- Boş arazilerin ağaçlandırılması
- Besi hayvancılığına önem verilmesi
- Tarım arazilerinin eğime dik sürülmesi

Bu tedbirler aşağıdakilerden hangisini önlemeye yöneliktir?

- A) Hava kirliliğini B) Erozyonu
C) Orman yangınlarını D) Sel baskınlarını

3

Küresel ısınmanın etkisiyle Dünya’nın ortalama sıcaklığındaki artış aşağıdakilerden hangisine sebep olmaktadır?

- A) Nüfusun artmasına
B) Toprak kirliliğine
C) Buzulların erimesine
D) Su ihtiyacının azalmasına

4

Karların erimesi ve yağmurun fazla yağması sonucunda su kaynaklarının seviyesi yükselir. Bu suların geçtiği yerlere zarar vermesiyle - - - meydana gelir. Bu afet sonucunda akarsular ve barajlar taşabilir.

Bu metinde boş bırakılan yere aşağıdakilerden hangisi getirilmelidir?

- A) sel B) erozyon
C) heyelan D) çığ

5

İç Anadolu, yeryüzü şekillerinin fazla dağlık olmadığı; ova ve platolarla kaplı bir bölgedir. Orman örtüsü bakımından fakirdir. Özellikle ilkbahar aylarında şaganak yağışların etkisi altındadır.

Bu parçaya göre İç Anadolu Bölgesi’nde aşağıdaki doğal afetlerden hangisinin daha etkili olması beklenir?

- A) Çığ B) Deprem
C) Erozyon D) Heyelan

6

Aşağıdakilerden hangisi depremin etkilerini azaltmak için yapılacak uygulamalardan biridir?

- A) Çok katlı binalar yapmak
B) Evleri gevşek zemine yapmak
C) Binalarda dayanıklı malzeme kullanmak
D) Fay hatları yakınlarına yerleşmek

BU KAZANIMDAN SON 10 YILDA 18 SORU SORULMUŞTUR.

7. ve 8. soruları
aşağıdaki parçaya göre
cevaplayınız.

Aşırı yağışlar ve eriyen karların neden olduğu afetler yurdumuzun hemen her bölgesinde görülmektedir. Ayrıca dere yataklarına moloz dökülmesi ve dere yataklarının yerleşime açılması bu afetlerin artmasına neden olmaktadır.

7

Yukarıdaki metinde hangi doğal afetten bahsedilmektedir?

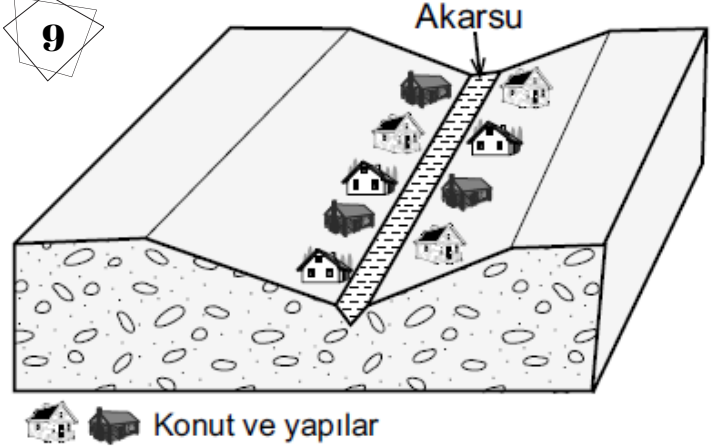
- A) Çığ B) Sel
C) Heyelan D) Erozyon

8

Metinde bahsedilen doğal afetin zararlarını azaltmak için dere yataklarında aşağıdakilerden hangisi yapılmalıdır?

- A) Fabrikalar kurulmalıdır.
B) Atıklardan temizlenerek açılmalıdır.
C) Çevresindeki ağaçlar kesilmelidir.
D) Doldurularak yol yapılmalıdır.

9



Bu görseldeki vadiye yer alan konut ve yapılar belli dönemlerde sel ve taşkınlara uğramakta bunun sonucunda maddi ve manevi kayıplar yaşanmaktadır.

Bu soruna karşı alınabilecek en etkili yöntem aşağıdakilerden hangisidir?

- A) Vadi yamaçlarını ağaçlandırmak
B) Konutları daha sağlam ve yüksek yapmak
C) Akarsu yatağındaki moloz ve atıkları temizlemek
D) Konut ve yapıları vadi üstündeki düzlüğe taşımak

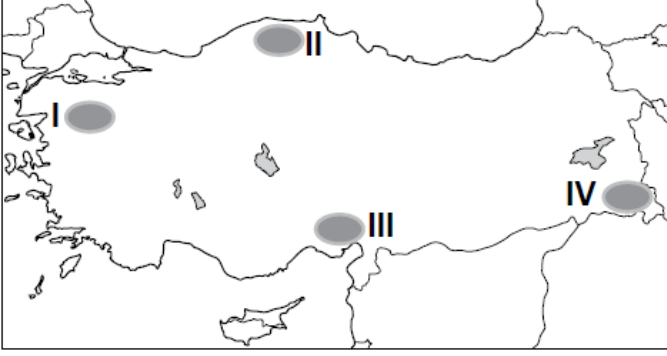
10

Aşağıdakilerden hangisi depremin neden olduğu can ve mal kaybını azaltmak için alınacak önlemlerden biri değildir?

- A) İnsanları deprem konusunda bilinçlendirmek
B) Ağaçlandırma çalışmalarına öncelik vermek
C) Binaları sağlam zemin üzerine inşa etmek
D) Arama ve kurtarma ekipleri oluşturmak

BU KAZANIMDAN SON 10 YILDA 18 SORU SORULMUŞTUR.

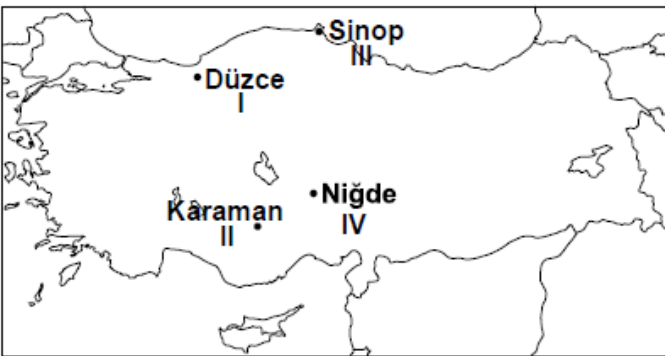
11



Haritada numaralandırılarak verilen alanlardan hangisinde çığ olayının görülme ihtimali daha fazladır?

- A) I B) II C) III D) IV

12



Haritada gösterilen şehirlerin hangisinde deprem olma ihtimali daha fazladır?

- A) I. B) II. C) III. D) IV.

13

Aşağıdakilerden hangisi doğal çevreyi olumsuz yönde etkileyebilecek bir uygulamadır?

- A) Fabrika bacalarına filtre kurulması
B) Atıkların doğal kaynaklara karışmasının önlenmesi
C) Plastik, cam ve kağıt çöplerinin geri dönüşüme gönderilmesi
D) Doğal bitki örtüsünün tahrip edilmesi

14



Ülkemiz, riskli deprem kuşaklarının olduğu bir bölgede yer alıyor. Bunun için binalarımızı, Deprem Yönetmeliği'ne uygun olarak inşa etmeliyiz.

Sınıf arkadaşlarına bu bilgiyi veren Elif, acaba aşağıdaki öğrenci kulüplerinden hangisine üyedir?

- A) Sivil Savunma
B) Çevre Koruma
C) Kütüphanecilik
D) Gezi, Tanıtma ve Turizm

BU KAZANIMDAN SON 10 YILDA 18 SORU SORULMUŞTUR.

15

- Aşırı yağış
- Eğimli arazi
- Bitki örtüsünün tahribi

Verilenlerin tamamı bir araya gelince aşağıdaki doğal afetlerden hangisi gerçekleşir?

- A) Sel
B) Deprem
C) Yangın
D) Kuraklık

16

Yaşadığımız bölgedeki köylerin en önemli sorunu erozyondur. Bu yüzden çayır ve meralarımız azaldı, tarım topraklarımız küçüldü ve gelirlerimiz düştü. Bütün bunların sonunda pek çok aile şehirlere göç etti.

Aşağıdakilerden hangisini yapmak bu bölgedeki soruna çözüm getirir?

- A) Ağaçlandırma çalışmaları
B) Sağlam konutlar yapmak
C) Su kaynaklarını aşırı kullanmak
D) Büyükbaş hayvancılığa önem vermek

17

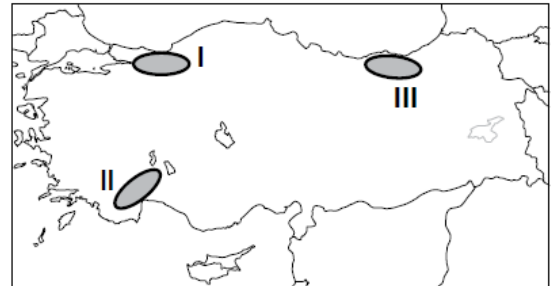
Ayşe okul ödevi için aşağıdaki tabloyu hazırlamıştır:

DOĞAL AFET	Etkilerini azaltmak için öneri
Deprem	Binaları az katlı yapmak
Kuraklık	Suyu tasarruflu kullanmak
Orman yangını	Ormanları yerleşime açmak
Erozyon	Ağaçlandırma çalışmaları yapmak

Bu tabloya göre hangi doğal afet için verdiği öneri uygun değildir?

- A) Deprem
B) Kuraklık
C) Erozyon
D) Orman yangını

18



Haritada numaralandırılarak verilen alanlarla burada görülen afetler, aşağıdakilerden hangisinde doğru olarak eşleştirilmiştir?

- | I. | II. | III. |
|------------------|---------------|---------|
| A) Orman yangını | Deprem | Heyelan |
| B) Deprem | Orman Yangını | Heyelan |
| C) Orman Yangını | Heyelan | Deprem |
| D) Heyelan | Orman Yangını | Deprem |



KAZANIM 13: YAŞADIĞI ÇEVREDEKİ AFETLERİN VE ÇEVRE SORUNLARININ OLUŞUM NEDENLERİNİ SORGULAR.



BU KAZANIMDAN SON 10 YILDA 18 SORU SORULMUŞTUR.

CEVAP ANAHTARI

1-A	8-B	15-A
2-B	9-D	16-A
3-C	10-B	17-D
4-A	11-D	18-B
5-C	12-A	
6-C	13-D	
7-B	14-A	



@akmese.onur

@sosyal_bilgiler_zumresi2021

SADECE SOSYAL BİLGİLER ÖĞRETMENLERİNİN YER ALDIĞI WHATSAP GRUPLARIMIZDAN BİRİNE KATILMAK İÇİN MAIL ATABİLİRSİNİZ.

onurakmese16@gmail.com

Daha Fazlası İçin Tıkla

www.akmeseonur.com



BU KAZANIMDAN SON 10 YILDA 1 SORU SORULMUŞTUR.

1

Çarşamba'yı sel aldı.
Bir yâr sevdim el aldı.
Keşke sevmez olaydım.
Elim koynumda kaldı.

Bu türküye konu olan doğal afetin sebebi aşağıdakilerden hangisidir?

- | | |
|----------------|-------------------|
| A) Aşırı yağış | B) Yer sarsıntısı |
| C) Yer kayması | D) Kuraklık |



KAZANIM 14: DOĞAL AFETLERİN TOPLUM HAYATI ÜZERİNE ETKİLERİNİ ÖRNEKLERLE AÇIKLAR.



BU KAZANIMDAN SON 10 YILDA 1 SORU SORULMUŞTUR.

CEVAP ANAHTARI

1-A



@akmese.onur

@sosyal_bilgiler_zumresi2021

SADECE SOSYAL BİLGİLER ÖĞRETMENLERİNİN YER ALDIĞI WHATSAP GRUPLARIMIZDAN BİRİNE KATILMAK İÇİN MAIL ATABİLİRSİNİZ.

onurakmese16@gmail.com

Daha Fazlası İçin Tıkla

www.akmeseonur.com





BİLİM, TEKNOLOJİ VE TOPLUM



4.ÜNİTE



**BU ÜNİTEDEN 2012 YILINDAN
2021 YILINA KADAR YAPILAN
10 SINAVDA TOPLAM
24 SORU ÇIKMIŞTIR.**

- 1. TEKNOLOJİ KULLANIMININ SOSYALLEŞME VE TOPLUMSAL İLİŞKİLER ÜZERİNDEKİ ETKİSİNİ TARTIŞIR.**
- 2. SANAL ORTAMDA ULAŞTIĞI BİLGİLERİN DOĞRULUK VE GÜVENİLİRLİĞİNİ SORGULAR.**
- 3. SANAL ORTAMI GÜVENLİ KULLANMAYA ÖNEM GÖSTERİR.**
- 4. BULUŞ YAPANLARIN VE BİLİM İNSANLARININ ORTAK ÖZELLİKLERİNİ BELİRLER.**
- 5. YAPTIĞI ÇALIŞMALARDA BİLİMSEL ETİĞE UYGUN DAVRANIR.**



@akmese.onur

@sosyal_bilgiler_zumresi2021

BU KAZANIMDAN SON 10 YILDA 7 SORU SORULMUŞTUR.

1

Sanal ortam üzerinden sağlanan iletişim, zaman içinde yüz yüze iletişimi zayıflattı. Sosyal medya üzerinde yüzlerce arkadaşı olan bireyler, günlük hayatta yalnız kalabiliyor. Önceden evlerde çay ve kahve eşliğinde aile bireyleri arasında hoş sohbetler yapılırdı. Günümüzde ise tablet, televizyon ve bilgisayar ekranına kilitlenildiği için aile içi ilişkiler de bu olumsuzluktan etkilendi.

Bu bilgide teknolojinin aşağıdakilerden hangisi üzerindeki olumsuz etkisinden söz edilmiştir?

- A) İnsan ilişkileri
- B) İnsan sağlığı
- C) Ekonomik gelişmeler
- D) Okul başarısı

2

Teknolojiyi kontrollü kullanmayan insanlar teknoloji bağımlısı hâline gelebilirler. Teknoloji bağımlıları sosyal hayattan ve toplumsal ilişkilerden uzak kalmayı tercih ederler. Bu durum bireyin zamanla aile ve çevresinden kopmasına neden olur.

Metindeki bilgiye getirilebilecek uygun başlık aşağıdakilerden hangisidir?

- A) Teknolojinin Önemi
- B) Sosyal Medya Kullanımı
- C) Genel Ağ Kullanımının Önemi
- D) Teknolojinin Bilinçsiz Kullanımı

3

Aşağıdakilerden hangisi teknolojinin hayatımızdaki olumsuz etkilerine örnek oluşturur?

- A) Hakan'ın uçakla farklı ülkelere seyahat etmesi
- B) Merve'nin yurt dışında yaşayan ablasıyla görüntülü konuşması
- C) Aslı'nın dünyadaki gelişmeleri İnternette takip etmesi
- D) Tamer'in zamanını ekran karşısında geçirerek ailesini ihmal etmesi

4

Aşağıdakilerden hangisi, bilgisayarların çocuklar üzerindeki zararlı etkilerine karşı ailelerin alabileceği önlemlerden biri değildir?

- A) Çocuklarla daha çok zaman geçirmek
- B) Bilgisayar kullanımına ilişkin amacı ve süreyi belirlemek
- C) Çocukları sosyal ve kültürel etkinliklere yönlendirmek
- D) Çocukları tüm bilgisayar oyunlarından uzak tutmak

5

"Teknoloji ile birlikte mesafeler kısaldı ve bilgiye ulaşmak hızlandı." diyen bir kişi teknolojinin aşağıdakilerden hangisini sağladığını vurgulamıştır?

- A) Zaman tasarrufunu
- B) İnsan ömrünün uzamasını
- C) İnsan ilişkilerinin güçlenmesini
- D) Geleneklerin korunmasını

BU KAZANIMDAN SON 10 YILDA 7 SORU SORULMUŞTUR.

6

Beş yaşında geçirdiği trafik kazası nedeniyle yürüyemeyen ilkokul dördüncü sınıf öğrencisi Elif'e valilik, akülü bir tekerlekli sandalye hediye etti. Elif, artık sokağa çıkıp oyun oynayabiliyor! Okulda ise bireysel ihtiyaçlarını yardım almadan karşılayabiliyor.

Bu parçada, teknolojik gelişmelerin en çok hangi yönü anlatılmak istenmiştir?

- A) Maliyetlerinin pahalı olduğu
- B) Günlük hayatımızı kolaylaştırdığı
- C) İnsanları tembelliğe ittiği
- D) Valiliğin hayırsever olduğu

7

Eskiden komşuda pişen bize de düşüyordu. Bugün buzdolabı sayesinde yiyeceklerimizi uzun süre bozulmadan taze olarak saklamak mümkün olduğundan evimizde pişirdiğimiz yemeğin bir kısmını komşumuza ikram etmek aklımıza dahi gelmiyor.

Bu parçada teknolojiyle ilgili yakınılan durum aşağıdakilerden hangisidir?

- A) Teknolojik ürünlere herkes sahip olabilmektedir.
- B) Teknoloji insanların tembelleşmesine yol açmaktadır.
- C) Yiyeceklerin israf edilmemesi buzdolabı sayesinde gerçekleşmektedir.
- D) Teknolojik ürünler farkında olmadan bazı değerlerimizin yok olmasına neden olmaktadır.



KAZANIM 15: TEKNOLOJİ KULLANIMININ SOSYALLEŞME VE TOPLUMSAL İLİŞKİLER ÜZERİNDEKİ ETKİSİNİ TARTIŞIR.



BU KAZANIMDAN SON 10 YILDA 7 SORU SORULMUŞTUR.

CEVAP ANAHTARI

- 1-A
- 2-D
- 3-D
- 4-D
- 5-A
- 6-B
- 7-D



@akmese.onur

@sosyal_bilgiler_zumresi2021

SADECE SOSYAL BİLGİLER ÖĞRETMENLERİNİN YER ALDIĞI WHATSAP GRUPLARIMIZDAN BİRİNE KATILMAK İÇİN MAIL ATABİLİRSİNİZ.

onurakmese16@gmail.com

Daha Fazlası İçin Tıkla

www.akmeseonur.com



BU KAZANIMDAN SON 10 YILDA 2 SORU SORULMUŞTUR.

1

Doğru ve güvenilir bilgiye ulaşmak için aşağıdakilerden hangisi yapılmamalıdır?

- A) Farklı Genel Ağ sitelerindeki bilgiler, çeşitli kaynaklarla karşılaştırılmalıdır.
- B) Devlet kurumlarına ait resmî sitelerin içeriği dikkate alınmalıdır.
- C) Genel Ağ'daki bilgilerin güncelliği göz ardı edilmelidir.
- D) Toplumun güvenini kazanan Genel Ağ siteleri tercih edilmelidir.

2

Elif, Anadolu uygarlıklarıyla ilgili İnternet'te araştırma yaparak doğru ve güvenilir bilgilerden oluşan bir ödev hazırlamak istiyor.

Buna göre Elif, aşağıdakilerden hangisini yapmalıdır?

- A) Sosyal medyada en çok beğeni alan bilgileri kullanılmalıdır.
- B) "gov" ve "edu" uzantılı sitelerden yararlanmalıdır.
- C) Tek bir İnternet sitesinden faydalanmalıdır.
- D) İnternet'te yer alan her bilgiye güvenmelidir.



KAZANIM 16: SANAL ORTAMDA ULAŞTIĞI BİLGİLERİN DOĞRULUK VE GÜVENİLİRLİĞİNİ SORGULAR.



BU KAZANIMDAN SON 10 YILDA 2 SORU SORULMUŞTUR.

CEVAP ANAHTARI

1-C

2-B



@akmese.onur

@sosyal_bilgiler_zumresi2021

SADECE SOSYAL BİLGİLER ÖĞRETMENLERİNİN YER ALDIĞI WHATSAP GRUPLARIMIZDAN BİRİNE KATILMAK İÇİN MAIL ATABİLİRSİNİZ.

onurakmese16@gmail.com

Daha Fazlası İçin Tıkla

www.akmeseonur.com



BU KAZANIMDAN SON 10 YILDA 1 SORU SORULMUŞTUR.

1

Genel Ağ üzerinden kişisel bilgilerin kötü niyetli kişiler tarafından ele geçirilmesine ne ad verilir?

- A) E-ticaret
- B) Kimlik hırsızlığı
- C) Sanal bağımlılık
- D) Bilimsel etik

KAZANIM 17: SANAL ORTAMI GÜVENLİ KULLANMAYA ÖNEM GÖSTERİR.

BU KAZANIMDAN SON 10 YILDA 1 SORU SORULMUŞTUR.

CEVAP ANAHTARI

1-B



@akmese.onur

@sosyal_bilgiler_zumresi2021

SADECE SOSYAL BİLGİLER ÖĞRETMENLERİNİN YER ALDIĞI WHATSAP GRUPLARIMIZDAN BİRİNE KATILMAK İÇİN MAIL ATABİLİRSİNİZ.

onurakmese16@gmail.com

Daha Fazlası İçin Tıkla

www.akmeseonur.com



BU KAZANIMDAN SON 10 YILDA 13 SORU SORULMUŞTUR.

1

Eflatun “İhtiyaç, bütün icatların anasıdır.” sözü ile icatların ortaya çıkmasında aşağıdakilerden hangisinin önemini vurgulamaktadır?

- A) İcat sahibinin merakı
- B) Kişinin ilgi ve yeteneği
- C) Günlük hayattaki gereksinimler
- D) Bireyin yaşadığı baskı ve zorluklar

2

Marie Curie, Nobel fizik ve kimya ödülünü alan ilk kadın bilim insanıdır. O önüne çıkarılan tüm engellere rağmen her türlü zorlukla mücadele ederek önemli çalışmalar yapmıştır.

Bu parça bilim insanlarının hangi özelliğine örnek oluşturur?

- A) Çalışmalarını kararlılıkla sürdürmelerine
- B) Bilgiye deney ve gözlem yoluyla ulaşmalarına
- C) Yaratıcı düşünme becerisine sahip olmalarına
- D) Çevrelerinde olup bitenleri merak etmelerine

3

Aşağıdakilerden hangisi bilim insanlarının ortak özelliklerinden biri değildir?

- A) Çalışkan olmaları
- B) Araştırmacı olmaları
- C) Sabırsız olmaları
- D) Sorgulayıcı olmaları

4

“Makinelere olan ilgim nedeniyle onları inceler, mühendislere sorular sorardım. İnsanların kullanabileceği dayanıklı ve ucuz bir lamba yapmak istiyordum. Bunun için başarısız geçen binlerce deney yapmama rağmen bıkmadım ve sonunda başardım.”

Bu metinde bilim insanlarında bulunması gereken;

- I. insanlara faydalı olma,
- II. merak duyma,
- III. sabırlı olma

özelliklerinden hangilerine yer verilmiştir?

- A) I ve II.
- B) I ve III.
- C) II ve III.
- D) I, II ve III.

5

Sosyal bilgiler öğretmeni, öğrencilerine: “Bilim insanlarının ortak özellikleri nelerdir?” diye sorar. Öğrenciler şu cevapları verir:

Ayşe : Hata yapmaktan korkmak

Emre : Zorluklar karşısında pes etmemek

Sevim : Yeniliklere açık olmak

İlyas : İşin kolayına kaçmak

Buna göre öğretmenin sorusuna aşağıdaki öğrencilerden hangileri doğru cevap vermiştir?

- A) Ayşe ve Sevim
- B) Ayşe ve İlyas
- C) Emre ve Sevim
- D) Emre ve İlyas

BU KAZANIMDAN SON 10 YILDA 13 SORU SORULMUŞTUR.

6

Yetenekli bir öğretmen olan Galilei, çalışırken kandillerin rüzgarla sallanmaya başlamalarını bekler ve kendi nabzından faydalanarak kandillerin yaptığı bu hareketin süresini tutardı.

Buna göre Galilei'in aşağıdaki özelliklerden hangisine sahip olduğu söylenemez?

- A) Sabırsız olma B) Gözlemci olma
C) Çalışkan olma D) Araştırmacı olma

7

İnsanların uzak yerlerle hızlı ve kolay iletişim kurmasını sağlayan ilk araç aşağıdakilerden hangisidir?

- A) Radyo B) Televizyon
C) Telefon D) Telgraf

8

Galileo (Galile), Dünya'nın Güneş etrafında döndüğü görüşünü, tüm baskılara rağmen sonuna kadar savundu.

Galile'nin bu tutumunda bilim insanının hangi özelliği görülmektedir?

- A) Cesaret ve kararlılık
B) Tarafsızlık ve meraklılık
C) Eleştirecilik ve evrensellik
D) Sorgulayıcılık ve şüphecilik

9

Aşağıdaki teknolojik ürünlerden hangisi toplumsal yaşamda düzeni sağlamaya yöneliktir?

A)



Trafik Lambası

B)



Otomobil

C)



Buzdolabı

D)



Telefon

10

- I. Mum
II. Ateş
III. Ampul
IV. Gaz lambası

Numaralanmış aydınlatma araçlarının az gelişmişten çok gelişmişe doğru sıralanışı aşağıdakilerden hangisidir?

- A) II - IV - I - III
C) I - II - III - IV

- B) II - I - IV - III
D) IV - II - III - I

BU KAZANIMDAN SON 10 YILDA 13 SORU SORULMUŞTUR.

11

“Teorik bilgimi hastalar üzerindeki uygulamalarla bütünleştiriyordum. Bu şekilde aralıksız çalışmayı sürdürdüm.” diyen İbn-i Sina, aşağıdaki alanlardan hangisinde çalışıyor olabilir?

- | | |
|--------------|--------------|
| A) Matematik | B) Tıp |
| C) Fizik | D) Astronomi |

12

Açık denizlere çıkan denizciler, yeni yerler keşfettiler. Yapılan bu keşifler sayesinde insanlar, yaşayabilecekleri yeni kara parçalarına ayak bastılar.

Verilen bu gelişme, aşağıdaki icatlardan hangisinin bir sonucudur?

- | | |
|------------|-------------|
| A) Pusula | B) Matbaa |
| C) Telgraf | D) Otomobil |

13

Eski Mısır’da tarım faaliyetleri Nil Nehri’nin su düzeyine bağlıydı. Sular yılın belirli dönemlerinde artmakta, belirli dönemlerinde ise azalmaktaydı. Çiftçiler hasat ve ekimi ne zaman yapacaklarını iyi bilmeliydiler. Bunun için sel, tarım ve kuraklık zamanlarını gösteren bir takvim geliştirdiler.

Verilen bilgiye göre, aşağıdakilerden hangisi söylenebilir?

- A) Bölge halkı ticaretle ileri gitmiştir.
B) Ay takvimi Mısır’da geliştirilmiştir.
C) Bütün buluşların çıkış yeri Mısır’dır.
D) Buluşlar ihtiyaçlardan doğmuştur.



KAZANIM 18: BULUŞ YAPANLARIN VE BİLİM İNSANLARININ ORTAK ÖZELLİKLERİNİ BELİRLER.



BU KAZANIMDAN SON 10 YILDA 13 SORU SORULMUŞTUR.

CEVAP ANAHTARI

1-C 8-A

2-A 9-A

3-C 10-B

4-D 11-B

5-C 12-A

6-A 13-D

7-D



@akmese.onur

@sosyal_bilgiler_zumresi2021

SADECE SOSYAL BİLGİLER ÖĞRETMENLERİNİN YER ALDIĞI WHATSAP GRUPLARIMIZDAN BİRİNE KATILMAK İÇİN MAIL ATABİLİRSİNİZ.

onurakmese16@gmail.com

Daha Fazlası İçin Tıkla

www.akmeseonur.com



BU KAZANIMDAN SON 10 YILDA 1 SORU SORULMUŞTUR.

1

Ortaokul birinci sınıf öğrencisi olan Kerem, Atatürk'ün askerî hayatı ile ilgili bir araştırma ödevi hazırlamıştır. Ödevinde, hangi bilgiyi hangi kaynaktan aldığını özellikle belirtmiştir.

Kerem'in, araştırma ödevini hazırlarken kaynak belirtmede gösterdiği bu hassas davranışını, aşağıdaki yargılardan hangisiyle açıklayabiliriz?

- A) Bandrollü eserlerden yararlanmıştır.
- B) Çalışmasını planlı bir şekilde yürütmüştür.
- C) Kütüphanedeki çalışma kurallarına uymuştur.
- D) Eser sahiplerinin emeğine saygı göstermiştir.

KAZANIM 19: YAPTIĞI ÇALIŞMALARDA BİLİMSEL ETİĞE UYGUN DAVRANIR.

BU KAZANIMDAN SON 10 YILDA 1 SORU SORULMUŞTUR.

CEVAP ANAHTARI

1-D



@akmese.onur

@sosyal_bilgiler_zumresi2021

SADECE SOSYAL BİLGİLER ÖĞRETMENLERİNİN YER ALDIĞI WHATSAP GRUPLARIMIZDAN BİRİNE KATILMAK İÇİN MAIL ATABİLİRSİNİZ.

onurakmese16@gmail.com

Daha Fazlası İçin Tıkla

www.akmeseonur.com





ÜRETİM, DAĞITIM VE TÜKETİM



5.ÜNİTE



**BU ÜNİTEDEN 2012 YILINDAN
2021 YILINA KADAR YAPILAN
10 SINAVDA TOPLAM
35 SORU ÇIKMIŞTIR.**

- 1.YAŞADIĞI BÖLGENİN EKONOMİK FAALİYETLERİNİ BELİRLER.**
- 2.YAŞADIĞI BÖLGEDEKİ EKONOMİK FAALİYETLERE BAĞLI OLARAK GELİŞEN MESLEKLERİ TANIR.**
- 3.ÇEVRESİNDEKİ EKONOMİK FAALİYETLERİN, İNSANLARIN SOSYAL HAYATLARINA ETKİSİNİ ANALİZ EDER**
- 4.İŞ BİRLİĞİ YAPARAK ÜRETİM, DAĞITIM VE TÜKETİME DAYALI YENİ FİKİRLER GELİŞTİRİR.**
- 5.KULLANDIĞI TEMEL ÜRÜNLERİN ÜRETİM, DAĞITIM VE TÜKETİM AĞINI ANALİZ EDER.**
- 6.BİLİNÇLİ BİR TÜKETİCİ OLARAK HAKLARINI KULLANIR.**



@akmese.onur

@sosyal_bilgiler_zumresi2021

KAZANIM 20: YAŞADIĞI BÖLGENİN EKONOMİK FAALİYETLERİNİ BELİRLER.

BU KAZANIMDAN SON 10 YILDA 24 SORU SORULMUŞTUR.

1

Aşağıdaki ürünlerden hangisi sadece Karadeniz Bölgesi'nde yetişir?

- A) Çay B) Buğday
C) Patates D) Domates

2

İnsanların yaşadıkları doğal çevrenin özellikleri bölgede yapılan ekonomik faaliyetleri etkiler.

Bu bilgiye göre Zonguldak'ta en fazla hangi ekonomik faaliyetin gelişmesi beklenir?

- A) Tarım B) Turizm
C) Hayvancılık D) Madencilik

3

Güney Doğu Anadolu Projesi'nin devreye girmesi bölgede su kaynaklarının yetersizliği sorununa çözüm getirmiştir. Bu proje sayesinde, bölgede pamuk, mısır ve pirinç üretimi yapılmaya başlanmıştır.

Bu bilgide Güney Doğu Anadolu Projesi'nin aşağıdaki ekonomik faaliyetlerden hangisine etkisi vurgulanmıştır?

- A) Hayvancılık B) Tarım
C) Madencilik D) Turizm

4

İzmir'de sanayinin gelişmesinde aşağıdakilerin hangisi daha etkili olmuştur?

- A) Nüfusun fazla olması
B) Deniz turizmine uygunluğu
C) Kültür çeşitliliği
D) Ulaşım ağının gelişmişliği

5

Doğu Anadolu Bölgesi engebeli ve yüksek bir arazi yapısına sahiptir. Bu nedenle ulaşım zordur. Kışlar uzun ve soğuk, yazlar kısadır. Tarım arazileri dar ve küçüktür. Ancak çayır ve otlaklar geniş yer tutar.

Bu metne göre Doğu Anadolu Bölgesi'nin temel geçim kaynağı aşağıdakilerden hangisi olabilir?

- A) Turizm B) Hayvancılık
C) Madencilik D) Sanayi

6

Erzurum ve Kars yöresinde büyükbaş hayvancılık gelişmiştir.

Bu durumun ortaya çıkmasında etkili olan özellik aşağıdakilerden hangisidir?

- A) Otlakların geniş yer kaplaması
B) Tarımsal ürün çeşitliliği
C) Bozkır bitki örtüsü
D) Ilıman iklim koşulları

KAZANIM 20: YAŞADIĞI BÖLGENİN EKONOMİK FAALİYETLERİNİ BELİRLER.

BU KAZANIMDAN SON 10 YILDA 24 SORU SORULMUŞTUR.

7

Aşağıdaki tesislerden hangisinin kurulmasında iklim özelliği daha etkili olmuştur?

- A) Kırşehir'deki lastik fabrikasının
- B) Karabük demir-çelik fabrikasının
- C) İzmit'teki petrol arıtma rafinerisinin
- D) Palandöken Dağları'ndaki kayak tesislerinin

8

Aşağıdaki eşleştirmelerden hangisi yanlıştır?

	<u>Ekonomik faaliyet türü</u>	<u>Karşıladığı ihtiyaç</u>
A)	Tekstil fabrikası	Giyinme
B)	Tarım	Haberleşme
C)	Petrol rafinerisi	Ulaşım
D)	Çimento fabrikası	Barınma

9

Doğu Karadeniz'in kıyı kesimlerinde yaşayan çiftçiler çay, fındık, kivi ve mısır tarımıyla; iç kesimlerdekiler ise çoğunlukla hayvancılık ve arıcılıkla geçimlerini sağlar.

Bu farklılığın temel sebebi aşağıdakilerden hangisidir?

- A) Tüketim alışkanlıkları
- B) İklim ve yer şekli özellikleri
- C) Su kaynaklarının dağılışı
- D) Nüfus yoğunluğundaki farklılık

10

Türkiye'de ovalar tarımsal faaliyetlerin yoğun olarak yapıldığı yerlerdir. Özellikle kıyı ovalarında bu durum daha belirgindir.

Buna göre, aşağıdaki ovalardan hangisi kıyı ovalarından biridir?

- A) Suruç ovası
- B) Muş ovası
- C) Çukurova
- D) Erzincan ovası

11

Ali turizm haftası için yaşadığı yer ile ilgili aşağıdaki bilgi notunu hazırlamıştır. "Yaşadığım yer Türkiye'nin orman bakımından en zengin alanlarından birisi ve son yıllarda yayla turizmi ve şenlikleriyle önem kazanmış bir alandır. Her mevsim yağışlı olduğundan gür akan derelere de sahiptir."

Buna göre Ali'nin yaşadığı il aşağıdakilerden hangisidir?

- A) Şanlıurfa
- B) Rize
- C) Kırşehir
- D) Edirne

12

Aşağıda il ve yoğun yapılan ekonomik faaliyet eşleştirmelerinden hangisi doğrudur?

- A) Rize – Küçükbaş hayvancılık
- B) Konya – Zeytincilik
- C) İzmir – Arıcılık
- D) Antalya – Turizm

BU KAZANIMDAN SON 10 YILDA 24 SORU SORULMUŞTUR.

13

Nüfusunun önemli bir kısmı ticaret, turizm ve eğitim kuruluşlarında çalışan bir ilde hangi sektörün daha çok geliştiği söylenebilir?

- A) Tarım B) Hizmet
C) Sanayi D) Madencilik

14

Yüksek ve engebeli bölgelerdeki bir akarsu üzerinde aşağıdaki ekonomik faaliyetlerden hangisi yapılırsa daha fazla gelir elde etmek mümkün olur?

- A) Akarsu taşımacılığı
B) Enerji üretimi
C) Kültür balıkçılığı
D) Tarımsal sulama

15

Doğu Anadolu Bölgesi'nde büyükbaş hayvancılık en önemli ekonomik faaliyettir.

Buna göre bu bölgede kurulacak fabrikalardan hangisi hammaddeye daha kolay ulaşır?

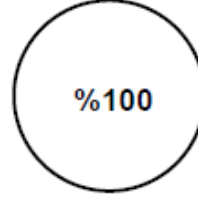
- A) Kağıt fabrikası
B) Şeker fabrikası
C) Un fabrikası
D) Et ürünleri fabrikası

16

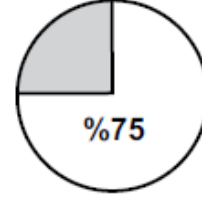
Aşağıdakilerden hangisi tarımsal üretimi destekleyecek bir uygulama değildir?

- A) Daha geniş arazilerde üretim yapmak
B) Çiftçileri sulama konusunda bilgilendirmek
C) Şehirlere göç etmeye teşvik etmek
D) Verimi yüksek kaliteli tohumlar kullanmak

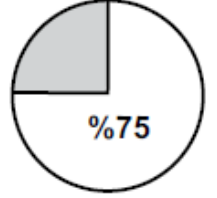
17



Taş kömürü



Fındık

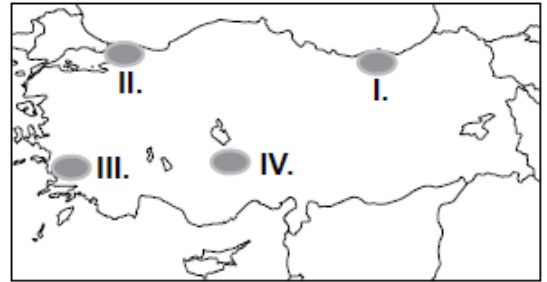


Deniz balıkçılığı

Bu grafiklerle taş kömürü, fındık ve deniz balıkçılığında Türkiye üretimindeki oranı verilen bölgemiz aşağıdakilerden hangisidir?

- A) Akdeniz bölgesi
B) Karadeniz Bölgesi
C) Marmara Bölgesi
D) Ege Bölgesi

18




Türkiye haritası üzerinde gösterilen alanlar hakkında verilen aşağıdaki ifadelerden hangisi yanlıştır?

- A) I. bölgede balıkçılık önemli bir geçim kaynağıdır.
B) II. bölgede sanayi gelişmiştir.
C) III. bölgede çay tarımı yaygındır.
D) IV. bölgede un, makarna ve bisküvi fabrikaları yaygındır.

BU KAZANIMDAN SON 10 YILDA 24 SORU SORULMUŞTUR.**19**

Aşağıda Akdeniz Bölgesinde yetişen bazı ürünlerin Türkiye üretimindeki payı grafiklerle gösterilmiştir.



Grafikler incelendiğinde aşağıdakilerden hangisi söylenebilir?

- A) Bölgede pamuk ipliği ihracatı fazladır.
- B) Akdeniz de yeşil zeytin üretimi fazladır.
- C) Muzun tamamı Akdeniz bölgesinde yetişir.
- D) Üretilen üzümün hepsi bölge içinde tüketilir.

20

Çay, ılıman iklim ve bol yağış isteyen bir tarım ürünüdür.

Buna göre, aşağıdaki yerlerin hangisi çay tarımı için elverişli şartlara sahiptir?

- A) Ege kıyı kuşağı
- B) Tuz gölü çevresi
- C) Çukurova ve çevresi
- D) Doğu Karadeniz kıyı kuşağı

21

Türkiye tahıl üretiminin yarısına yakın kısmının İç Anadolu'dan karşılanması, aşağıdakilerden hangisiyle açıklanabilir?

- A) İklim ve yer şekli özellikleriyle
- B) Pazarlama imkânlarının kolaylığıyla
- C) Bölge halkının tüketim alışkanlığıyla
- D) Sanayi ve ticaretin gelişmiş olmasıyla

23.ve 24. soruları grafiğe göre cevaplayınız.

İç Anadolu Bölgesi'nde Üretilen Bazı Ürünlerin Türkiye Üretimindeki Payı

**23**

Grafikte verilenler, hangi ekonomik faaliyetten elde edilirler?

- A) Tarım
- B) Hizmet
- C) Madencilik
- D) Sanayi

24

Aşağıdaki sanayi tesislerinden hangisi, üretiminde bu ürünlerden yararlanmaz?

- A) Şeker fabrikası
- B) Makarna fabrikası
- C) Demir-çelik fabrikası
- D) Meyve suyu fabrikası

25

Tarımsal alanlarda üretimin artmasında aşağıdakilerden hangisinin katkısı yoktur?

- A) Çiftçilere eğitim verilmesinin
- B) Tarım arazilerinin bölünmesinin
- C) Kaliteli tohumların kullanılmasının
- D) Tarımsal üretimin desteklenmesinin

KAZANIM 20: YAŞADIĞI BÖLGENİN EKONOMİK FAALİYETLERİNİ BELİRLER.

BU KAZANIMDAN SON 10 YILDA 24 SORU SORULMUŞTUR.

CEVAP ANAHTARI

1-A	8-B	15-D	22-A
2-D	9-B	16-C	23-C
3-B	10-C	17-B	24-B
4-D	11-B	18-C	
5-B	12-D	19-C	
6-A	13-B	20-D	
7-D	14-B	21-A	



@akmese.onur

@sosyal_bilgiler_zumresi2021

SADECE SOSYAL BİLGİLER ÖĞRETMENLERİNİN YER ALDIĞI WHATSAP GRUPLARIMIZDAN BİRİNE KATILMAK İÇİN MAIL ATABİLİRSİNİZ.

onurakmese16@gmail.com

Daha Fazlası İçin Tıkla

www.akmeseonur.com



BU KAZANIMDAN SON 10 YILDA 3 SORU SORULMUŞTUR.

1

Nüfusun fazla olduğu yerlerde eğitim, sağlık, ulaşım gibi hizmet sektörleri çok gelişmiştir.

Buna göre aşağıdaki mesleklerden hangisi sözü edilen gelişmiş sektörler arasında yer almaz?

- | | |
|----------------|--------------|
| A) Öğretmenlik | B) Şoförlük |
| C) Çiftçilik | D) Doktorluk |

2

Hastalıkların teşhis ve tedavisi için çalışan insanlar toplumun aşağıdaki ihtiyaçlarından hangisini karşılamaktadır?

- | | |
|-------------|-----------|
| A) Ulaşım | B) Sağlık |
| C) Güvenlik | D) Eğitim |

3

Aşağıdakilerden hangisi bir otomobil fabrikasında görev yapar?

- | | |
|------------|--------------|
| A) Bankacı | B) Mobilyacı |
| C) Madenci | D) Mühendis |



KAZANIM 21: YAŞADIĞI BÖLGEDEKİ EKONOMİK FAALİYETLERE BAĞLI OLARAK GELİŞEN MESLEKLERİ TANIR.



BU KAZANIMDAN SON 10 YILDA 3 SORU SORULMUŞTUR.

CEVAP ANAHTARI

1-C

2-B

3-D



@akmese.onur

@sosyal_bilgiler_zumresi2021

SADECE SOSYAL BİLGİLER ÖĞRETMENLERİNİN YER ALDIĞI WHATSAP GRUPLARIMIZDAN BİRİNE KATILMAK İÇİN MAIL ATABİLİRSİNİZ.

onurakmese16@gmail.com

Daha Fazlası İçin Tıkla

www.akmeseonur.com





KAZANIM 22: ÇEVRESİNDEKİ EKONOMİK FAALİYETLERİN, İNSANLARIN SOSYAL
HAYATLARINA ETKİSİNİ ANALİZ EDER



BU KAZANIMDAN SON 10 YILDA 0 SORU SORULMUŞTUR.





KAZANIM 22: ÇEVRESİNDEKİ EKONOMİK FAALİYETLERİN, İNSANLARIN SOSYAL HAYATLARINA ETKİSİNİ ANALİZ EDER



BU KAZANIMDAN SON 10 YILDA 0 SORU SORULMUŞTUR.

CEVAP ANAHTARI

1-



@akmese.onur

@sosyal_bilgiler_zumresi2021

SADECE SOSYAL BİLGİLER ÖĞRETMENLERİNİN YER ALDIĞI WHATSAP GRUPLARIMIZDAN BİRİNE KATILMAK İÇİN MAIL ATABİLİRSİNİZ.

onurakmese16@gmail.com

Daha Fazlası İçin Tıkla

www.akmeseonur.com



BU KAZANIMDAN SON 10 YILDA 6 SORU SORULMUŞTUR.

1

İLAN

Makine imalatı yapan fabrikamızda çalıştırılmak üzere;

- 30 yaşını aşmamış
- Planlama yeteneği gelişmiş
- En az 5 yıl iş tecrübesi olan
- En az bir yabancı dil bilen
- İFS, SAP programlarını kullanan

Erkek ve kadın makine mühendisleri alınacaktır.

Başvuru için tel: 0 312

Aşağıdakilerden hangisi bu ilanı veren şirketin hedeflerinden biridir?

- A) Üretim hızını düşürmek
- B) Daha pahalı üretim yapmak
- C) Üretim kalitesini yükseltmek
- D) Çalışan işçi sayısını azaltmak

2

- I. Tarlaya buğday ekilmesi
- II. Karadeniz’de avlanan balıkların İç Anadolu’ya ulaştırılması
- III. Zeytinin kahvaltıda yenilmesi

Numaralanmış faaliyetlerin ekonomideki ürün ağında yer alan aşamaları aşağıdakilerin hangisinde doğru olarak verilmiştir?

	I	II	III
A)	Üretim	Dağıtım	Tüketim
B)	Tüketim	Dağıtım	Üretim
C)	Üretim	Tüketim	Dağıtım
D)	Tüketim	Üretim	Dağıtım

3

Aşağıdaki kavramlardan hangisi “Birlikten kuvvet doğar.” atasözü ile ilgilidir?

- A) Değişim
- B) İş birliği
- C) Süreklilik
- D) Yenilikçilik

4

Aşağıdakilerden hangisi girişimci insanların genel özelliklerinden değildir?

- A) Sürekli olarak kendini geliştirirler.
- B) Fırsatları anlar ve değerlendirirler.
- C) Değişime karşı direnç gösterirler.
- D) Planlama ve organizasyon yetenekleri güçlüdür.

5

	Nüfus Miktarı (kişi)	Kişi Başına Düşen Aylık Gelir Miktarı (TL)
I. Bölge	10 000	800
II. Bölge	5000	1000
III. Bölge	25 000	2000
IV. Bölge	8000	1500

Verilen tabloya göre alış verişi merkezi kurmak isteyen bir iş adamı hangi bölgeye yatırım yapmalıdır?

- A) I
- B) II
- C) III
- D) IV

BU KAZANIMDAN SON 10 YILDA 6 SORU SORULMUŞTUR.

6

Farklı sektörlerdeki üç iş adamı aşağıda belirtilen hammaddelerden alım yapacaklardır.

- Salih Bey, mobilya fabrikası için kereste
- İrfan Bey, tekstil fabrikası için pamuk
- Yusuf Bey, petrol rafinerisi için ham petrol

Bu ham maddeleri alabilecekleri en uygun iller aşağıdakilerden hangisinde sıralanmıştır?

	Salih Bey	İrfan Bey	Yusuf Bey
A)	Şanlıurfa	Trabzon	Batman
B)	Batman	Trabzon	Şanlıurfa
C)	Trabzon	Batman	Şanlıurfa
D)	Trabzon	Şanlıurfa	Batman



KAZANIM 23: İŞ BİRLİĞİ YAPARAK ÜRETİM, DAĞITIM VE TÜKETİME DAYALI YENİ FİKİRLER GELİŞTİRİR.



BU KAZANIMDAN SON 10 YILDA 6 SORU SORULMUŞTUR.

CEVAP ANAHTARI

- 1-C
- 2-A
- 3-B
- 4-C
- 5-C
- 6-D



@akmese.onur

@sosyal_bilgiler_zumresi2021

SADECE SOSYAL BİLGİLER ÖĞRETMENLERİNİN YER ALDIĞI WHATSAP GRUPLARIMIZDAN BİRİNE KATILMAK İÇİN MAIL ATABİLİRSİNİZ.

onurakmese16@gmail.com

Daha Fazlası İçin Tıkla

www.akmeseonur.com



BU KAZANIMDAN SON 10 YILDA 1 SORU SORULMUŞTUR.

1

Murat'ın beden eğitimi dersinde giymek için spor ayakkabısına ihtiyacı vardır. Bu ihtiyacını annesine söylemiş ve annesiyle birlikte bir mağazaya giderek uygun ayakkabıyı satın almışlardır.

Buna göre metindeki durum ekonomideki ürün ağının hangi aşamasına aittir?

- | | |
|------------|------------|
| A) Tüketim | B) Üretim |
| C) Dağıtım | D) Girişim |



KAZANIM 24: KULLANDIĞI TEMEL ÜRÜNLERİN ÜRETİM, DAĞITIM VE TÜKETİM AĞINI ANALİZ
EDER.



BU KAZANIMDAN SON 10 YILDA 1 SORU SORULMUŞTUR.

CEVAP ANAHTARI

1-A



@akmese.onur

@sosyal_bilgiler_zumresi2021

**SADECE SOSYAL BİLGİLER ÖĞRETMENLERİNİN YER ALDIĞI WHATSAP
GRUPLARIMIZDAN BİRİNE KATILMAK İÇİN MAIL ATABİLİRSİNİZ.**

onurakmese16@gmail.com

Daha Fazlası İçin Tıkla

www.akmeseonur.com



BU KAZANIMDAN SON 10 YILDA 1 SORU SORULMUŞTUR.

1

Aşağıdakilerden hangisi satın aldığı ürünün ayıplı mal çıkması durumunda bilinçli bir tüketicinin yapması gereken davranıştır?

- A) Yaşadığı durum karşısında sessiz kalmak
- B) Tüketici mahkemelerine dilekçeyle başvurmak
- C) Aynı ürünü farklı bir mağazadan satın almak
- D) Ürünün faturası ya da fişi olmadan iade etmeyi istemek

KAZANIM 25: BİLİNÇLİ BİR TÜKETİCİ OLARAK HAKLARINI KULLANIR.

BU KAZANIMDAN SON 10 YILDA 1 SORU SORULMUŞTUR.

CEVAP ANAHTARI

1-B



@akmese.onur

@sosyal_bilgiler_zumresi2021

SADECE SOSYAL BİLGİLER ÖĞRETMENLERİNİN YER ALDIĞI WHATSAP GRUPLARIMIZDAN BİRİNE KATILMAK İÇİN MAIL ATABİLİRSİNİZ.

onurakmese16@gmail.com

Daha Fazlası İçin Tıkla

www.akmeseonur.com





ETKİN VATANDAŞLIK



6.ÜNİTE



**BU ÜNİTEDEN 2012 YILINDAN
2021 YILINA KADAR YAPILAN
10 SINAVDA TOPLAM
26 SORU ÇIKMIŞTIR.**

- 1.ÇEVRESİNDEKİ TOPLUMSAL İHTİYAÇLAR İLE BU İHTİYAÇLARIN KARŞILANMASI İÇİN HİZMET VEREN KURUMLARI İLİŞKİLENDİRİR.
- 2.YAŞADIĞI YERİN YÖNETİM BİRİMLERİNİN TEMEL GÖREVLERİNİ AÇIKLAR.
- 3.TEMEL HAKLARI VE BU HAKLARI KULLANMANIN ÖNEMİNİ AÇIKLAR.
- 4.BAYRAK VE İSTİKLÂL MARŞI GİBİ MİLLÎ EGEMENLİK VE BAĞIMSIZLIK SEMBOLLERİNE DEĞER VERİR.



@akmese.onur

@sosyal_bilgiler_zumresi2021

BU KAZANIMDAN SON 10 YILDA 13 SORU SORULMUŞTUR.

1

Aşağıdakilerden hangisi sosyal yardım amacıyla hizmet veren kurumlardan biridir?

- A) Sağlık Ocakları B) Üniversiteler
C) Dispanserler D) Kızılay

2

Aşağıdakilerden hangisi resmi kurumların özelliklerinden değildir?

- A) Bireye rollerinin kurum tarafından verilmesi
B) Bireylerin gönüllülük esasına göre çalışması
C) Kişilerin bir ücret karşılığında görev alması
D) Bireylerin kurumların amacının dışına çık-maması

3

Aşağıdakilerden hangisi sivil toplum kuruluşları ile resmî kurumların ortak özelliğidir?

- A) Gönüllü kişilerin görev yapması
B) Yapılan işin karşılığında ücret alınması
C) Çalışmaların yasalara uygun olarak yürütülmesi
D) Yasalarla belirlenen özelliklere sahip kişilerin görev alması

4

Aşağıdakilerden hangisi Aile ve Sosyal Politikalar Bakanlığının görevlerindendir?

- A) Toplumun asayiş ve huzurunu sağlamak
B) Kimsesiz çocukların bakımını yapmak
C) Eğitim ve öğretim faaliyetlerini düzenlemek
D) Hastaların tedavisi ve hastalıkların önlenmesini sağlamak

5

“Türkiye’den ilk aşamada yirmi tırlık bir yardım malzemesini Gazze’ye ulaştırdık.” diyen bir yetkili, aşağıdaki sivil toplum kuruluşlarından hangisinde görev yapıyor olabilir?

- A) LÖSEV
B) ÇEKÜL
C) Türk Kızılayı
D) Darüşşafaka Cemiyeti

6

Üniversiteler hariç, tüm eğitim ihtiyaçlarımızı karşılamak için hizmet veren kurum aşağıdakilerden hangisidir?

- A) Sağlık Bakanlığı
B) Adalet Bakanlığı
C) Millî Eğitim Bakanlığı
D) Millî Savunma Bakanlığı

7

Aşağıdakilerden hangisi İçişleri Bakanlığının görevleri arasındadır?

- A) Türk kültürünü tanıtmak
B) Diğer devletlerle olan ilişkileri yürütmek
C) Toplumun barış ve huzurunu sağlamak
D) Toplumdaki anlaşmazlıkları yasalara uygun olarak çözüme kavuşturmak

BU KAZANIMDAN SON 10 YILDA 13 SORU SORULMUŞTUR.

8



Bu afiş aşağıdaki sivil toplum kuruluşlarından hangisinin faaliyetleriyle doğrudan ilgilidir?

- A) TEMA
C) ÇEKÜL
B) LÖSEV
D) Yeşilay

9

- Ormanlık alanların genişletilmesi
- Bitki ve hayvan çeşitliliğinin artırılması
- Erozyonu önleyici kalıcı tedbirlerin alınması

Verilenler, aşağıdaki sivil toplum örgütlerinden hangisinin etkinlik kapsamındadır?

- A) TEMA
B) Kızılay
C) Türk Eğitim Vakfı
D) İnsan Hakları Derneği

10

- Suyumuzu boşa akıtmayalım.
- Eğitimde, yoksul öğrencileri destekleyelim.
- Doğal afetlerde dünyanın her yerindeki muhtaç insanlara yardım edelim.

Bu cümleler arasında, aşağıdaki sivil toplum kuruluşlarından hangisinin amacına yönelik bir ifade yoktur?

- A) TEMA
C) KIZILAY
B) LÖSEV
D) DARÜŞŞAFAKA

11

Sivil Toplum
Kuruluşu

Faaliyet Alanı

- | | | |
|------|---------|-------------------------|
| I. | TEMA | → İnsani yardım |
| II. | Kızılay | → Sağlık |
| III. | Yeşilay | → Zararlı alışkanlıklar |
| IV. | AKUT | → Arama Kurtarma |

Yukarıda verilen sivil toplum kuruluşları ve faaliyet alanları ile ilgili eşleştirmelerden hangisi yanlıştır?

- A) I. B) II. C) III. D) IV.

12

Mehmet'in babası üye olduğu sivil toplum kuruluşundaki arkadaşlarıyla sık sık bir araya gelerek çeşitli çalışmalar yapmaktadır. Bunların başında, insanları erozyon konusunda bilinçlendirmeye yönelik toplantılar yapmak ve arazileri ağaçlandırma çalışmaları gelmektedir.

Buna göre Mehmet'in babasının görev aldığı sivil toplum kuruluşu aşağıdakilerden hangisi olabilir?

- A) LÖSEV
C) TEGEV
B) YEŞİLAY
D) TEMA

13

BİR AİLE BİLE YILDA
140 TON SUYU
KURTARABİLİR.
SIRA SENDE!

Verilen bu slogan aşağıdakilerden hangisinin çalışma alanıyla ilgilidir?

- A) AKUT
B) LÖSEV
C) ÇEKÜL
D) Darüşşafaka Cemiyeti



KAZANIM 26: ÇEVRESİNDEKİ TOPLUMSAL İHTİYAÇLAR İLE BU İHTİYAÇLARIN KARŞILANMASI İÇİN HİZMET VEREN KURUMLARI İLİŞKİLENDİRİR.



BU KAZANIMDAN SON 10 YILDA 13 SORU SORULMUŞTUR.

CEVAP ANAHTARI

- | | |
|-----|------|
| 1-D | 8-D |
| 2-B | 9-A |
| 3-C | 10-B |
| 4-B | 11-A |
| 5-C | 12-D |
| 6-C | 13-C |
| 7-C | |



@akmese.onur

@sosyal_bilgiler_zumresi2021

SADECE SOSYAL BİLGİLER ÖĞRETMENLERİNİN YER ALDIĞI WHATSAP GRUPLARIMIZDAN BİRİNE KATILMAK İÇİN MAIL ATABİLİRSİNİZ.

onurakmese16@gmail.com

Daha Fazlası İçin Tıkla

www.akmeseonur.com



BU KAZANIMDAN SON 10 YILDA 3 SORU SORULMUŞTUR.

1

İlçedeki resmî kurum ve kuruluşların tüm çalışmalarını takip eden, yönlendiren ve aralarındaki işbirliğini sağlayan yetkili, aşağıdakilerden hangisidir?

- A) Vali
- B) Muhtar
- C) Kaymakam
- D) İlçe Millî Eğitim Müdürü

2

Aşağıdakilerden hangisi halk tarafından seçilmez?

- A) Belediye başkanı
- B) Muhtar
- C) Milletvekili
- D) Kaymakam

3

- İl Millî Eğitim Müdürlüğü
- İl Sağlık Müdürlüğü
- İl Emniyet Müdürlüğü
- İl Tarım Müdürlüğü

Bu kurumlar aşağıdaki yöneticilerden hangisine bağlı olarak görev yapmaktadır?

- A) Vali
- B) Kaymakam
- C) Muhtar
- D) Belediye Başkanı



KAZANIM 27: YAŞADIĞI YERİN YÖNETİM BİRİMLERİNİN TEMEL GÖREVLERİNİ AÇIKLAR.



BU KAZANIMDAN SON 10 YILDA 3 SORU SORULMUŞTUR.

CEVAP ANAHTARI

1-C

2-D

3-A



@akmese.onur

@sosyal_bilgiler_zumresi2021

SADECE SOSYAL BİLGİLER ÖĞRETMENLERİNİN YER ALDIĞI WHATSAP GRUPLARIMIZDAN BİRİNE KATILMAK İÇİN MAIL ATABİLİRSİNİZ.

onurakmese16@gmail.com

Daha Fazlası İçin Tıkla

www.akmeseonur.com



BU KAZANIMDAN SON 10 YILDA 4 SORU SORULMUŞTUR.

1

“Bir haftadır, mahallemizin çöplerinin toplanmasında aksaklıklar yaşanıyor. Bu durum bizi rahatsız ediyor. Sorunumuzun acilen çözülmesini istiyoruz.” diyen bir mahalle sakini, bu sorunun çözümü için, aşağıdaki kurumlardan hangisine başvurmalıdır?

- A) Kaymakamlığa
- B) Mahalle Muhtarlığına
- C) Belediye Başkanlığına
- D) Emniyet Müdürlüğüne

2

Beyza 4. sınıfta iken okul meclisi seçimlerinde aktif olarak görev almıştır. 5. sınıfa geçtiğinde ise aday olmaya karar vermiştir. Aday olarak seçim çalışması yapmış ve arkadaşları tarafından takdirle karşılanmıştır. Seçim günü kendisi de arkadaşları gibi oy kullanmıştır. Seçim sonucunda en çok oyu alarak seçimi kazanmıştır.

Buna göre Beyza’nın temel hak ve özgürlüklerimizden hangisini kullandığı söylenebilir?

- A) Yaşama hakkı
- B) Konut dokunulmazlığı hakkı
- C) Özel hayatın gizliliği hakkı
- D) Seçme ve seçilme hakkı

3

1982 Anayasası’nın 26. maddesinde; “Herkes, düşünce ve kanaatlerini söz, yazı, resim veya başka yollarla tek başına veya toplu olarak açıklama ve yayma hakkına sahiptir.” ifadesi yer alır.

Bu ifade, demokrasinin aşağıdaki ilkelerinden hangisiyle ilişkilendirilebilir?

- A) İfade özgürlüğüyle
- B) Hukukun üstünlüğüyle
- C) Çoğunluğun yönetimiyle
- D) Serbest ve düzenli seçimlerle

4

Toplumsal yaşamda uymak zorunda olduğumuz kurallar yazılı ve yazısız olmak üzere ikiye ayrılır. Otobüste büyüklere yer vermek, akrabalarımızı ziyaret etmek, yere düşen bir çocuğu kaldırmak yazısız kurallardandır.

Buna göre yazısız kurallar hakkında aşağıda verilenlerden hangisi doğrudur?

- A) Yazısız kurallar yazılı kurallar kadar yaptırım gücüne sahiptir.
- B) Bu kurallara uymak yasal olarak zorunludur.
- C) Toplumsal yaşamı kolaylaştıran kurallardır.
- D) Yazısız kuralları devlet belirler.

KAZANIM 28: TEMEL HAKLARI VE BU HAKLARI KULLANMANIN ÖNEMİNİ AÇIKLAR.

BU KAZANIMDAN SON 10 YILDA 4 SORU SORULMUŞTUR.

CEVAP ANAHTARI

- 1-C**
- 2-D**
- 3-A**
- 4-C**



@akmese.onur

@sosyal_bilgiler_zumresi2021

SADECE SOSYAL BİLGİLER ÖĞRETMENLERİNİN YER ALDIĞI WHATSAP GRUPLARIMIZDAN BİRİNE KATILMAK İÇİN MAIL ATABİLİRSİNİZ.

onurakmese16@gmail.com

Daha Fazlası İçin Tıkla

www.akmeseonur.com



BU KAZANIMDAN SON 10 YILDA 6 SORU SORULMUŞTUR.

1

Millî marş, bayrak, başkent, resmî dil gibi değerler, aşağıdakilerden hangisinin sembolüdür?

- A) Bağımsızlık B) Demokrasi
C) İnsan hakları D) Güçlü ekonomi

2

Dalgalandığın yerde ne korku ne keder...
Gölgende bana da, bana da yer ver!
Sabah olmasın, günler doğmasın ne çıkar:
Yurda ay yıldızının ışığı yeter.
Savaş bizi karlı dağlara götürdüğü gün
Kızılığında ısındık;
Dağlardan çöllere düşürdüğü gün
Gölgene sığındık.

Arif Nihat ASYA

Bu dizelerde bağımsızlık sembollerimizden hangisi vurgulanmaktadır?

- A) Millî Marş B) Bayrak
C) Başkent D) Dil

3

Aşağıdakilerden hangisi Türk milletinin ortak değerlerinden biri değildir?

- A) Başkenti
B) Resmî dili
C) Millî marşı
D) Eğitim süresi

4

“Dalgalan sen de şafaklar gibi ey şanlı hilâl!
Olsun artık dökülen kanlarımın hepsi helâl.
Ebediyen sana yok, ırkıma yok izmihlâl:
Hakkıdır, hür yaşamış, bayrağımın hürriyet;
Hakkıdır, Hakk’a tapan, milletimin istiklâl!”

Mehmet Âkif ERSOY

Şair Mehmet Âkif, şiirindeki “Ebediyen sana yok” ifadesiyle, aşağıdakilerden hangisine hitap etmektedir?

- A) Orduya B) Bayrağa
C) Düşmanlara D) Yöneticilere

5

“Ben ezelden beridir hür yaşadım, hür yaşarım.
Hangi çılgın bana zincir vuracakmış? Şaşarım!”

Mehmet Akif Ersoy, İstiklal Marşı’mızın bu iki dizesinde aşağıdaki kavramlardan hangisine vurgu yapmıştır?

- A) Eşitlik B) Bağımsızlık
C) Laiklik D) Adalet

6

- I. Dilimiz
II. Bayrağımız
III. Tarihi eserlerimiz

Yukarıdakilerden hangileri ulusal egemenlik ve bağımsızlık sembollerimizdendir?

- A) Yalnız II B) I ve II.
C) I ve III. D) II ve III.



KAZANIM 29: BAYRAK VE İSTİKLÂL MARŞI GİBİ MİLLÎ EGEMENLİK VE BAĞIMSIZLIK
SEMBOLLERİNE DEĞER VERİR.



BU KAZANIMDAN SON 10 YILDA 6 SORU SORULMUŞTUR.

CEVAP ANAHTARI

1-A

2-B

3-D

4-B

5-B

6-B



@akmese.onur

@sosyal_bilgiler_zumresi2021

**SADECE SOSYAL BİLGİLER ÖĞRETMENLERİNİN YER ALDIĞI WHATSAP
GRUPLARIMIZDAN BİRİNE KATILMAK İÇİN MAIL ATABİLİRSİNİZ.**

onurakmese16@gmail.com

Daha Fazlası İçin Tıkla

www.akmeseonur.com





KÜRESEL BAĞLANTILAR



7.ÜNİTE



**BU ÜNİTEDEN 2012 YILINDAN
2021 YILINA KADAR YAPILAN
10 SINAVDA TOPLAM
8 SORU ÇIKMIŞTIR.**

- 1.ÜLKELER ARASINDAKİ EKONOMİK İLİŞKİLERDE YAŞADIĞI İLİN YERİNİ VE ÖNEMİNİ ARAŞTIRIR.**
- 2.ÜLKELER ARASINDAKİ EKONOMİK İLİŞKİLERDE İLETİŞİM VE ULAŞIM TEKNOLOJİSİNİN ETKİSİNİ TARTIŞIR.**
- 3.TURİZMİN ULUSLARARASI İLİŞKİLERDEKİ ÖNEMİNİ AÇIKLAR.**
- 4.ÇEŞİTLİ ÜLKELERDE BULUNAN ORTAK MİRAS ÖĞELERİNE ÖRNEKLER VERİR.**



@akmese.onur

@sosyal_bilgiler_zumresi2021

BU KAZANIMDAN SON 10 YILDA 2 SORU SORULMUŞTUR.

1

Ülkeler arası ticaretin gelişmesinde aşağıdakilerden hangisinin etkisi en azdır?

- A) Taşıma araçlarının
- B) Reklam ve tanıtımların
- C) Haberleşme sistemlerinin
- D) Konaklama tesislerinin

2

GAZETE

Rize'nin Anzer Yaylası'nda üretilen Anzer balı için Almanya, Fransa, İngiltere, Hollanda, Suudi Arabistan ve İsrail'den çok miktarda sipariş gelmektedir. Türkiye içindeki talepler karşılandıktan sonra diğer ülkelere - - - - gerçekleştirilecektir.

Gazete haberindeki boş bırakılan yere aşağıdakilerden hangisi gelmelidir?

- | | |
|------------|------------|
| A) ithalat | B) ihracat |
| C) sermaye | D) girişim |



KAZANIM 30: ÜLKELER ARASINDAKİ EKONOMİK İLİŞKİLERDE YAŞADIĞI İLİN YERİNİ VE ÖNEMİNİ ARAŞTIRIR.



BU KAZANIMDAN SON 10 YILDA 2 SORU SORULMUŞTUR.

CEVAP ANAHTARI

1-D

2-B



@akmese.onur

@sosyal_bilgiler_zumresi2021

SADECE SOSYAL BİLGİLER ÖĞRETMENLERİNİN YER ALDIĞI WHATSAP GRUPLARIMIZDAN BİRİNE KATILMAK İÇİN MAIL ATABİLİRSİNİZ.

onurakmese16@gmail.com

Daha Fazlası İçin Tıkla

www.akmeseonur.com



BU KAZANIMDAN SON 10 YILDA 1 SORU SORULMUŞTUR.

1

Günümüzde üretilen ürünlerin çok uzak ülkelere kısa sürede ve güvenli bir şekilde taşınmasında aşağıdakilerden hangisi etkili olmuştur?

- A) Dünya nüfusunun artması
- B) Ülkelerin ihtiyaçlarının artması
- C) Ülkeler arasında göçlerin artması
- D) Ulaşım araçlarının gelişmesi ve artması

**KAZANIM 31: ÜLKELER ARASINDAKİ EKONOMİK İLİŞKİLERDE İLETİŞİM VE ULAŞIM
TEKNOLOJİSİNİN ETKİSİNİ TARTIŞIR.**

BU KAZANIMDAN SON 10 YILDA 1 SORU SORULMUŞTUR.

CEVAP ANAHTARI

1-D



@akmese.onur

@sosyal_bilgiler_zumresi2021

**SADECE SOSYAL BİLGİLER ÖĞRETMENLERİNİN YER ALDIĞI WHATSAP
GRUPLARIMIZDAN BİRİNE KATILMAK İÇİN MAIL ATABİLİRSİNİZ.**

onurakmese16@gmail.com

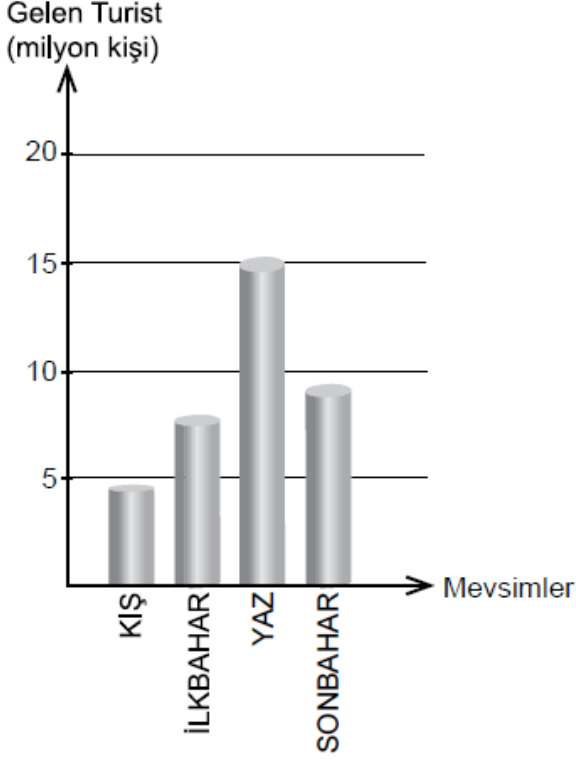
Daha Fazlası İçin Tıkla

www.akmeseonur.com



BU KAZANIMDAN SON 10 YILDA 2 SORU SORULMUŞTUR.**1**

Aşağıdaki grafikte mevsimlere göre 2015'te Türkiye'ye gelen turist sayısı gösterilmiştir:



Bu grafiğe göre aşağıdakilerden hangisi söylenebilir?

- A) Yazın gelen turist sayısı 15 milyon kadardır.
- B) Nisan ayında gelen turist sayısı mayıs ayındakinden fazladır.
- C) Sonbaharda elde edilen döviz miktarı ilkbahardan azdır.
- D) Bir yılda gelen turist sayısı 50 milyonun üstündedir.

2

Ailemle farklı ülkelere seyahat etmeyi seviyorum. Gittiğim ülkelerin doğal güzelliklerini geziyorum. Tarihî yapılarını ziyaret ediyorum. Ülkelerin yemeklerini, yöresel kıyafetlerini, tarihini öğreniyorum. Ülkelerde yeni arkadaşlar ediniyorum. Bu arkadaşlarımdan ülkelerinin oyunlarını öğreniyorum. Farklı dilleri konuşmamıza rağmen anlaşabiliyoruz.

Bu metinden aşağıdakilerden hangisi çıkarılamaz?

- A) Turizm farklı kültürleri tanımayı sağlar.
- B) Turizm insanlar arasında dostluğu geliştirir.
- C) Turizm ülkelerin doğal kaynak israfını azaltır.
- D) Turizm tarih bilgimizi geliştirmeye yardımcı olur.



KAZANIM 32: ÜLKEMİZİN SAHİP OLDUĞU SİYASİ, ASKERİ, EKONOMİK VE KÜLTÜREL ÖZELLİKLERE BAĞLI OLARAK ULUSLARARASI ALANDA ÜSTLENDİĞİ ROLLERİ ANALİZ EDER.



BU KAZANIMDAN SON 10 YILDA 8 SORU SORULMUŞTUR.

CEVAP ANAHTARI

1-A

2-C



@akmese.onur

@sosyal_bilgiler_zumresi2021

SADECE SOSYAL BİLGİLER ÖĞRETMENLERİNİN YER ALDIĞI WHATSAP GRUPLARIMIZDAN BİRİNE KATILMAK İÇİN MAIL ATABİLİRSİNİZ.

onurakmese16@gmail.com

Daha Fazlası İçin Tıkla

www.akmeseonur.com



BU KAZANIMDAN SON 10 YILDA 3 SORU SORULMUŞTUR.

1

20. yüzyılın en ünlü yapılarından biri olan Sydney (Sidney) Opera Evi, ilginç mimari-
siyle operaya ilgi duymayanları bile kendi-
sine çekmeyi başarmıştır.

Hakkında bilgi verilerek tanıtılan ortak
miras ögesi, aşağıdaki ülkelerin hangisin-
dedir?

- | | |
|---------------|--------------|
| A) Avustralya | B) İtalya |
| C) Almanya | D) Hindistan |

2

Aşağıdakilerden hangisi insanlığın ortak
mirasının yaratılmasında diğerlerinden
farklı bir alanda eser ortaya koymuştur?

- | | |
|------------------|----------------|
| A) Louis Pasteur | B) Aziz Sancar |
| C) Gazi Yaşargil | D) Victor Hugo |

3

Ülkemizin, Dünya Miras Listesi'nde yer alan
varlıklarını merak eden bir turiste verece-
ğimiz listede aşağıdakilerden hangisi yer
almaz?

- | | |
|---------------------|----------------------|
| A) Pamukkale | B) Kapadokya |
| C) Beypazarı Evleri | D) Truva Antik Kenti |

KAZANIM 33: ÇEŞİTLİ ÜLKELERDE BULUNAN ORTAK MİRAS ÖĞELERİNE ÖRNEKLER VERİR.

BU KAZANIMDAN SON 10 YILDA 3 SORU SORULMUŞTUR.

CEVAP ANAHTARI

1-A

2-D

3-C (2020 YILINDA UNESCO LİSTESİNE GİRMİŞTİR. BU SORU 2020'DEN ÖNCE SORULMUŞTUR.



@akmese.onur

@sosyal_bilgiler_zumresi2021

SADECE SOSYAL BİLGİLER ÖĞRETMENLERİNİN YER ALDIĞI WHATSAP GRUPLARIMIZDAN BİRİNE KATILMAK İÇİN MAIL ATABİLİRSİNİZ.

onurakmese16@gmail.com

Daha Fazlası İçin Tıkla

www.akmeseonur.com



Daha Fazla Ücretsiz İçerik İçin;

Web: www.akmeseonur.com

Youtube: [Onur AKMEŞE-ZGA Yayınları](https://www.youtube.com/channel/UCkMEŞE-ZGA)

Instagram: [@akmese.onur](https://www.instagram.com/akmese.onur)

Instagram: [@sosyal bilgiler zumresi2021](https://www.instagram.com/sosyal_bilgiler_zumresi2021)



YouTube



Kitaplarımız ile ilgili bilgi ve sipariş için;

www.zgayayinlari.com

Whatsapp: 0 850 30 83 ZGA (942)

Yukarıdaki bağlantıların üzerine tıklayarak sitelere ulaşabilirsiniz.



8. SINIF SORU BANKAMIZ

**ZÜMRELERİN
GÜCÜ
ADINA
YAYINLARI**



8. SINIF 30'LU DENEMEMİZ

2022-2023 Eğitim Öğretim Döneminde 6. ve 7. Sınıf Sosyal Bilgiler Soru Bankalarımız ile SİZLERLEYİZ.