

Adı - Soyadı :

Sınıfı - No :



İnkılap Tarihi Atölyem- 17

Osmanlı Devleti Hangi Cephede?

ATÖLYE BİLGİM

Osmanlı Devleti'nin Savaştığı Cepheler-1

BİRİNCİ DÜNYA SAVAŞI'NDA OSMANLI DEVLETİ'NİN SAVAŞTIĞI CEPHELER

Saldırı (Taarruz) Cepheleri

Kanal (Süveyş) Cephesi

Kafkas Cephesi

Savunma Cepheleri

Suriye - Filistin Cephesi

Çanakkale Cephesi

Irak - Basra Cephesi

Hicaz - Yemen Cephesi

Yardım Gönderilen Cepheler

Makedonya Cephesi

Galiçya Cephesi

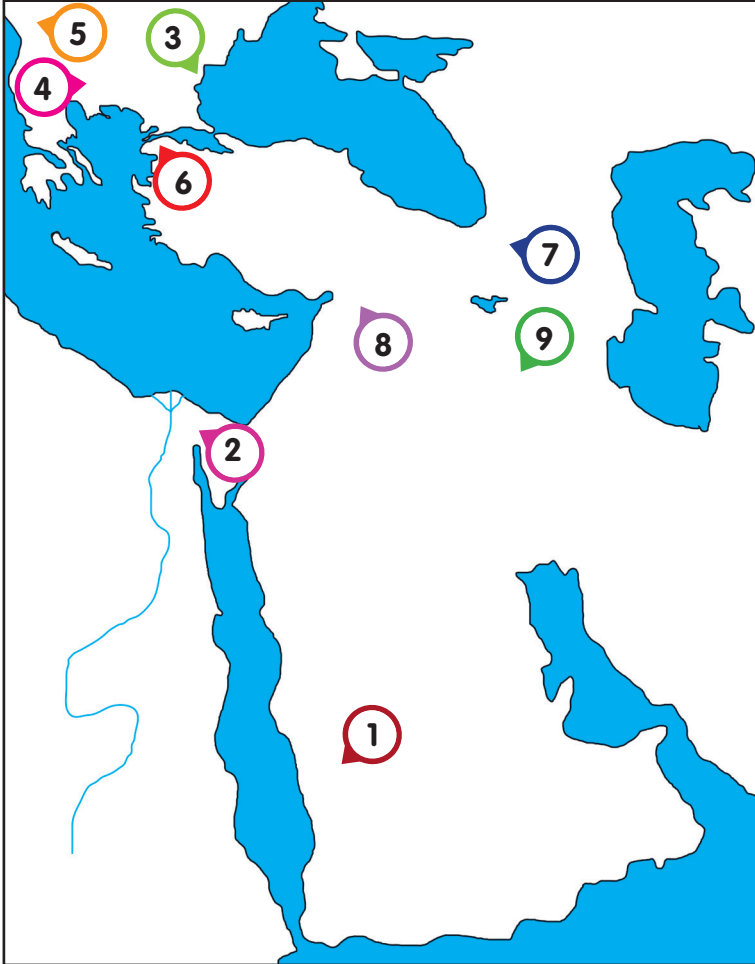
Romanya Cephesi

NOT: Osmanlı Devleti, bu cephelerden sadece Çanakkale Cephesi'nde başarılı olmuştur. Diğer tüm cephelerde yenilmiştir.

NOT: Saldırı cepheleri "**K**" harfi ile başlar (**K**anal, **K**afkas). Yardım cephelerinin son heceleri "**ya**" ile biter (Makedon**ya**, Galiç**ya**, Romany**ya**). Geriye kalan tüm cepheler ise Osmanlı Devleti'nin savunma yaptığı cephelerdir.

ETKİNLİK ZAMANI

Osmanlı Devleti'nin Birinci Dünya Savaşı'nda savaşığı cepheleri, harita üzerinde işaretlenen yerler ile eşleştiriniz.



Suriye - Filistin Cephesi

Kanal (Süveyş) Cephesi

Romanya Cephesi

Irak - Basra Cephesi

Çanakkale Cephesi

Hicaz - Yemen Cephesi

Galiçya Cephesi

Kafkas Cephesi

Makedonya Cephesi

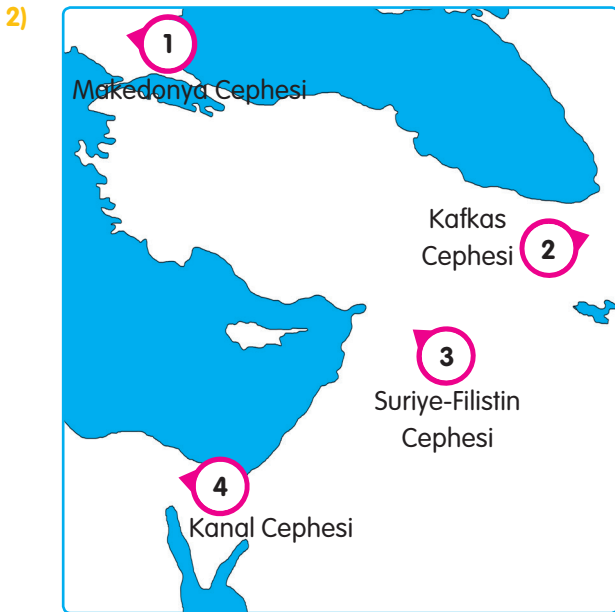


**KAZANIM DEĞERLENDİRME
TESTİ**

- 1) Osmanlı orduları, Birinci Dünya Savaşı'nda Kafkas, Kanal, Çanakkale, Irak-Basra, Suriye-Filistin ve Hicaz-Yemen cephelerinde savaştı. Osmanlı Devleti bu savaşta sınırları dışında bulunan Galiçya, Romanya ve Makedonya cephelerinde de yer aldı.

Buna göre Osmanlı Devleti, aşağıdaki cephelerden hangisinde müttefiklerine yardım etmiştir?

- A) Galiçya Cephesi B) Kanal Cephesi
C) Çanakkale Cephesi D) Irak Cephesi



Haritada numaralandırılarak gösterilen cephelerden hangisi, Osmanlı Devleti'nin Birinci Dünya Savaşı'ndaki savunma cepheleri arasında yer alır?

- A) 1 B) 2 C) 3 D) 4

- 3) Osmanlı orduları, Birinci Dünya Savaşı'nda birçok farklı cephede mücadele etmiştir. Bu cepheler arasında yalnızca birisinde başarılı olmuş, diğerlerinin hepsinde yenilmiştir.

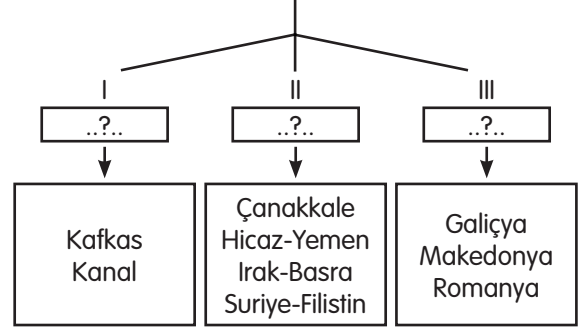
Osmanlı Devleti'nin Birinci Dünya Savaşı'nda galip geldiği tek cephe, aşağıdakilerden hangisidir?

- A) Kafkas Cephesi B) Kanal Cephesi
C) Çanakkale Cephesi D) Irak Cephesi

- 4) Aşağıdaki cephelerden hangisi Osmanlı Devleti'nin Birinci Dünya Savaşı'nda toprakları içinde savaştığı cepheler arasında yer alır?

- A) Galiçya Cephesi B) Romanya Cephesi
C) Makedonya Cephesi D) Suriye Cephesi

- 5) Osmanlı Devleti'nin Birinci Dünya Savaşı'nda Mücadele Ettiği Cepheler



Diyagramda numaralandırılarak boş bırakılan "?" yerlere, aşağıdakilerden hangileri getirilebilir?

	I	II	III
A)	Yardım Cepheleri	Savunma Cepheleri	Taarruz Cepheleri
B)	Taarruz Cepheleri	Savunma Cepheleri	Yardım Cepheleri
C)	Savunma Cepheleri	Yardım Cepheleri	Taarruz Cepheleri
D)	Taarruz Cepheleri	Yardım Cepheleri	Savunma Cepheleri

- 6)



Osmanlı Devleti, Kafkas ve Kanal cephelerinde düşmanlarına taarruz etmiştir.



Sosyal Bilgiler öğretmeni aşağıdaki sorulardan hangisini cevaplamış olabilir?

- A) Osmanlı Devleti müttefiklerine hangi cephelerde yardım etmiştir?
B) Osmanlı Devleti hangi cephelerde düşmanlarına saldırılar düzenlemiştir?
C) Osmanlı Devleti, düşmanlarına karşı hangi cephelerde savunma yapmıştır?
D) Osmanlı Devleti hangi cephelerde düşmanlarına mağlup olmuştur?