

SOSYAL BİLGİLER 4

7. ÜNİTE

KÜRESEL BAĞLANTILAR ÜNİTESİ SORU ÇÖZÜMÜ



1. Bařkenti Yeni Delhi ve en ünlü tarihi eserlerinden biri Taç Mahal'dir.

Verilen bilgi ve görsel ařağıdaki ölkelerden hangisine aittir?

- A) Fransa
- B) Arnavutluk
- c) Hindistan
- D) Portekiz



2.



Başkenti Amman'dır. Resmî dili Arapça'dır. Kızıldeniz'in kuzeyinde yer alan bir Orta Doğu ülkesidir.

Bayrağı ve bilgileri verilen ülke aşağıdakilerden hangisidir?

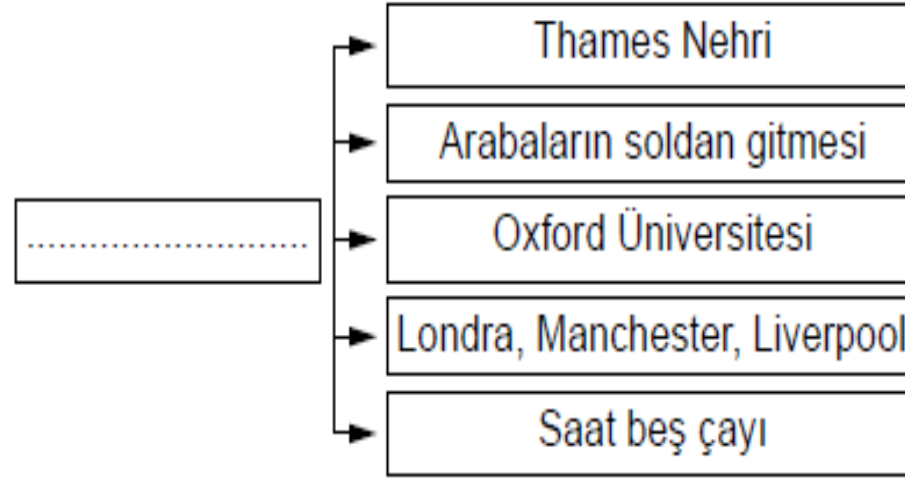
A) Gürcistan

B) Ürdün

C) Fas

D) İtalya

3.



Verilen diyagramda boş bırakılan yere aşağıdaki ülkelerden hangisi getirilmelidir?

- A) İngiltere
- B) Almanya
- C) Japonya
- D) İran

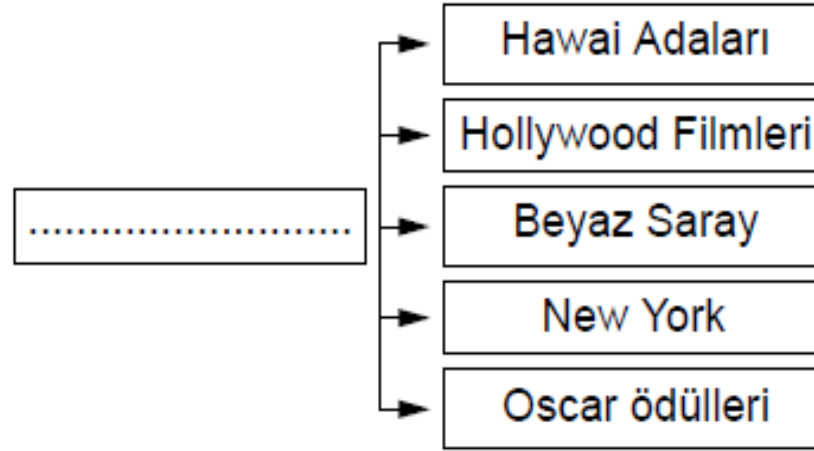
4.



Başkenti Helsinki olan, bayrağı ve haritadaki yeri gösterilen ülke aşağıdakilerden hangisidir?

- A) Finlandiya
- B) Çad
- C) Brezilya
- D) Avusturalya

5.



Verilen diyagramda boş bırakılan yere aşağıdaki ülkelerden hangisi getirilmelidir?

- A) Amerika Birleşik Devletleri
- B) Çin Halk Cumhuriyeti
- C) Belçika
- D) Tanzanya

6.



Boğa güreşleri, Flamenko dansı ve Barselona gibi ünlü futbol takımlarıyla bilinen ülke aşağıdakilerden hangisidir?

- A) Irak
- B) İspanya
- C) Hollanda
- D) Mısır

7.




Müslümanların hac ve umre için gittikleri Mekke ve Medine şehirlerinin bulunduğu petrol zengini ülke aşağıdakilerden hangisidir?

- A) Suudi Arabistan
- B) Ürdün
- C) Birleşik Arap Emirlikleri
- D) Azerbaycan

8.

- Başkenti Tokyo'dur.
- Adalardan oluşan bir ülkedir.
- Büyük Okyanus'ta bulunur.
- Para birimi Yen'dir.
- Dünyanın en yaşlı nüfusuna sahip ülkeleri arasındadır.

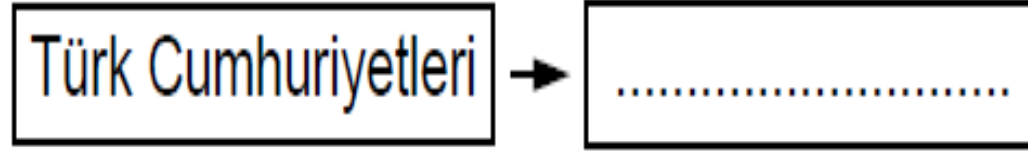


Sushi (Suşi) geleneksel yemeklerinden biridir.

Bayrağı ve özellikleri verilen ülke aşağıdakilerden hangisidir?

- | | |
|-------------------|---------------------|
| A) Moldova | B) Hindistan |
| C) Japonya | D) Polonya |

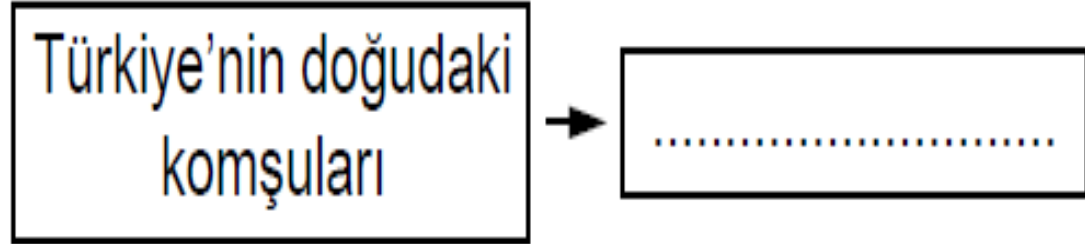
9.



Diyagramda verilen boşluğa aşağıdakilerden hangisi getirilemez?

- A) Azerbaycan
- B) Türkmenistan
- C) Özbekistan
- D) Pakistan

10.



Diyagramda verilen boşluğa aşağıdakilerden hangisi getirilebilir?

- A) İran
- B) Suriye
- C) Bulgaristan
- D) Yunanistan

11.

KOMŞULARIMIZ		BAŞKENTLERİ
1	Bulgaristan	Sofya
2	Gürcistan	Atina
3	Ermenistan	Erivan
4	Irak	Bağdat

Tablodaki eşleştirmelerden hangisi yanlıştır?

A) 1

B) 2

C) 3

D) 4

12. "Geçen yaz "Yavru Vatan"a gittik. Buradan yola çıkıp önce Mersin'e gidiyoruz. Oradan Taşucu'na geçip feribota bindik. Yaklaşık iki buçuk saat sonra Girne'ye ulaştık. Bu ülkeye giderken pasaporta gerek yokmuş. Kimliklerimizi gösterip gümrükten geçtik. Bir hafta kaldıktan sonra da döndük."

Verilen ifadeleri kullanan kişinin gittiği ülke aşağıdakilerden hangisidir?

- A) Suriye
- B) Kuzey Kıbrıs Türk Cumhuriyeti
- C) Rusya Federasyonu
- D) Yunanistan

13.

- Türkmənistan'da 21 Mart'ta Nevruz Bayramı resmî devlet törenleriyle kutlanmaktadır.
- Türkiye'de baharın müjdecisi Nevruz Bayramı sevinçle karşılanmaktadır.
- İran'da Nevruz Bayramı 2 Nisan'daki Doğa Günü'ne kadar yaklaşık 13 gün şenliklerle kutlanır.

Verilenlerden hareketle aşağıdakilerden hangisine ulaşamaz?

- A)** Türk dünyasında ortak değerler dikkati çekmektedir.
- B)** Bu ülkelerin kültürel benzerliği bulunmaktadır.
- C)** Baharın gelişi bazı toplumlarda önemli görülmektedir.
- D)** Ortak kültürel unsurların bulunduğu söylenemez.

14. Japonlarda geleneksel olan Sumo'nun Türk kültüründeki karşılığı aşağıdakilerden hangisidir?

- A)** Beyzbol
- B)** Basketbol
- C)** Güreş
- D)** Tenis



15. Ayberk, farklı ülke kültürlerini tanımaya çalışır. Bunu yaparken de farklılıklara saygı gösterir.

Buna göre aşağıdakilerden hangisi Ayberk'in beklenen bir yorumdur?

- A)** İskoçya'da erkeklerin etek giymesini doğru bulmuyorum.
- B)** Meksika yemeklerini asla tatmak istemem, çünkü çok baharatlıymış.
- C)** Japon çocukların oynadığı oyunlar da çok saçmaymış.
- D)** Hintlilerin kıyafetleri bana göre değil, ancak denemeye değer buluyorum.

CEVAPLAR

1-C 2-B 3-A 4-A 5-A 6-B 7-A 8-C 9-D 10-A
11-B 12-B 13-D 14-C 15-D

ABONE OLUN

