



Küre Yatılı Bölge Ortaokulu/Kastamonu 7. Sınıf
(İOKBS Soruları)



SOSYAL BİLGİLER
3. Ünite: Ülkemizde Nüfus

Test 1-Yeryüzünde Yaşam

1. (2013 İOKBS)

Aşağıdaki ülkelerden hangisinin ekonomik gelişiminde, sahip olduğu petrol yataklarının varlığı etkili olmuştur?

- A) Almanya B) Japonya
C) Yunanistan D) Suudi Arabistan

2. (2014 İOKBS)

Aşağıdakilerden hangisi bir bölgenin nüfus bakımından yoğunlaşmasını olumsuz etkiler?

- A) Gür ormanlar B) Sanayi tesisleri
C) Su kaynakları D) Verimli topraklar

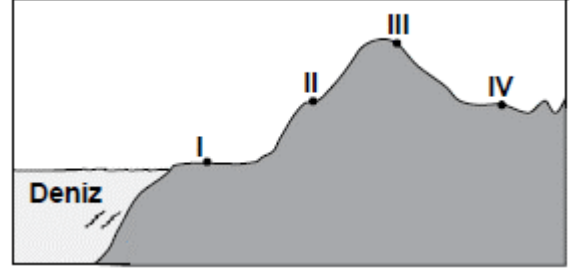
3. (2015 İOKBS)

- I. Şehirli nüfus oranı
II. Nüfusun eğitim durumu
III. Nüfusun cinsiyet özellikleri

Yukardakilerden hangileri bir ülkenin gelişmişliği hakkında bilgi verir?

- A) Yalnız I. B) I. ve II.
C) Yalnız II. D) II. ve III.

4. (2016 İOKBS)



Nüfus dağılışı üzerinde etkili olan faktörler dikkate alındığında yukarıda kesiti verilen arazide numaralandırılan yerlerin hangisinde nüfus yoğunluğunun daha fazla olması beklenir?

- A) I B) II C) III D) IV

5. (2017 İOKBS)

İnsan yaşamına ve faaliyetlerine fazla elverişli olmayan alanlar seyrek nüfuslu yerlerdir.

Buna göre aşağıdaki yerlerin hangisinde nüfusun seyrek olması beklenir?

- A) Enerji kaynakları bol olan
B) Ilıman iklim şartlarına sahip olan
C) Yıl içinde birden fazla ürün alınan
D) Arazisi yüksek ve engebeli olan

6. (2019 İOKBS)

Çatalhöyük'te bulunan kumaş parçaları en eski kumaş örneklerindendir. Burada yaşayanlar, o dönemde Hasan Dağı'ndan elde edilen obsidyen ile tuzu hem kendi ihtiyaçları için kullanmışlar hem de çevrelerindeki yerleşim birimlerinde yaşayan insanlara satmışlardır. İklimine uygun tahıl ve bakliyat yetiştirmişlerdir.

Buna göre Çatalhöyük'te aşağıdaki faaliyetlerden hangisinin geliştiği söylenemez?

- A) Sanayi B) Dokumacılık
C) Ticaret D) Tarım



Küre Yatılı Bölge Ortaokulu/Kastamonu 7. Sınıf
(İOKBS Soruları)



SOSYAL BİLGİLER
3. Ünite: Ülkemizde Nüfus

Test 1-Yeryüzünde Yaşam

7. (2019 İOKBS)

Geçmişten günümüze insanların yerleşim yeri tercihinde doğal ve beşerî faktörler etkili olmuştur. Doğal faktörler, yeryüzü şekilleri, iklim, su kaynakları, yer altı kaynakları, bitki örtüsü gibi insan eli değmeden var olmuş unsurlardır. Beşerî faktörler ise ekonomik faaliyetler, ticaret, sanayi, madencilik, hayvancılık ve tarım gibi insan müdahalesi sonucu oluşan unsurlardır.

Buna göre aşağıdakilerden hangisi yerleşim yeri tercihinin etkileyen doğal faktörlere örnek olarak gösterilebilir?

- A) Hakkâri’de sanayi faaliyetleri gelişmediği için seyrek nüfuslu olması
- B) Ardahan’ın yükseltisi fazla ve engebeli olduğundan nüfusunun az olması
- C) Antalya’da birçok turistik tesis bulunduğu için nüfusunun kalabalık olması
- D) Diyarbakır, kara ve demir yollarının kesişim noktasında olduğundan nüfusunun fazla olması

8. (2020 İOKBS)

Birleşmiş Milletler Bilim, Eğitim ve Kültür Teşkilatı (UNESCO) tarafından Dünya Miras Listesi’ne alınan, günümüzde Şanlıurfa sınırları içerisinde bulunan kazı alanı aşağıdakilerden hangisidir?

- A) Çayönü
- B) Göbeklitepe
- C) Hacılar
- D) Çatalhöyük

9. (2020 İOKBS)

Yerleşik yaşama geçmeye başlayan insanoğlu öncelikle aşağıdaki özelliklerin hangisine sahip alanlara yerleşmeyi tercih etmiştir?

- A) Maden çeşitliliğine
- B) Engebeli arazilere
- C) Zengin ormanlara
- D) Su kaynaklarına

10. (2020 İOKBS)

Aşağıdakilerden hangisi insanların yerleşim yeri tercihinde etkili olan doğal faktörlerdendir?

- A) Ticaret
- B) Madencilik
- C) İklim
- D) Turizm

Mehmet ÖZKÜZ

Test 1-Yeryüzünde Yaşam Cevap Anahtarı (7. Sınıf)
(SBS ve İOKBS Soruları)
1.D 2.A 3.B 4.A 5.D 6.A 7.B 8.B 9.D 10.C



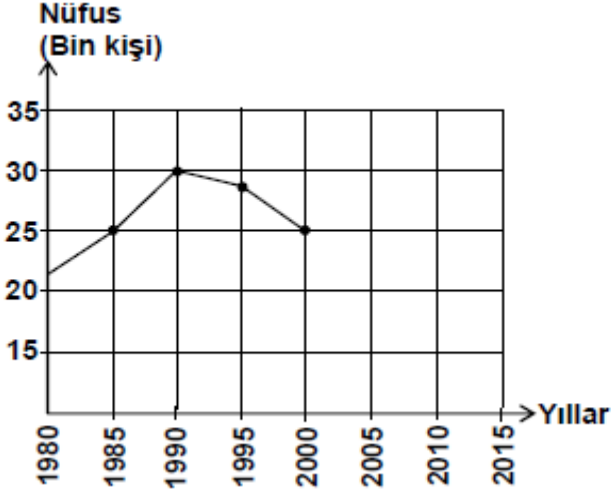
Küre Yatılı Bölge Ortaokulu/Kastamonu 7. Sınıf
(İOKBS Soruları)



SOSYAL BİLGİLER
3. Ünite: Yeryüzünde Yaşam

Test 2-Nüfusumuz

1. (2008 SBS)



Yukarıdaki grafikte ülkemizdeki bir kentin nüfus miktarındaki değişim gösterilmiştir.

Son sayımdan itibaren (2000 yılı) kentin nüfusu her yıl 500 kişi azalırsa **2010 yılında** nüfusu kaç kişi olur?

- A) 15.000 B) 20.000 C) 22.500 D) 27.500

2. (2008 SBS)



Nüfusu hızla artan yerlerde işsizlik, gecekondulaşma, alt yapı hizmetlerinin yetersizliği, tarım ve yeşil alanların yapılaşması, çevre kirliliği gibi sorunlar yaşanmaktadır.

Buna göre; Türkiye haritasında gösterilen yerlerin hangisinde bu sorunlar **daha az** yaşanmaktadır?

- A) Kuzeydoğu Anadolu
B) Ege Denizi kıyıları
C) Marmara Denizi çevresi
D) Türkiye'nin güney kıyıları



Küre Yatılı Bölge Ortaokulu/Kastamonu 7. Sınıf
(İOKBS Soruları)



SOSYAL BİLGİLER

3. Ünite: Yeryüzünde Yaşam

Test 2-Nüfusumuz

3. (2009 SBS)

İller	Nüfus	Nüfus artış hızı (%)	Yüzölçüm (km ²)
Ağrı	529.000	-1	11.315
Antalya	1.719.000	4.2	20.599
Kocaeli	1.206.000	2.7	3.635
Konya	2.192.000	2.2	40.824



Dilay'ın ev ödevi, bilgisayardaki tabloda yer alan bilgilerden yararlanarak illerin nüfus yoğunluklarını bulmaktır.

Bunun için aşağıdakilerden hangisini yapmalıdır?

- A) İlleri nüfus büyüklüklerine göre sıralamalıdır.
- B) Nüfus artış hızı ile il nüfusunu çarpmalıdır.
- C) İlin nüfusunu yüzölçümüne bölmelidir.
- D) İl nüfusundan yüzölçümünü çıkarmalıdır.

4. (2009 SBS)

Yüzümüz kara ama içimiz pırıl pırıl. Çünkü; eskiden bir köy olan Zonguldak'ın bugün on binlerce nüfuslu kocaman bir şehir hâline gelmesini sağlayan kara elması çıkarıyoruz. Biliyor musunuz, kara elmas Türkiye sanayisinin can damarı olan demir-çelik fabrikalarının enerji kaynağıdır.



Zonguldak'ın gelişmesini sağlayan sektör aşağıdakilerden hangisidir?

- A) Tarım
- B) Madencilik
- C) Ormancılık
- D) Ulaştırma

5. (2009 SBS)

Nüfus Sayım Formu

Adınız - Soyadınız?.....
Cinsiyetiniz?.....
Bitirdiğiniz yaş nedir?.....
Okuma ve yazma biliyormusunuz?.....
En son hangi okulu bitirdiniz?.....
Medeni durumunuz nedir?.....
Doğum yeriniz?.....

Yukarıda Türkiye'de yapılan Genel Nüfus Sayımlarında yöneltilen sorulardan bazıları verilmiştir.

Bu sorulardan yararlanarak aşağıdakilerden hangisine ulaşamaz?

- A) Türkiye'deki kadın-erkek sayısına
- B) Kişilerin aylık gelir miktarına
- C) Türkiye'deki okur-yazar oranına
- D) Nüfusun yaş gruplarına göre dağılımına



Küre Yatılı Bölge Ortaokulu/Kastamonu 7. Sınıf
(İOKBS Soruları)

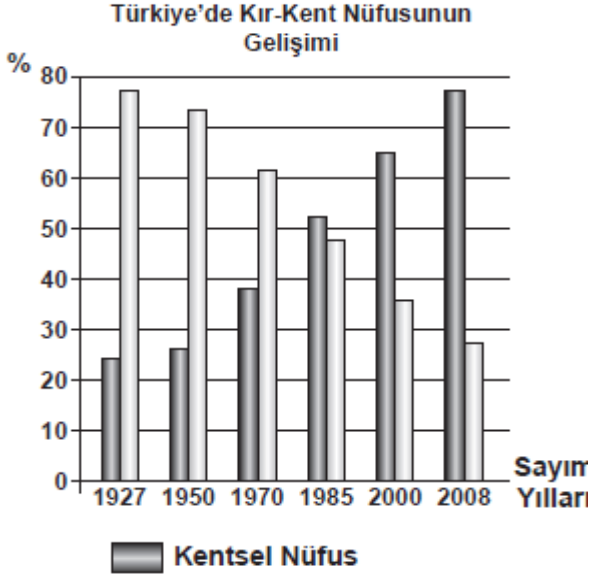


SOSYAL BİLGİLER
3. Ünite: Yeryüzünde Yaşam

Test 2-Nüfusumuz

6. (2010 SBS)

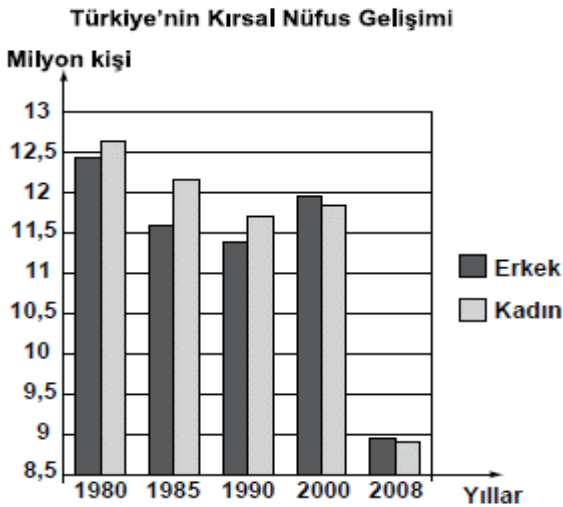
Tabloda bazı nüfus sayımı yıllarına göre kır-kent nüfus oranları verilmiştir.



Buna göre, kentsel nüfus oranı, ilk kez hangi sayım yılında kırsal nüfusu geçmiştir?

- A) 1927 B) 1970 C) 1985 D) 2000

7. (2011 SBS)



Grafiğe göre, ilk kez hangi yılda erkek nüfusu kadın nüfusunu geçmiştir?

- A) 1980 B) 1990 C) 2000 D) 2008

8. (2012 İOKBS)

Aşağıda verilen, il ve o ilin nüfusunun artmasında etkili olan en önemli ekonomik faaliyet eşleştirmelerinden hangisi yanlıştır?

İl Ekonomik faaliyet

- A) Adana → Balıkçılık
B) Ankara → Hizmet
C) Antalya → Turizm
D) Zonguldak → Madencilik

9 ve 10. (2012 İOKBS)

9 ve 10. soruları, aşağıda verilen paragrafa göre cevaplayınız.

Kasabamız artık eskisi gibi değil, bahçeli tek katlı evlerimizin yakınlarına fabrika ve apartmanlar yapılıyor. Kasaba dışındaki tarım arazilerine sanayi tesisleri kuruluyor. Memleketimizin değişik bölgelerinden insanlar kasabamıza âdeta akın etti. Sokakta artık tanıdıklara daha az rastlıyorum. Son dönemlerde arazi fiyatları da oldukça arttı.

9. Kasaba nüfusunun artmasının sebebi aşağıdakilerden hangisidir?

- A) Arazi fiyatlarının artması
B) Tarım alanlarının daralması
C) Büyük apartmanların yapılması
D) Sanayi tesislerinin yaygınlaşması

10. Kasabada, aşağıdakilerden hangisinin gerçekleşmesi beklenemez?

- A) Yerleşim alanlarının genişlemesi
B) Ekonomik ve ticari hayatın gerilemesi
C) Kültürel yapının zenginleşmesi
D) Nüfus yoğunluğunun artması



Küre Yatılı Bölge Ortaokulu/Kastamonu 7. Sınıf
(İOKBS Soruları)



SOSYAL BİLGİLER
3. Ünite: Yeryüzünde Yaşam

Test 2-Nüfusumuz

11. (2012 İOKBS)

**Türkiye Nüfusunun Yaş Gruplarına
Göre Dağılımı (2010)**

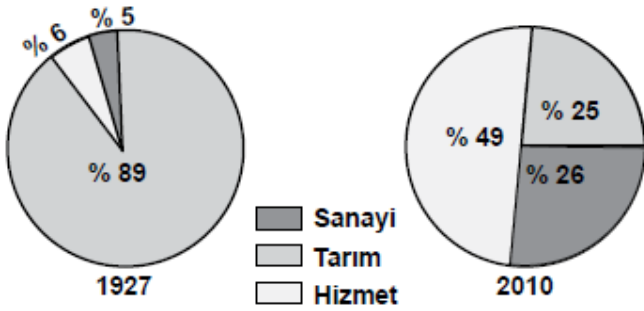
Yaş grubu	Toplam nüfus içindeki oranı (%)
0 - 14	24,6
15 - 64	67,2
65 ve üzeri	8,2

Tablodaki verilere bakarak aşağıdakilerden hangisi
söylenbilir?

- A) Genç nüfus oranı düşmektedir.
- B) Yaşlı nüfusu artmaktadır.
- C) Erkek sayısı kadın sayısından fazladır.
- D) Nüfusun yaklaşık 4/1 'i 15 yaşın altındadır

12. (2013 İOKBS)

Aşağıdaki grafiklerde Türkiye'de çalışan nüfusun iş
kollarına dağılımı gösterilmiştir.



Bu grafiklere bakarak aşağıdakilerden hangisi
söylenbilir?

- A) Hizmet, en az gelişen sektördür.
- B) Tarımın ekonomideki önemi artmıştır.
- C) Sanayi sektöründe istihdam oranı artmıştır.
- D) Turizm, hizmet sektörünün gelişmesini sağlamıştır.

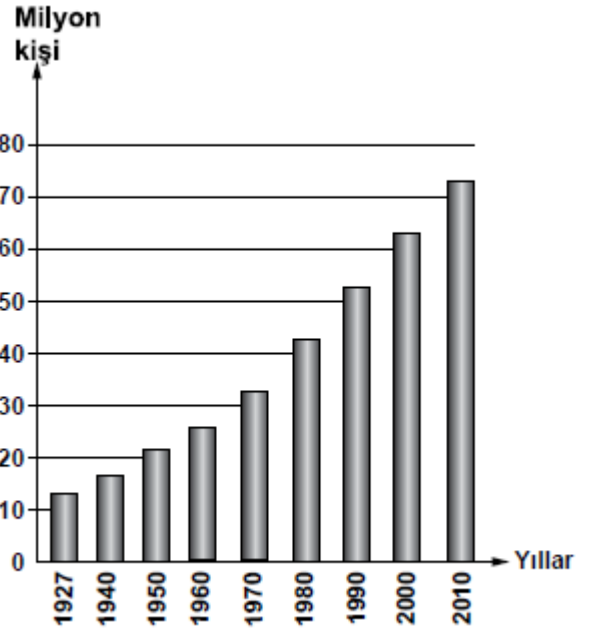
13. (2013 İOKBS)

Türkiye Nüfus Haritası'nı inceleyen bir öğrenci, nüfusun
öncelikle Marmara Denizi çevresinde yer alan illerde
(İstanbul-Bursa-Kocaeli) yoğunlaştığını görür.

**Bu durumda bölgenin hangi özelliğinin etkisi olduğu
söylenemez?**

- A) Olumlu iklim özelliklerinin
- B) Coğrafi konum özelliklerinin
- C) Gelişmiş bir sanayiye sahip olmalarının
- D) Fay hatlarının yakınında yer almalarının

14. (2014 İOKBS)



Yukarıdaki grafikte bazı sayım yıllarına göre Türkiye
nüfusu gösterilmiştir.

Grafığe bakarak aşağıdakilerden hangisi söylenbilir?

- A) Her yıl nüfus artış miktarı aynıdır.
- B) Nüfus sürekli olarak artış göstermiştir.
- C) 2010'da nüfusumuz 80 milyondan fazladır.
- D) 1940-1950 arası nüfusumuz 15 milyon artmıştır.



Küre Yatılı Bölge Ortaokulu/Kastamonu 7. Sınıf
(İOKBS Soruları)



SOSYAL BİLGİLER

3. Ünite: Yeryüzünde Yaşam

Test 2-Nüfusumuz

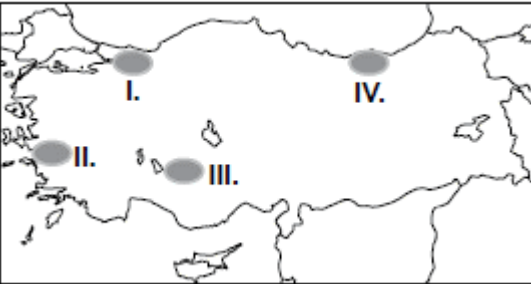
15. (2014 İOKBS)



Haritada numaralandırılarak verilen alanların hangisinde nüfusun artmasında turizm sektörünün etkisi daha fazla olmuştur?

- A) I B) II C) III D) IV

16. (2015 İOKBS)



Haritada numaralandırılmış alanlardan hangisinde temel geçim kaynağı tahıl tarımı olan köylerin sayısı daha fazladır?

- A) I. B) II. C) III. D) IV.

17. (2015 İOKBS)

Ülkemizde aritmetik nüfus yoğunluğunun en fazla olduğu il İstanbul'dur.

İstanbul'da nüfusunun yoğun olmasında aşağıdaki ekonomik faaliyetlerden hangisi daha az etkili olmuştur?

- A) Sanayi B) Tarım
C) Ticaret D) Ulaşım

18. (2015 İOKBS)

Ankara, İstanbul ve İzmir gibi büyükşehirlerde nüfusunun hızla artmasında aşağıdakilerden hangisi etkili olmuştur?

- A) Ölüm oranlarının azalması
B) Doğurganlık oranının fazla olması
C) Yoğun bir şekilde göç alması
D) Yeni yerleşim alanlarının açılması

19. (2015 İOKBS)

Aşağıdakilerden hangisi kırsal nüfus oranının azalmasında etkili değildir?

- A) Tarımda makineleşme
B) Şehirlerde sanayi faaliyetlerinin gelişmesi
C) Tarımsal sulama projelerinin tamamlanması
D) Tarım arazilerinin miras yoluyla parçalanması



Küre Yatılı Bölge Ortaokulu/Kastamonu 7. Sınıf
(İOKBS Soruları)



SOSYAL BİLGİLER
3. Ünite: Yeryüzünde Yaşam

Test 2-Nüfusumuz

20. (2016 İOKBS)



Haritada noktalanarak gösterilen alan Türkiye ortalamasının üzerinde nüfus yoğunluğuna sahiptir.

Aşağıdakilerden hangisi haritada gösterilen alandaki yerleşim merkezlerinden biridir?

- A) İzmit B) Çanakkale
C) Edirne D) Zonguldak

21. (2016 İOKBS)

- I. Okuryazar nüfus oranı
II. Tarımda çalışan nüfus oranı
III. Şehirde yaşayan nüfus oranı

Ülkemiz nüfusunda 1950 yılından günümüze kadar olan sürede yukarıdakilerin hangilerinde **artış** olmuştur?

- A) Yalnız I B) Yalnız II
C) I ve III D) II ve III

22. (2017 İOKBS)

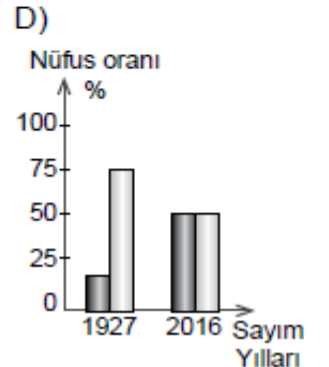
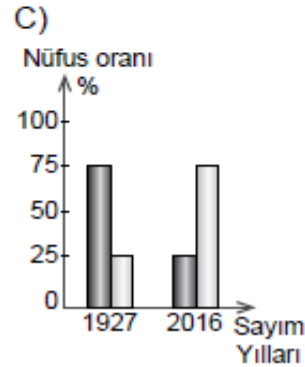
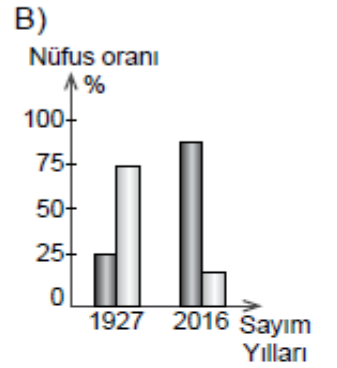
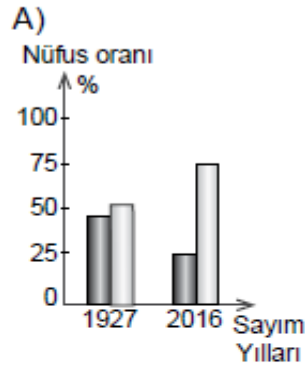
Ülkemizde kent nüfusunun **en az** olduğu bölge aşağıdakilerden hangisidir?

- A) Akdeniz B) Ege
C) Marmara D) Doğu Anadolu

23. (2017 İOKBS)

1927 yılında kentsel nüfus oranı %25 civarında iken günümüzde bu değer %80'nin üzerine çıkmıştır.

Bu bilgiye ait olan grafik aşağıdakilerden hangisidir? (■ Kentsel Nüfus, □ Kırsal Nüfus)





Küre Yatılı Bölge Ortaokulu/Kastamonu 7. Sınıf
(İOKBS Soruları)



SOSYAL BİLGİLER

3. Ünite: Yeryüzünde Yaşam

Test 2-Nüfusumuz

24 ve 25. (2017 İOKBS)

24 ve 25. soruları, aşağıda verilen paragrafa göre cevaplayınız.



Haritada numaralanmış taralı alanlar ülkemizde sanayi, ticaret, turizm ve ulaştırma hizmetlerinin yoğun ve gelişmiş olduğu yerlerin başında gelmektedir.

24. Taralı alanlarla ilgili aşağıdakilerden hangisi söylenemez?

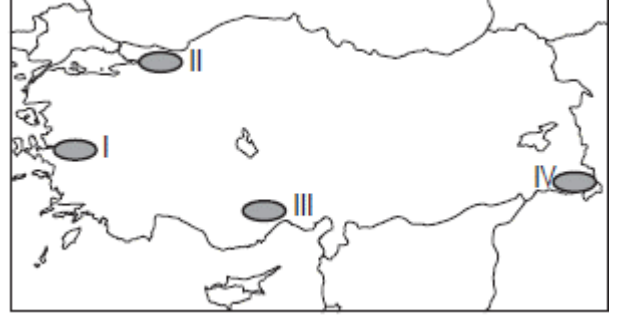
- A) İş imkânları fazladır.
- B) Nüfus yoğunlukları fazladır.
- C) Sağlık-egitim hizmetleri gelişmiştir.
- D) Kömür yatakları bakımından zengindir.

25. Taralı alanların hangisinde kentsel nüfus miktarı en fazladır?

- A) I.
- B) II.
- C) III.
- D) IV.

26. (2018 İOKBS)

Ülkemizin yüksek ve engebeli alanlarında ulaşımın zor, ekonomik faaliyetlerin kısıtlı oluşu nüfus yoğunluğunun düşük olmasına neden olmuştur.



Buna göre harita üzerinde numaralandırılan yerlerin hangisi bu duruma örnektir?

- A) I.
- B) II.
- C) III.
- D) IV.

27. (2019 İOKBS)

Türkiye'de doğal ve beşerî şartların bölgeden bölgeye farklı özellikler sunması, yerleşmeye uygun olan veya olmayan alanların ortaya çıkmasına neden olmuştur.

Aşağıdakilerden hangisi ülkemizin bu özelliğinin sonucu olarak ortaya çıkan bir durumdur?

- A) Nüfus dağılışıının düzensiz olması
- B) Yer altı kaynaklarının belli alanlarda toplanması
- C) Karasal iklimin yaygın olarak görülmesi
- D) Doğal bitki örtüsünün farklılıklar göstermesi



Küre Yatılı Bölge Ortaokulu/Kastamonu 7. Sınıf
(İOKBS Soruları)



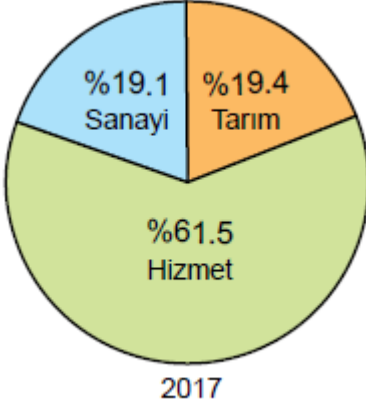
SOSYAL BİLGİLER

3. Ünite: Yeryüzünde Yaşam

Test 2-Nüfusumuz

28. (2020 İOKBS)

Aşağıda Türkiye'ye ait bir grafik verilmiştir.



Bu grafiğin başlığı aşağıdakilerden hangisi olabilir?

- A) Türkiye nüfusunun yaş ortalaması
- B) Türkiye'nin eğitim durumu
- C) Türkiye'nin kırsal-kent nüfus oranları
- D) Türkiye nüfusunun ekonomik faaliyetlere göre dağılışı

29. (2020 İOKBS)

Aşağıdakilerden hangisi nüfus artışının hızlı olduğu yerlerde yaşanan sorunlardan biri değildir?

- A) Okul ihtiyacının artması
- B) Plansız yapılaşma
- C) Çevre kirliliği
- D) Konut ihtiyacının azalması

30. (2020 İOKBS)

Ülkemizde nüfus, sanayi tesislerinin çevresinde daha çok yoğunlaşmıştır.

Bu durumun nedeni aşağıdakilerden hangisidir?

- A) Sanayi tesislerinin yoğun enerji tüketmesi
- B) Sanayi tesislerinin genelde kırsal şehirlerde yer alması
- C) Fabrikaların fazla sayıda insana iş imkânı sağlaması
- D) Fabrikaların ulaşımına uygun alanlara kurulması

Mehmet ÖZKÜZ

Test 2-Nüfusumuz Cevap Anahtarı (7. Sınıf)
(SBS ve İOKBS Soruları)

1.A 2.A 3.C 4.B 5.B 6.C 7.D 8.A 9.D 10.B 11.D 12.C 13.D 14.B 15.C 16.C 17.B 18.C 19.C 20.A 21.C 22.D 23.B 24.D 25.A 26.D 27.A 28.D
29.D 30.C



Küre Yatılı Bölge Ortaokulu/Kastamonu 7. Sınıf
(İOKBS Soruları)



SOSYAL BİLGİLER

3. Ünite: Yeryüzünde Yaşam

Test 3-Nedenleriyle ve Sonuçlarıyla Göç

1. (2008 SBS)

Aaah ah! Sanırım 45 – 50 yıl önceydi. Köyümüze traktör ve biçerdöver geldiğinde çok sevinmiştik. Bu makineler bizim günlerce uğraşarak sürdüğümüz ve biçtiğimiz toprakları birkaç saatte işledi. Hatta kazma vuramadığımız toprakları bile ekip biçmeye başladı. Nereden bilebilirdik, artık köyümüzde bize ekmek kalmadığını. İş bulmak ümidiyle düştük gurbet ellere ...



Metne göre, Recep Dede'nin yıllar önce kente göçmesinin nedeni aşağıdakilerden hangisidir?

- A) Sağlık sorunlarının ortaya çıkması
- B) Ekilemeyen alanların tarıma açılması
- C) Tarımsal verimin düşmeye başlaması
- D) Tarımda makine kullanımının yaygınlaşması

2. (2008 SBS)

Ülkelerin kalkınmasında önemli görevler üstlenen, iyi eğitim görmüş kişilerin çalışmak için yurt dışına gitmesine beyin göçü denir.

Buna göre; aşağıdaki kişilerden hangisinin Almanya'ya gitmesi beyin göçü değildir?

- A) Makine mühendisi Fikret Bey'in
- B) Beyin cerrahı Ülkü Hanım'ın
- C) İnşaat işçisi Ramazan Usta'nın
- D) Ekonomist Ercan Bey'in

3. (2009 SBS)

Almanya'dan gelen iş teklifini kabul etsem mi bilemiyorum!... Hastanenin çok gelişmiş cihaz ve makinelerden oluşan büyük bir araştırma merkezi varmış, alanında çok ünlü uzman doktorlar çalışıyormuş. Onların mesleki bilgilerinden de yararlanabilirim. Ayrıca maaşı da çok iyi!...



Doktor Gökalp çalışmak için Almanya'ya giderse bu hangi göç türüne girer?

- A) İç göç
- B) Zorunlu göç
- C) İşçi göçü
- D) Beyin göçü



Küre Yatılı Bölge Ortaokulu/Kastamonu 7. Sınıf
(İOKBS Soruları)



SOSYAL BİLGİLER

3. Ünite: Yeryüzünde Yaşam

Test 3-Nedenleriyle ve Sonuçlarıyla Göç

4. (2010 SBS)

Gökhan: Ağabeyim tıp fakültesini ben de Anadolu lisesini kazandım. Mecburen ailece Ankara'ya göç ettik.

Nazlı: Memlekette tarlalardan elde ettiğimiz ürünler geçinmemize yetmiyordu. Tarlayı satıp burada bir market açtık. Kazancımız şimdi daha iyi.

Ercan: Annem ve babam artık çok yaşlandı. Kasabamızdaki hastanede yeterli donanım yoktu. Oysa Ankara'da hastaneler çok gelişmiş.

Sibel: 1999'daki depremden sonra Yalova'da kalmak istemedik. Ankara deprem açısından daha güvenli bir şehir.

Yukarıdaki diyaloga göre, hangi öğrencinin ailesi **doğal afetten** dolayı Ankara'ya göç etmiştir?

- A) Gökhan B) Nazlı
C) Ercan D) Sibel

5. (2011 SBS)

Aşağıdakilerin hangisinde kırsal kesimden şehirlere göçü **azaltan** faktörler doğru olarak bir arada verilmiştir?

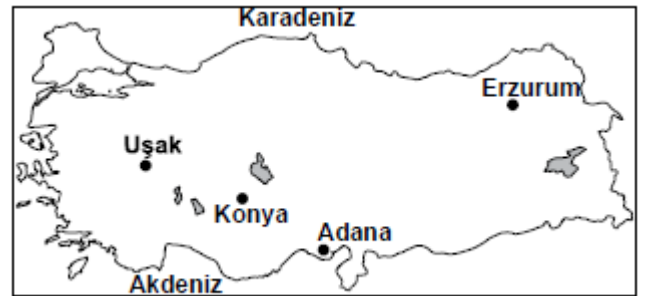
- I- Sağlık hizmetlerinin yaygınlaştırılması
II- Eğitim hizmetlerinin geliştirilmesi
III- Tarım arazilerinin miras yoluyla bölünmesi
IV- Tarımsal üretimi değerlendiren tesislerin yaygınlaştırılması

- A) I - II - III B) II - III - IV
C) I - II - IV D) I - III - IV

6. (2011 SBS)

Mehmet Bey: Tarım işçisiyim. Memleketimin sert iklim şartları sağlığını bozdu. Bu yüzden kış mevsiminin ılıman, tarımsal sezonun uzun sürdüğü, yılda birkaç kez ürün alınabilen bir yere taşınmak istiyorum.

Bu bilgilere göre Mehmet Bey'in haritada belirlenmiş olan illerden hangisine göç etmesi uygundur?



- A) Konya B) Adana
C) Erzurum D) Uşak



Küre Yatılı Bölge Ortaokulu/Kastamonu 7. Sınıf
(İOKBS Soruları)



SOSYAL BİLGİLER

3. Ünite: Yeryüzünde Yaşam

Test 3-Nedenleriyle ve Sonuçlarıyla Göç

7. ve 8. soru (2013 İOKBS)

6 ve 7. soruları, aşağıda verilen paragrafa göre cevaplayınız.

ALİ: "Ailemle Orta Anadolu'nun güneyinde kurak bir köyde yaşırdık. Özellikle yazın kuraklığa bağlı olarak büyük su sıkıntısı çekilirdi. Tarımda sulama yapamadığımız için verim ve gelirimiz düşük olurdu. Zaten altı kardeşlik bu toprak hangi birimizi geçindirecek!... Mecburen en büyük ağabeyim hariç tüm kardeşler Ankara'ya göç ettik, iş gücü sahibi olduk."

7. Ali Bey ve kardeşlerinin göç türü aşağıdakilerden hangisidir?

- A) İç göç B) Mübadele göçü
C) Dış göç D) Beyin göçü

8. Ailenin Ankara'ya göçünün **öncelikli** sebebi aşağıdakilerden hangisidir?

- A) Sağlık sorunları
B) Ekonomik sorunlar
C) Eğitim yetersizliği
D) Tarımda makineleşme

9. (2014 İOKBS)

- I- Yerleşim alanlarının genişlemesi
II- Okul, hastane ihtiyacının artması
III- Konut üretiminin azalması

Yoğun şekilde göç alan bir şehirde yukarıda verilen gelişmelerden hangileri yaşanır?

- A) Yalnız I B) Yalnız II
C) I ve II D) II ve III

10. (2016 İOKBS)

Bir ülkedeki yetişmiş bilim insanlarının başka ülkelere göç etmeleri aşağıdakilerden hangisine örnek oluşturur?

- A) Mevsimlik göçe B) Zorunlu göçe
C) İşçi göçüne D) Beyin göçüne

11. (2016 İOKBS)

Aşağıdakilerden hangisi köyden kente göçün nedenlerinden **değildir**?

- A) Tarımda makineleşmenin artması
B) Toprakların miras yoluyla bölünmesi
C) Tarıma elverişli toprakların bolluğu
D) Şehirlerdeki ekonomik ve sosyal imkânların fazlalığı

12. (2018 İOKBS)

Yükseköğrenim görmüş, nitelikli, alanında uzman kişiler daha iyi şartlarda çalışmak ve yaşamak için gelişmiş ülkelere göç etmektedirler.

Yukarıda hangi göç türü anlatılmıştır?

- A) İç göç B) Beyin göçü
C) İşçi göçü D) Mübadele göçü

13. (2018 İOKBS)

Aşağıdakilerden hangisi göç alan şehirlerde hızlı nüfus artışına bağlı olarak yaşanan sorunlardan biri **değildir**?

- A) Konut ihtiyacının artması
B) Toplu taşıma sistemlerinin gelişmesi
C) Tarım alanlarının yerleşime açılması
D) Sanayi tesislerinin şehrin merkezinde kalması



Küre Yatılı Bölge Ortaokulu/Kastamonu 7. Sınıf
(İOKBS Soruları)



SOSYAL BİLGİLER

3. Ünite: Yeryüzünde Yaşam

Test 3-Nedenleriyle ve Sonuçlarıyla Göç

14. (2019 İOKBS)

Mete ailesi ile birlikte Mersin'de yaşamaktadır. Mete İstanbul'daki bir üniversitede okumaya hak kazanınca ailesi ile birlikte İstanbul'a taşınmışlardır.

Buna göre Mete'nin yaşadığı göç türü aşağıdakilerden hangisidir?

- A) İç göç
B) Dış göç
C) Mülteci göçü
D) Mevsimlik göç

15. (2020 İOKBS)

Mehmet: "Antalya'daki köyümüzde orman ürünlerini değerlendirerek geçimimizi sağlıyorduk. Ormanımızın büyük bir yangınla yok olmasıyla göç etmek zorunda kaldık. Ailemle birlikte başka bir şehrin yolunu tuttuk."

Bu metne göre Mehmet ve ailesinin göç etmelerinin sebebi aşağıdakilerden hangisidir?

- A) Sağlık sorunlarının ortaya çıkması
B) Afet kaynaklı işsizlik
C) Daha iyi bir eğitim alma amacı
D) Başka bir ülkede yaşama isteği

Mehmet ÖZKÜZ

16. (2020 İOKBS)

Ahmet ve ailesi yaşadıkları şehirden, yılın belli zamanlarında Adana'ya pamuk hasadında çalışmak için gitmektedirler.

Bu örnek aşağıdaki göç türlerinden hangisi ile ilgilidir?

- A) Mevsimlik göç
B) Beyin göçü
C) Mülteci göçü
D) Sürekli göç

Test 3-Nedenleriyle ve Sonuçlarıyla Göç Cevap Anahtarı (7. Sınıf)
(SBS ve İOKBS Soruları)

1.D 2.C 3.D 4.D 5.C 6.B 7.A 8.B 9.C 10.D 11.C 12.B 13.B 14.A 15.B 16.A



Küre Yatılı Bölge Ortaokulu/Kastamonu 7. Sınıf
(İOKBS Soruları)



SOSYAL BİLGİLER

3. Ünite: Yeryüzünde Yaşam

Test 4-Yerleşme ve Seyahat Özgürlüğü

1. (2008 SBS)

İstanbul'da yaşayan Ahmet Bey, şehrin kalabalığından ve gürültüsünden kaçmak için yakın bir köyde bahçeli bir ev alarak burada yaşamaya başlamıştır. Dostlarını ziyaret etmek için de sık sık İstanbul'a gidip gelmektedir.

Bu durum Ahmet Bey'in **öncelikle** hangi hak ve özgürlüğünü kullandığına örnek oluşturur?

- A) Haberleşme
- B) Yerleşme ve seyahat
- C) Düşünceyi açıklama
- D) Özel yaşamın gizliliği

2. (2019 İOKBS)

Anayasamızın 23. maddesine göre: “Herkes yerleşme ve seyahat hürriyetine sahiptir.” Ancak savaş, seferberlik, salgın hastalıklar, toplumun ve kamu mallarının korunması için kanunla sınırlanabilir.”

Buna göre aşağıdakilerden hangisi Anayasamızda belirtilen yerleşme ve seyahat özgürlüğünün sınırlandırma nedenleri arasında **gösterilemez**?

- A) Konut sayısını artırmak
- B) Toplum sağlığını korumak
- C) Vatandaşların güvenliğini sağlamak
- D) Sağlıklı ve düzenli kentleşmeyi gerçekleştirmek

Test 4-Yerleşme ve Seyahat Özgürlüğü Cevap Anahtarı (7. Sınıf)
(SBS ve İOKBS Soruları)
1.B 2.A