

Öğrencinin  
ADI ve SOYADI: .....

No: ..... Sınıfı: 6/.....

Bu Sınavda toplam **22 soru** bulunmaktadır. Sınav çoktan seçmeli sorulardan oluşmaktadır. Her sorunun puan değeri 5 **(BES)** **puandır.** Son iki soru JOKER sorudur. Başarılar dilerim

Cüneyt BANAN – Sosyal Bilgiler Öğretmeniniz



1-)

Enerji Kaynağı	Hava Kirliliği	
	Oluşturur	Oluşturmaz
Güneş Enerjisi		✓
Rüzgâr Gücü	✓	
Doğalgaz	✓	
Taş Kömürü		✓

6-A Sınıfı Öğrencisi Musab, Sosyal Bilgiler dersi sınavında her biri “2” puanlık olan seçenekleri yukarıda görüldüğü gibi işaretlerse **kaç puan** alır?

- A) 2 B) 4 C) 6 D) 8

2-) Dünya üretiminde Ülkemizin ilk sırada yer aldığı tarım ürünleri arasında aşağıdakilerden hangisi **yer almaz**?



3-) Ülkemizde tarımsal faaliyetlere destek veren kuruluşlar arasında aşağıdakilerden hangisi bulunmaz?



4-)

Çay	Zeytin	Buğday
		
Yağışlı bölge	Kış ılıkılığı	Kuraklık

Tarımsal üretime etki eden doğal ve beşeri faktörler düşünüldüğünde yukarıdaki görseller hangisi ile ilgilidir?

- A) Toplumsal ihtiyaçlar B) Pazarlama  
C) İklim özellikleri D) Ticari Faaliyetler

5-)



—	Kuzey Anadolu Fay Hattı	1
—	Doğu Anadolu Fay Hattı	2
—	Batı Anadolu Fay Hattı	3

Yukarıda verilen haritaya bakıldığında Ülkemizde farklı fay hatlarının olduğu görülmektedir.

Yukarıdaki görsele ve verilen bilgilere göre aşağıdakilerden hangisi **çıkarılamaz**?

- A) Ülkemizde depremler görülebilmektedir  
B) Fay hatları boyunca kaplıcalara rastlanabilmektedir  
C) En yoğun depremler Doğu Anadolu Fay hattı boyunca yaşanmaktadır  
D) Batı Anadolu Fay hattı Ege bölgesinde etkilidir.

6-)

Otlakların gür ve meralık alanların fazla olduğu, yaz yağışlarının çok olduğu Erzurum –Kars yöresi

...I...

Çiçekli bitki türünün ve sayısının fazla olduğu yerler

...II...

Bozkır örtüsünün ve makilerin fazla olduğu alanlar

...III...

Hayvancılık türleri ve yapıldığı yerlerin özellikleriyle “Arıcılık, Küçükbaş hayvancılık ve Büyükbaş hayvancılık” çeşitlerinin eşleştirilmesi hangi seçenekte doğru olarak verilmiştir?

	I	II	III
A)	Arıcılık	Küçükbaş Hayvancılık	Büyükbaş Hayvancılık
B)	Büyükbaş Hayvancılık	Arıcılık	Küçükbaş Hayvancılık
C)	Küçükbaş Hayvancılık	Arıcılık	Büyükbaş Hayvancılık
D)	Büyükbaş Hayvancılık	Küçükbaş Hayvancılık	Arıcılık

7-)

### Ekonomik Faaliyetler

...I... Sektörü	...II... Sektörü	...III... Sektörü
Hayvancılık Balıkçılık Ormancılık Tarla Ekimi	Otomotiv Kimya Gıda Fabrika	Sağlık Eğitim Güvenlik Turizm

Yukarıda boş bırakılan yerlere gelmesi gereken sektör isimleri hangi seçenekte doğru olarak verilmiştir?

	SANAYİ	HİZMET	TARIM
A)	II	III	I
B)	I	III	II
C)	II	I	III
D)	III	II	I

8-) Aşağıda verilenlerden hangisi temel haklarımız arasında yer almaz?

- A) Yaşama Hakkı
- B) Din ve Vicdan özgürlüğü
- C) Kişi dokunulmazlığı
- D) Vergi Verme sorumluluğu

9-)

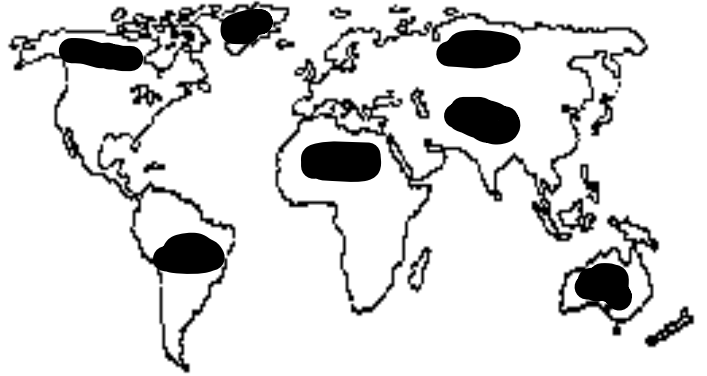


Arkadaşlar ben Berilsu, size bir sorum olacak? Sorum şu: “Bir ülkede nüfusun % 65’i tarım, % 20’si hizmet ve % 15’i sanayi sektörlerinde çalışmaktadır.”

Yukarıda sorduğum soruyla ilgili acaba aşağıdaki yorumlardan hangisi doğrudur?

- A) Gelişmiş bir ülkedir
- B) Ülkenin gelişmişlik düzeyi yüksektir
- C) Ülkenin ekilebilir tarım alanları fazla olduğu için tarım daha gelişmiştir
- D) Gelişmemiş bir ülkedir





10-)







Yukarıda dünyada nüfusun dağılışı ile ilgili verilen taralı alanların ortak özelliği aşağıdakilerden hangisidir?

- A) Nüfusun seyrek olduğu alanlar
- B) Nüfus yoğunluğunun fazla olduğu yerler
- C) Nüfusu 10 Milyonun üzerindeki kentler
- D) Nüfusun yoğun olduğu yerler

11-) Aşağıda verilenlerden hangisi ithal ürünlerimiz arasında yer almamaktadır?

A)		B)	
	Kahve		Muz
C)		D)	
	Petrol		İncir

12-) Aşağıda enerji kaynaklarımızdan hangisi yenilenebilir özelliğe sahip değildir?

A)		B)	
	Güneş Enerjisi		Rüzgâr Enerjisi
C)		D)	
	Jeotermal Enerji		Nükleer Enerji

13-) 17 Şubat 1926'da kabul edilen Medeni kanununa göre Türk Kadınına;

- Boşanma hakkı,
- Çalışma hakkı
- Resmi nikâh hakkı
- Mirastan eşit pay alma hakları tanındı.

Verilen haklara bakılarak aşağıdaki alanlardan hangisinde hak tanınmamıştır?

- |                       |           |
|-----------------------|-----------|
| A) Ekonomik           | B) Siyasi |
| C) Toplumsal (Sosyal) | D) Hukuk  |

14-) Ülkeyi tek başıma yönetirim. Her sözüm kanundur. Kimseye hesap vermem. Öldüğümde oğullarımdan biri tahta çıkar.




Egemenlik hakkının belirli bir sınıfa, gruba veya zümreye ait olduğu yönetim biçiminde diğer halkın söz hakkı yoktur.

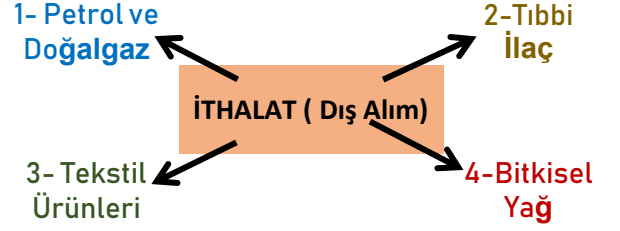


Devletin dini kurallara göre yönetildiği yönetim biçimidir.

Yukarıda verilen yönetim şekillerinin doğru sıralanışı aşağıdaki seçeneklerden hangisinde doğru olarak verilmiştir?

			
A)	Teokrasi	Cumhuriyet	Oligarşi
B)	Monarşi	Teokrasi	Meşrutiyet
C)	Meşrutiyet	Teokrasi	Monarşi
D)	Monarşi	Oligarşi	Teokrasi

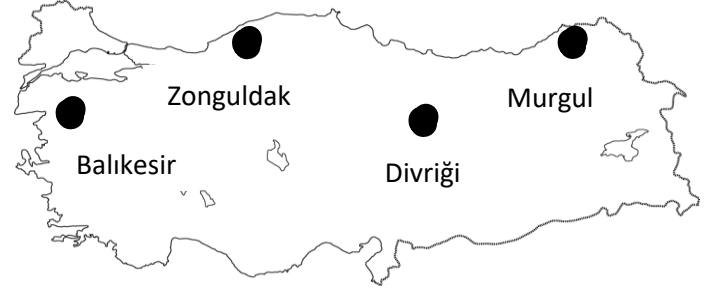
15-)



Ülkemiz yukarıdaki diyagramda verilen ürünlerden hangilerini ithal etmez?

- |           |           |
|-----------|-----------|
| A) 1 ve 3 | B) 2 ve 4 |
| C) 2 ve 3 | D) 3 ve 4 |

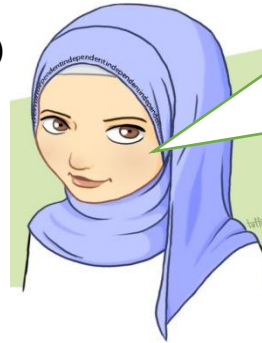
16-)



Türkiye haritasında işaretli yerlerde çıkarılan madenler aşağıda hangisinde doğru bir şekilde eşleştirilmiştir?

	Balıkesir	Zonguldak	Divriği	Murgul
A)	Bor	Taş Kömürü	Demir	Bakır
B)	Linyit	Elmas	Demir	Krom
C)	Bor	Linyit	Petrol	Altın
D)	Mermer	Taş Kömürü	Alüminyum	Demir

17-)



İnsanlara yardım etmeyi çok severim. Kişilik olarak bir insanı dinlemek bana huzur verir. Onun problemlerini çözebilme en büyük huzurum. Kısacası insan canlısıyım.

Zehra Betül'ün anlattıklarına bakarak aşağıdaki mesleklerden hangisi kişilik özelliklerine daha uygundur?

- |             |              |
|-------------|--------------|
| A) Pilot    | B) Psikolog  |
| C) Öğretmen | D) Veteriner |



18-)

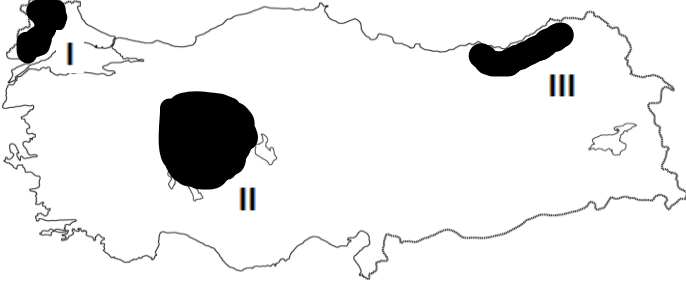


Büşra Nur Hanım, KOSGEB(Küçük ve Orta Ölçekli İşletmeleri Geliştirme ve Destekleme İdaresi Başkanlığı)'in verdiği Hibe ve Krediyle birlikte fabrika açtı. Nakliye için 7 kamyonet ve bir de otomobil aldı. İşyerindeki elemanlarına yemek için marketten yiyecek ve içecekler aldı. Vergilerini düzenli ödediği için İstanbul Defterdarı tarafından tebrik edildi.

İrem Hanım ile ilgili verilen girişimcilik örneğinden hangi vergi çeşidine ulaşamaz?

- A) Kurumlar Vergisi B) MTV  
C) Emlak Vergisi D) KDV

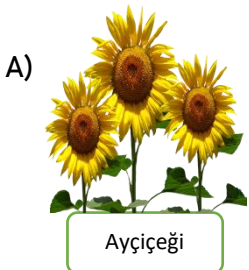
19-)



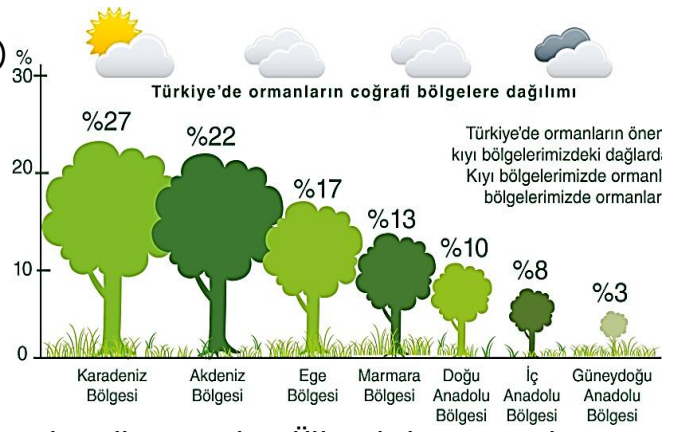
Yukarıda verilen işaretli yerlerde yetişen tarım ürünleri aşağıdakilerden hangisinde doğru bir şekilde eşleştirilmiştir?

	I	II	III
A)	Ayçiçeği	Arpa	Zeytin
B)	Buğday	Çavdar	Turuncgiller
C)	Ayçiçeği	Buğday	Çay
D)	Şeftali	Haşhaş	Kivi

20-) Aşağıda verilen tarım ürünlerinden hangisinde bitkisel yağ elde edilemez?



21-)



Yukarıda diyagramda Ülkemizde ormanların bölgelerimize göre dağılışı oranları verilmiştir.

Diyagrama göre aşağıdaki yorumlardan hangisi çıkarılamaz?

- A) Orman alanlarının büyük çoğunluğu kıyılarımızda toplanmıştır  
B) Orman bakımından en fakir bölgemizin Güneydoğu Anadolu Bölgesi olduğu görülmektedir  
C) Orman yangınlarının en yoğun olduğu bölge Karadeniz Bölgesi'dir.  
D) İç bölgelerimiz orman bakımından fakirdir

22-) Bir devletin yönetim esaslarından olan Yasama, Yürütme ve Yargı erklerinin (kuvvet) demokratik toplumlarda bazı kurumlara verildiği görülür. Türkiye Cumhuriyeti de demokratik bir devlet olduğuna göre Kuvvetler ayrılığını kullanan kurumlar aşağıdakilerden hangisinde doğru olarak vermiştir?

	YASAMA	YÜRÜTME	YARGI
A)	TBMM	Danıştay	Yargıtay
B)	Cumhurbaşkanı	TBMM	Bağımsız Mahkemeler
C)	TBMM	Cumhurbaşkanı	Bağımsız Mahkemeler
D)	Anayasa Mahkemesi	Cumhurbaşkanı	Yargıtay

ÖNEMLİİİİİ.....

Mocha, Espresso, Macchiato, Latte... Bu kahve türlerine adını veren İtalya'da, bu ürünlerle ünlenmiş Starbucks'ın yalnızca 3 şubesi var.

Türk kahvesi, Dibek, Menengiç, Kül, Cilveli, Mirra çıkaran Türkiye'de biri hariç hiçbirini satmayan Starbucks'ın tam 457 tane şubesi var.

Kendimizi sorgulamalıyız !

