

Birey ve Toplum - 1

1. Semih Bey, gün boyu doktor rolünü üstlendikten sonra akşam taksiyle eve giderken müşteri rolündedir. Evine geldiğinde ise çocuklarına karşı baba rolündedir.

Buna göre sosyal roller;

- I. zaman içinde değişebilir,
- II. bazıları sonradan kazanılır,
- III. kişilere bazı sorumluluklar getirir

yargılarından hangilerine ulaşılabilir?

- A) Yalnız I.
- B) I ve III.
- C) II ve III.
- D) I, II ve III.

2. Aşağıdakilerden hangisi ilköğretim altıncı sınıf öğrencisi Bahadır'ın evde alabileceği sorumluluklardan biri olamaz?

- A) Sabah uyandığında yatağını düzeltmek
- B) Odasını temiz ve düzenli tutmak
- C) Yemek için sofranın hazırlanmasına yardım etmek
- D) Ailesinin ekonomik ihtiyaçlarını karşılamak

3. Ramazan ve Kurban Bayramlarında aileler, akrabalar, komşular ve arkadaşlarımızla bir araya geliriz. Dini bayramlarda pek çok geleneği yerine getiririz. Büyüklerimizi ziyaret eder, ellerini öperiz. Misafirlere ikramlarda bulunuruz. Dargın olduklarımızla barışıyoruz.

Buna göre aşağıdakilerden hangisi dini bayramların toplumsal birliğe katkılarından biri değildir?

- A) Akrabalık bağlarını güçlendirir.
- B) Hoşgörü ve yardımlaşmayı artırır.
- C) İsrar ve savurganlığı artırır.
- D) Komşuluk ilişkilerini geliştirir.

4. İsmim Yasin Yıldırım, taksicilik yapıyorum. Çocuklarım evimizin neşesidir, onların ödevlerine yardımcı olurum. Annem de bizimle birlikte kalıyor. Akşam eve geldiğimde ilk iş olarak ellerini öper ve bir sıkıntısı olup olmadığını sorarım.

Metne göre aşağıdakilerden hangisi Yasin Bey'in üstlendiği rollerden biri değildir?

- A) Evlat olmak
- B) Şoför olmak
- C) Baba olmak
- D) Yönetici olmak

5. İsmim Zeliha, Hacı Bayram Ortaokulu'nda okuyorum. Suriye'de başlayan olaylar nedeniyle göç edenlerden sınıfımıza gelenler oldu. İlk başlarda onlardan çok hoşlanmadım. Zaten dilimizi de konuşamıyorlardı. Fakat gün geçtikçe ve onları tanımaya başladıkça ne kadar çok sıkıntı çektiklerini ve zor durumda olduklarını anladım. Şimdi onlarla çok iyi anlaşıyorum.

Buna göre aşağıdaki yargılardan hangisine ulaşılabilir?

- A) İnsanlar birbirini tanıdıkça önyargılar artar.
- B) İnsanlar arasındaki iletişim önemlidir.
- C) Önyargılar arkadaşlık ilişkilerini olumsuz etkiler.
- D) Farklılıklar önyargılara neden olabilmektedir.

6. Toplumsal yaşamın vazgeçilmezi olan değerlerin, örf ve âdetlerin, gelenek ve göreneklerin nesilden nesile aktarılmasını sağlayan kültürel öge aşağıdakilerden hangisidir?

- A) Din
- B) Tarih
- C) Dil
- D) Ahlak

Birey ve Toplum - 1

7. Kültürel öğelerimizden biri de düğünlerimizdir. Toplumun her kesiminden insanların katılımıyla gerçekleşen düğünlerde türküler söylenir, yemekler verilir ve evlenenlerin mutluluğu için dualar edilir.

Buna göre aşağıdakilerden hangisine ulaşamaz?

- A) Kültürel öğeler toplumda kaynaştırıcı bir özelliğe sahiptir.
- B) Düğünler ülkenin her yerinde aynı şekilde kutlanır.
- C) Düğünlerde dini uygulamalar da yerini almıştır.
- D) Kültürel öğeler bir arada yaşama isteğinin önemli göstergelerinden biridir.

8. İnsanların piknik yapıp açık havada eğlenme hakları vardır. Ancak piknik yaparken çevreyi kirletmeye hakları yoktur. Çünkü tüm insanların temiz bir çevrede yaşama hakları vardır.

Buna göre aşağıdakilerden hangisi söylenemez?

- A) İnsanlar birbirlerinin haklarına saygı göstermelidir.
- B) Kişilerin özgürlüğü başkasının hakkını çiğnememelidir.
- C) İnsanlar haklarını sınırsızca kullanabilmelidir.
- D) Haklarımızı kullanırken başkalarının hakkına zarar vermemeliyiz.

9. Aşağıdakilerden hangisi sosyal yardımlaşma ve dayanışmanın sonuçlarından biri değildir?

- A) İnsanlar arasında dostluk duyguları kuvvetlenir.
- B) Birlik ve beraberlik duyguları artar.
- C) Zengin ile yoksul arasındaki farklılık artar.
- D) Toplumsal huzur ve mutluluk artar.

10. Bir toplumu millet yapan en önemli özelliklerden biri de ortak bir geçmişe sahip olmasıdır. Geçmiş olmayan bir toplumun geleceği de olmaz. İbn-i Haldun şöyle der: “Ve sen geçmişini bilerek devlet adamlarının bu kapıdan nasıl geçtiğini anlayacaksın.”

Yukarıdaki metinde kültürel öğelerden hangisinin önemine vurgu yapılmıştır?

- A) Dil
- B) Din
- C) Dayanışma
- D) Tarih

11. Önyargılar insanlar arasındaki ilişkileri nasıl etkiler?

- A) Arkadaşlık bağlarını kuvvetlendirir.
- B) İletişimdeki hataları azaltır.
- C) Kişilerin doğru anlaşılmasını sağlar.
- D) İnsanları birbirinden uzaklaştırır.

12. Aşağıdakilerden hangisi sivil toplum örgütlerinin kuruluş amaçlarından değildir?

- A) Üyelerinin ekonomik ihtiyaçlarını karşılamak
- B) Toplumun birlik ve beraberliğini artırmak
- C) Toplumun sorunlarına çözüm bulmak
- D) Toplumu bilinçlendirmek



Birey ve Toplum - 2

1. Kimsesiz bir çocuk caddede yürüyordu. Koşuşturan bir adamın cüzdanını düşürdüğünü fark etti. Hemen onu yerden aldı ve sahibinin yanına koştu. Adam bu arada arabasına binmişti. Çocuk, arabanın camına vurdu. Adam: “**Git şuradan dilenci!**” dedi. Çocuk ise elindeki cüzdanı gösterdi. Adam utanarak cüzdanı aldı ve çocuktan özür dileyip teşekkür etti.

Metne göre önyargının sebebi aşağıdakilerden hangisidir?

- A) Karşımızdaki kişiyi sınıflandırma
- B) Kişiler arasındaki anlaşmazlık
- C) Cinsiyet ayrımcılığı
- D) Empati kuramama

2. Herkes ait olduğu gruba göre farklı roller üstlenmiştir ve bu roller zaman içerisinde değişebilir.

Aşağıdakilerden hangisi bu duruma örnek olarak gösterilebilir?

- A) Ben bir okulda öğretmen olarak çalışıyorum. Öğrencilerimi çok seviyorum.
- B) Evin tek çocuğu olarak anneme ev işlerinde yardım ediyorum.
- C) 6. sınıf öğrencisiyim ve aynı zamanda okul takımında kaptanlık yapıyorum.
- D) Okulda başarılı olmak için ödevlerimi zamanında yapıyorum.

3. Sivil toplum kuruluşları topluma farklı alanlarda hizmet verirler.

Aşağıdakilerden hangisi eğitim alanında hizmet veren sivil toplum kuruluşlarından biri değildir?

- | | |
|----------------------|-----------------------|
| A) Türk Eğitim Vakfı | B) Milli Eğitim Vakfı |
| C) Darüşşafaka | D) Kızılay |

4. Yurttaki oda arkadaşım Leyla sınavı olduğu için ders çalışması gerektiğini söyledi. Çok yorgun olduğum için uyumak istediğimi, bu yüzden kütüphaneye gitmesini söyledim. Fakat ışıkları yakarak odada ders çalışmaya başladı. Bu durum beni çok rahatsız etti.

Yaşanan bu sıkıntının temel sebebi aşağıdakilerden hangisidir?

- A) Kişilerin yasal hakkını kullanması
- B) Başkalarının haklarının göz ardı edilmesi
- C) Sorumlulukların yerine getirilmesi
- D) İnsanların birbirlerine karşı anlayışlı olması

5. 6. sınıf öğrencisi Ahmet, toplumsal olaylara duyarlı ve yardımsever bir vatandaşdır.

Buna göre Ahmet’in aşağıda verilenlerden hangisini yapması beklenmez?

- A) Okuldaki yardım kampanyalarına katılmak
- B) Sınıfındaki ihtiyaç sahiplerine karşı duyarsız kalmak
- C) Sivil toplum kuruluşları hakkında bilgi sahibi olmak
- D) Arkadaşlarını yardım kampanyalarına davet etmek

6. Dersinde “**Gruplar ve Roller**” konusunu işleyen sosyal bilgiler öğretmenini Esma Hanım öğrencilerine: “**İnsanların sahip olduğu bazı rollerin doğuştan bazılarının ise sonradan kazanıldığını**” söylemiştir.

Buna göre aşağıdakilerden hangisi doğuştan sahip olunan rollere örnek olarak gösterilebilir?

- | | |
|------------------|-------------------|
| A) Evlat olmak | B) Öğretmen olmak |
| C) Öğrenci olmak | D) Yönetici olmak |

Birey ve Toplum - 2

7. Bir toplumu oluşturan bireylerin duygu, düşünce ve ortak çıkar birliği ile birbirlerine bağlanmaları ve her konuda birbirlerine destek olmalarına dayanışma denir.

Buna göre aşağıdakilerden hangisi dayanışmaya örnek olarak gösterilebilir?

- A) Ahmet'in babasının bir fabrikada işçi olarak çalışması
- B) Kırsal kesimlerde ortak ya da kişisel işlerin el birliğiyle yapılması
- C) Özgür Bey'in yurtiçi satışların yanı sıra yurtdışı satışları da yapması
- D) Yeliz Hanım'ın her sabah çocuğunu okula bırakması

8. Aşağıdakilerden hangisi 6. sınıf öğrencisi Metin'in okuldaki sorumluluklarından biri değildir?

- A) Okulu temiz tutmak
- B) Okul eşyalarına zarar vermemek
- C) Okuldaki görevlilere saygılı olmak
- D) Arkadaşlarının eşyalarını izinsiz kullanmak

9. Özlem'in evlerinin hemen yakınlarına özel bir hastane açılmıştı. Hastane biriktirdiği çöplerini sürekli olarak çöp kutularına değil sokak ortasına dökmüştü. Kısa bir süre sonra Özlem'in mahallesinde salgın hastalıklar ortaya çıkmıştı.

Buna göre Özlem'in hangi hakkı ihlal edilmiştir?

- A) Eğitim Hakkı
- B) Barınma Hakkı
- C) Sağlıklı bir çevrede yaşama hakkı
- D) Sağlıklı beslenme hakkı

10. Aldığı ütünün bozuk olduğunu fark eden Yeşim Hanım ürünü aldığı mağazaya götürerek yenisi ile değiştirmiştir.

Yeşim Hanımın bu davranışı ile ilgili olarak aşağıdakilerden hangisi söylenebilir?

- A) Sorunu görmezden gelmiştir.
- B) Sorunun çözümü için haklarını kullanmıştır.
- C) Sorumluluklarını yerine getirmemiştir.
- D) Sorunun çözümünde yanlış bir yöntem uygulamıştır.

11. Birey olarak dünyaya geldiğimiz andan itibaren çeşitli sosyal roller üstleniriz. Rollerimizin bir kısmı doğuştan sahip olduğumuz rollerdir. Bazı rollerimize ise çalışarak ve başarı göstererek sonradan sahip oluruz.

Aşağıdakilerden hangisi sonradan sahip olduğumuz rollerden biridir?

- A) Evlat olmak
- B) Kız yada erkek olmak
- C) Kardeş olmak
- D) Öğretmen olmak

12. Bir toplumda, sosyal yardımlaşma ve dayanışma duygularının kuvvetli olması öncelikle aşağıdakilerden hangisinin göstergesidir?

- A) Birlik ve beraberlik duygularının güçlü olduğunun
- B) Ekonomik gelir seviyesinin yüksek olduğunun
- C) Yaşanan doğal afetlerin fazla olduğunun
- D) Kişisel menfaatlerin ön plana çıktığının



Kültür ve Miras - 1

1. Çinliler ve Moğolların başını çektiği halklar, Türk milletini tuzağa düşürerek büyük bir bozguna uğrattılar. Kurtulabilenler bir dağa kaçtı. Ortasında otlakları, ağaçları, nehirleri ve gölleri olan bir ovada yaşamaya başladılar. Zamanla sayıları çoğaldı, buraya sığmaz oldular. Ergenekon adı verilen bu yerden çıkmak için dağın içindeki demir madenini eriterek yol açtılar.

Yukarıda anlatılan Ergenekon Destanı'na göre Türkler ile ilgili aşağıdakilerden hangisine ulaşamaz?

- A) Çinliler ve Moğollarla mücadele etmişlerdir.
- B) Verimli ovalara göç etmişlerdir.
- C) Madencilikle uğraşmışlardır.
- D) Çin'in egemenliğini kabul etmişlerdir.

2. **Aşağıdakilerden hangisi kurultayın özelliklerinden biri değildir?**

- A) Siyasi, askerî ve ekonomik kararların alınması
- B) Devlet yönetiminde önemli bir meclis olması
- C) Kurultaya boy beylerinin ve hatunun da katılması
- D) Yönetimde son sözün kurultaya ait olması

3. **İlk Türk Devletlerinin sanat eserlerini taşınabilir malzemelerden yapmalarının nedeni aşağıdakilerden hangisidir?**

- A) Dinî inançlarının etkisi
- B) Hayvancılıkla uğraşmaları
- C) Göçebe yaşam sürmeleri
- D) Taşımacılıkta attan faydalanmaları

4.



İlk Türk Devletlerinde, devleti yöneten kağanlar önemli kararları meclise danışarak alırlardı. Kurultaya boy beylerinin katıldığı gibi kağanın eşi hatun da katılırdı. Kurultayda siyasi, askerî ve ekonomik kararlar alınırdı.

Buna göre kurultay ile ilgili aşağıdakilerden hangisi söylenemez?

- A) Devlet yönetiminde kadının da söz sahibi olduğu
- B) Meclisin devlet yönetiminde etkili olduğu
- C) Hakanın devlet işlerini görürken danıştığı bir meclis olduğu
- D) Törelerde değişiklik yapılamadığı

5. **Aşağıdakilerden hangisi Uygurların yerleşik hayata geçtiğini gösterir?**

- A) Sözlü edebiyatı devam ettirmeleri
- B) Hayvancılıkla uğraşmaları
- C) Saraylar ve tapınaklar inşa etmeleri
- D) Hükümdarlığın babadan oğula geçmesi

6. **Orta Asya Türk Devletlerinin kısa sürede yıkılmalarının temel nedeni aşağıdakilerden hangisidir?**

- A) Devletin "Hükümdar ailesinin ortak malıdır." anlayışı
- B) En yakın komşuları Çin'in kuvvetli olması
- C) Yerleşik hayata geçememiş olmaları
- D) Askerlerin sadece ok, yay ve mızrak kullanmaları

Kültür ve Miras - 1

7.



Tanrı buyurduğu için, talihim ve kısmetim olduğu için, ölecek halkı diriltip besledim, sırtı açıkta olan halkı giydirdim, yoksul halkı zengin ettim.

Orhun Kitabelerinde bulunan Bilge Kağan'ın bu ifadeleri aşağıdakilerden hangisinin bir göstergesidir?

- A) Sosyal devlet anlayışının hâkim olduğunun
- B) Türklerin İpek Yolu'na hâkim olduğunun
- C) Türklerin boylar hâlinde yaşadığının
- D) Türklerin yerleşik hayata geçtiğinin

8. Orta Asya Türk kavimleri çadırlarda hayatını sürdürüp, yazın yaylalarda kışın da kışlaklarda yaşamışlardır.

Bu yaşam biçiminin sebebi aşağıdakilerden hangisidir?

- A) İnançlarının gereğini yerine getirmek istemeleri
- B) Boy ve kabilelerin birbirleri ile olan mücadeleleri
- C) Hayvancılık için elverişli ortam bulmak istemeleri
- D) Çin saldırılarına karşı yanıtma politikası uygulamaları

9. Aşağıdakilerden hangisi Türklerin kısa sürede geniş alanlara yayılmalarının nedenlerinden biridir?

- A) Gök Tanrı inancına sahip olmaları
- B) Sözlü edebiyat geleneğini devam ettirmeleri
- C) Tarım faaliyetlerine önem vermeleri
- D) Atı evcilleştirip tekerleği kullanmaları

10. I. Ülkenin, hanedanın ortak malı sayılması
II. Ülkenin doğu-batı şeklinde ikiye bölünerek yönetilmesi
III. Hükümdarın törelere uymak zorunda olması
IV. Otlak ve tarım alanlarının azalması

Yukarıda verilenlerden hangileri Türk devletlerinin kısa sürede parçalanmasına yol açmıştır?

- A) Yalnız I.
- B) I ve II.
- C) II ve III.
- D) III ve IV.

11. Türkler, Orta Asya'daki ana yurtlarından dünyanın değişik yerlerine göç etmişlerdir.

Aşağıda verilen göç etme nedenlerinden hangisi, Türklerin bağımsızlıklarına düşkün olduklarının kanıtıdır?

- A) İklim değişikliği
- B) Nüfusun artması
- C) Dış baskılar
- D) Salgın hastalıklar

12. Yapılan araştırmalar sonucu Orta Asya'da MÖ 3. yüzyıla ait "Pazırık halısı" olarak bilinen halıların bulunduğu tespit edilmiştir. Bu halıların üzerinde at, aslan, geyik ve kaplan gibi hayvan motifleri vardır.

Buna göre aşağıdaki yargılardan hangisine ulaşılabilir?

- A) Türkler halı ihraç etmişlerdir.
- B) Türkler başka medeniyetlerden etkilenmişlerdir.
- C) Orta Asya'ya dokuma sanatını Türkler getirmiştir.
- D) Türkler dokumacılıkla uğraşmışlardır.



Kültür ve Miras - 2

1. Türklerin konargöçer (göçebe) bir yaşam tarzı benimsemesinin, aşağıdakilerden hangisinin üzerinde etkisi olduğu söylenemez?

- A) Türklerin daha çevik ve atik olmasında
- B) Eşyaların kolay taşınır yapılmasında
- C) Yazılı hukuk kurallarının yapılmasında
- D) Hayvancılık ile uğraşılmasında


2. Aşağıdakilerden hangisi ilk Türk Devletlerinde ordunun özelliklerinden biri değildir?

- A) Savaşlarda hilal taktığının uygulanması
- B) Ordunun paralı askerlerden oluşturulması
- C) Ordunun onlu sisteme göre düzenlenmesi
- D) Ordu-millet anlayışının olması

3. İlk Türk Devletleriyle ilgili olarak aşağıda verilen bilgilerden hangisi doğru değildir?

- A) Uygurlar yerleşik hayata geçtikleri için kalıcı eserler vermişlerdir.
- B) Çinicilik, dokumacılık ve ahşap süslemeciliği geleksel Türk sanatlarından.
- C) Orta Asya'da Türklerin eşyaları ve atlarıyla gömüldükleri mezarlara balbal denir.
- D) İlk Türk devletlerinde halı ve kilim dokumalarında hayvan motiflerine yer verilmiştir.

4.



Babam Teoman'ın verdiği on bin kişiden oluşan ve tümen adını verdiğim askerlerimi binli, yüzlü ve onlu gruplara ayırarak başlarına binbaşı, yüzbaşı ve onbaşı atadım. Hızlı hareket etmeleri için ok ve yay gibi hafif silahlarla donattım.

Buna göre Türklerin ordu sistemi ile ilgili aşağıdakilerden hangisine ulaşamaz?

- A) Ok ve yay başlıca silahlarındandır.
- B) Günümüz ordu sistemleri ile benzerlikleri vardır.
- C) Ordu onluk sistem üzerine kurulmuştur.
- D) Turan taktiğini kullanmışlardır.

5. Eski Türklerin yönetim sistemi ile ilgili aşağıda verilen bilgilerden hangisi doğru değildir?

- A) Hükümdarın tanrıdan kut alması
- B) Halkın yönetimde söz sahibi olması
- C) Ülkenin doğu ve batı olmak üzere ikiye ayrılması
- D) Kurultay adı verilen bir danışma meclisinin bulunması

6. İpek Yolu doğuda Çin'i, Asya üzerinden Anadolu ve Avrupa'ya bağlayan tarihî kervan yoludur. Çoğunlukla ipek ve ipekli kumaş taşındığı için 1870 yılında bu yola "İpek Yolu" adı konulmuştur. İpek Yolu toplumlar arasında etkileşimlere neden olmuş bir ticaret yoludur.

Verilen metinde aşağıdaki sorulardan hangisinin cevabına ulaşamaz?

- A) Bu yol ne zaman kullanılmaya başlanmıştır?
- B) İpek Yolu'nda daha çok hangi ürün taşınmaktadır?
- C) İpek Yolu nerede başlayıp nerede bitmiştir?
- D) Bu yola İpek Yolu denilmesinin sebebi nedir?

7. Aşağıdakilerden hangisi Hun İmparatoru Mete Han'ın Türkler arasında birlik ve beraberliği sağladığını gösterir?

- A) Çin'i baskı altında tutup vergiye bağlaması
- B) Türk boylarını bir bayrak altında toplaması
- C) İpek Yolu'nu kontrol altına alması
- D) Hun ordusunu onluk sisteme göre düzenlemesi

8. Mete Han Asya Hun Devleti'nin başında iken, Çin'deki iç karışıklıklardan da yararlanarak yaptığı seferlerde Çin'i mağlup edip vergiye bağlamış, İpek Yolu'nun denetimini ele geçirmiştir.

Bu bilgidен hareketle aşağıdaki ifadelerden hangisine ulaşamaz?

- A) Asya Hun Devleti ekonomik bir kazanç sağlamıştır.
- B) Asya Hun Devleti Çin'e siyasi üstünlüğünü kabul ettirmiştir.
- C) Çinliler Türklerle bir daha mücadeleye girememişlerdir.
- D) Mete Han, Çin'in içinde bulunduğu karışık durumdan yararlanmıştır.

9. Orta Asya Türk toplumlarında askerlik bir meslek olmaktan çok savaşa her an hazır olunan normal bir yaşam biçimi olarak görülürdü. Diğer toplumlar Türkler için "Ordu Millet" tanımlaması yapmıştır.

Verilen bilgiye göre, Türk ordu teşkilatı ile ilgili aşağıdakilerden hangisi söylenemez?

- A) Askerlik toplumsal bir görevdir.
- B) Türklerde ordu millet anlayışı yerleşmiştir.
- C) Türkler toplum olarak her an savaşa hazırdır.
- D) Türklerde sadece erkekler savaşa katılabilir.

10. Aşağıdakilerden hangisi Dört Halife Dönemi'nin özelliklerinden biri değildir?

- A) Halifelerin seçim yoluyla belirlenmesi
- B) Devlet örgütlenmesinin oluşturulması
- C) Bütün müslümanların eşit kabul edilmesi
- D) Devlete ait resmî para kullanılması

11. Hz. Ömer Dönemi'nde;

- Ülkenin illere ayrılarak uzak illere valiler atanması,
- Merkeze uzak şehirlere ordugâhlar kurulması

düzenlemelerinin yapılmasında aşağıdakilerden hangisinin etkili olduğu söylenebilir?

- A) Sınırların genişlemesinin
- B) Medine'nin başkent olmasının
- C) Fetihlerin duraklamasının
- D) Toplumsal dayanışmanın artmasının

12. Hz. Osman Dönemi'nde;

- I. Kıbrıs'ın fethedilmesi,
- II. Kur'an-ı Kerim'in çoğaltılması,
- III. İran'ın fethinin tamamlanması

gelişmelerinden hangileri İslam Devleti'nin denizcilik faaliyetleri ile ilgilendiğini kanıtlar?

- A) Yalnız I.
- B) Yalnız II.
- C) Yalnız III.
- D) I ve III.



Kültür ve Miras - 3

1. Aşağıdakilerden hangisi “Hz. Muhammed’in 622 yılında Mekke’den Medine’ye hicret etme” nedenleri arasındadır?

- A) Mekke’de can güvenliğinin tehdit edilmesi
- B) Medine’ye gidip devlet başkanı olmak istemesi
- C) Medine’de sadece müslümanların yaşıyor olması
- D) Medine şehrinde ticaretin canlı olması

2. Emeviler Dönemi’ndeki aşağıdaki uygulamalardan hangisi halifelüğün saltanata dönüştürüldüğünün göstergesidir?

- A) Arapçayı resmi dil ilan etmeleri
- B) Muaviye’nin oğlu Yezid’i halife ilan etmesi
- C) İslam Devletini en geniş sınırlarına ulaştırmaları
- D) Müslümanlara karşı ırkçı bir yaklaşım içinde olmaları

3. Abbasiler Dönemi’nde İslamiyet, Türkler arasında hızlı bir şekilde yayılma olanağı bulmuştur.

Bu durumun oluşmasında;

- I. Talas Savaşı’nda Türklerin Abbasilere yardım etmeleri,
- II. İki toplumun birbiri ile iyi ilişkiler içinde olmaları,
- III. Abbasilerin hoşgörülü bir siyaset izlemeleri

gelişmelerinden hangileri etkili olmuştur?

- A) I ve II.
- B) I ve III.
- C) II ve III.
- D) I, II ve III.

4. Aşağıdakilerden hangisi Türklerin İslamiyet’i kabulünü kolaylaştıran etkenlerden biri değildir?

- A) Ahlak kurallarının İslamiyet ile olan benzerliği
- B) Türklerin bilimsel faaliyetlerle ilgilenmeleri
- C) Gök Tanrı inancı ile İslamiyet arasındaki benzerlik
- D) İslamiyet’in hoşgörülü bir din olması

5. Aşağıdakilerden hangisi, Türklerin İslamiyet’i benimsedikten sonra İslam dünyasının koruyuculuğunu üstlenmesine örnek olarak gösterilemez?

- A) İkili devlet teşkilatını kullanmaları
- B) Abbasi Halifesini baskılara karşı korumaları
- C) Anadolu’yu Haçlılara karşı savunmaları
- D) Bizans’ın İslam dünyası üzerindeki baskısını engellemeleri

6. Aşağıdakilerden hangisi Abbasiler ile Emeviler arasındaki farklardan biridir?

- A) İslam devletidir.
- B) Fetih hareketlerinde bulunmuşlardır.
- C) Devlet hizmetinde Türklere görev vermişlerdir.
- D) İslamiyet’i geniş alanlara yaymak istemişlerdir.

Kültür ve Miras - 3

7.



Yaptığım fetih ve gazalarla devletimin sınırlarını genişlettim. Ülkeme göç eden Türk boylarının Anadolu'ya yerleşmesini sağladım.

Buna göre Tuğrul Bey'in asıl amacı aşağıdakilerden hangisidir?

- A) Anadolu'da ticareti canlandırmak
- B) Anadolu'yu bilim merkezi hâline getirmek
- C) Abbasi Devleti'ne yardım etmek
- D) Anadolu'nun Türkleşmesini sağlamak

8. Aşağıdakilerden hangisi Gazneli Sultan Mahmut'un eğitim ve bilime önem verdiğini gösterir?

- A) Şehirlere kadılar atayıp yargı işlerini düzenlemesi
- B) Âlim, şair ve sanatçıları sarayında toplaması
- C) Hindistan'a seferler düzenlemesi
- D) Abbasi Halifesi'nden "Sultan" unvanını alması

9. Aşağıdakilerden hangisi Türkiye Selçuklu Devleti'nin ticarete önem verdiklerinin göstergesidir?

- A) Medreseler açmaları
- B) Kervansaraylar yapmaları
- C) Moğollara karşı mücadele etmeleri
- D) Şehirlerin etrafını surlarla çevirmeleri

10. Haçlı Seferlerinin sonucunda matbaa, kağıt, pusula ve barut Avrupa'ya götürülmüştür.

Bu durumun aşağıdakilerden hangisine ortam hazırladığı söylenebilir?

- A) Avrupa'da düşünce, bilim ve sanatta ilerlemeler yaşanmasına
- B) Kilise ve din adamlarına duyulan güvenin artmasına
- C) Merkezi krallıkların güçlerini kaybetmeye başlamasına
- D) Doğu ve Batı arasındaki ticari faaliyetlerin azalmasına

11. 1243 Köse Dağı Savaşı'nda Türkiye Selçuklu Devleti'nin Moğollara yenilmesi sonucunda Anadolu'da Türk beylikleri tekrar ortaya çıkmıştır.

Bu durum aşağıdakilerden hangisinin göstergesidir?

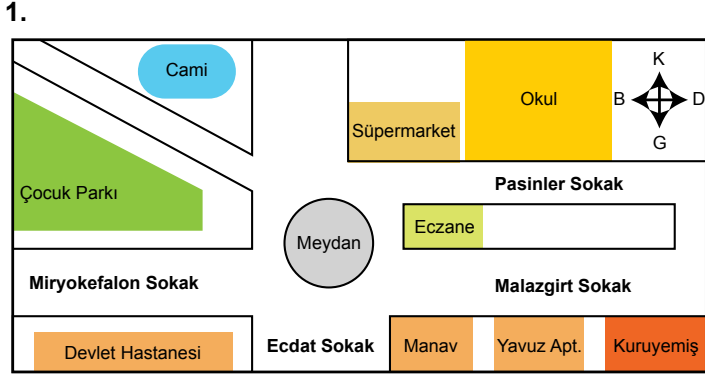
- A) Anadolu'da Türk birliğinin bozulduğunun
- B) Anadolu'nun Türkleşmeye başladığının
- C) Merkezi otoritenin güçlendiğinin
- D) Anadolu'nun kesin bir Türk yurdu olduğunun

12. Aşağıdakilerden hangisi tarihî İpek Yolu için söylenemez?

- A) İpek Yolu Çin'den başlayıp Avrupa'ya uzanan ticaret yoludur.
- B) İpek Yolu yalnızca ipekli kumaşların taşındığı ticaret yoludur.
- C) Türk-Çin mücadelesinin nedenlerinden biridir.
- D) Doğu ile batı arasında bir kültür köprüsü olmuştur.



Yeryüzünde Yaşam - 1



Krokiye göre eczanenin bulunduğu coğrafi konum ile ilgili aşağıdakilerden hangisi yanlıştır?

- A) Manavın kuzeyindedir.
- B) Çocuk parkının doğusundadır.
- C) Süpermarketin güneyindedir.
- D) Devlet hastanesinin batısındadır.

2. Bir yerin mutlak (matematik) konum özellikleri paralel ve meridyen dereceleri dikkate alınarak belirlenir.

Buna göre Türkiye'nin aşağıdaki özelliklerinden hangisi mutlak konum ile ilgili değildir?

- A) Ekvatorun kuzeyinde yer alması
- B) Başlangıç meridyeninin doğusunda yer alması
- C) Asya ve Avrupa kıtaları arasında yer alması
- D) Güney kıyılarının kuzey kıyılarından daha sıcak olması

3. • Yağışların fazla olması pirinç üretimini kolaylaştırır.
• Mobilya ve gemi yapımında teak adı verilen ağaçlardan faydalanılır.

Yukarıda bilgi verilen iklim tipi aşağıdakilerden hangisidir?

- A) Ekvatorial iklim
- B) Muson iklimi
- C) Akdeniz iklimi
- D) Kutup iklimi

4. Dünya üzerindeki herhangi bir yerin; kıtalara, okyanuslara, denizlere, önemli geçit ve boğazlara, ticaret ve su yollarına, önemli madenlere ve kentlere uzaklığı, yükseltisi ve yer şekilleri gibi özellikleri o yerin göreceli (özel) konumunu belirler.

Buna göre aşağıdakilerden hangisi Türkiye'nin göreceli konumunun sonuçlarından biri değildir?

- A) Üç tarafının denizlerle çevrili olması
- B) Ortalama yükseltisinin fazla olması
- C) Yer altı kaynakları bakımından zengin olması
- D) Güneyden kuzeye sıcaklık değerlerinin azalması

5. **Meridyen ve paraleller ile ilgili, aşağıda verilen bilgilerden hangisi yanlıştır?**

- A) Başlangıç meridyeni Greenwich'ten geçmektedir.
- B) Ekvator Dünya'yı Kuzey ve Güney Yarım Küre olarak ikiye ayırır.
- C) Paralel dairelerin çevre uzunlukları her yerde aynıdır.
- D) Meridyen yayları Ekvatoru dik olarak keser.

6. **Türkiye 36° – 42° kuzey paralelleri arasında yer alır. Bu bilgiden hareketle Türkiye'nin konumu ile ilgili hangisi söylenemez?**

- A) Türkiye Kuzey Yarım Küre'de yer alır.
- B) Türkiye'nin en kuzeyinde 42° kuzey paraleli bulunur.
- C) Türkiye'nin en güneyinde 36° kuzey paraleli bulunur.
- D) Türkiye Güney Kutup Noktası'na, Kuzey Kutup Noktası'ndan daha yakındır.

Yeryüzünde Yaşam – 2

1.



Türkiye fiziki haritasından yararlanılarak aşağıdaki-lerden hangisine ulaşılır?

- A) Yükselti basamaklarına
- B) Yeraltı kaynaklarına
- C) Nüfus yoğunluğuna
- D) Turizm bölgelerine

2. Özel konum: Bir yerin okyanuslara, denizlere, boğazlara ve komşu ülkelere, yükselti ve yer şekillerine, yer altı ve yerüstü zenginliklerine göre konumudur.

Buna göre aşağıdakilerden hangisini Türkiye'nin özel konumuyla ilgili değildir?

- A) Farklı iklimlerin görülmesi
- B) Üç tarafının denizlerle çevrili olması
- C) Kuzeyden, güneye gidildikçe sıcaklığın artması
- D) Petrol ve doğalgaz zengini ülkelere komşu olması

3. Aşağıdakilerden hangisi kutup ikliminin özelliklerinden biri değildir?

- A) Hava sıcaklığı yıl boyu 0°C'nin altındadır.
- B) Temel geçim kaynakları tarım ve hayvancılıktır.
- C) Eskimolar Kutup ikliminin görüldüğü yerlerde yaşarlar.
- D) Köpeklerin çektiği kızaklar önemli ulaşım aracıdır.

4.



Yukarıda verilen Türkiye haritası üzerinde gösterilen iklim tiplerine ait doğal bitki örtüsü sırası ile aşağıdakilerden hangisidir?

KARADENİZ	KARASAL	AKDENİZ
A) Bozkır	Maki	Orman
B) Orman	Bozkır	Maki
C) Maki	Orman	Bozkır
D) Orman	Maki	Bozkır

5.

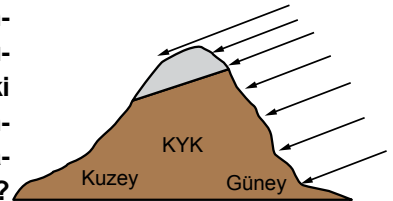


Ben Erzurum'un ilçesi olan Oltu'da yaşıyorum. Kışları çok soğuk geçtiğinden, İzmir'deki dedemin yanına gidiyorum. Burada kışlar daha ılık geçiyor. Hatta bazen küçük bir ısıtıcı ile kışı geçirdiğimiz oluyor.

Erzurum ve İzmir arasındaki sıcaklık farkı aşağıdaki-lerden hangisiyle açıklanabilir?

- A) İzmir'in Erzurum'a göre daha batıda olması
- B) İki şehrin arasında uzun mesafenin bulunması
- C) Erzurum'un yükseltisinin İzmir'den fazla olması
- D) İki şehrin enlem derecesinin birbirine yakın olması

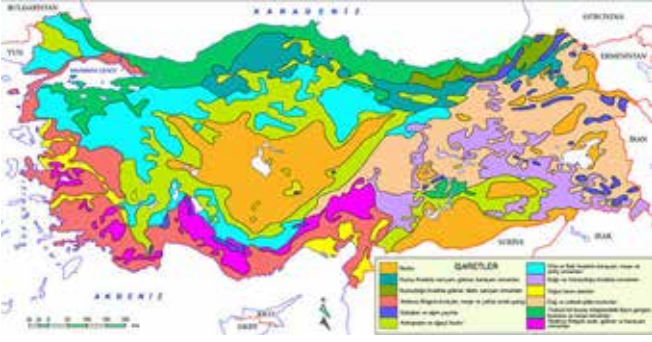
6. Türkiye'de bulunan bir dağın güney yamacındaki bir köyün sıcaklığı-nın kuzey yamacındaki köye göre fazla olmasın-da etkili olan faktör aşağıdakilerden hangisidir?



- A) Enlem
- B) Bakı
- C) Yükselti
- D) Rüzgâr

Yeryüzünde Yaşam – 2

7. Aşağıdaki haritada Türkiye'deki bitki örtüsü gösterilmektedir.



Türkiye'deki bitki örtüsünün çeşitli olmasının temel nedeni aşağıdakilerden hangisidir?

- A) Dağların Doğu-batı yönüne uzanması
B) Yükseltisinin fazla olması
C) Üç kıta arasında olması
D) İkliminin çeşitli olması

8. Türkiye'ye araştırma için gelen bir grup öğrenci Türkiye ile Yunanistan'ın bitki örtüsünün büyük oranda benzer olduğunu görmüştür.

Buna göre iki ülkenin hangi bakımdan benzer olduğu söylenebilir?

- A) Ülkelerin kapladığı alan
B) İklim özellikleri
C) Yer şekilleri
D) Ekonomi

9. Ülkemizde görülen Akdeniz ikliminin özellikleri şunlardır;

- Yazlar sıcak ve kuraktır.
- Kışlar ılık ve yağışlıdır.

Buna göre Akdeniz ikliminin hakim olduğu kıyı bölgelerde aşağıdaki faaliyetlerden hangisinin gelişmesi beklenemez?

- A) Yaz turizmi
B) Kış turizmi
C) Seracılık
D) Tarım

10. Türkiye'de yaz mevsiminin kurak geçtiği ve kış mevsiminin soğuk ve karlı olduğu iklimlerde tahıl üretimi yapılmaktadır.

Bu iklim türünde aşağıdaki fabrikalardan hangisinin kurulması daha uygundur?

- A) Meyve suyu Fabrikası
B) Zeytinyağı Fabrikası
C) Çay Fabrikası
D) Un Fabrikası

11. • Artvin, Kastamonu, Diyarbakır ve Elazığ illerinde rezervleri bulunmaktadır.
• Kolay işlenebildiği ve iletken olduğu için yaygın bir kullanım alanına sahiptir.
• Elektrik ve elektronik alanında, süs eşya yapımında kullanılmaktadır.

Yukarıda bazı özellikleri verilen maden hangisidir?

- A) Bor
B) Bakır
C) Linyit
D) Boksit

12. Akarsular üzerine yapılan barajlar sayesinde elektrik enerjisi elde etmek mümkündür. Fakat bunun için akarsuların bazı özelliklere sahip olması gerekir.

Buna göre aşağıdaki özelliklerden hangisine sahip olan akarsu elektrik üretimine daha uygundur?

- A) Denize dökülen
B) Uzunluğu kısa olan
C) Akış hızlı fazla olan
D) Tarımsal sulama için kullanılan



Bilim, Teknoloji ve Toplum - 1

1. I. Toplumsal olaylar
II. Toplumun yaşam biçimi
III. İnsan vücudunun yapısı
IV. Toplumlararası kültürel etkileşimler
- verilenlerden hangileri sosyal bilimlerin inceleme alanına girmektedir?**

A) Yalnız II. B) I ve III.
C) I ve IV. D) I, II ve IV.

2. Teknolojik alandaki gelişmeler insan hayatını kolaylaştırırken bazı durumlarda insan sağlığını olumsuz etkilemektedir.

Aşağıdakilerden hangisi bu duruma örnek olarak gösterilebilir?

- A) Sanayileşme sonucu solunum sistemi hastalıklarının artması
B) Sanayileşme sonucu insan gücünü aşan işlerin yapılabilmesi
C) Ulaşımındaki gelişmeler sayesinde zaman kaybının aza indirilmesi
D) Hızlı iletişim ve haberleşme sayesinde anında haber alınabilmesi

3. Bahriye Öğretmen, Sosyal Bilgiler dersinde “Eski Kültür ve Uygarlıkları” konusunu işlemiştir. Bu konuyla alakalı sınıfa eski uygarlıklardan kalan alet, malzeme, ev eşyası gibi maddi kalıntıları getirmiştir.

Buna göre Bahriye Öğretmen hangi bilim dalının verilerinden yararlanmıştır?

- A) Arkeoloji
B) Ekonomi
C) Coğrafya
D) Hukuk

4. Teknoloji kullanımının sosyalleşme ve toplumsal ilişkiler üzerinde birçok olumlu etkisi vardır.

Buna göre aşağıdakilerden hangisi bu olumlu etkilerden biri değildir?

- A) Geniş insan kitlelerine daha kolay ulaşılması
B) Duygu ve düşüncelerin paylaşımını kolaylaştırması
C) Kolay bir şekilde bilgi alışverişi yapılması
D) Daha güçlü insan ilişkilerinin kurulması

5. • Fransız bilim insanları ikiye kesilse bile kendini onarabilen bir materyal geliştirdiler.
• Bilim insanları uzaktan bakıldığında sadece bir kağıt parçasına benzeyen bir pil geliştirdiler.
• Bilim insanları tarafından karanlıkta yol gösteren halılar üretili.

Bu gelişmeler dikkate alındığında bilim ve teknolojinin getirdiği yeniliklerin insan hayatına katkıları arasında aşağıdakilerden hangisi yer almaz?

- A) İnsan yaşamını kolaylaştırması
B) Zamanın daha verimli kullanılmasını sağlaması
C) İnsan ilişkilerinin zayıflaması
D) Sağlık alanında gelişmelerle insan yaşamının uzaması

- 6.

Dünyanın ve yaşamın insani ve toplumsal yönlerini inceleyen bilimlere sosyal bilimler adı verilmektedir. Sosyal bilimler insanların toplumsal ve kültürel olarak yapmış oldukları faaliyetleri inceler.

Buna göre aşağıdakilerden hangisi sosyal bilim dallarından biri değildir?

- A) Tarih B) Biyoloji
C) Sosyoloji D) Coğrafya

Bilim, Teknoloji ve Toplum - 1

7.



Geçmişte yaşamış insanların günlük hayatta kullandıkları eşyaları ve yapı kalıntılarını araştırarak insan yaşantısı ile ilgili bilgilere ulaşmak istiyorum.

Yukarıda verilen öğrencinin çalışmayı istediği sosyal bilim dalı aşağıdakilerden hangisidir?

- A) Coğrafya B) Ekonomi
C) Psikoloji D) Arkeoloji

8. Günümüzde insan hayatını kolaylaştıran birçok teknolojik gelişme yaşanmaktadır.

Aşağıdaki teknolojik gelişmelerden hangisinin gelecekte insan yaşamı daha az etkileyeceği söylenebilir?

- A) Bilgisayar B) Telgraf
C) Cep telefonu D) Yapay zekâ

9.

Etrafımızda görmediğimiz ama sürekli nefes aldığımız bir hava var. Bu hava ısınmaya başladı. Havanın ısınmasıyla da, dünya ısınmaya başladı. Hasta olup da ateşimiz çıktığında kendimizi iyi hissetmeyiz, öyle değil mi? İşte dünya da şimdi kendisini iyi hissetmiyor. Hasta olup ateşimiz çıktığında buna sebep olan mikroplardan kurtulmaya çalışırız. Dünyanın da ısınmasına sebep olan nedenlerden kurtulup iyileşmesi gerekmektedir.

Metinde anlatılan durum aşağıdaki sosyal bilim dallarından hangisinin çalışma alanına girmektedir?

- A) Coğrafya B) Tarih
C) Tıp D) Psikoloji

10. Bir tıp fakültesinde çalışan başhemşire "Stomakit" adlı bir ürün meydana getirmiştir.

Bulduğu ürünü koruması için hemşirenin yapması gereken aşağıdakilerden hangisidir?

- A) Kültür Bakanlığına başvurmalıdır.
B) Ürünün patent hakkını almalıdır.
C) Korsan olarak çoğaltmalıdır.
D) Ürünün telif hakkını almalıdır.

11. Aşağıdakilerden hangisi korsan ürünlerle ilgilidir?

- A) Telif hakkı alınmış ürünlerdir.
B) Üzerlerinde Kültür Bakanlığı bandrolü vardır.
C) Ürünlerin vergisi devlete ödenmiştir.
D) Başkalarının ürünlerini izni olmadan yasa dışı yollarla kopyalanmasıdır.

12. Ürünlere telif ve patent hakkının verilmesinin yararları arasında aşağıdakilerden hangisi yoktur?

- A) Ürün sahiplerinin emeğinin karşılığını alması
B) Devletin vergi gelirlerinin zarara uğramaması
C) Ürünlerin kullanım tarihlerinin kısıtlanması
D) Yeni ürünlerin ortaya çıkması için teşvik edilmesi



Bilim, Teknoloji ve Toplum - 2

1. Aşağıdaki görsellerden hangisi ürünlerin üzerindeki telif hakkı sembolüdür?



2. Gazi Mustafa Kemal yorulmaz bir okuyucu, büyük bir arayıcı, yüksek bir tenkitçi ve derin bir gözlemcidir.”

(Hasan Cemil Çambel)

Buna göre Atatürk ile ilgili aşağıdakilerden hangisi söylenemez?

- A) Araştırmacıdır.
B) Okumayı sever.
C) Bilgileri olduğu gibi kabul eder.
D) Olayları iyi gözlemler.

3. Bir ürünün piyasaya korsan olarak çıkarılması aşağıdakilerden hangisine neden olur?

- A) Eser sahibinin emeğinin karşılığını alamamasına
B) Sanat adamlarının çoğalmasına
C) Yeni eserlerin teşvikine
D) Devlete verilecek verginin artmasına

4. Atatürk, bilim ve teknolojinin toplumsal gelişim için önemli olduğunu vurgulamıştır. Bilimsel düşünme becerisinin halk içinde yayılması için çaba harcamış ve bu doğrultuda sosyal bilimlere başta olmak üzere sağlık ve teknoloji alanlarında çeşitli kurumlar açtırmıştır.

Buna göre aşağıdakilerden hangisi Atatürk Dönemi'nde bu doğrultuda açılan kurumlardan biri değildir?

- A) Türk Tarih Kurumu
B) Ankara Dil, Tarih Fakültesi
C) Türk Dil Kurumu
D) Teknoparklar

5. Ceren ve arkadaşları araştırma için kütüphaneye gitmişler burada ulaştıkları bilgileri not almış, yaptıkları alıntılarını tırnak (" ") içinde kullanmışlar ve notların altına da konunun adı, yazarın adı, kitabın adı, cilt ve sayfa numaraları ve basım yılını yazmışlardır.

Buna göre Ceren ve arkadaşları aşağıdakilerden hangisine dikkat etmişlerdir?

- A) İnsan Hakları Sözleşmesine
B) Telif ve Patent Hakkına
C) Düşünce ve Hürriyet Hakkına
D) Basın Hakkına

6. • Bilim ve sanat dallarında ortaya çıkan yeni kavramların Türkçe karşılıklarını bulmaktır.
• Türkçe'yi yabancı kelimelerin boyunduruğundan kurtarmaktır.

Sözü edilen amaçları gerçekleştirmek için Atatürk tarafından kurulan kurum aşağıdakilerden hangisidir?

- A) Türk Tarih Kurumu
B) Dil ve Tarih-Coğrafya Fakültesi
C) Türk Dil Kurumu
D) Maden Tetkik Arama

Bilim, Teknoloji ve Toplum - 2

7. Sosyal bilimler, toplum olaylarını, insanın sosyal ve kültürel faaliyetleri konusunda araştırma ve inceleme yapan bilim dallarını kapsar. Her sosyal bilim dalı insan yaşamının farklı bir alanını inceler.

Buna göre aşağıdaki bilim dallarından hangisi sosyal bilimler arasında sayılır?

- A) Matematik B) Fizik
C) Kimya D) Tarih

8. Bir bilim insanı araştırma basamaklarını kullanarak bir araştırma yapacaktır. Bu doğrultuda çalışmalara başlamış fakat planlanan araştırmanın aşamalarının hangi tarihler arasında tamamlanacağını belirleyememiştir.

Buna göre araştırma basamaklarından hangisinde sıkıntı yaşamıştır?

- A) İlgi ve yeteneğe göre konuyu belirlemesi
B) Problemin ortaya konması
C) Sürenin belirlenmesi
D) Mevcut bilgi birikimini derlemesi

9.

Dünyada her şey için; uygarlık için, hayat için, başarı için en hakiki mürşit ilimdir; fendir.

Mustafa Kemal ATATÜRK

Bu sözle Atatürk aşağıdakilerden hangisinin önemini vurgulamıştır?

- A) Sporun B) Siyasetin
C) Bilimin D) Ordunun

10. Son yıllarda bilim ve teknoloji alanında meydana gelen devrimsel gelişmeler her alanda olduğu gibi tıp alanında da kendini göstermiştir. Böylece birçok amansız hastalık karşısında ümit veren gelişmeler yaşanmıştır.

Buna göre tıp alanında meydana gelen teknolojik gelişmelerle, aşağıdakilerden hangisinin gerçekleşmesi beklenmez?

- A) Hastanelere ihtiyacın kalmaması
B) Yapay kalp nakli yapılması
C) Kanserin tedavi edilmesi
D) İnsan ömrünün uzaması

11. Amerika'da bir üniversite öğrencisi internette müzik dosyası indirdiği ve bunu paylaştığı için dört plak şirketine 675 bin dolar ödemeye mahkûm edildi.

Buna göre üniversite öğrencisi hangi hakkı ihlal ettiği için ceza ödemek zorunda kalmıştır?

- A) İnsan haklarını
B) Telif ve patent hakkını
C) Haberleşme hakkını
D) Fikir hürriyeti hakkını

12. Aşağıda verilen tıp alanındaki gelişmelerden hangisinin toplumsal dayanışmaya katkı sağladığı söylenebilir?

- A) Açık kalp ameliyatlarının yapılması
B) Kan bağıışı kampanyasının düzenlenmesi
C) Lazer ile gözlük kullanımının azalması
D) Şeker hastaları için insülin üretilmesi



Üretim, Dağıtım ve Tüketim - 1

1. Türkiye’de ormancılık faaliyetlerinin çoğunlukla kıyı bölgelerde yapılmasının temel nedeni aşağıdakilerden hangisidir?

A) Kıyı bölgelerde sanayi faaliyetlerinin gelişmesi
B) Kıyı bölgelerde nem ve yağış miktarının fazla olması
C) Kıyı bölgelerde yaşayan insanların temel ekonomik faaliyet olarak ormancılığı kabul etmesi
D) Kıyı bölgelerde turizm faaliyetlerinin yaygın bir şekilde yapılması

2. Yer şekilleri ve iklim özellikleri sebebiyle Doğu Anadolu Bölgesi’nde tarımsal üretim azdır. Bunun yerine insanlar genellikle büyükbaş hayvancılık yapmaktadırlar.

Buna göre Doğu Anadolu Bölgesi’nde aşağıda verilen sanayi dallarından hangisi daha gelişmiştir?

A) Otomotiv
B) Konserve
C) Meyve suyu
D) Et ve süt ürünleri

3. Bir iş adamı olan Ali Bey, Konya’da un fabrikası kurmaya karar verir.

Ali Bey’in un fabrikası kurmak için Konya’yı tercih etmesinin temel nedeni aşağıdakilerden hangisidir?

A) Hammadde yönünden zengin olması
B) Ulaşım imkanlarının gelişmiş olması
C) Nitelikli insan gücünün var olması
D) Pazarlama imkânlarının uygun olması

4. “Yaşadığım şehirde ormanlar geniş yer tutuyor. Arazilerimiz çok geniş ve verimlidir. Ayrıca deniz kenarında bulunan şehrimizin iklimi ılıman, yazları sıcak ve uzun geçer.”

Bu bilgiler doğrultusunda bu şehir ile ilgili aşağıdaki yorumlardan hangisi yapılamaz?

A) Ormancılık faaliyetlerine uygundur.
B) Deniz turizmi yapılabilir.
C) Tarımsal üretim yapılır.
D) Maden üretimi fazladır.

5. Enerji kaynaklarından bir kısmının doğada varlığı sona ermez. Bu kaynaklara yenilebilir enerji kaynakları denir.

Buna göre aşağıdakilerden hangisi yenilenebilir bir enerji kaynağı değildir?

A) Rüzgar
B) Biyoenerji
C) Jeotermal
D) Doğalgaz

6. Su gücüyle üretilen elektrik enerjisine hidroelektrik enerji denir. Hidro enerji, işleyiş olarak öncelikle büyük miktarlardaki suyun belirlenmiş bir yükseklikten salıverilmesiyle oluşan enerjinin türbin kullanılarak mekanik enerjiye dönüştürülmesi esasına dayanır.

Buna göre aşağıdaki bölgelerden hangisinin akarsuları hidroelektrik santral kurmak için daha uygundur?

A) İç Anadolu Bölgesi
B) Doğu Anadolu Bölgesi
C) Ege Bölgesi
D) Marmara Bölgesi

Üretim, Dağıtım ve Tüketim - 1

7. Hızlı koşamayan birinin atlet olmasını bekleyemeyiz. Fen bilimleri dersini sevmeyen birinin biyolog olması ise çok kolay olmaz.

Bu bilgiye göre meslek seçiminde;

- I. İlgi,
- II. Yetenek,
- III. Çevre

unsurlarından hangilerinin etkili olduğu söylenebilir?

- A) Yalnız I.
- B) Yalnız II.
- C) I ve II.
- D) I, II ve III.

8. Ülkemizin tuz ihtiyacının önemli bir kısmının sağlandığı Tuz Gölü'nde, gölü besleyen derelerin suyuna karışan atıklar ve kirli sular nedeni ile yapısal bozukluklarla karşılaşmaktadır. Gölü besleyen derelerin ve yer altı sularının sulama amacı ile kullanılması sonucu göl kurumaya başlayarak zamanla küçülmüştür.


Metne göre Tuz Gölü ile ilgili aşağıdakilerden hangisi söylenemez?

- A) Ülkemizin önemli tuz kaynaklarından biridir.
- B) Zamanla kuruyarak küçülmeye başlamıştır.
- C) Türkiye'nin en büyük ikinci gölüdür.
- D) Bilinçsiz uygulamalar yüzünden göl kurumaya yüz tutmuştur.

9. Aşağıdaki ekonomik faaliyetlerden hangisinin küresel ısınma üzerindeki etkisi daha fazladır?



Tarım



Sanayi



Madencilik



Turizm

10. Hayat kaynaklarımızdan biri olan toprak; tarım ve hayvancılık faaliyetlerinin vazgeçilmez kaynaklarından biri olduğu gibi, sanayide de ham madde olarak kullanılmaktadır.

Aşağıdakilerden hangisinin üretiminde toprak ham madde olarak kullanılmaz?

- A) Mobilya
- B) Çimento
- C) Fayans
- D) Kiremit

11. • Erozyon,
• Küresel Isınma,
• Hava kirliliği

gibi çevre sorunlarının sebepleri aşağıdakilerden hangisi olamaz?

- A) Ormanların tahrip edilmesi
- B) Sanayi tesislerinin denetlenmemesi
- C) Yer kabuğunu oluşturan levhaların hareketleri
- D) Yenilenemeyen enerji kaynaklarının bilinçsizce tüketilmesi

12. Nüfus artışı ile birlikte kişi başına düşen temiz su ihtiyacı artmaktadır. Bu nedenle temiz su tüketirken dikkat edilmeli, su olabildiğince tasarruflu kullanılmalıdır.

Buna göre aşağıdakilerden hangisi su kaynaklarında tasarruf tedbirlerinden biri değildir?

- A) Bulaşıkları elde yıkamak
- B) Evdeki bozuk muslukları tamir etmek
- C) Tıraş olurken, diş fırçalarken muslukları kapatmak
- D) Çamaşır makinesini tam doldurmadan çalıştırmamak



Üretim, Dağıtım ve Tüketim - 2

1. Türkiye toprak tipleri, tarım ürünleri ve bitki örtüsü çeşitliliği açısından oldukça zengindir.

Bu durumun temel sebebi aşağıdakilerden hangisidir?

- A) Farklı iklim tiplerinin görülmesi
B) Yağış miktarının fazla olması
C) Yıllık sıcaklık farklarının az olması
D) Arazinin engebeli olması

2. Dünyanın en hızlı akan nehirlerinden biri olan Çoruh Nehri'nde rafting ve kano gibi su sporlarının yapılabilmesinin temel nedeni nedir?

- A) Akarsu yatağının geniş olması
B) Akarsu eğiminin fazla olması
C) Taşıdığı su miktarının çok olması
D) Kar erimeleriyle beslenmesi

3.

- Geleceğin petrolü olarak adlandırılmaktadır.
- Dünya'da var olan rezerv miktarının %65'i Türkiye'de bulunmaktadır.
- Kullanım alanı çok geniştir.
- Jet ve roket yakıtlarının yanında, kimya sanayisi, teknolojik araç ve gereçler ile kâğıt sanayisinde kullanılmaktadır.
- Ülkemizde Balıkesir ve Kütahya'da çıkarılmaktadır.







Öğretmen Dilek Hanım'ın özelliklerini belirttiği maden aşağıdakilerden hangisidir?

- A) Toryum
B) Kömür
C) Altın
D) Bor

4. Dört buçuk milyar yaşında olan Dünyamızda, geçmiş dönemlerden günümüze kadar fosil yakıtların kullanılması sonucu ortaya çıkan karbon gazı gibi zararlı gazların küresel ısınma, hava kirliliği ve çevre kirliliği gibi sorunlara neden olması sonucu günümüzde yeni enerji kaynaklarının kullanılması gündeme gelmiş buna bağlı olarak alternatif enerji kaynakları kullanılmaya başlanmıştır.

Aşağıdakilerden hangisi yukarıdaki metinde sözü edilen yeni enerji kaynaklarından biri değildir?

- A)  Rüzgâr enerjisi
B)  Güneş enerjisi
C)  Petrol
D)  Dalga enerjisi

5. Büyükbaş hayvancılığın yoğun olarak yapıldığı bir bölgede aşağıdaki üretim kollarından hangisine yönelik bir fabrikanın kurulması yatırım açısından isabetli olmaz?

- A) Et ve süt işleme tesisleri
B) Pamuklu dokuma fabrikaları
C) Deri giyim fabrikası
D) Hayvansal gıda tesisleri

6. Nitelikli eleman; iyi eğitim almış, kendini yetiştirmiş, alanında uzman olmuş, zihin gücüne dayalı işlerde çalışanlara denir.

Buna göre aşağıdakilerden hangisi nitelikli insanın özelliklerinden değildir?

- A) İşini iyi bir şekilde yapar.
B) Ülke ekonomisinin gelişmesine katkı sağlar.
C) Yeniliklere ve gelişmelere açıktır.
D) Enerji ve zamanı abartılı kullanır.

Üretim, Dağıtım ve Tüketim - 2**7. Meslek seçimi ile ilgili aşağıdakilerden hangisi doğru değildir?**

- A) Mesleğimizi seçerken ailemizin sözünün dışına çıkmamalıyız.
- B) İlgi, yetenek ve becerilerimize uygun meslekler seçmeliyiz.
- C) Seçmiş olduğumuz mesleğe yönelik iyi bir eğitim almamız.
- D) Hem kendimizi hem de seçeceğimiz mesleğin özelliklerini iyi tanımalıyız.

8. Vergi, devlet tarafından yapılan kamu hizmetlerinin maliyetlerini karşılamak amacıyla devlete kaynak oluşturması için alınan paradır. Vergilerin kimlerden ve ne kadar alınacağı kanunla belirlenir. Bir iş adamının, asgari ücretli bir işçinin veya bir kamu personelinin kazancı aynı olmayacağından devlete ödemeleri gereken vergiler ve miktarları da farklı olacaktır.

Buna göre aşağıdakilerden hangisi yanlıştır?

- A) Vergilerden elde edilen kazanç toplum yararı için kullanılır.
- B) Vergi vermek devlet hizmetleri ve ülke menfaatleri için çok önemlidir.
- C) Vergi belirli kurallara göre alınır.
- D) Herkesin ödediği vergi miktarı aynıdır.

9. Aşağıda ülkemizde tarımsal hammaddeye dayalı yapılabilecek yatırımlar verilmiştir. Bu yatırımlardan hangisi yapıldığı bölge ile yanlış eşleştirilmiştir?

- A) Adana - Tekstil fabrikası
- B) Diyarbakır - Çay fabrikası
- C) Aydın - Zeytinyağı fabrikası
- D) Konya - Şeker fabrikası

10. I. Vergi vermek vatandaşlık borcudur.
II. Vergiler yasalarla belirlenir, değiştirilir ve kaldırılabilir.
III. Kişilerin isteğine bağlı olarak alınır.

Vergi ile ilgili olarak yukarıda verilen bilgilerden hangisi doğrudur?

- A) Yalnız I.
- B) Yalnız III.
- C) I ve II.
- D) I, II ve III.

11. On bin yıllık bir kültür birikimine sahip Batman'da petrol yataklarının keşfedilmesi ve sonrasında kurulan petrol sanayi tesislerine paralel olarak artan yatırımlar insanların buraya göç etmesine neden olmuştur. Batman'a yapılan bu göç, beraberinde farklı ve zengin bir kültürü de getirmiştir. Güneydoğu Anadolu Bölgesi'nin tipik bir kenti olan Batman ve Batman'a bağlı yerleşim alanlarında görülmesi gereken çok sayıda tarihî ve turistik alanlarda vardır.

Metne göre Batman ilinin gelişmesinde ve göç almasında etkili olan en önemli faktör aşağıdakilerden hangisidir?

- A) Köklü bir kültür birikimine sahip olması
- B) Önemli bir yer altı kaynağının keşfedilmesi
- C) Zengin bir tarihi mirasa sahip olması
- D) Güneydoğu Anadolu Bölgesi'nde bulunması

12. Aşağıdaki verilen ekonomik faaliyetlerin yoğun olarak yapıldığı bölgeler, hangi seçenekte doğru eşleştirilmiştir?

	Sanayi	Turizm	Ormanlık
A)	Marmara	Akdeniz	Karadeniz
B)	Karadeniz	Akdeniz	Marmara
C)	İç Anadolu	Karadeniz	Akdeniz
D)	Akdeniz	Marmara	Karadeniz



Üretim, Dağıtım ve Tüketim - 3

1. Aşağıdakilerden hangisi ormanları korumak için alınması gereken tedbirlerinden biri değildir?

- A) Orman içi yangına müdahale yollarını açmak
- B) Ormanlar içindeki mesire alanlarını genişletmek
- C) Kaçak ağaç kesimi yapanlara ağır cezalar getirmek
- D) Yangınlarda yok olan ağaçların yerine yenilerini dikmek

2. Bir ülkede vergi gelirlerinin artması;

- I. sağlık hizmetleri,
- II. ekonomik büyüme,
- III. devlet yatırımları,

alanlarından hangilerini olumlu etkiler?

- A) I ve II.
- B) I ve III.
- C) II ve III.
- D) I, II ve III.

3. I. İlgi
II. Yetenek
III. Beceri

Meslek seçiminde yukarıda verilenlerden hangileri dikkate alınmalıdır?

- A) I ve II.
- B) I ve III.
- C) II ve III.
- D) I, II ve III.

4. Doğal kaynakların bilinçsizce tüketilmesi, aşırı avlanma, ormanların tahrip edilmesi, aşırı otlatma, sanayi tesislerinin denetlenmesi ve plansız kentleşme gibi etmenler doğal kaynakların yok olmasına sebep olmaktadır.

Bu durum aşağıdakilerden hangi soruna yol açmaz?

- A) Deprem
- B) Kuraklık
- C) Hava kirliliği
- D) Gıda yetersizliği

5.



Öğretmen Zeynep Hanım dersinde “Dünya Alarm Veriyor” konusunu işlerken tahtaya EROZYON kelimesini yazarak öğrencilerine “**erozyonun sonuçları nelerdir?**” sorusunu sormuştur.

Buna göre, aşağıda verilen öğrenci cevaplarından hangisi yanlıştır?

A)



Ahmet

Toprağın verimli olan üst tabakasını aşındırdığı için tarımsal üretimi olumsuz etkilemektedir.

B)



Ayşe

Taşınan toprak barajlara dolduğu için barajların kullanım ömrü kısalmaktadır.

C)



Fatih

Toprak aşındığı için bitki örtüsü daha güç çıkar.

D)



Gamze

Otlaklar zarar gördüğü için hayvancılık faaliyetlerini olumsuz yönde etkilemektedir.

Üretim, Dağıtım ve Tüketim - 3

6. GAP projesi ile meydana gelen değişimler aşağıda verilmiştir:

- Şanlıurfa, kısa zamanda pamuk üretiminde ülke birinci olmuştur.
- Proje ile yapılan barajlardan 7'si Türkiye'nin elektrik ihtiyacının üçte birini karşılamıştır.
- Bölgenin tarihi ve doğal güzelliklerinin fark edilmesini sağlamıştır.

Buna göre GAP projesinin etkisiyle gelişme gösteren ekonomik faaliyet türleri aşağıdakilerin hangisinde sırasıyla verilmiştir?

	I	II	III
A)	Tarım	Ulaşım	Enerji
B)	Sanayi	Enerji	Turizm
C)	Tarım	Enerji	Turizm
D)	Ulaşım	Sanayi	Eğitim

7. Devletin sağlık, güvenlik ve adalet gibi temel hizmetleri yerine getirmek için yaptığı harcamaların önemli bir kaynağı, topladığı vergilerdir.

Aşağıdakilerden hangisi devletin topladığı vergilerle yapılan hizmetler arasında değildir?

- Baraj yapılması
- Yolların yapılması
- Limanların yapılması
- Özel hastanelerin açılması

8. “Milli eğitim programımızın temel taşı, cahilliğin yok edilmesidir. Cahillik yok edilmedikçe yerimizdeyiz. Yerinde duran bir şey ise geriye gidiyor demektir. Bir taraftan genel olan cahilliği yok etmeye çalışmakla beraber, diğer taraftan toplumsal hayatta bizzat faal ve faydalı, verimli elemanlar yetiştirmek lazımdır. Bu da ilk ve orta öğretimin uygulamalı bir şekilde olmasıyla mümkündür.”

Mustafa Kemal Atatürk

Atatürk'ün, yukarıda verilen sözünde aşağıdaki insan özelliklerinden hangisi üzerinde durulmuştur?

- Gözlemci
- Nitelikli
- Hoşgörülü
- Demokratik

9.



Buse

- Müzik alanına ilğim ve yeteneğim var.
- Seslerin inceliklerini algılayabiliyorum.
- Müzik aleti kullanabiliyorum.
- Sesimi iyi bir şekilde kullanabiliyorum.

Buse'nin özellikleri dikkate alındığında, aşağıdaki mesleklerden hangisini seçmesi daha uygun olur?

- Mühendis
- Ressam
- Müzisyen
- Diş hekimi

10.

“....., devletin millet ve ülkeye karşı yerine getirmeye mecbur olduğu görevlerini yapabilmesi için gereken giderlere bireyin katılma payıdır.”

Mustafa Kemal Atatürk

Yukarıdaki cümlede, yer alan boşluk aşağıdakilerden hangisi ile doldurulmalıdır?

- Vergi
- Adalet
- Eğitim
- Askerlik

11. İnsanlar ihtiyaçlarını genellikle doğal kaynaklardan karşılar. Bitmeyecekmiş gibi görünen bu kaynaklar, insanların bilinçsizce kullanımı sonucu büyük zarar görmektedir.

Yukarıdaki bilgiye göre aşağıdaki doğal kaynaklardan hangisinin bu durumdan daha az zarar gördüğü söylenebilir?

- Ormanlar
- Güneş enerjisi
- Verimli araziler
- Doğal su kaynakları

12. Tarım ürünleri kimi zaman gıda, kimi zaman sanayide ham madde olarak kullanılmaktadır.

Dokuma sanayisinde ham madde olarak kullanılan tarım ürünü aşağıdakilerden hangisidir?

- Çay
- Mısır
- Pamuk
- Ayçiçeği



Etkin Vatandaşlık - 1

1. Osmanlı Devleti'nde başlayan anayasal gelişmeler sonucu, ilk defa 1876 yılında dönemin padişahı II. Abdülhamit tarafından ilan edilen yönetim biçimidir. Bu yönetim biçiminde hükümdarın yanında bir de meclis yer almaktadır.

Yukarıda özellikleri verilen yönetim şekli aşağıdakilerden hangisidir?

- A) Meşrutiyet
B) Cumhuriyet
C) Oligarşi
D) Monarşi

2.

Egemenlik Kayıtsız Şartsız Milletindir.

Mustafa Kemal ATATÜRK

Mustafa Kemal Atatürk'ün yukarıda verilen sözü aşağıdaki yönetim şekillerinden hangisi ile ilgilidir?

- A) Monarşi
B) Oligarşi
C) Cumhuriyet
D) Teokrasi

3. Aşağıdakilerden hangisi demokrasinin temel ilkelelerinden biri değildir?

- A) Milli egemenlik
B) İnsan haklarına saygı
C) Hukukun üstünlüğü
D) Belli bir zümrenin ayrıcalığı

4. Kişinin en temel ve doğal hakkı olup, ayrıca doğumla beraber sahip olduğu ilk hakkıdır. Bu hak yok edildiğinde diğer hakların ve özgürlüklerin hiçbir anlamı kalmamaktadır.

Yukarıda tanımlanan temel hak aşağıdakilerden hangisidir?

- A) Düşünce, Kanaat ve İfade Özgürlüğü Hakkı
B) Din ve Vicdan Özgürlüğü Hakkı
C) Mülkiyet Hakkı
D) Yaşama Hakkı

5. Nüfus Hizmetleri Kanunu

Nüfus Hizmetleri Kanunu ile İstanbul'un Eyüp ilçesinin adının Eyüpsultan olarak değiştirilmesine dair kanun teklifi TBMM'de kabul edildi. Kanunun Resmi Gazete'de yayımlanması ile Eyüp ilçesinin ismi Eyüpsultan olarak değiştirilmiş oldu.

Okuduğunuz haberdan hareketle aşağıdakilerden hangisi söylenebilir?

- A) Kanun yapma yetkisi TBMM 'ye aittir.
B) TBMM yürütme yetkisini kullanmıştır.
C) Önemli kararlar halk oylaması ile kabul edilir.
D) Nüfus hizmetleri bakanlığın merkez teşkilatı tarafından yürütülmüştür.

6. Temel hak ve özgürlüklerin ortak özellikleriyle ilgili olarak verilenlerden hangisi yanlıştır?

- A) Temel hak ve özgürlükler sınırsız değildir.
B) Dokunulamaz, devredilemez ve vazgeçilemez haklardır.
C) İnsan hakları evrensel değildir.
D) Doğumla başlar, ölümle biter.

Etkin Vatandaşlık - 1

7.



Merhaba, benim yaşadığım ülkede bütün yönetim yetkileri din adamlarının elinde bulunmaktadır. Ülkemiz dinî kurallara göre yönetilmekte, insanlar dinî kurallarla uygulanan yönetimi kabul etmektedir.

Yukarıda özellikleri anlatılan yönetim şekli aşağıdakilerden hangisidir?

- A) Teokrazi
B) Monarşi
C) Cumhuriyet
D) Meşrutiyet

8. Aşağıdakilerden hangisi Cumhuriyet yönetiminin özelliklerinden değildir?

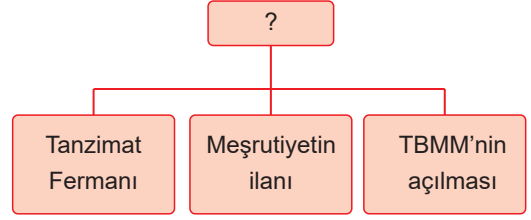
- A) Vatandaşlar seçme ve seçilme hakkına sahiptir.
B) Serbest seçimler yolu ile ülkeyi yönetecek kişiler belirlenir.
C) Egemenliğin kaynağı halka dayandırılmaktadır.
D) Yönetme yetkisi babadan oğula geçer.

9. I. Demokrasilerde halk, yönetime katılır ve ülke geleceğinde söz sahibi olur.
II. Devletler, düzenlediği anayasa ve yasalarla insan haklarını güvence altına almak zorundadır.
III. Demokratik ülkeler, çıkarılan kanunname ve fermanlar ile yönetilir.

Yukarıda verilen bilgilerden hangileri yanlıştır?

- A) Yalnız I.
B) Yalnız III.
C) I ve II.
D) I ve III.

10.



Verilen tabloda “?” yerine aşağıdakilerden hangisi gelmelidir?

- A) Toplumsal alanda yapılan yenilikler
B) Türk tarihinde demokrasinin gelişimi
C) Cumhuriyet döneminde yayınlanan belgeler
D) Kanunların ve fermanların çeşitleri

11. Aşağıdakilerden hangisi dünyadaki demokrasi alanında yapılan gelişmelerden değildir?

- A) Fransız Yurttaşlık Bildirgesinin kabul edilmesi
B) Magna Carta Libertatum'un imzalanması
C) Krallık yönetimlerinin güçlenmesi
D) İnsan Hakları Evrensel Beyannamesinin kabul edilmesi

12. Yaşadığı ilçenin çöplerinden rahatsız olan Sude; şikayetini belediyeye ulaştırmak için aşağıdaki haklardan hangisini kullanabilir?

- A) Düzeltme ve Cevap Hakkı
B) Dilekçe Hakkı
C) Mülkiyet Hakkı
D) Kişi Dokunulmazlığı



Etkin Vatandaşlık - 2

1. **Bilim, sanat ve edebiyat alanında ortaya konulan eserler aşağıdaki temel haklardan hangisiyle ilgilidir?**

- A) Din ve vicdan özgürlüğü
- B) Yaşam hakkı ve kişi dokunulmazlığı
- C) Düşünce özgürlüğü
- D) Seyahat özgürlüğü

2. **Temel hak ve özgürlüklerden biri olan “din ve vicdan özgürlüğü” Atatürk’ün hangi ilkesi doğrultusunda anayasamızda güvence altına alınmıştır?**

- A) Milliyetçilik
- B) Laiklik
- C) Devletçilik
- D) İnkılapçılık

3. Orta Asya Türk devletlerinde kadının saygın bir yeri vardı. Kurultayda hakanın yanında yer alıyor, elçileri kabul ediyorlardı. Devletin aldığı karar okunurken “*hakan ve hatun emrediyor ki...*” diye başlardı.

Metne göre Orta Asya Türk devletlerinde kadınla ilgili aşağıdaki yargılardan hangisine ulaşılabilir?

- A) Aile reisliğinin hatunda olduğu
- B) Ekonomide kadının önemli yerinin olduğu
- C) Kadının yönetimde sorumluluk aldığı
- D) Kadının toplumsal değişime etkisi olduğu

4. I. Büyük Millet Meclisi’nin açılışı ile egemenlik millete ait oldu.
II. Osmanlı Devletinin ilk anayasası ile eşitlik ve kişi dokunulmazlığı gibi özgürlükler getirildi.
III. Mustafa Kemal Paşa öncülüğünde Cumhuriyet ilan edildi.
IV. Tanzimat Fermanı ile I. Abdülmecit kendi gücünün üstünde bir kanun gücünün olduğunu kabul etti.

Yukarıda verilen Türklerde demokrasi hareketleri içinde en son aşama hangisidir?

- A) I.
- B) II.
- C) III.
- D) IV.

5. Fransız İnsan ve Yurttaş Hakları Bildirgesinde;

- İnsanlar, haklar yönünden eşit doğarlar ve yaşarlar.
- Hiç kimse inançlarından dolayı rahatsız edilemez.
- Özgürlük başkasına zarar vermeyecek her şeyi yapmaktır.

Bu maddelerle ilgili olarak;

- I. Özgürlük, adalet, eşitlik düşünceleri işlenmiştir.
- II. Yönetim tamamen halkın eline geçmiştir.
- III. Din ve vicdan özgürlüğü amaçlanmıştır.

yargılarından hangilerine ulaşılabilir?

- A) I ve II.
- B) I ve III.
- C) II ve III.
- D) I, II ve III.

6. **Aşağıdakilerden hangisi Osmanlı Devleti’nde demokrasi alanındaki gelişmelere kanıt olarak gösterilemez?**

- A) TBMM’nin açılması
- B) Tanzimat Fermanı
- C) Kanun-i Esasi
- D) Islahat Fermanı

Etkin Vatandaşlık - 2

7. Yönetimin karar alma sürecini etkileyen unsurlar; siyasi partiler, sivil toplum kuruluşları, medya ve kamuoyudur.

Karar alma sürecini etkileyen bu unsurlar;

- I. Ortak bir bilinç oluşturarak toplumun sorunların duyurulması,
- II. Yapılan işlerin halka ve yöneticilerine ulaştırılması,
- III. Bireylerin taleplerinin dile getirilmesi

görevlerinden hangilerini yerine getirirler?

- A) Yalnız I.
- B) Yalnız III.
- C) I ve III.
- D) I, II ve III.

8. I. Kişiler arasında ayrım olmaksızın hakların kullanılması,
II. Farklı inanç ve yaşamlara saygı gösterilmesi,
III. Kanunlar önünde ayrım yapılmaması

Yukarıda verilenlerden hangileri doğrudan demokratik yönetim biçimlerinin dayandığı ilkelerden “eşitlik” ilkesi ile ilgilidir?

- A) Yalnız I.
- B) Yalnız III.
- C) I ve III.
- D) I, II ve III.

9. İnsan Hakları Evrensel Bildirgesi’nde;

- Herkes yasalar önünde eşittir.
- Yaşama, özgürlük ve kişi güvenliği herkesin hakkıdır.
- Herkesin bir devletin toprakları üzerinde özgürce doğma ve oturma hakkı vardır.

Buna göre aşağıdaki yargılardan hangisine ulaşamaz?

- A) İnsan hakları uluslararası belgelerle korunmaktadır.
- B) Temel haklar evrensel nitelik kazanmaya başlamıştır.
- C) Seyahat ve yerleşme herkesin hakkıdır.
- D) Her yurttaşın türlü bilgi ve belgelere istediği zaman ulaşma hakkı vardır.

10. Türkiye’nin ilk kadın milletvekili Esma Nayman, ilk kadın bakanı ise Türkan Akyol’dur.

Verilen bilgiler Türk kadınının sahip olduğu haklardan hangisiyle ilişkilendirilebilir?

- A) Dilekçe verme hakkı
- B) Seçilme hakkı
- C) Oy kullanma hakkı
- D) Resmi nikah hakkı

11. “İlkçağ’da Yunan medeniyetinde halk Site denilen şehirlerde yaşırdı. Bu şehirlerde insanlar yöneticilerini kendileri seçerler ancak seçime 20 yaşına gelmiş özgür erkekler katılabilirdi.”

Bu bilgilere göre ilkçağ’da demokrasi uygulamaları ile ilgili aşağıdakilerden hangisine ulaşılabilir?

- A) Demokrasi tam anlamıyla uygulanmaktadır.
- B) Ülke yönetiminde tüm vatandaşlar eşit söz hakkına sahiptirler.
- C) İlkçağ’da sınırlı da olsa demokratik uygulamalar görülmektedir.
- D) Demokrasi sadece Yunan medeniyetine özgü bir yönetim biçimidir.

12. “İnsan topluluğu kadın ve erkek denilen iki cinsten oluşur. Kabil midir bu kütlenin bir kısmını ilerletelim, ötekini ihmal edelim de kütlenin bütünü ilerleyebilsin? Mümkün müdür ki bir cismin yarısı toprağa bağlı kaldıkça öteki yarısı göklere yükselebilsin?”

M. Kemal ATATÜRK

Atatürk’ün verilen sözü ile aşağıdakilerden hangisine ulaşabiliriz?

- A) Toplumsal kalkınma kadın erkek eşitliği ile gerçekleşir.
- B) Toplumlar ancak kadınlar sayesinde kalkınabilirler.
- C) Ülkelerin kalkınmasında kadınların rolü azdır.
- D) Ülkeyi hep erkekler yönetmiştir.



Küresel Bağlantılar - 1

1. I. Kâr amacı ile alım-satım yapılması
II. Mal ve hizmet satımının başka ülkeye yapılması
III. İhtiyaç duyulan mal ve hizmetin başka bir ülkeden temin edilmesi

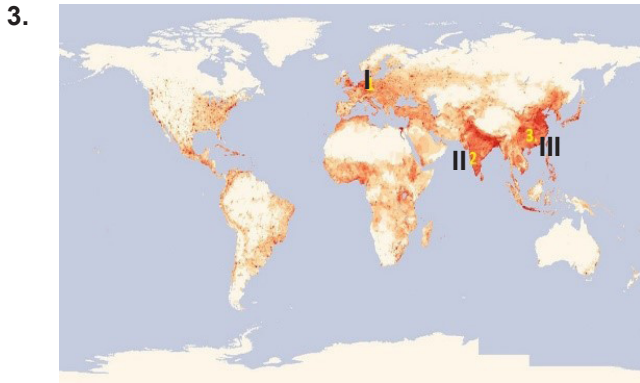
Yukarıdaki tanımlar aşağıdaki terimlerle eşleştirildiğinde hangisi dışarıda kalır?

- A) Turizm B) İthalat
C) İhracat D) Ticaret

2. Günümüzde Türk Cumhuriyetleriyle ekonomik, kültürel, siyasi ve sosyal ilişkiler devam etmektedir.

Buna göre aşağıdakilerden hangisi bu ilişkileri sağlayan kuruluşlardan biri değildir?

- A) TİKA
B) TÜRKSOY
C) TDİK
D) İİT



Yukarıda verilen dünya haritasında nüfusun yoğun olarak bulunduğu yerler numaralandırılmıştır.

Aşağıdakilerden hangisi bu bölgelerde nüfusun yoğun olmasının sebeplerinden biri olamaz?

- A) Olumlu iklim şartlarına sahip olmaları
B) Verimli tarım arazileri üzerinde kurulmaları
C) Ekvator üzerinde bulunmaları
D) Yer şekillerinin yerleşmeye uygun olması

4. Ekvatordan kutuplara doğru gidildikçe nüfus miktarında belirgin bir şekilde azalma görülür.

Bu durum nüfusun dağılışı üzerinde aşağıda verilenlerden hangisinin etkili olduğunu gösterir?

- A) Bitki örtüsü B) Yer altı kaynakları
C) Ulaşım imkanları D) İklim özellikleri

5. Dünyanın farklı bölgelerinde insanların yaptığı ekonomik faaliyetler değişiklik göstermektedir.

Bu faaliyetlerin değişiklik göstermesinde aşağıdaki faktörlerden hangisi en az etkilidir?

- A) İklimlerin farklılık göstermesi
B) Farklı bitki örtülerine sahip olmaları
C) Yer altı kaynaklarının zengin olması
D) Yüzölçümlerinin farklı olması

6. Dünyanın nüfus özellikleri birçok faktörün etkisi altındadır. Nüfusu etkileyen bu faktörler nüfusun yoğun veya seyrek olmasına sebep olurlar.

Buna göre dünyada nüfusun yoğun olarak bulunduğu yerler arasında;

- I. Çöl alanları
II. Deniz ve okyanus kıyıları
III. Kutuplar çevresi

hangileri bulunmaz?

- A) I ve II. B) I ve III.
C) II ve III. D) I, II ve III.

Küresel Bağlantılar - 1

7. Türkiye'nin Ortadoğu Bölgesi'nde son yıllarda etkinliği-
nin arttığını görmekteyiz. Önümüzdeki yıllarda yapılması
planlanan yeni Kerkük-Ceyhan Petrol Boru Hattı'yla Irak
petrollerinin dünyaya pazarlanması planlanmaktadır.

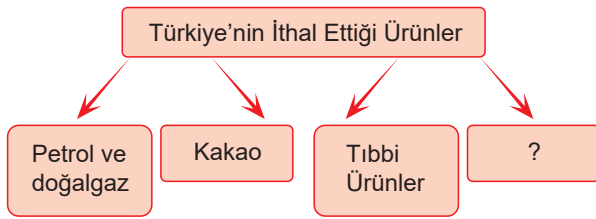
Türkiye bu petrol hattıyla bölgede;

- I. Siyasi
- II. Ekonomik
- III. Enerji

alanlarından hangilerinde etkinliğini arttırmış olacaktır?

- A) Yalnız I.
- B) Yalnız II.
- C) I ve II.
- D) I,II ve III

8.



**Verilen diyagramda boş bırakılan yere aşağıdakilerden
hangisi yazılamaz?**

- A) Suni gübre
- B) İncir
- C) Kahve
- D) Hurma

9. Türkiye yeraltı kaynakları bakımından zengin bir ülkedir.
**Buna göre aşağıdakilerden hangisi Türkiye'nin ihraç
ettiği ürünlerden biridir?**

- A) Kakao
- B) Petrol
- C) Bor
- D) Kağıt

10. Uluslararası Türk Kültürü Teşkilatı'nın amaçları arasında
aşağıdakilerden hangisi yoktur?

- A) Türkçe konuşan ülkeler arasında kültürel ilişkileri ge-
liştirmek.
- B) Türk kültürünü gelecek kuşaklara aktarmak.
- C) Türk kültürünü araştırmak ve geliştirmek.
- D) Orta Asya Türk Cumhuriyetleri ile yatırım anlaşmaları
yapmak.

11. "Köklerimize inmeli ve olayların böldüğü tarihimiz içinde
bütünleşmeliyiz. Onların (Dış Türklerin) bize yaklaşması-
nı bekleyemeyiz. Bizim onlara yaklaşmamız gereklidir."

**Aşağıdaki kurumlardan hangisi Atatürk'ün bu sözü
doğrultusunda kurulmuştur?**

- A) Türk İşbirliği ve Kalkınma İdaresi Başkanlığı
- B) Gelir İdaresi Başkanlığı
- C) Toplu Konut İdaresi Başkanlığı
- D) Devlet Personel Başkanlığı

12. "Biz milletler arası ilişkilerde karşılıklı güven ve saygıyı hedef
tutan açık, samimi politikanın en ateşli taraftarıyız."

**Atatürk'ün bu sözüne göre aşağıdakilerden hangisi
millî dış politikamızın ilkelerinden biridir?**

- A) Milletlerarası karşılıklılık
- B) Devletlerin eşitliği
- C) Tam bağımsızlık
- D) Komşu devletlerle barış içinde yaşama



Küresel Bağlantılar - 2

1. Popüler kültür toplumu sürekli tüketime yönlendiren kitleleri kendine bağımlı hale getiren bir yapıdır. Bu kültür kitle iletişim araçlarıyla oluşturulan ve yaygınlaşan bir kültürdür.

Buna göre aşağıdakilerden hangisi popüler kültürün yayıldığı yerlerden biri değildir?

- A) Televizyon Kanalları
- B) Gazete ve Dergi Sayfaları
- C) Reklam Afişleri
- D) Oyun Alanları

2. 1999 yılında Marmara'da meydana gelen deprem ülkemizde büyük acılara sebep olmuştur. Yunanistan, Almanya, Japonya gibi birçok dünya ülkesi ülkemizin yardımına koşmuştur.

Bu durum aşağıdakilerden hangisinin sağlanmasında etkili olmuştur?

- A) Ekonomik gelişmenin
- B) İhracatın artmasının
- C) Uluslararası dayanışmanın
- D) Kültürel gelişmenin

3. "Mert, Pakistan'da yaşanan sel felaketinin görüntülerini televizyonda görünce, oraya yardım ulaştırmaya karar verir. Kendisine verilen harçlıklardan biriktirdiği parayı, yardım kampanyaları aracılığı ile Pakistan'da felakete uğrayan insanlara bağışlar."

Mert'in bu davranışı ile ilgili aşağıdakilerden hangisi söylenemez?

- A) İnsanlık görevini yerine getirmiştir.
- B) Gücü yettiği kadar yardım etmiştir.
- C) Yardım etmek zorunda bırakılmıştır.
- D) Dünyada yaşanan olaylara duyarlıdır.

4. Dünyanın herhangi bir bölgesinde gerçekleşen doğal afetler sonucunda ülkeler arasında;

- I. dayanışma
- II. iş birliği
- III. paylaşma

kavramlarından hangilerinin geliştiği söylenebilir?

- A) Yalnız I.
- B) I ve II.
- C) I ve III.
- D) I, II ve III.

5. Doğal afet yaşayan ülkelere yapılan yardımlarla aşağıdakilerden hangisi amaçlanmaktadır?

- A) Afete uğrayan ülkelerin yaralarını sarmak
- B) Kültürel gelişmelere katkı sağlamak
- C) İhracat geliri elde etmek
- D) Tarımsal üretimi arttırmak

6. Ülkemizin kuzeyinde bulunan Karadeniz'de başlayan çevre kirliliği nedeniyle Karadeniz'e kıyısı olan ülkeler bir araya gelerek Bükreş Sözleşmesi'ni imzalamışlar ve Karadeniz'in kirlilikten kurtarılması konusunda anlaşmışlardır.

Paragrafa göre, aşağıdakilerden hangisi söylenemez?

- A) Sorunlar karşısında ülkeler iş birliği gerçekleştirmişlerdir.
- B) Karadeniz'de balık avlanmasını yasaklamışlardır.
- C) Karadeniz'i korumak için antlaşmalar yapılmaktadır.
- D) Çevre kirliliğini önlemek için ülkeler ortak çalışmaktadırlar.

Küresel Bağlantılar - 2

7. 2006 da İstanbul'da yapılan Formula 1 Park Grand Prix'si Ferrari'den Felipe Massa kazandı. Renault pilotu Fernando Alonso ikinci, Ferrari pilotu Michael Schumacher üçüncü oldu.

Aşağıdakilerden hangisi Formula 1'in (F1) ülkemize katkılarında biri değildir?

- A) Ülkemizin tanıtımını yapmak
B) Kültürümüzü dünyaya tanıtmak
C) Ülkemizde futbolun gelişmesini sağlamak
D) Ülkemiz ekonomisine katkı sağlamak

8. Japonya'da 2011 yılında meydana gelen deprem sonrası Türkiye Japonya'ya gıda yardımları başta olmak üzere giyim, prefabrik ev gibi malzemeler göndermiştir.

Ülkemizin bu yardımı yapmasında;

- I. Uluslararası hukuka uyma
II. Uluslararası dayanışma
III. Siyasi çıkar elde etme

durumlarından hangilerinin etkili olduğu söylenebilir?

- A) Yalnız I. B) Yalnız II.
C) I ve III. D) II ve III.

9. **Aşağıdakilerden hangisi uluslararası etkinliklerin faydalarından biri değildir?**

- A) Dil birliğini güçlendirir.
B) Dünya barışına katkısı olur.
C) Uluslararası ticarete katkı sunar.
D) Uluslararası kültürlerin kaynaşmasını sağlar.

10. I. Türkiye'nin devlet siyaseti, millî sınırlar içinde, egemenliğe dayanarak bağımsız yaşamaktır.
II. Biz, milletlerarası karşılıklı güven ve saygıyı hedef alan açık samimi politikanın en ateşli taraftarıyız.
III. Milletimizin güzel sanatlar sevgisini, her türlü vasıta ve tedbirlerle besleyerek geliştirmek millî ülkümüzdür.
IV. Komşuları ile bütün devletlerle iyi geçinmek Türkiye siyasetinin esasıdır.

Mustafa Kemal Atatürk'ün yukarıda verilen sözlerinden hangisi Türkiye'nin uluslararası ilişkilerde belirlediği dış politika ilkelerinden değildir?

- A) I. B) II. C) III. D) IV.

11. Türk İşbirliği ve Kalkınma İdaresi Başkanlığı (TİKA), başta Türk dilinin konuşulduğu ülkeler ve ülkemize komşu ülkeler olmak üzere ekonomik, ticari, sosyal ve kültürel alanlarda faaliyetler göstermektedir.

Buna göre aşağıdaki ülkelerden hangisi TİKA'nın öncelikli faaliyet göstereceği ülkelere değildir?

- A) Azerbaycan B) Türkmenistan
C) Kazakistan D) İspanya

12. Popüler kültür belli bir dönem için geçerli olan ve hızla tüketilen unsurları kapsayan kültürdür.

Buna göre;

- I. Müzik ve eğlence
II. Giyim-kuşam
III. Yemek

alanlarından hangilerinde toplumumuzu etkilemektedir?

- A) Yalnız I. B) Yalnız II.
C) I ve II. D) I, II ve III.



CEVAP ANAHTARI

Test 1	1. D	2. D	3. C	4. D	5. A	6. C	7. B	8. C	9. C	10. D	11. D	12. A
Test 2	1. A	2. C	3. D	4. B	5. B	6. A	7. B	8. D	9. C	10. B	11. D	12. A
Test 3	1. D	2. D	3. C	4. D	5. C	6. A	7. A	8. C	9. D	10. B	11. C	12. D
Test 4	1. C	2. B	3. C	4. D	5. B	6. A	7. B	8. C	9. D	10. D	11. A	12. A
Test 5	1. A	2. B	3. D	4. B	5. A	6. C	7. D	8. B	9. B	10. A	11. A	12. B
Test 6	1. D	2. C	3. B	4. D	5. C	6. D	7. A	8. B	9. C	10. A	11. C	12. B
Test 7	1. A	2. C	3. B	4. B	5. C	6. B	7. D	8. B	9. B	10. D	11. B	12. C
Test 8	1. D	2. A	3. A	4. D	5. C	6. B	7. D	8. B	9. A	10. B	11. D	12. C
Test 9	1. A	2. C	3. A	4. D	5. B	6. C	7. D	8. C	9. C	10. A	11. B	12. B
Test 10	1. B	2. D	3. A	4. D	5. D	6. B	7. C	8. C	9. B	10. A	11. C	12. C
Test 11	1. A	2. B	3. D	4. C	5. B	6. D	7. A	8. D	9. B	10. C	11. B	12. A
Test 12	1. B	2. D	3. D	4. A	5. C	6. C	7. D	8. B	9. C	10. A	11. B	12. C
Test 13	1. A	2. C	3. D	4. D	5. C	6. C	7. A	8. D	9. B	10. B	11. C	12. B
Test 14	1. C	2. B	3. C	4. C	5. B	6. A	7. D	8. C	9. D	10. B	11. C	12. A
Test 15	1. A	2. D	3. C	4. A	5. C	6. B	7. D	8. B	9. C	10. D	11. A	12. A
Test 16	1. D	2. C	3. C	4. D	5. A	6. B	7. C	8. B	9. A	10. C	11. D	12. D