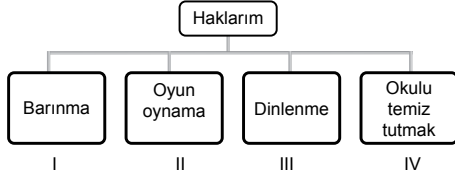


Birey ve Toplum - 1

1.



Yukarıda verilen çocuk haklarıyla ilgili tablonun doğru olması için hangi seçenek çıkarılmalıdır?

- A) I. B) II. C) III. D) IV.

2. Ortak bir amaç için bir araya gelen, en az iki veya daha fazla kişiden oluşan, aralarında ilişki ve işbirliği bulunan topluluğa "grup" denir.

Buna göre aşağıdakilerden hangisi grup değildir?

- A) Halk oyunları ekibi B) Maçtaki seyirciler
C) Aile bireyleri D) Sınıftaki öğrenciler

3. I. Savaşlar
II. Doğal afetler
III. Yoksulluk

Yukarıdaki durumlardan hangileri çocukların barınma, beslenme ve eğitim gibi haklarını kullanmalarına engel olabilir?

- A) Yalnız I. B) I ve II.
C) II ve III. D) I, II ve III.

4. I. Mahallede maç yapan çocuklar
II. Otobüs durağında bekleyen kişiler
III. İzcilik kulübüne katılan öğrenciler
IV. Sokakta gezen insanlar
Yukarıda verilenlerden hangileri gruptur?

- A) I ve II. B) I ve III.
C) II ve III. D) III ve IV.

5. Sosyal gruptaki rollerimizle ilgili aşağıda verilen bilgilerden hangisi doğrudur?

- A) Çocuk evde öğrenci rolündedir.
B) Yaşamımız süresince bir tek grupta yer alırız.
C) Yer aldığımız grup farklı olsa da rollerimiz değişmez.
D) Gruplarda üstlendiğimiz rolleri yerine getirmeliyiz.

6. Aşağıdaki seçeneklerden hangisinde çocuk haklarıyla ilgili yanlış bilgi verilmiştir?

- A) Her çocuk temel yaşama hakkına sahiptir.
B) Çocuklar hiçbir şekilde zorla çalıştırılmaz.
C) On beş yaşına kadar her insan çocuk sayılır.
D) Temiz bir çevrede yaşamını sürdürmek her çocuğun hakkıdır.

Birey ve Toplum - 1

7. Aşağıdakilerden hangisi sosyal bilgiler dersinde öğrenilen bilgilerin katkılarında biri değildir?

- A) Toplumsal sorunların farkına varmak
- B) Toplumun değerlerine saygılı olmak
- C) Farklılıkları hoşgörü ile karşılamak
- D) Başkalarının haklarını ihlal etmek

8. Beşinci sınıf öğrencisi Ali için aşağıda verilen grup ve rol eşleştirmelerinden hangisi yanlıştır?

| Grup | Rol |
|------------------|---------|
| A) Sınıf | Öğrenci |
| B) Folklor ekibi | Kaleci |
| C) Kamp grubu | İzci |
| D) Aile | Çocuk |

9



Ahmet

Günlük yaşamda çeşitli gruplar içerisinde bulunuyorum. Bulduğum grupla ilgili üstlendiğim bir rolüm var. Bu rol, gruptaki diğer kişilerin benden beklediği davranışlardır. Bu davranışları gösterirsem rolümü yerine getirmiş olurum.

Buna göre Ahmet'in aile içerisindeki rolü aşağıdaki-lerden hangisi olabilir?

- A) İzci
- B) Kaleci
- C) Çocuk
- D) Öğrenci

10. Aşağıdakilerden hangisi sanayi bölgesinde bulunan bir fabrikada meydana gelen patlamanın getirebileceği sonuçlardan değildir?

- A) Can kaybı
- B) Mal kaybı
- C) Üretimin hızlanması
- D) Çevre kirliliğinin artması

11. I. Ders çalışmak
II. Kamp kurallarına uymak
III. Güvenliği sağlamak

Yukarıda verilen davranışlar sırası ile hangi rollere aittir?

| I | II | III |
|------------|----------|----------|
| A) Müdür | Öğretmen | Öğrenci |
| B) Öğrenci | Polis | İzci |
| C) İzci | Müdür | Öğretmen |
| D) Öğrenci | İzci | Polis |

12.



Trafik kazası ile ilgili yapılan yorumlara bakıldığında aşağıdaki yargılardan hangisine ulaşılabilir?

- A) Bir olayın birden çok sonucu olabilir.
- B) Olayların birden fazla nedeni olabilir.
- C) Her birey olaylardan aynı etkilenir.
- D) Olaylar birbirine benzerler.



Birey ve Toplum - 2

1. Dersinde “Gruplar ve Roller” konusunu işleyen sosyal bilgiler öğretmeni Ema Hanım öğrencilerine; “İnsanların sahip olduğu bazı rollerin doğuştan bazılarının ise sonradan kazanıldığını” söylemiştir.

Buna göre aşağıdakilerden hangisi doğuştan sahip olunan rollere örnek olarak gösterilebilir?

- A) Evlat olmak
B) Öğretmen olmak
C) Öğrenci olmak
D) Yönetici olmak

2. Sorumluluklarını yerine getiren bir bireyin;

- I. daha az sorunla karşılaşması,
II. sık sık beklenmedik durumlar yaşaması,
III. başarılı ve mutlu olması

durumlarından hangileri ile karşılaşması beklenir?

- A) Yalnız II.
B) I ve II.
C) I ve III.
D) II ve III.

3. Aşağıdakilerden hangisi grupta birlikte yaptığımız bir davranış değildir?

- A) Halk oyunları oynamak
B) Evde şiir yazmak
C) Koroda şarkı söylemek
D) Futbol oynamak

4. • Ameliyatlarda çok dikkatli ve titiz olmalıyım.
• Öğrencileri zamanında derslerine yetiştirmeliyim.
• Toplumda huzur ve güveni sağlamaya çalışmalıyım.

Yukarıda verilen roller aşağıda verilen meslekler ile eşleştirildiğinde hangisi dışarıda kalır?

- A) Öğretmen
B) Şoför
C) Doktor
D) Polis

5. Aşağıdakilerden hangisi bir öğrencinin okuldaki sorumluluklarından biri olamaz?

- A) Derse zamanında girmek
B) Kırılan tahtayı onarmak
C) Çantasını hazırlamak
D) Boşa akan musluğu kapatmak

6. I. Oy kullanmak
II. Vergi vermek
III. Odasını düzenli tutmak
IV. Askere gitmek

Yukarıda verilenlerden hangileri ülkemize karşı sorumluluklarımız arasında gösterilebilir?

- A) I ve II.
B) I, II ve IV.
C) II ve III.
D) II, III ve IV.

Birey ve Toplum - 2

7. Suriye’de yaşanan iç savaştan dolayı Meryem’in mahallesine bu bölgeden göç hareketi olmuştur.

Meryem’in mahallesinde bu göçlerden sonra;

- I. konut ihtiyacının artması,
- II. nüfusun artması,
- III. işsizlik oranının düşmesi

gelişmelerinden hangilerinin yaşanması beklenir?

- A) Yalnız I.
- B) Yalnız II.
- C) I ve II.
- D) I ve III.

8. Sosyal bilgiler dersi insana saygılı olmanın toplumsal ilişkilerdeki önemini fark ettirir. İnsan hakları, ulusal egemenlik ve demokrasi gibi kavramlarla tanıştırır. Yaşamımızı demokratik kurallar çerçevesinde düzenlemeyi öğretir.

Buna göre aşağıdakilerden hangisi sosyal bilgiler dersi ile kazandırılmak istenen bir davranış değildir?

- A) Yasalara uyma
- B) Hoşgörülü olma
- C) Sorumluluklarını bilme
- D) Çıkarıcı olma

9. Aşağıdakilerden hangisi olayların çok boyutluluğu ile ilgili değildir?

- A) Bir olayın bir tek nedeni ve bir tek sonucu vardır.
- B) Bir olayın sonucu başka bir olayın sebebi olabilir.
- C) Bir olaydan birden çok kişi etkilenebilir.
- D) Aynı olay birçok insanı farklı biçimde etkileyebilir.

10. Aşağıdakilerden hangisi sosyal bilgiler dersinin sağladığı yararlarından biri değildir?

- A) Dünyadaki farklı kültürleri tanımak
- B) Sorumluluk almaktan kaçınmak
- C) Çevremize karşı daha duyarlı olmak
- D) Hak ve sorumluluklarımızı bilmek

11. Bir kente büyük bir otomobil fabrikası açılacaktır.

Bu fabrika kurulduğunda aşağıdaki gelişmelerden hangisinin yaşanması beklenmez?

- A) Konut ihtiyacı artar.
- B) İşsizlik azalır.
- C) Halkın gelir seviyesi artar.
- D) Nüfus azalır.

12. Aşağıdaki sorumluluklardan hangisi çocuklara verilirse Birleşmiş Milletler Çocuk Hakları Sözleşmesi ihlal edilmiş olmaz?

- A) İşçi olarak çalıştırılması
- B) Askere götürülmesi
- C) Satranç kulübüne katılması
- D) Sokakta mendil satması



Kültür ve Miras - 1

1. Kültürel özelliklerimizi oluşturan öğelerden biri de el sanatlarıdır.

Aşağıdakilerden hangisi kültürel özelliklerimizden olan el sanatlarına örnek gösterilemez?

- A) Halk oyunları
B) Bakırcılık
C) Çinicilik
D) Ahşap işçiliği

2. Aşağıdakilerden hangisi Sümerlere ait özelliklerden biri değildir?

- A) Mezopotamya'da kurulan medeniyetlerdendir.
B) Tarihî devirleri başlatmışlardır.
C) Astronomi ile ilgilenmişlerdir.
D) Parayı bularak ekonomiye katkı sağlamışlardır.

3. Türkülerimiz halkımızın zengin kültürünü yansıtan, belirli bir ezgiyle söylenen öğelerdir. Her birinin hikâyesi farklıdır. Toplum ve insan hayatında derin izler bırakan kahramanlık, savaş, ayrılık, doğal afet, yas, düşün, aşk gibi olaylar türkülerimize konu edilir. Başlangıçta sahibi bellidir. Zamanla dilden dile dolaşır, halka mal olur. Bu kültürel değerlerimizi yaşatanların başında aşıklar gelir.

Buna göre aşağıdakilerden hangisi türkülerimizin özelliklerinden değildir?

- A) Halka mal olmuş kültürel değerlerimizdendir.
B) Bütün türkülerin konusu aynıdır.
C) Aşıklar sayesinde günümüze kadar gelmiştir.
D) Her türkünün kendine has hikâyesi vardır.

4. Toprağın pişirildikten sonra şekil verilmiş hâlidir. Aynı zamanda fayans, porselen tabak, seramik gibi eşyaların süslenmesinde kullanılır. Ülkemizde Kütahya ve İznik'te yaygın olarak yapılmaktadır.

Yukarıda özellikleri anlatılan el sanatı aşağıdakilerden hangisidir?

- A) Çinicilik
B) Çömlekçilik
C) Bakırcılık
D) Sepetçilik ve Hasırcılık

5. El ele tutuşarak kemeçe eşliğinde oynadığımız bir oyundur. Baştan ayağa dalgalanma figürleriyle fırtınalı Karadeniz'in zorlu yaşamını yansıtır.

Yukarıda özellikleri verilen oyun aşağıdakilerden hangisidir?

- A) Hora
B) Çayda çıra
C) Horon
D) Kaşık

6. Kutlama zamanları doğa ve iklim koşullarına bağlı olarak farklılık gösteren, oyunların oynandığı, türkülerin söylendiği, hazırlanan yiyeceklerin hep birlikte yenildiği, en güzel örneklerinin Hıdırellez ve Nevruz Bayramı olduğu bayramlara genel olarak ne ad verilir?

- A) Dinî bayramlar
B) Millî bayramlar
C) Mevsimlik bayramlar
D) Resmî bayramlar

7. Daha çok tapınak, okul, rasathane gibi amaçlar için yapılmış Zigguratlar hangi medeniyete aittir?

- A) Asurlular B) Sümerler
C) Urartular D) Babiller

8. Geçmişteki uygarlıkların izlerini taşıyan yerlere tarihî mekânlar denir.

Buna göre

- I. Silifke Kalesi - Mersin
II. Selimiye Camii - Edirne
III. Abant Gölü - Bolu

hangileri tarihî mekândır?

- A) I ve II. B) I ve III.
C) II ve III. D) I, II ve III.

9.



Elif

“Köylülerimiz, evlenecek kızların çeyizinin hazırlanmasında; köy okulu, yol yapımı vb. işlerde bir araya gelerek çalışır. Bu uygulama köy halkı arasındaki dayanışmanın en güzel örneğidir.”

Buna göre Elif’in yukarıda sözünü ettiği uygulama aşağıdakilerden hangisidir?

- A) Ortaklık B) İmece
C) Birlik D) Yardımlaşma

10. Aşağıdaki görsellerden hangisi tarihî - kültürel bir öge değildir?



11. “... Menua Tanrı Haldi’nin gücü sayesinde bu kanalı açtı. Adı Menua Kanalı’dır. Menua der ki, kim bu yazıyı silerse, kim onu tahrip ederse, kim bunu görürse, kim başkasına “bu kanalı ben açtım” derse o, Tanrı Haldi, Tanrı Teişaba, Tanrı Şivini ve bütün tanrılar tarafından mahvedilsin”.
(Gülay Sert, Keşfedilen Anadolu Uygarlıkları, s.51.)

Buna göre Urartular ile ilgili aşağıdaki bilgilerden hangisine ulaşamaz?

- A) Kanal tarih sonrası döneme aittir.
B) Çok tanrılı inancıya sahiptirler.
C) Eserlerin korunmasına önem vermişlerdir.
D) Esere, sahibi kendi adını vermek zorundadır.

12. Ergenekon Destanı’na göre; Türkler zamanla Ergenekon Dağına sığmaz olurlar, atalarının eski yurtlarını geri almak için çeşitli yollar aramaya başlarlar. Nihayet dağda zayıf bir nokta tespit ederler, o noktayı eriterek çıkış yolu bulurlar. Yeni bir hayat, yeni bir başlangıç demek olan bu tarihî gün 21 Mart gününe rastlar. İşte bugün Türk topluluklarında bayram olarak kutlanır ve baharın başlangıcı olarak adlandırılır.

Buna göre yukarıda verilen parçada anlatılan bayram aşağıdakilerden hangisidir?

- A) Ramazan Bayramı B) Hıdırellez Bayramı
C) Nevruz Bayramı D) Zafer Bayramı



Kültür ve Miras - 2

1. Ülkemizde kutlanan bayramlarla ilgili aşağıda verilen bilgilerden hangisi yanlıştır?

- A) Nevruz bayramı baharı müjdeli.
- B) Kurban bayramı millî bir bayramdır.
- C) Hıdırellez bayramı mevsimlik bayramdır.
- D) Cumhuriyet bayramı millî bir bayramdır.

2. Aşağıdakilerden hangisi milletçe bir arada yaşamamızda önemli bir yere sahip olan, birlik ve beraberliğimizi güçlendiren kültürel öğelerimizden biri değildir?

- A) Kurban Bayramı
- B) Kına geceleri
- C) Bahar Şenlikleri
- D) Şükran Günü

3. Aşağıdakilerden hangisi Sümerlerin yazıyı icat etmelerinin katkılarından değildir?

- A) Eğitim, bilim ve sanat gelişmiştir.
- B) Tarihî devirler başlamıştır.
- C) Bilgiler kayıt altına alınmıştır.
- D) Tarımda ilerlemişlerdir.

4. Ülkemizdeki kültürel değerleri tanıttak bir broşürde aşağıdakilerden hangisinin yer alması beklenmez?

A)



B)



C)



D)



5. Ülke olarak tarihî eserler yönünden oldukça zengin bir mirasa sahibiz.

Aşağıdakilerden hangisi sahip olduğumuz tarihî eserlerden değildir?

- A) Topkapı Sarayı
- B) Selimiye Camii
- C) Mevlana Müzesi
- D) Damlatas Mağarası

6. Anadolu'da birçok medeniyetin doğmasına ve yaşamasına beşiklik ettiği bilinmektedir.

Anadolu'nun ilk çağlardan beri yerleşim yeri olarak seçilmesinin nedenleri arasında aşağıdakilerden hangisi yoktur?

- A) Toprağın verimli olması
- B) Su kaynaklarının bulunması
- C) Doğal kaynaklarca zengin olması
- D) Teknolojik çalışmalara uygun olması

7. İlk Çağda;

- I. toprağı işleyerek tarımla uğraşması,
- II. ateşi kullanmış olmaları,
- III. duvarlara ve taşlara resimler çizerek anlaşılabilmeleri,
- IV. toplayıcılıkla beraber avcılık yapmaları

faaliyetlerinden hangileri insanların üretim yaptıklarını gösterir?

- A) Yalnız I.
- B) Yalnız II.
- C) II ve III.
- D) III ve IV.

8. Aşağıdakilerden hangisi dinî bayramların özelliklerinden biri değildir?

- A) Ülkemizin her tarafında aynı şekilde kutlanır.
- B) Aileler ve akrabalar bir araya gelir.
- C) Tüm yurttta coşkuyla kutlanılır.
- D) Toplumda birlik ve beraberlik oluşur.

9. Aşağıdakilerden hangisi Mezopotamya'da kurulan uygarlıklardan değildir?

- A) Frigler
- B) Sümerler
- C) Asurlar
- D) Babiller

10. Anadolu medeniyetleri ile ilgili aşağıda verilen bilgilerden hangisi doğru değildir?

- A) Lidyalılar en önemli gelirlerini ticaretten elde etmişlerdir.
- B) Frigler tek tanrılı dine inanmışlardır.
- C) Urartular su kanalları ve barajlar inşa etmişlerdir.
- D) Hititler ilk yazılı antlaşmayı imzalamışlardır.

11. Merhaba, benim adım Paduhepa. Hattuşa'da yaşıyorum. İki katlı, dört odalı ve avlulu olan evimizin odalarının birinde ocağımız bile var. Komşu ülkeler bize "Bin Tanrı İli" diyor. Kutlamalarımızda tanrılarımıza kurbanlar keseriz. Kuraklıktan etkilenmemek için tahıl deposu ve baraj yaptırarak. Yaşadığımız önemli olayları yazdığımız Anal adını verdiğimiz yıllıklar da hazırlıyoruz.

Buna göre Hititler ile ilgili aşağıdaki bilgilerden hangisine ulaşamaz?

- A) Tek tanrılı dine inanmışlardır.
- B) Tarım ile uğraşmışlar.
- C) Yazıyı kullanmışlardır.
- D) Yerleşik bir yaşam sürmüşlerdir.

12. Mardin'de gerçekleştirilen bir arkeolojik çalışma sırasında günümüzden binlerce yıl önce yapılmış bir oyuncak araba bulundu. Aynı çalışma sırasında günümüzden 2800 yıl önce hazırlanmış bir tapu belgesi de bulunmuş. Bir meyve bahçesine ait olan bu tapu belgesi, bir kil tabletin üzerine Asur yazısıyla yazılmış. Bu belgenin şimdiye kadar bulunmuş en eski tapu belgesi olduğu belirtiliyor.

Buna göre Asurlular ile ilgili aşağıdaki yargılardan hangisine ulaşamaz?

- A) Yazıyı kullanmışlardır.
- B) Toplum arasında sınıf farklılıkları görülür.
- C) Yerleşik bir yaşam sürmüşlerdir.
- D) Mülkiyet hakkı vardır.



İnsanlar, Yerler ve Çevreler - 1

1. Marmara Bölgesi'nin fiziki haritası üzerinde inceleme yaptığımızda aşağıdaki yerlerden hangisine ulaşmamız mümkün değildir?

A) Uludağ B) Bursa Ovası
C) Tuz Gölü D) İstanbul Boğazı

2. Türkiye'nin fiziki haritası incelendiğinde Konya Ovası ve Antalya Ovası farklı renkte gösterilmektedir.

Bu durum iki ovanın hangi bakımdan farklı olmasıyla ilgilidir?

A) Yükselti değerleri B) Bitki örtüsü
C) Yağış miktarı D) Enlem derecesi

3. Aşağıdakilerden hangisi yeryüzü şekillerinin yapısını, dağılışını ve yükseltilerini gösteren haritalardır?

A) Siyasi haritalar
B) Fiziki haritalar
C) Özel haritalar
D) Beşerî ve Ekonomik haritalar

4. • Karalar üzerinde bulunan çukurlara suların birikmesiyle oluşan yer şeklidir.
• Yer kabuğunun çıkıntılı, yüksek, eğimli yamaçlarıyla çevresine egemen ve oldukça geniş bir alana yayılan bölümleridir.
• Akarsuların yüzeyden aktığı, çevrelerine göre alçakta kalmış geniş düzlüklerdir.

Yukarıda verilen tanımlar ile aşağıdaki seçenekler eşleştirildiğinde hangi seçenek dışarıda kalır?

A) Ova B) Göl
C) Vadi D) Dağ

5. Aşağıdakilerden hangisi insanların yoğun olarak yaşadığı yerler arasında gösterilemez?

A) Ova
B) Plato
C) Nehir kıyıları
D) Dağların dik yamaçları

6. • Yazlar sıcak ve kurak geçer.
• Kış ayları ılık ve yağışlıdır.
• Bitki örtüsü maki olarak adlandırılan çalılıklardır.
Buna göre yukarıda özellikleri verilen iklim tipi aşağıdakilerden hangisidir?

A) Karasal İklim B) Karadeniz İklimi
C) Bozkır İklimi D) Akdeniz İklimi

İnsanlar, Yerler ve Çevreler - 1

7. Düzenli yağışların görüldüğü ve orman alanlarının fazla olduğu yerlerde ahşap evler inşa edilmektedir.

Buna göre ahşap evlerin aşağıdaki bölgelerin hangisinde daha yaygın olması beklenir?

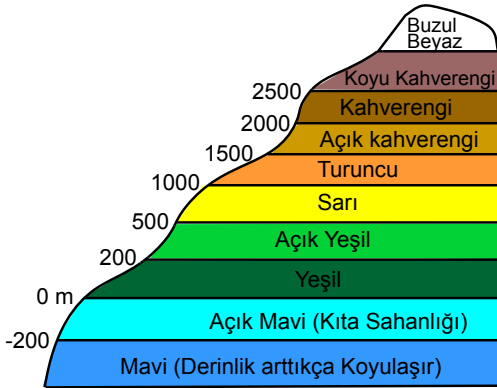
- A) Marmara Bölgesi
B) Doğu Anadolu Bölgesi
C) Karadeniz Bölgesi
D) İç Anadolu Bölgesi

8. Turunçgiller kış aylarında sıcaklığın çok düştüğü yerlerde yetişemez. Kışların ılık geçtiği yerlerde yetiştirilir.

Bu durum üzerinde aşağıdakilerden hangisinin etkili olduğu söylenir?

- A) İklimin
B) Bitki örtüsünün
C) Yer şekillerinin
D) Yüz ölçümünün

9. Fiziki haritalarda yer şekillerini daha belirgin gösterebilmek için yükselti basamakları aşağıdaki renklerle ifade edilir.



Buna göre aşağıdakilerden hangisi söylenemez?

- A) Sular mavi renk ile gösterilir.
B) Yükselti arttıkça kahverenginin tonu koyulaşır.
C) Bütün ovalar yeşil renkle gösterilir.
D) Beyaz renkler kalıcı karları gösterir.

10. Olumsuz hava şartları aşağıda verilen ekonomik faaliyetlerden hangisi üzerinde en az etkilidir?

A)



Tarım

B)



Hayvancılık

C)



Madencilik

D)



Turizm

11. Aşağıdakilerden hangisi yerleşmeye elverişli yerlerden biri değildir?

- A) Verimli topraklar
B) Turizmin geliştiği yerler
C) İklimin ılıman olduğu yerler
D) Yükseltinin fazla olduğu yerler

12.

Benim yaşadığım yerde bol yağış vardır. Bölgemiz dağlıktır ve dik yamaçlara sahiptir. Sık sık heyelan görülür.



Buna göre Ali'nin yaşadığı bölge aşağıdakilerden hangisi olabilir?

- A) Karadeniz
B) Güneydoğu Anadolu
C) Akdeniz
D) İç Anadolu



İnsanlar, Yerler ve Çevreler - 2

1. Doğu Anadolu kahverenginin en fazla kullanıldığı bölge-
dir.

Buna göre aşağıdakilerden hangisi söylenebilir?

- A) Ovaları yoktur.
B) Yüksekliği diğer bölgelerden fazladır.
C) Deniz seviyesine yakındır.
D) Nüfus yoğunluğu fazladır.

2. Toprağın akarsular, sel suları, rüzgârlar ve arazinin yanlış
kullanımı gibi dış etkenlerle aşındırıp bulunduğu yerden
başka bir yere taşınması olayına - - - - denir.

**Yukarıdaki metinde boş bırakılan yere aşağıdakiler-
den hangisi getirilmelidir?**

- A) Deprem
B) Erozyon
C) Çığ
D) Heyelan

3. I. Tarıma elverişli arazilerin olması
II. Su kaynaklarının yetersiz olması
III. Ticaretin yoğun olması
IV. Zengin yer altı kaynaklarının olması

**Yukarıdakilerden hangileri bir bölgenin yerleşim yeri
olarak seçilmesinde etkili faktörler arasındadır?**

- A) I ve II.
B) II ve III.
C) III ve IV.
D) I, III ve IV.

4. Dağlık alanlarda yoğun kar yağışından dolayı yamaçlarda
tutunamayan kar kütleleri bulunduğu yerden koparak yu-
varlanır, yuvarlandıkça büyür ve çığ oluşur.

**Buna göre aşağıdaki illerimizden hangisinde çığ gö-
rülme ihtimali daha azdır?**

- A) Ağrı
B) Ardahan
C) Mersin
D) Hakkâri

5. Karadeniz Bölgesi ülkemizdeki orman varlığı bakımından
ilk sırada yer alır. Ancak ülkemizde görülen orman yangın-
larının büyük bir kısmı Akdeniz Bölgesi'nde ortaya çık-
maktadır.

**Bu duruma Karadeniz Bölgesi'nin hangi özelliğinin
sebebi olduğu söylenebilir?**

- A) Dağlık bir bölge olması
B) Her mevsiminin yağışlı olması
C) Ekonomisinin orman ürünlerine dayanması
D) Deniz kenarında olması

6. Erozyona maruz kalan bölgeler genelde kurak, ağaç var-
lığının az olduğu, bilinçsiz ağaç kesiminin yapıldığı yerler-
dir.

**Buna göre Konya ilimizde meydana gelen erozyonun
önlenmesi için yapılabilecekler arasında aşağıdakiler-
den hangisi yer almaz?**

- A) Çiftçilerin bilinçlendirilmesi
B) Bölgenin ağaçlandırılması
C) Kaçak ağaç kesiminin engellenmesi
D) Toprakların nadasa bırakılması

İnsanlar, Yerler ve Çevreler - 2

7. Ormanların çok olduğu Karadeniz Bölgesi'nde ahşap evler tercih edilirken, kışların ılık yazların sıcak geçtiği Akdeniz Bölgesi'nde taş evler tercih edilir.

Buna göre aşağıdakilerden hangisi söylenemez?

- A) Bitki örtüsü konut malzemesinde etkilidir.
B) İklim tipi mesken tipini etkiler.
C) Yapılarda doğal çevreden elde edilen malzemeler kullanılır.
D) Tarihî olaylar mesken türlerini etkiler.

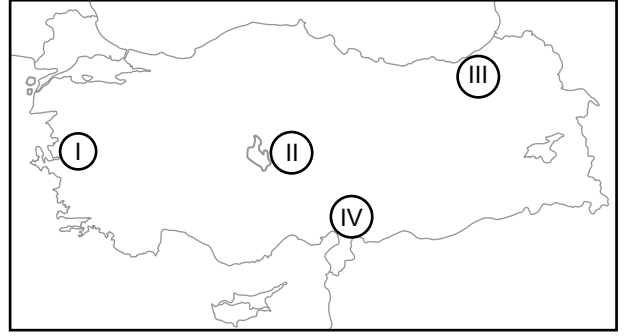
8. Aşağıdakilerden hangisi doğal afetlerin insanlar üzerinde bıraktığı olumsuz etkilerinden değildir?

- A) Hayal kırıklığı yaşatması
B) Stresi artırması
C) Gelecek kaygısı oluşturmaları
D) Dayanışmayı artırması

9. Aşağıdakilerden hangisi depremin zararlarını azaltmak için alınması gereken önlemlerden biri değildir?

- A) Yerleşim yerlerini sağlam zeminler üzerine inşa etmek
B) Ağaçlandırma yapmak
C) Bina yapımında dayanıklı malzemeler kullanmak
D) Deprem konusunda halkı bilinçlendirmek

- 10.



Yukarıda numaralanmış yerlerden hangisinde heyelan görülme ihtimali daha fazladır?

- A) I. B) II. C) III. D) IV.

11. • Tarım arazisi yapmak için ormanların yok edilmesi
• Hayvanların aşırı otlatılarak bitki örtüsünün yok edilmesi

İnsanların bu şekilde davranması aşağıdaki doğal afetlerden hangisinin oluşmasını hızlandırır?

- A) Deprem B) Orman Yangını
C) Erozyon D) Tsunami

12. Orman yangınlarının oluşmasında doğal ve beşerî nedenler etkilidir.

Aşağıdakilerden hangisi beşerî nedenlerden değildir?

- A) Yıldırım düşmesi B) Piknik ateşi
C) Sigara izmariti D) Cam kırıkları



İnsanlar, Yerler ve Çevreler - 3

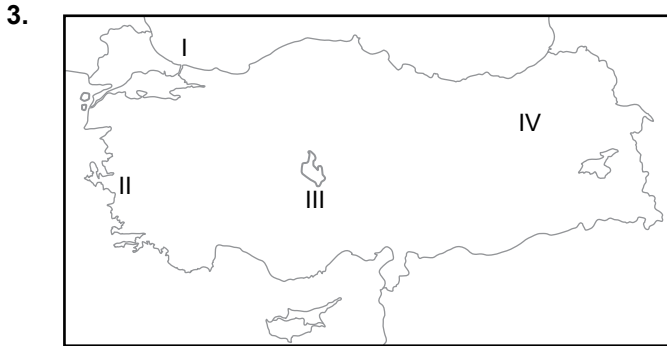
1. I. Van Gölü
II. Kaz Dağı
III. Amik Ovası
IV. Madran Dağı

Yukarıdakilerden hangileri fiziki haritada aynı renk ile gösterilir?

- A) I ve II. B) II ve III.
C) I ve III. D) II ve IV.

2. Aşağıdaki doğal afetlerden hangisinin oluşumunda hava olayları etkili olmamıştır?

- A) Sel B) Çığ
C) Kuraklık D) Deprem



Yukarıdaki harita incelendiğinde kaç numaralı bölgede deprem olma ihtimali daha azdır?

- A) I. B) II. C) III. D) IV.

4. Aşağıdaki doğal afetlerden hangisinin meydana gelmesinde aşırı yağış ve kar erimeleri etkilidir?

- A) Kuraklık B) Sel
C) Deprem D) Erozyon

5. Aşağıdakilerden hangisi doğal afetlerde meydana gelebilecek can ve mal kayıplarını azaltmaya yönelik yapılabilecek uygulamalardan değildir?

- A) Dere yataklarına yerleşilmesi
B) Doğal bitki örtüsünün korunması
C) Az katlı binalar inşa edilmesi
D) Ağaçlandırma yapılması

6. I. Yükselti
II. Denize yakınlık
III. Bitki örtüsü

Yukarıdakilerden hangilerinin iklimin oluşmasında etkili olduğu söylenir?

- A) Yalnız I. B) I ve II.
C) II ve III. D) I, II ve III.

İnsanlar, Yerler ve Çevreler - 3

7. Aşağıdakilerden hangisi iklimden etkilenmez?

- A) Tarım ürünlerinin çeşidi
- B) Mesken tipleri
- C) Yiyecek ve giyecek türleri
- D) Yer altı kaynakları

8. Aşağıdakilerden hangisi fiziki haritada yeşil renk ile gösterilebilir?

- A) Antalya Ovası
- B) Kızılırmak
- C) Uludağ
- D) Tuz Gölü

9. I. Ulaşımın kolay olması
II. Ilıman iklime sahip olması
III. Yer şekillerinin engebeli olması
IV. Sanayisinin gelişmiş olması

Yukarıdakilerden hangileri bir bölgenin yerleşim yeri olarak tercih edilmesinde etkilidir?

- A) I ve II.
- B) II ve III.
- C) I, II ve III.
- D) I, II ve IV.

10. Bir yerin nüfusunun fazla olmasının doğal ve beşeri sebepleri vardır. Bunlardan;

- I. Yeryüzü şekilleri,
- II. Ekonomik faaliyetler,
- III. İklim

hangileri doğal sebeplere dendir?

- A) Yalnız I.
- B) I ve II.
- C) I ve III.
- D) II ve III.

11. Aşağıdakilerden hangisi insanların istek ve ihtiyaçlarını karşılamak için doğal çevreyi kullanma biçimlerinden değildir?

- A) Enerji elde etmek için baraj yapılması
- B) Beslenmek için tarım yapılması
- C) Ulaşım için tünel açılması
- D) İletişim için telefon yapılması

12. Aşağıdakilerden hangisi çevre sorunlarının oluşmasında etkilidir?

- A) Kalitesiz yakıt kullanılması
- B) Güneş enerjisi kullanımı
- C) Atıkların ayrıştırılması
- D) Ormanların çoğaltılması



Bilim, Teknoloji ve Toplum - 1

1. Aşağıdakilerden hangisi doğru ve güvenilir bilgiye erişmek için alınan tedbirlerden değildir?

- A) Resmî sitelerden araştırma yapmak
- B) Bilimsel araştırmalardan yararlanmak
- C) Ulaşılan bilgileri başka kaynaklarla karşılaştırmak
- D) Güncel olmayan siteleri kullanmak

2. Aşağıda sosyal medya paylaşımlarımız ile ilgili bir internet haberi verilmiştir.

Geçtiğimiz yıl internet devlerinden birinin 1,5 milyar adet müşterisini etkileyen ve tarihin en büyük veri sızıntısı olarak kayda geçen siber saldırı dikkatleri bir kez daha veri güvenliği konusunun önemine çekti.

Buna göre aşağıdakilerden hangisine ulaşılabilir?

- A) Sosyal medya dikkatli kullanılmalıdır.
- B) Paylaşımlarımız istismar edilebilir.
- C) Paylaştığımız veriler güvende değildir.
- D) İnternet aile içi iletişimi olumsuz etkiler.

3. Günlük hava durumunu öğrenmek isteyen bir kişi en doğru bilgiye ulaşmak için aşağıda yer alan internet adreslerinden hangisinden faydalanmalıdır?

- A) Türk Dil Kurumu (www.tdk.gov.tr)
- B) Meteoroloji Genel Müdürlüğü (www.mgm.gov.tr)
- C) Millî Eğitim Bakanlığı (www.meb.gov.tr)
- D) Merkezî Hekim Randevu Sistemi (www.mhrs.gov.tr)

4. Aşağıdakilerden hangisi bilinçli bir internet kullanıcısının özellikleri olamaz?

- A) Paylaşılan herşeyin doğru olmayabileceğini bilir.
- B) Gerçekte suç sayılan bir şeyin, internette de suç olduğu bilincindedir.
- C) Doğruluğundan emin olmadığı aldatıcı paylaşımlarda bulunmaz.
- D) Sanal ortamda her şeyi paylaşmanın özgürlük olduğunu düşünür.

5. Aşağıdakilerden hangisi internetten güvenli alışveriş yapmak için dikkat edilmesi gerekenlerden değildir?

- A) Parola bilgileri gizli tutulmalıdır.
- B) Güvenlik önlemleri olan bilinir siteler tercih edilmelidir.
- C) Ortak kullanılan ağlar yerine kişisel ağ tercih edilmelidir.
- D) Doğum tarihi gibi kolay hatırlanabilir şifreler kullanılmalıdır.

6. Aşağıdakilerden hangisi bilgisayar kullanımının getirdiği faydalardan değildir?

- A) Hareketsiz yaşam artmıştır.
- B) Zamandan tasarruf edilmiştir.
- C) Bilgiye ulaşmak kolaylaşmıştır.
- D) İletişim ve haberleşme gelişmiştir.

7. Eski Mısır'da tarım faaliyetleri Nil nehrinin su seviyesine bağlıydı. Bu nehrin suları yılın belirli dönemlerinde yükselmekte, belirli dönemlerinde ise azalmaktaydı. Bunun için sel zamanını, tarım zamanını ve kuraklık zamanını gösteren bir takvim icat edildi.

Metne göre aşağıdakilerden hangisine ulaşamaz?

- A) Buluşlara deney ve gözlemler sonucu ulaşılmıştır.
B) İhtiyaçlar insanları buluş yapmaya itmiştir.
C) Ay yılı esaslı takvim icat edilmiştir.
D) Buluşlar insan hayatını kolaylaştırmıştır.

8. Teknoloji insanların yaşamlarını olumlu ya da olumsuz şekilde etkilemektedir.

Aşağıdakilerden hangisi teknolojinin olumsuz etkilerindendir?

- A) Gidilecek yere daha hızlı ulaşılması
B) Hastalıkların daha kolay tedavi edilmesi
C) Aile içi iletişimin zayıflaması
D) Kısa sürede hızlı üretim yapılması

9. Aşağıdakilerden hangisi bilim insanının ortak özelliklerinden değildir?

- A) Sorgulayıcı
B) Taraflı
C) Meraklı
D) Araştırmacı

10. Edison ampülü iki binden fazla yaptığı deneme sonucunda bulmuştur.

Yukarıdaki parçada bilim insanının hangi özelliği ön plana çıkmaktadır?

- A) Gözlemci
B) Sabırlı
C) Tutumlu
D) Şüpheli

11. I. Çıkarıcı
II. Araştırmacı
III. Şüpheli

Yukarıda verilen özelliklerden hangileri bilim insanlarına ait bir özelliktir?

- A) Yalnız I.
B) Yalnız II.
C) I ve II.
D) II ve III.

12. Aşağıdakilerden hangisi bilimsel araştırmalarda dikkat edilmesi gerekenlerden değildir?

- A) Kişilerin ifadelerini değiştirmeden belirtmek
B) Bilginin alındığı kaynağı belirtmek
C) Resmî ve uzman sitelerden faydalanmak
D) Tek kaynaktan yararlanmak



Bilim, Teknoloji ve Toplum - 2

1. Eskiden bilginin kaynağına ulaşmak için ansiklopediler, kütüphaneler ve kitapevleri ideal araçlardı. Bilgi ve iletişim çağı olarak adlandırılan günümüzde ise en büyük bilgi kaynağı internet olmaya başladı.

Aşağıdakilerden hangisi internette doğru ve güvenilir bilgiye erişmek için dikkat edilmesi gerekenlerden değildir?

- A) Farklı web sitelerindeki bilgileri karşılaştırmak
- B) İnternette karşılaşılan her bilgiyi doğru kabul etmek
- C) Güncel olan bilgilerden faydalanmak
- D) Edu uzantılı güvenilir siteleri tercih etmek

2. **Aşağıdakilerden hangisi sanal ortamda karşımıza çıkabilecek olumsuz durumlardan biri değildir?**

- A) Kişisel bilgilerimizin kötü niyetli kişilerce kullanılması
- B) İndirilen dosyalarda virüs bulunması
- C) Zamanın çoğunun internette kaybedilmesi
- D) Kurumsal uygulamalardan faydalanılması

3. Teknolojinin bize kazandırdığı en önemli yenilik bilişim alanında olmuştur. Artık, insanlar dünyanın neresinde olurlarsa olsunlar, çeşitli iletişim araçlarıyla istedikleri bilgiye ulaşabilmektedirler.

Aşağıdakilerden hangisi günümüzde fazla kullanılan iletişim araçlarından biri değildir?

- A) Telgraf
- B) Televizyon
- C) Bilgisayar
- D) Telefon

4. **Aşağıdakilerden hangisi bilim insanlarının özelliklerinden değildir?**

- A) Çalışmalarını sabırla sürdürmeleri
- B) İyi bir gözlemci olmaları
- C) Topluma faydası olacak çalışmalar yapmaları
- D) Bilgileri sorgulamadan kabul etmeleri

5. **Aşağıdakilerden hangisi, bilim insanları tarafından ortaya konulan buluşların yararlarından değildir?**

- A) Yaşam kalitesini artırması
- B) Eğitimi kolaylaştırması
- C) Zamandan tasarruf sağlaması
- D) İnsanları tüketime alıştırmayı

6. **Bilim insanı bilimsel çalışma yaparken aşağıdakilerden hangisinden yararlanmaz?**

- A) Deney
- B) Rivayet
- C) Araştırma
- D) Gözlem

7. Yeni araştırmalar yayınlayarak bilimin gelişimine destek vermeyi hedefleyen yayınlara “Bilimsel Dergi” denir.

Aşağıdakilerden hangisi bilimsel dergilerin amaçlarından biri değildir?

- A) Okurlarına bilimi sevdirmek
- B) Araştırma yapma duygusunu geliştirmek
- C) Okurlarını ezber yapmaya alıştırmak
- D) Bilimin gelişmesine destek vermek

8. • Türk İslam bilim adamıdır
• Tıp alanında yaptığı çalışmalarla tanınır
• Batı tıp biliminin temelini oluşturmuştur

Özellikleri verilen bilim insanı aşağıdakilerden hangisidir?

- | | |
|-----------------|----------------|
| A) İbni Sina | B) Mimar Sinan |
| C) Isaac Newton | D) Cahit Arf |

9. Bağımlılık; kişinin bedensel, ruhsal ve sosyal hayatını olumsuz etkiler. Bağımlılıklar toplumun felaketi sayılır.

Buna göre aşağıdakilerden hangisi teknoloji bağımlılarında görülen belirtilerden değildir?

- A) İnternette planladığından fazla zaman geçirmek
- B) Gece geç saatlere kadar bilgisayar başında kalmak
- C) Bilgisayardan uzakta iken gergin ve boşluktaymış gibi hissetmek
- D) Fatura ödemelerini internet bankacılığı ile yapmak

10. Aşağıdakilerden hangisi teknolojinin hayatımıza getirdiği katkılardan değildir?

- A) Yolculukların daha hızlı olması
- B) Bankacılık işlemlerinin kolay yapılması
- C) Ev işlerinin kısa sürede bitmesi
- D) Aile içi iletişimin giderek azalması

11. Aşağıdakilerden hangisi yaptığımız araştırmalarda yararlandığımız kaynakları göstermenin sonuçlarından biri değildir?

- A) Bilginin gerçek sahibini göstermiş oluruz.
- B) Çalışmamıza güvenilirlik katarız.
- C) Yazarın kârına ortak oluruz.
- D) Bilgi kaynağına başkalarının da ulaşmasına imkân vermiş oluruz.

12. Aşağıdakilerden hangisi buluş yapanların ve bilim insanlarının ortak özelliklerinden değildir?

- | | |
|----------------|----------------|
| A) Sorgulayıcı | B) Gözlemci |
| C) Aceleci | D) Araştırmacı |



Üretim, Dağıtım ve Tüketim - 1

1. Mardin evlerinin neredeyse tamamının yapımında da kullanılan malzeme taştır, bu taşlar normal taştan ayrı olarak açık renkli sarımsı bir yapıdadır.

Mardin de yapı malzemesi olarak taş tercih edilmesinin nedeni aşağıdakilerden hangisidir?

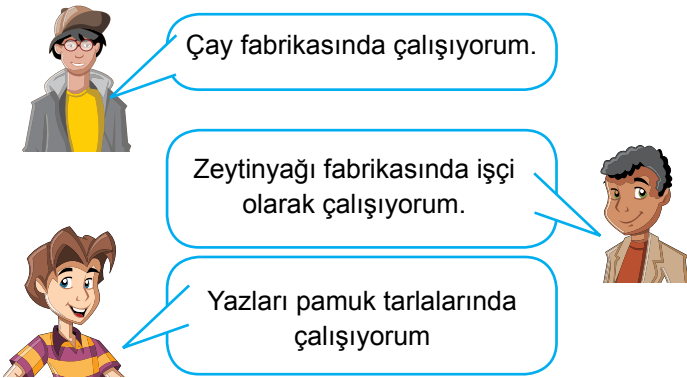
- A) Bölgede bol miktarda taş bulunması
- B) Depreme karşı taşın dayanıklı olması
- C) Taştan ev yapımının kolay ve hızlı olması
- D) Taşın yangına karşı direncinin yüksek olması

2. Kapadokya bölgesinde turizm faaliyetleri oldukça gelişmiştir.

Bu bölgede turizm faaliyetlerinin gelişmiş olmasının sebebi aşağıdakilerden hangisidir?

- A) Şelalelerin yaygın olması
- B) Kaplıcaların bulunması
- C) Yaz sıcaklığının yüksek olması
- D) Peribacalarının bulunması

3.



Yukarıda yaptıkları işler hakkında bilgi veren kişilerin sırasıyla aşağıdaki bölgelerden hangisinde iş bulma imkanları daha fazladır?

- A) Güneydoğu Anadolu - Karadeniz - Marmara
- B) Marmara - Güneydoğu Anadolu - Karadeniz
- C) Karadeniz - Marmara - Güneydoğu Anadolu
- D) Karadeniz - Güneydoğu Anadolu - Marmara

4. • Yükselti fazladır.
• Tarım alanları sınırlıdır.
• Yaz yağışları fazla olduğu için gür otlar vardır.

Yukarıda özellikleri verilen bir bölgede hangi ekonomik faaliyetin daha fazla gelişmesi beklenir?

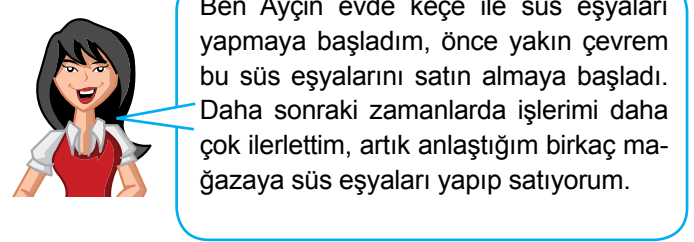
- A) Tarım
- B) Hayvancılık
- C) Turizm
- D) Sanayi

5. Bölgede doğal ve beşerî ortamın uygun olması, bölgedeki ekonomik faaliyetleri çeşitlendirmiştir. Keten, ayçiçeği, zeytin, mısır, buğday bunlardan bazılarıdır. Bölgenin önemli şehirlerinden İstanbul, tüm Türkiye'nin ithalat, ihracat, bankacılık ve sigortacılık merkezi hâline gelmiştir.

Yukarıdaki metinde özellikleri sıralanan bölge aşağıdakilerden hangisidir?

- A) Marmara Bölgesi
- B) Ege Bölgesi
- C) Akdeniz Bölgesi
- D) İç Anadolu Bölgesi

6.



Buna göre Ayçin Hanım ile ilgili,

- I. Üretime katkı sağlamıştır.
 - II. Girişimciliği başarılı olmuştur.
 - III. Ülke ekonomisine katkıda bulunmuştur.
- durumlarından hangilerine ulaşılabilir?**

- A) I ve II.
- B) I ve III.
- C) II ve III.
- D) I, II ve III.

Üretim, Dağıtım ve Tüketim - 1

7. I. Konya'da şeker pancarı tarımının yapılması
II. Şekerin Konya'da fabrikadan Ankara'ya getirilmesi
III. Yapılan tatlılarda şekerin kullanılması

Yukarıda verilen faaliyetlerin türü aşağıdakilerden hangisinde doğru olarak verilmiştir?

| I | II | III |
|------------|---------|---------|
| A) Üretim | Dağıtım | Tüketim |
| B) Dağıtım | Tüketim | Üretim |
| C) Üretim | Tüketim | Dağıtım |
| D) Dağıtım | Üretim | Tüketim |

8. Hammaddenin çabuk bozulabilir olduğu ürünlerin üretim tesisleri hammadde kaynağına yakın yerlerde kurulur.

Bu duruma aşağıdaki sanayi dallarından hangisi örnek gösterilemez?

- A) Konserve Fabrikaları
B) Çay Fabrikaları
C) Şeker Fabrikaları
D) Yünlü dokuma Fabrikaları

9. Tarımsal üretimin geliştirilmesi için aşağıdaki verilen bilgilerden hangisi yanlıştır?

- A) Tarım arazileri bölünüp küçültülmelidir.
B) Çiftçilere verimi yüksek, kaliteli tohumlar dağıtılmalıdır.
C) Çiftçiye uygun sulama yöntemleri konusunda bilgi verilmelidir.
D) Çiftçilere tohum ekimi ve gübreleme konusunda bilgi verilmelidir.

10. Doğu Anadolu Bölgesi en fazla göç veren bölgelerimizden biridir.

Aşağıdakilerden hangisi bu bölgenin göç vermesinin en önemli nedenidir?

- A) Yazların kurak geçmesi
B) Maden çeşitliliğinin fazla olması
C) Otlakların geniş yer kaplaması
D) İş imkanlarının yetersiz olması

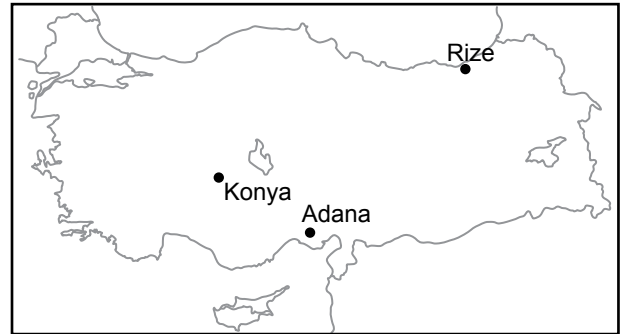
11. Karadeniz Bölgesi'nin;

- Uzun bir kıyı şeridine sahip olması
- Bitki örtüsünün orman olması
- Her mevsim yağışlı olması
- Engebeli yer şekillerine sahip olması

özellikleri dikkate alındığında aşağıdaki ekonomik faaliyetlerden hangisinin bölgede daha az gelişmesi beklenir?

- A) Balıkçılık
B) Ormancılık
C) Deniz Turizmi
D) Kağıt Sanayi

- 12.



Haritada verilen yerler ile bu yerlerde gelişen sanayi faaliyetleri hangi seçenekte doğru eşleştirilmiştir?

| Konya | Adana | Rize |
|----------------|-------------|-------------|
| A) Şeker fab. | Dokuma fab. | Çay fab. |
| B) Çay fab. | Dokuma fab. | Şeker fab. |
| C) Dokuma fab. | Şeker fab. | Çay fab. |
| D) Şeker fab. | Çay fab. | Dokuma fab. |



Üretim, Dağıtım ve Tüketim - 2

1. İş adamı Harun Bey, Aksaray'ın Ağaçören ilçesinde süt ürünleri fabrikası açmak istiyor.

Buna göre, fabrika kurulduğunda ilçede aşağıdaki gelişmelerden hangisinin olması beklenmez?

- A) İşsizlik azalır.
B) Göç verir.
C) Konut ihtiyacı artar.
D) Üretim artar.

2. İlkbahar mevsiminin kurak geçmesi buğday üretimini olumsuz etkilemektedir.

Bu durumdan aşağıdaki sanayi dallarından hangisi doğrudan etkilenir?

- A) Makarna fabrikaları
B) Zeytin yağı fabrikaları
C) Şeker fabrikaları
D) Süt ürünleri fabrikaları

3. Aşağıdakilerden hangisinin tarımsal üretime katkı sağladığı söylenebilir?

- A) Tarım arazilerinin dar olması
B) Yeryüzü şekillerinin engebeli olması
C) Sulama projelerinin uygulanması
D) Doğal afetlerin yaşanması

4. Ülkemizde ticaretin, sanayinin, ulaşımın ve hizmet sektörünün en fazla geliştiği illerden biri de İstanbul'dur.

Buna göre İstanbul'da aşağıdaki mesleklerden hangisinin daha az olması beklenir?

- A) Bankacı
B) Şoför
C) Tüccar
D) Çiftçi

5. Akdeniz Bölgesi önemli turizm merkezlerinin bulunduğu bir bölgedir. Ayrıca bölgede seracılık gibi tarımsal faaliyetler ön plandadır. Sanayi faaliyetleri ise çoğunlukla Adana ili sınırlarında yoğunlaşmıştır. Pamuklu dokuma, konserve, yağ fabrikaları ve otomotiv sanayi bunlardan bazılarıdır.

Buna göre Akdeniz Bölgesinde çalışmak isteyen bir kişinin aşağıdaki mesleklerden hangisini seçmesi uygun olmaz?

- A) Çiftçilik
B) Petrol mühendisliği
C) Turizm rehberliği
D) Ziraat mühendisliği

6.

I
Planlı olması

II
Hiç kimseye ihtiyaç duymadan çalışabilmesi

III
Sorumluluk sahibi olması

IV
Mücadeleci ve azimli olması

Yukarıda verilen kutucuklardan hangisi girişimci bir kişide bulunması gereken niteliklerden biri değildir?

- A) I
B) II
C) III
D) IV

Üretim, Dağıtım ve Tüketim - 2

7. Doğu Anadolu Bölgesi nüfus yoğunluğunun en az olduğu bölgemizdir.

Bu durumun nedeni olarak;

- I. Dışarıya göç vermesi,
- II. İş imkânlarının az olması,
- III. Büyükbaş hayvancılığın yapılması

faktörlerinden hangilerinin etkili olduğu söylenebilir?

- A) I ve II.
- B) I ve III.
- C) II ve III.
- D) I, II ve III.

8. Mine'nin babası Edirne'de ayçiçeği fabrikası kurmayı planlamaktadır.

Buna göre planlama yaparken;

- I. Ulaşım olanakları
- II. Ham maddeye yakınlık
- III. Sermaye

faktörlerinden hangilerini göz önünde bulundurmalıdır?

- A) I ve II.
- B) I ve III.
- C) II ve III.
- D) I, II ve III.

9. Aşağıdakilerden hangisi, bir bölgede tarımın gelişmesine daha az katkı sağlar?

- A) Geniş ve verimli arazilerin olması
- B) Ilıman iklim özelliğinin görülmesi
- C) Modern tarım yöntemlerinin kullanılması
- D) Nüfus yoğunluğunun fazla olması

10. Aşağıdakilerden hangisi Akdeniz Bölgesi'nde turizmin gelişmesinin nedenlerinden biri değildir?

- A) Yazların uzun sürmesi
- B) Doğal ve tarihî güzelliklerin olması
- C) Dağların denize paralel uzanması
- D) Deniz suyu sıcaklığının yüksek olması

11. Doğu Anadolu Bölgesi'nde yaz yağışlarının fazla olmasına bağlı olarak gür otlaklar bulunmaktadır.

Bu durum Doğu Anadolu Bölgesi'nde aşağıdaki ekonomik faaliyetlerden hangisinin yapılmasına daha uygundur?

- A) Sanayi
- B) Hayvancılık
- C) Turizm
- D) Tarım

12.



Yaşadığım yer deniz kenarındadır. Buranın iklimi çok güzel, kışları hiç üşümüyoruz. Yazları ise sıcak ve nemli oluyor. Biz yazları daha serin yerlere tatile giderken, diğer insanlar yaz tatilleri için buraya geliyorlar. Bölgemizde birçok ürün yetişebiliyor. İnsanlar av sezonunda balık avlamak için tekneleriyle denize açılıyorlar. Yaşadığım yeri çok seviyorum.

Alperen, yaşadığı bölgede hangi ekonomik faaliyetin yapıldığından söz etmemiştir?

- A) Tarım
- B) Balıkçılık
- C) Sanayi
- D) Turizm



7.

Biz bir elektrikli süpürge satın almıştık. Eve gelip kullandığımızda arızalı olduğunu gördük. Faturasıyla satıcıya götürdük. Fakat satıcı süpürgeyi değiştirmeyi kabul etmedi.



Bu durumda aşağıdakilerden hangisine başvurulması uygun değildir?

- A) İnsan Hakları Derneğine
- B) Tüketici Sorunları Hakem Heyetine
- C) Tüketici Mahkemelerine
- D) Tüketici Hakları Koruma Derneğine

8. **Bir bölgeye ait ekonomik ve coğrafi özelliklerden bazıları şunlardır:**

- Verimli topraklara sahiptir.
- Büyükbaş hayvan yetiştiriciliği yapılmaktadır
- Taşkömürü kaynağı fazladır.

verilen bilgilere göre bu bölgede aşağıdaki mesleklerden hangisinin daha az gelişmesi beklenir?

- A) Çiftçi
- B) Madencilik
- C) Marangoz
- D) Hayvancılık

9. Türkiye'de sanayinin en fazla geliştiği şehrimiz İstanbul'dur.

Aşağıdakilerden hangisi sanayi sektörünün İstanbul'da gelişmesinin sebeplerinden biri değildir?

- A) Ulaşımın kolay olması
- B) Enerji üretiminin çok olması
- C) Nitelikli insan gücünün fazla olması
- D) Satış olanaklarının çok olması

10. **İç Anadolu Bölgesi;**

- Geniş ova ve platolara sahiptir.
- Karasal iklim görülür.
- Un, makarna, bisküvi fabrikası vardır.

Buna göre aşağıdakilerden hangisine ulaşamaz?

- A) Tahıl üretimi yapılmaktadır.
- B) Karayolu yapımı kolaydır.
- C) Tarıma dayalı sanayi gelişmiştir.
- D) Ormancılık gelişmiştir.

11. Akdeniz Bölgesi'nin geniş kıyılara sahip olması ve bölgede yaz mevsiminin uzun sürmesi turizm faaliyetlerinin gelişmesini sağlamıştır.

Bölgede turizm faaliyetlerinde çalışmak için aşağıdaki mesleklerden hangisine ihtiyaç duyulmaz?

- A) Aşçılık
- B) Turizm rehberliği
- C) Otel işletmeciliği
- D) Ziraat mühendisi

12. Karadeniz Bölgesi en fazla göç veren bölgelerimizden biridir.

Aşağıdakilerden hangisi bu bölgede göçün fazla olma sebeplerinden biri değildir?

- A) Yer şekillerinin engebeli olması
- B) Taşkömürü yataklarının burada bulunması
- C) İş imkânlarının az olması
- D) Tarım arazilerinin az olması



Etkin Vatandaşlık - 1

1. Her kurumun yasalarca belirlenmiş görev ve sorumlulukları vardır.

Aşağıdakilerden hangisi sağlık kurumlarının görevlerinden biri değildir?

- A) Çöplerin zamanında toplanmasını sağlamak
- B) Bulaşıcı, salgın hastalıklara koruyucu önlem almak
- C) Tedavi edici hekimlik hizmetlerini yapmak
- D) Çocuk sağlığının korunmasını sağlamak

2. Sağlıklı ve temiz bir çevrede yaşamak, toplumun önemli ihtiyaçları arasındadır. Bu ihtiyacı karşılayan birçok kurum vardır.

Aşağıdakilerden hangisi bu kurumlardan değildir?

- A) Belediyeler
- B) Çevre ve Şehircilik Bakanlığı
- C) Orman ve Su İşleri Bakanlığı
- D) Adalet Bakanlığı

3. I. Çocuk Esirgeme Kurumu
II. Toplu Konut İdaresi (TOKİ)
III. Sağlık Ocakları
IV. Aşevleri

Yukarıdakilerden hangileri toplumun temel ihtiyacı olan barınma ile ilgili kurum ve kuruluşlardandır?

- A) I ve II.
- B) II ve III.
- C) II ve IV.
- D) III ve IV.

4. Devlet, toplumun temel ihtiyaçlarını karşılamakla sorumludur. Ancak nüfusun giderek artması dolayısıyla devlete destek olacak kuruluşlara ihtiyaç duyulmuştur.

Gönüllülerin desteğiyle toplum için hizmet eden bu kuruluş aşağıdakilerden hangisidir?

- A) Sivil Toplum Kuruluşları
- B) Sağlık Bakanlığı
- C) Adalet Bakanlığı
- D) Talim ve Terbiye Kurulu

5. **Aşağıda verilen kurumlardan hangisi diğerlerinden farklı bir ihtiyacın karşılanması için hizmet vermektedir?**

- A) Hastane
- B) Eczane
- C) Okul
- D) Dispanser

6. **Aşağıdakilerden hangisi sivil toplum kuruluşlarının faaliyet alanlarından biri değildir?**

- A) Hayvanların korunması
- B) İhtiyaç sahiplerine yardım
- C) Suçluların cezalandırılması
- D) Eğitim faaliyetlerinin desteklenmesi

7. Sivil toplum kuruluşları (STK) bireysel ya da toplumsal ihtiyaçları karşılar.

Buna göre;

- I. Sorumluluk duygusunu geliştirmesi,
- II. Dayanışma duygularını pekiştirmesi,
- III. Hoşgörülü olmayı öğretmesi,

ifadelerinden hangileri STK'ların toplum hayatımıza etkilerindendir?

- A) I ve II.
- B) I ve III.
- C) II ve III.
- D) I, II ve III.

8. • Topluma ağaç ve orman sevgisi kazandırmak
• Hayvancılığın temeli olan meraları koruyup geliştirmek
• Çölleşmeyle mücadelede dünyaya örnek olmak

Yukarıda kuruluş amaçları verilen sivil toplum kuruluşu hangisidir?

- A) ÇEVKO
- B) AKUT
- C) TEMA
- D) KIZILAY

9.



Yukarıda verilen sivil toplum kuruluşunun çalışmalarıyla ilgili olarak;

- I. Toplum sağlığını koruduğu,
- II. Çevreyi koruduğu,
- III. Kültürel değerleri koruduğu,

ifadelerinden hangileri söylenebilir?

- A) Yalnız I.
- B) Yalnız II.
- C) I ve III.
- D) II ve III.

10. Aşağıdakilerden hangisi kaymakamın sorumlu olduğu kurumlardan biridir?

- A) İl Emniyet Müdürlüğü
- B) İlçe Milli Eğitim Müdürlüğü
- C) Tarım İl Müdürlüğü
- D) İl Sağlık Müdürlüğü

11. Abdullah her sabah okuluna toplu taşıma araçları ile gitmektedir. Fakat mevcut hareket saatlerinin yetersiz olmasından dolayı okula geç kalmakta ya da okulda uzun süre beklemektedir.

Abdullah'ın bu sorunun çözümü aşağıdaki yerel yönetim birimlerinden hangisinin görev alanına girmektedir?

- A) Valilikler
- B) Belediyeler
- C) Muhtarlıklar
- D) Kaymakamlıklar

12. Aşağıdakilerden hangisi eğitim kurumlarının görev ve sorumluluklarından değildir?

- A) Eğitim öğretim hizmeti vermek
- B) Kişilerin kültürel farklılıklarını ortadan kaldırmak
- C) Kişileri yetenekleri doğrultusunda eğitmek
- D) Topluma uyumlu kişiler yetiştirmek



Etkin Vatandaşlık - 2

1. Her mahalle ve köyün bir yöneticisi vardır. Bu yönetici seçimle iş başına gelir ve devletin mahalle ya da köydeki en yetkili temsilcisidir.

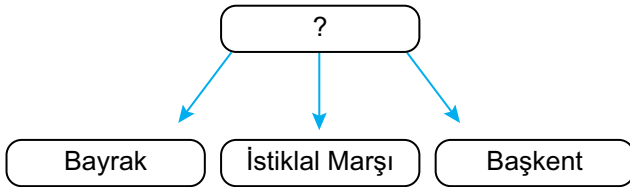
Hakkında bilgi verilen yerel yönetici aşağıdakilerden hangisidir?

- A) Vali
- B) Belediye başkanı
- C) Muhtar
- D) Kaymakam

2. Aşağıdakilerden hangisi çocuk haklarından biri değildir?

- A) Eğitim, kız erkek tüm çocuklara zorunludur.
- B) Çocuklar sağlıklı bir çevrede yaşamalıdır.
- C) Çocuklar düşüncelerini özgürce açıklayabilmelidir.
- D) Çocuklar fabrikalarda çalıştırılmalıdır.

3.



Yukarıdaki diyagrama getirilmesi gereken en uygun başlık aşağıdakilerden hangisidir?

- A) Merkezî Yönetim Birimleri
- B) Bağımsızlık Sembolleri
- C) Demokrasinin Temel İlkeleri
- D) Resmî Kurumlar

4. Çocuk Haklarına Dair Sözleşme'nin 12. Maddesi 'Çocuğun Katılım Hakkı' kendi görüşlerini oluşturma yeteneği olan her çocuğun kendini etkileyecek her konuda görüşlerini serbestçe ifade etmesi anlamını taşımaktadır.

Buna göre aşağıdakilerden hangisi katılım hakkına örnek gösterilemez?

- A) Okul öğrenci temsilcisi seçimlerinde aday olmak
- B) Hastalığımızın tedavisi için hastaneye gitmek
- C) Okulda yaşamımızı etkileyen konularda görüşlerimizi belirtmek
- D) Çevremizdeki sorunlarla ilgili düşüncelerimizi yetkililere iletmek

5. Kim bu cennet vatanın uğruna olmaz ki feda? Şüheda fışkıracak, toprağı sıksan şüheda. Canı, cananı, bütün varımı alsın da Hüda, Etmesin tek vatanımdan beni dünyada cüda.

İstiklal Marşımızın yukarıda verilen kıtasından hareketle Mehmet Akif ERSOY'un hangi kavrama vurgu yaptığı söylenebilir?

- A) Barış
- B) Yurt sevgisi
- C) Çağdaşlaşma
- D) Demokrasi

6. Türkiye Cumhuriyeti'nde;

- I. Anayasa
- II. TBMM
- III. Türk lirası

verilenlerden hangileri bağımsızlık sembollerindendir?

- A) I ve II.
- B) I ve III.
- C) II ve III.
- D) I, II ve III.

7. Türkiye'de ulusal egemenliğin yönetime yansıdığı ve yasaların yapıldığı kurum aşağıdakilerden hangisidir?

- A) Türk Dil Kurumu
- B) Türk Tarih Kurumu
- C) Türkiye Büyük Millet Meclisi
- D) Merkez Bankası

8. Valilik;

"İlimizdeki kuş gripi salgınının önlenmesi için bir dizi önlemler alınacağı kamuoyuna duyurulmuştur."

açıklamasına göre aşağıdakilerden hangisi söylenebilir?

- A) Güvenlik tedbirlerinin uygulanmasını sağlamıştır.
- B) Halkın sağlığını korumak için kararlar almıştır.
- C) Eğitimin aksamaması için önlem alınmıştır.
- D) Yasalara aykırı hareket etmiştir.

9. Fatma, annesine kendisini ilgilendiren bir konu ile ilgili görüşlerini bildirmiştir.

Buna göre annesinin Fatma'ya aşağıdaki cevaplarından hangisini vermesi düşünce özgürlüğüne saygılı olduğunu gösterir?

- A) Senin fikirlerin bizim için önemlidir.
- B) Sen anlamazsın, daha çok küçüksün.
- C) Bu konu seni hiç ilgilendirmiyor.
- D) Senin bu konuda söz söyleme hakkın yok!

10. Aşağıda verilen yönetim birimleri ve yöneticileri ile ilgili eşleştirmelerden hangisi yanlıştır?

| Yönetim Birimleri | Yöneticileri |
|-------------------|----------------|
| A) İl | Vali |
| B) Mahalle | İhtiyar Heyeti |
| C) İlçe | Kaymakam |
| D) Köy | Muhtar |

11. Aşağıdakilerden hangisi merkeze bağlı yönetim birimlerinden biri değildir?

- A) Çorum Belediyesi
- B) İl Sağlık Müdürlüğü
- C) Millî Eğitim Müdürlüğü
- D) Diyanet İşleri Başkanlığı

12. Şehit kanlarıyla, vermişim rengini,
Gökten Ay'la-Yıldızı koparmışım;
Yüreğimi koymuşum sana, yüreğimi;
Birde vatan sevgimi....
Sen dalgalan, ben coşayım,
Uğruna destanlar yazayım!...

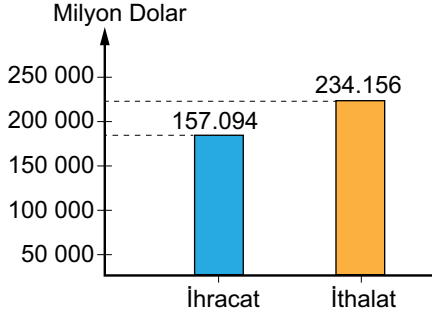
Yukarıdaki şiir bağımsızlık sembollerimizden hangisi ile ilgilidir?

- A) Bayrak
- B) İstiklal Marşı
- C) Başkent
- D) TBMM



Küresel Bağlantılar - 1

1. Aşağıda ülkemizin 2017 yılı İhracat ve İthalat grafiği verilmiştir.



Grafiğe bakarak aşağıdaki yargılardan hangisine ulaşılabilir?

- A) İthalat ihracattan fazladır.
B) Tarım ürünleri ihracatı fazladır.
C) İthalatta sanayii ürünlerinin payı fazladır.
D) Hammadde ihracatı sürekli artmıştır.
2. Günümüzde ülkeler arasındaki ticaret geçmişe göre daha hızlı ve güvenli bir şekilde yapılmaktadır.

Bunun nedeni aşağıdakilerden hangisidir?

- A) Tarımsal üretimin artması
B) Tüketimin giderek artması
C) Ulaşım araçlarının gelişmesi
D) İşgücünün ucuzlaması
3. Avrupa'da üretilmiş ancak ülkemizde henüz satışa sunulmamış bir ürünü sipariş ederken hangi iletişim ve ulaşım aracını kullanırsak daha hızlı getirmiş oluruz?

- A) İnternet-Havayolu
B) Gazete-Demiryolu
C) Telefon-Karayolu
D) Faks-Denizyolu

4. I. Üretilen ürün internet ortamında satışa sunulursa daha fazla müşteriye ulaşır.
II. Telefon, faks, (belge geçer), gibi icatlar iletişim amaçlı kullanılır.
III. Ülkeler arası ekonomik ilişkilerin kolaylaşmasında ulaşım araçlarının etkisi yoktur.

İletişim ve ulaşım teknolojisiyle ilgili yukarıda verilen bilgilerden hangisi yanlıştır?

- A) Yalnız I. B) Yalnız III.
C) I ve II. D) II ve III.

5. Aşağıdakilerden hangisi dış ticaret kapsamında kullanılan en hızlı ulaşım aracıdır?

- A)  Karayolu
B)  Havayolu
C)  Demiryolu
D)  Denizyolu

6. Üretilen ürünü satabilmek için reklam gereklidir. Reklamların amacı az zamanda daha fazla alıcıya ürünü tanıtmaktır.

Üretici firmalar az zamanda daha fazla müşteriye ürünü tanıtmak için aşağıdaki iletişim araçlarından hangisini tercih etmelidir?

- A) Telefon B) Fax
C) Dergi D) Televizyon

Küresel Bağlantılar - 1

7. Mal ve hizmetlerin alım satımı, alışveriş olarak adlandırılmaktadır. Yapılan alışveriş ülke sınırları içinde ise ____ (I) ____ ülke sınırları dışında ise ____ (II) ____ olarak adlandırılmaktadır.

Metinde boş bırakılan yerlere sırası ile aşağıdakilerden hangisi getirilmelidir?

| | I | II |
|----|------------|-------------|
| A) | Alışveriş | Ekonomi |
| B) | İç ticaret | Dış ticaret |
| C) | İthalat | İhracat |
| D) | Ticaret | Ekonomi |

8. Denizli'nin Tavas ilçesine bağlı Kızılcabölük beldesinde 650 yıldır geleneksel yöntemlerle üretimi sürdürülen el dokuması peştamallar, ABD, İngiltere, İtalya, Fransa, Almanya, Avustralya gibi ülkelere satılmaktadır.

Ülkemizden bu ülkelere yapılan ticarete ne ad verilir?

- | | |
|---------------|------------|
| A) İthalat | B) Turizm |
| C) İç ticaret | D) İhracat |

9. Aşağıdakilerden hangisi ülkeler arası ekonomik ilişkilerin kolaylaşmasında internetin faydalarından biri değildir?

- A) Ürünlerin reklamının yapılması
B) Ürünlere daha kolay ulaşılması
C) Ürünlerin dayanıklılığının artması
D) Ürünlerin kargo takibinin yapılması

- 10.



Babür Devleti'nde Şah Cihan tarafından eşi Ercüment Banu'nun ölümü üzerine bu eser yaptırılmıştır. 4 minareli olan bu eserin kubbесinin yerden yüksekliği 82 metredir. Yapımında Osmanlı Devleti'nden de mimarların katıldığı bu binanın yapımında zümrüt, yakut, pırlanta gibi değerli taşlar kullanılmıştır.

Turist rehberi Ahmet tarafından yukarıda özellikleri verilen tarihi eser aşağıdakilerden hangisidir?

- | | |
|-------------------|-----------------|
| A) Keops Piramidi | B) Eyfel Kulesi |
| C) Tac Mahal | D) Çin Seddi |

11. Uluslararası ticarete taşıma maliyetinin düşük olması önemli bir unsurdur. Bunun için tek seferde çok fazla yük taşıyan ulaşım araçları tercih edilmektedir.

Buna göre ülkeler arasında yapılan ticarete ulaşım maliyetlerini azaltmak için aşağıdaki ulaşım yollarından hangisi tercih edilmelidir?

- | | |
|--------------|--------------|
| A) Havayolu | B) Denizyolu |
| C) Demiryolu | D) Karayolu |

12. Aşağıdakilerden hangisi turizmin uluslararası ilişkilere katkılarında biri değildir?

- A) Turistik etkinliklerin yapıldığı yerlerde gıda fiyatları artar.
B) Farklı ülke insanları arasında dostluklar kurulur.
C) İnsanlar arası kültürel bağların kurulmasını sağlar.
D) Dünyada barışın sağlanmasına katkı sağlar.



Küresel Bağlantılar - 2

1. Günümüzde iletişim teknolojisinin oldukça gelişmiş olması ticareti de kolaylaştırmıştır.

Aşağıdakilerden hangisi bu duruma örnek olarak gösterilebilir?

- A) İnternet üzerinden alışveriş yapılması
B) Demiryolu ağlarının artırılması
C) Boru hatları ile ülkeler arası taşımacılığın artması
D) Turizmin yeni iş olanakları sağlaması

2. Aşağıdakilerden hangisi Fransa'ya giden turistlerin görebileceği kültürel öğelerden biridir?



Pisa Kulesi



Piramitler



Truva Atı



Eyfel kulesi

3. İnsanlığın hem geçmişini hem de geleceği içerisine alan maddi ve manevi değerlerin bütününe adı verilir.

Yukarıdaki cümlede boş bırakılan yere aşağıda verilen ifadelerden hangisi getirilmelidir?

- A) Tarihi nesneler
B) Doğal güzellikler
C) Millî değerler
D) Ortak miras

4. Aşağıdakilerden hangisi turizmin sosyal ve kültürel faydaları arasında gösterilemez?

- A) Milletler arasında dayanışma sağlanması
B) Devletler arasındaki işbirliği geliştirilmesi
C) Orman alanlarının yerleşime açılması
D) Kültürler arası etkileşim sağlanması

5. Trabzon'un Maçka ilçesinin Altındere Vadisine hâkim Karadağ eteklerinde Sarp bir kayalık üzerine kurulmuş olan, halk arasında Meryem Ana adı ile anılır.

Yukarıdaki boşluğa hangisi getirilmelidir?

- A) Kız Kulesi
B) Sümela Manastırı
C) Nemrut Heykelleri
D) Truva Atı

6. I. Doğal ve tarihî mekânların tanınması
II. Kültürler arası etkileşim yaşanması
III. Ekonomik faaliyetlerin azalması

Yukarıda verilenlerden hangisi turizmin uluslararası ilişkilerdeki olumlu etkisine örnek gösterilebilir?

- A) Yalnız I.
B) Yalnız II.
C) I ve II.
D) II ve III.

Küresel Bağlantılar - 2

7.



Yukarıda Türk tarihinin en eski yazılı belgeleri olan Orhun Abideleri gösterilmiştir. Bu belgeler aşağıda verilen ülkelerin hangisinde bulunmaktadır?

- A) Azerbaycan B) Moğolistan
C) İran D) Türkmenistan

8. Ortak miras değerlerimizle ilgili verilen bilgilerden hangisi yanlıştır?

- A) Tarihi bir geçmişe sahiptir.
B) Korumak yalnız devletin görevidir.
C) Yüzyıllar boyu süren birikimin sonucudur.
D) Korunmasında müzeler önemli bir yere sahiptir.

9. Aşağıda verilen kültürel öge ve bulunduğu il eşleştirmelerinden hangisi yanlıştır?

| Kültürel Öge | Bulunduğu İl |
|-------------------|--------------|
| A) Galata Kulesi | Ankara |
| B) Yivli Minare | Antalya |
| C) Topkapı sarayı | İstanbul |
| D) Selimiye Camii | Edirne |

10. • Hattuşaş – Çorum

- Truva Antik Kenti – Çanakkale
- Nemrut Dağı – Adıyaman
- Selimiye Cami ve Külliyesi – Edirne

Ülkemizde bulunan bu tarihi eserler UNESCO tarafından dünya mirasları listesine alınmışlardır.

Bu eserlerin dünya mirası olarak görülmesinin nedenleri arasında aşağıdakilerden hangisinin etkisi yoktur?

- A) Eşsiz ve benzersiz eserler olmaları
B) Dünyanın sayılı doğal ve tarihi güzellikleri olmaları.
C) Ülkemizin farklı şehirlerinde yer almaları
D) İnsanlığın ortak değerleri sayılmaları

11. Aşağıda verilen kuruluşlardan hangisi dünya ortak mirasını korumak amacıyla kurulmuştur?

- A) LÖSEV B) NATO
C) UNESCO D) TEMA

12. Turizm; dinlenmek, eğlenmek, görmek ve tanımak gibi amaçlarla yapılan gezilerdir.

Aşağıdakilerden hangisi turizmin ülke ekonomisine katkıları arasında gösterilemez?

- A) Üretim ve tüketimi artırır.
B) Ülkeye döviz girdisi sağlar.
C) Ekonomik canlılık sağlar.
D) Farklı kültürlerin birbirini tanımasını sağlar.





| | | | | | | | | | | | | |
|---------|------|------|------|------|------|------|------|------|------|-------|-------|-------|
| Test 1 | 1. D | 2. B | 3. D | 4. B | 5. D | 6. C | 7. D | 8. B | 9. C | 10. C | 11. D | 12. B |
| Test 2 | 1. A | 2. C | 3. B | 4. A | 5. B | 6. B | 7. C | 8. D | 9. A | 10. B | 11. D | 12. C |
| Test 3 | 1. A | 2. D | 3. B | 4. A | 5. C | 6. C | 7. B | 8. A | 9. B | 10. D | 11. D | 12. C |
| Test 4 | 1. B | 2. D | 3. D | 4. B | 5. D | 6. D | 7. A | 8. A | 9. A | 10. B | 11. A | 12. B |
| Test 5 | 1. C | 2. A | 3. B | 4. C | 5. D | 6. D | 7. C | 8. A | 9. C | 10. C | 11. D | 12. A |
| Test 6 | 1. B | 2. B | 3. D | 4. C | 5. B | 6. D | 7. D | 8. D | 9. B | 10. C | 11. C | 12. A |
| Test 7 | 1. D | 2. D | 3. C | 4. B | 5. A | 6. B | 7. D | 8. A | 9. D | 10. C | 11. D | 12. A |
| Test 8 | 1. D | 2. D | 3. B | 4. D | 5. D | 6. A | 7. C | 8. C | 9. B | 10. B | 11. D | 12. D |
| Test 9 | 1. B | 2. D | 3. A | 4. D | 5. D | 6. B | 7. C | 8. A | 9. D | 10. D | 11. C | 12. C |
| Test 10 | 1. A | 2. D | 3. C | 4. B | 5. A | 6. D | 7. A | 8. D | 9. A | 10. D | 11. C | 12. A |
| Test 11 | 1. B | 2. A | 3. C | 4. D | 5. B | 6. B | 7. A | 8. D | 9. D | 10. C | 11. B | 12. C |
| Test 12 | 1. A | 2. B | 3. C | 4. C | 5. D | 6. C | 7. A | 8. C | 9. B | 10. D | 11. D | 12. C |
| Test 13 | 1. A | 2. D | 3. A | 4. A | 5. C | 6. C | 7. D | 8. C | 9. A | 10. B | 11. B | 12. B |
| Test 14 | 1. C | 2. D | 3. B | 4. B | 5. B | 6. D | 7. C | 8. B | 9. A | 10. B | 11. A | 12. A |
| Test 15 | 1. A | 2. C | 3. A | 4. B | 5. B | 6. D | 7. B | 8. D | 9. C | 10. C | 11. B | 12. A |
| Test 16 | 1. A | 2. D | 3. D | 4. C | 5. B | 6. B | 7. B | 8. B | 9. A | 10. C | 11. C | 12. D |