

İLETİŞİM VE İNSAN İLİŞKİLERİ - 1

1. Tabloda verilen bilgilerden hangisi doğrudur?

	İletişimi Olumlu Etkileyen Faktörler	İletişimi Olumsuz Etkileyen Faktörler
A)	Dikkatle ve içten dinlemek	Sürekli eleştirmek
B)	Karşıımızdaki kü-çük görmek	Karşıımızdakine say-gı göstermek
C)	İsteklerimizi kabul ettirmeye çalışmak	Dikkatimizi karşıın-daki kişiye vermek
D)	Dinlerken başka bir işle meşgul olmak	Dinlerken vereceği cevabı düşünmek

2. Okulumuzun bahçesinde arkadaşlarımla birlikte ip atlama oyunu oynuyorduk. Bu arada bizi gören Sümeyye de oyuna katılmak için yanımıza gelmişti. Ancak Sümeyye bizler kadar yükseğe sıçrayamadığı için ip atlamayı bir türlü başaramıyordu. Sümeyye sıranın kendisine geldiğinde tam yeni bir denemeye hazırlanıyordu ki Meltem'in küçümseyici bir yüz ifadesiyle kendisine gülümsediğini fark etti. Bunun üzerine ip atlamaktan vazgeçti ve üzüntülü bir şekilde kenara çekildi.

MEB 2016 - 2017

Meltem, iletişimi etkileyen hangi davranışa dikkat etmiştir?

- A) İletişimde beden dilini kullanma
- B) İletişimde farklılıklara saygı duyma
- C) İletişimde göz teması kurma
- D) Karşıdaki kişinin duygu ve düşüncelerine odaklanma

3. Aşağıdakilerden hangisi iyi bir dinleyicinin özelliklerinden biri değildir?

- A) Son sözü söylemek için çabalar.
- B) Karşıındaki kişinin konuşmasını ilgiyle dinler.
- C) Yargılamadan, suçlamadan dinler.
- D) Dinlemek istediğini ve ilgilendiğini karşı tarafa hissettirir.

4. • Sağlıklı iletişim kurmak için düşüncelerimizi açıkça söylemeliyiz.
- Karşıımızdaki kişiyle göz teması kurarak davranışlarını gözlemleyebiliriz.
- Bireylerin hareketlerine ve beden diline bakarak olumlu iletişim kurabiliriz.

Buna göre aşağıdakilerden hangisi iletişimi olumlu etkileyen davranışlardan biri değildir?

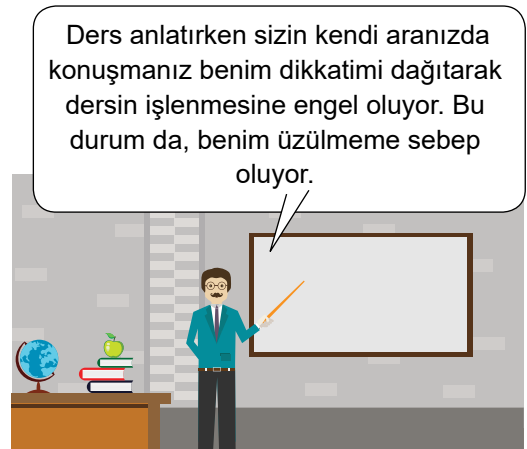
- A) Söylediklerimizde anlaşılır olmak
- B) İletişimde göz temasına yer vermek
- C) Jest ve mimikleri kullanmak
- D) Sürekli konuşmak

5. Başkalarıyla iyi iletişim kurabilmek için kişilere olumlu yaklaşmalı ve nazik davranmalıyız. Başkalarına karşı ön yargısız olmak, onları dikkatle dinlemek, onlarla empati kurmak olumlu iletişim kurmamıza yardımcı olabilir.

Buna göre aşağıdakilerden hangisi iletişimi olumlu etkileyen davranışlardan biri değildir?

- A) Ön yargılı olmak
- B) Empati kurabilmek
- C) İyi dinlemek
- D) Kibar olmak

6.



Yukarıda verilen örnekte öğretmenin kullandığı iletişim dili aşağıdakilerden hangisidir?

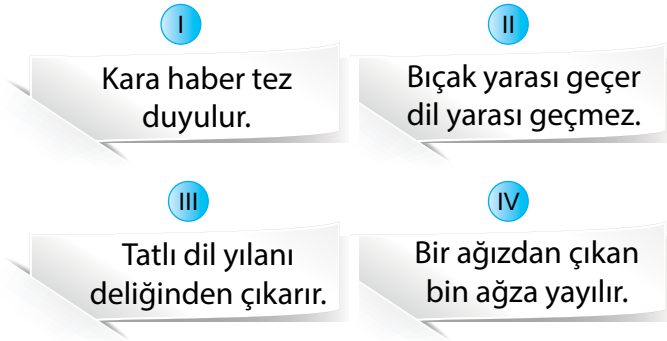
- A) Sempatî
- B) Ben dili
- C) Empati
- D) Sen dili

İLETİŞİM VE İNSAN İLİŞKİLERİ - 1

7. Karşısındaki kişiyle iyi iletişim kurmak isteyen Ahmet'in aşağıda verilen davranışlardan hangisini yapması doğru olmaz?

- A) Karşısındaki kişiye saygı duyması
- B) Sakin bir tavırla karşısındakini dinlemesi
- C) Karşısındaki kişi ile göz teması kurması
- D) Çok yüksek sesle konuşması

8.



MEB 2016 - 2017

Yukarıda verilen atasözlerinden hangisi insanlar arasında kurulacak ilişkilerde olumlu dilin etkisine örnektir?

- A) I
- B) II
- C) III
- D) IV

9. Ayşe Hanım "a" deterjanını kullanıyordu. Bir gün televizyonda "b" deterjanı ile ilgili bir reklam izledi. Ertesi gün alışveriş için markete gittiğinde deterjan reyonunda "b" deterjanını görünce denemekten zarar gelmez diyerek "b" deterjanını aldı.

Yukarıdaki metinde kitle iletişim araçlarının hangi özelliğinden bahsedilmektedir?

- A) İnsanların eğitimindeki öneminden
- B) İnsanlara ihtiyacı olmayan ürünleri aldırmasından
- C) Reklamların tüketici üzerindeki etkilerinden
- D) Aynı anda birden fazla insana ulaşabilme özelliğinden

10. Mert, Suriyelilerin ülkesine gelmesini istemiyordu. "Ne işleri var bizim ülkemizde gitsinler kendi ülkelerini kurtarıp orada yaşasınlar" düşüncesindeydi. Ancak bir gün Suriye'deki bir şehre düşen bombaları, ortaya çıkardığı yıkımı ve insanlara verdiği zararları televizyonda görünce fikri tamamen değişti. Artık onların neden ülkelerini terk ettiklerini daha iyi anlıyordu. Savunmasız bir şekilde ölmek için...

Metne göre Mert'in fikrinin değişmesinde kitle iletişim araçlarının hangi yönü etkili olmuştur?

- A) Dünyanın herhangi bir yerindeki insanların durumları ile ilgili bilgi vermesi
- B) İnsanların eğitimleri ile ilgili programlar yayınlayarak insanları eğitmesi
- C) Birden çok insana aynı anda ulaşarak kamuoyu oluşturması
- D) Çeşitli programlarla insanların iyi vakit geçirmelerini sağlaması

11. Kısa zamanda çok sayıda kişiye ulaşan haberleşme araçlarına kitle iletişim araçları denir.

Aşağıdakilerden hangisi bir kitle iletişim aracı değildir?

- A) Televizyon
- B) İnternet
- C) Telgraf
- D) Gazete

12. Aşağıdakilerden hangisi kitle iletişim araçlarının olumsuz yönüne örnek olarak gösterilebilir?

- A) Ahmet okul ödevini internetten araştırarak tamamladı.
- B) Cemil zamanının büyük bir kısmını televizyon karşısında geçiriyor.
- C) Özlem'in televizyonlardaki belgesellere karşı özel bir ilgisi var.
- D) Ceyda, TRT Okul kanalından çok faydalaniyor.



İLETİŞİM VE İNSAN İLİŞKİLERİ - 2

1. Kitle iletişim araçlarının en önemli görevlerinden biride kamuoyu oluşturmaktır.

Aşağıdakilerden hangisi kamuoyu oluşturulmasına örnek gösterilemez?

- A) Kız çocuklarının okula gönderilmesi ile ilgili afişler hazırlanması
- B) Televizyon programlarında organ bağışı ile ilgili haberlere yer verilmesi
- C) Küçük çocuklar için çizgi filmlerin yayınlanması
- D) Kız çocukları için sanatçıların televizyonlarda eğitim kampanyaları yapmaları

2. Piyasaya yeni çıkarılan bir ürünü hangi kitle iletişim aracını kullanırsak daha çok insan ulaştırır ve ürünü müz daha iyi pazarlayabiliriz?

- A) Gazete
- B) Dergi
- C) Radyo
- D) Televizyon

3. Bir medya çalışanının haber yaparken;

- I. İnsan hak ve özgürlüklerini korumak
- II. Mesleğini şahsi çıkarları için kullanmamak
- III. Farklı düşünce ve fikirlere saygılı olmak

gibi durumlardan hangilerini dikkate alması gerekmektedir?

- A) I ve II
- B) I ve III
- C) II ve III
- D) I, II ve III

- 4.

Madde 28.
Basın hürdür, sansür edilemez.
Devlet, basın ve haber alma hürriyetlerini
sağlayacak tedbirleri alır.

Bu madde ile aşağıdaki özgürlüklerden hangisi arasında bağlantı kurulabilir?

- A) Konut dokunulmazlığı
- B) Düşünce ve ifade özgürlüğü
- C) Özel hayatın gizliliği
- D) Bilim ve sanat özgürlüğü

5. Bir gazeteci, ünlü bir sporcunun tatilde izinsiz olarak fotoğraflarını çekmiş ayrıca fotoğrafı kullanarak sporcunun kaza geçirdiği şeklinde yanlış bir haber yapmıştır.

Bu gazeteci ile ilgili olarak;

- I. Konut dokunulmazlığı
- II. Özel yaşamın gizliliği
- III. Doğru haber alma hakkı

gibi durumlardan hangilerini ihlal ettiği söylenebilir?

- A) I ve II
- B) I ve III
- C) II ve III
- D) I, II ve III

6. Üç çocuğu olan Menekşe Hanım; sabah izlediği televizyon programındaki bir haberin çocukların psikolojilerini olumsuz etkileyeceğinden endişelenmiştir.

Menekşe hanım bu konudaki rahatsızlığını ve şikayetini hangi kuruma iletmelidir?

- A) Sağlık Bakanlığı
- B) Gençlik ve Spor Genel Müdürlüğü
- C) Radyo ve Televizyon Üst Kurulu
- D) Kültür ve Turizm Bakanlığı

İLETİŞİM VE İNSAN İLİŞKİLERİ - 2

7. İstanbul'da üniversite öğrencisi olan Çınar, bir gazete haberinde bir yakınının trafik kazası geçirdiğini okur ve hemen ailesini arar, ancak haberin gerçek olmadığını öğrenir.

Buna göre haberi yayınlayan gazete hangi hakkı gözard etmiştir?

- A) Doğru haber alma hakkı
B) Özel hayatın gizliliği
C) Basın ve yayın özgürlüğü
D) Sağlık hakkı

8. I. Ahmet'in özgürce muhabirlik mesleğini yapması
II. Murat ve ailesinin madencilik yapmak için Sinop'tan Zonguldak'a taşınması

Yukarıda açıklamaları verilen haklar hangileridir?

	I	II
A)	Basın özgürlüğü	Düşünce özgürlüğü
B)	Özel hayatın gizliliği	Seçme ve seçilme hakkı
C)	Düşünce özgürlüğü	Özel hayatın gizliliği
D)	Basın özgürlüğü	Yerleşme ve seyahat hakkı

9. Aşağıda verilen öğrencilerden hangisinin kurmuş olduğu cümle "Ben Dili"ne örnektir?

- A) Yasin: Kitap okurken beni rahatsız etmeni istemiyorum.
B) Şengül: O davranışları senden hiç beklemezdim.
C) Mehmet: Senden de yaramazlıklarından da bıktım artık.
D) Aygül: Arkadaşlarını rahatsız etmen düşüncesizce davranış olduğunu gösteriyor.

10. Aşağıdakilerden hangisi "Basın Ahlak Yasası" kapsamında değildir?

- A) Gazetenin şahsi taraf tutan kanaatlerine yer verilmez.
B) Yanlış bilgilerden dolayı gazeteler cevap ve düzeltmeler yapmalıdır.
C) Ahlaka aykırı yayında bulunulmaz.
D) Gazetede duyguları istismar edilebilir.

11. Mustafa Kemal Paşa, Fethi Bey'e "Memleketi perişan eden kötülükler, saldırılar ve yıkımlar daha çok gazeteler vasıtasıyla oluyor. Bunlara karşı milleti uyandırmak için en iyi vasıta aynı yolla karşılık vermek, yani bir gazete çıkarmaktır. Gerçekleri halka, hatta düşmanlarımıza anlatabilmek için hadi gel beraberce gazete çıkaralım." dedi.

Fethi Bey, Mustafa Kemal Paşa'nın önerisini kabul eder ve Minber adını verdikleri gazeteyi çıkarmaya başlarlar.

Buna göre aşağıdakilerden hangisi Mustafa Kemal'in gazete çıkarma nedenlerinden biri değildir?

- A) Ülkemizle ilgili yapılan karalama çalışmalarına karşılık vermek
B) Yaşanan olaylar karşısında halkı bilinçlendirmek
C) Düşmanın silahı ile silahlanmak
D) Gazete sahibi olmak

12. "Bir insanın, herhangi bir yerde söylediği sözleri sadece orada bulunanlar işitebilir, tesiri ani ve sınırlıdır. Bu sözler radyo ile söylenirse bütün dünya işitebilir. Telgraf da fikirlerin yayılmasında en seri araçtır. Fakat söz, bir gramofon plağına geçerse özellikle bir gazete ya da kitaba geçerse fikir, yazılı hale gelmiş olur ve bütün dünyada okunur, doğal olarak gelecek nesillere de ulaşır."

Mustafa Kemal Atatürk'ün bu sözünden aşağıdakilerden hangisi çıkarılamaz?

- A) Söylenen sözlerin uzun süre kalıcı olmadığı
B) Düşüncelerin en hızlı telgraf yoluyla yayıldığı
C) En etkili iletişim aracının radyo olduğu
D) Fikirlerin kaydedilirse kalıcı olduğu ve gelecek kuşaklara ulaştığı

MEB 2016 - 2017

ÜLKEMİZDE NÜFUS - 1

1. I. Sağlık sorunları
II. Uluslararası antlaşmalar
III. İş imkanları
IV. Kuraklık

Yukarıda verilen faktörlerden hangisi ekonomik nedenlerle yapılan göç sebepleri arasında gösterilebilir?

- A) I B) II C) III D) IV

2.



Mete Bey yaz tatili için Hindistan'a ailece gidecektir. Böylece bu ülkeyle ilgili bilgi sahibi olacaktır.

Mete Bey'in tatil için Hindistan'a gitmesi göç türlerinden hangisine örnek olabilir?

- A) Mübadele göçü B) İç göç
C) Beyin göçü D) Turizm göçü

3. Ülkemizden yurt dışına yapılan göçlerden biri de beyin göçüdür. Beyin göçü; iyi eğitim almış, donanımlı bireylerin çeşitli nedenlerle başka bir ülkeye yerleşmesi ve çalışmalarını o ülkede gerçekleştirmesidir.

Bir ülkenin beyin göçü vermesinde;

- I. Düşük çalışma ücretleri
II. Fikir ve buluşların destek görmemesi
III. Doğal afetler

gibi faktörlerden hangileri etkilidir?

- A) I ve II B) I ve III
C) II ve III D) I, II ve III

4. Bir ülkede iç göçün artmasının sonucu olarak;

- I. Ülke nüfusunun dengesiz dağılması
II. Çarpık kentleşme
III. Alt yapı sorunlarının yaşanması

gibi sorunlardan hangilerinin ortaya çıkması beklenir?

- A) Yalnız I B) I ve II
C) II ve III D) I, II ve III

5.



Yukarıdaki Türkiye haritasında numaralandırılmış yerlerden hangileri en fazla, iç göç alan merkezlere örnek verilebilir?

- A) I ve II B) I ve IV
C) II ve III D) III ve V

6.

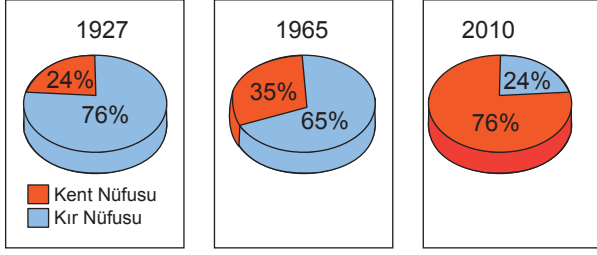
Nüfusun Dağılımını Etkileyen Faktörler	
Doğal Faktörler	Beşeri Faktörler
İklim	Tarım
Yer Şekilleri	Sanayi
Bitki Örtüsü	Ulaşım
?	?

Tablodaki soru işareti olan yerlere aşağıdakilerden hangileri gelmelidir?

- A) Turizm - Su kaynakları
B) Su kaynakları - Turizm
C) Ticaret - Kara ve denizlerin dağılımı
D) Eğitim - Verimli tarım alanları

ÜLKEMİZDE NÜFUS - 1

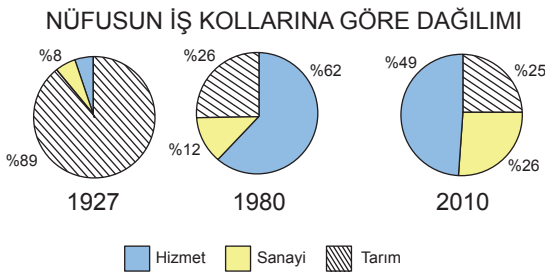
7.



Türkiye'nin kır ve kent nüfus oranlarının gösterildiği grafiğe göre aşağıdakilerden hangisi doğrudur?

- A) 1965 yılında kent nüfusunun az olmasında yurt dışına yapılan göçler etkili olmuştur.
- B) 1927 yılında kent nüfusu kır nüfusundan fazladır.
- C) 1927 yılından 2010 yılına kadar kent nüfusu sürekli artmıştır.
- D) 2010 yılında ülke nüfusu 1965 yılı ülke nüfusundan daha fazladır.

8.



Türkiye nüfusunun iş kollarına göre dağılımının verildiği yukarıdaki grafiklere göre hangisi söylenemez?

- A) 1927 yılında nüfusun büyük çoğunluğu tarım sektöründe çalışmıştır.
- B) 1927 ve 2010 yılları arasında oransal olarak en büyük değişim tarım alanında yaşanmıştır.
- C) 1927 yılında itibaren sanayide çalışan nüfus oranı artmıştır.
- D) 1927 ve 2010 yılları arasında tarımda çalışan nüfus oranı sürekli artmıştır.

9.

Bölge adı	Nüfus	Yüzölçümü
Marmara	23.608.079	67.300 km ²
İç Anadolu	12.381.363	162.000 km ²
Ege	10.023.549	85.000 km ²
Akdeniz	9.906.771	122.100 km ²
Güneydoğu Anadolu	8.250.718	61.000 km ²
Karadeniz	6.998.998	146.178 km ²
Doğu Anadolu	5.927.630	171.000 km ²

Yukarıda verilen tabloya göre aşağıdaki yargılardan hangisine ulaşılabilir?

- A) Marmara Bölgesi'nin nüfus yoğunluğu Karadeniz Bölgesinden daha fazladır.
- B) Yüz ölçümü en büyük bölge olan Doğu Anadolu Bölgesi'nin nüfus miktarı en azdır.
- C) Yüz ölçümüne göre nüfus yoğunluğunun en fazla olduğu bölge Doğu Anadolu Bölgesidir.
- D) Yüzölçümü en küçük olan bölge Güneydoğu Anadolu bölgesidir.

10.



Bir ülkenin piramidine bakılarak yukarıda verilen bilgilerden hangileri elde edilmektedir?

- A) I ve II
- B) II ve III
- C) I, II ve III
- D) I, II, III ve IV

11. Aşağıdakilerden hangisi nüfusun dağılışını etkileyen beşeri faktörlerden biri değildir?

- A) İklim
- B) Turizm
- C) Tarım
- D) Sanayi



ÜLKEMİZDE NÜFUS - 2

1. - Menteşe Dağlık yöresi
- Hakkari Bölümü
- Yıldız Dağları Bölümü

Yukarıda verilen yerlerin göç vermesinde :

- I. Yükseltinin fazla olması
II. Ilıman iklim görülmesi
III. Gür bitki örtüsü bulunması

gibi faktörlerden hangisi etkilidir?

- A) Yalnız I
B) Yalnız II
C) I ve II
D) I ve III

2. I. Tuz Gölü çevresi
II. Menteşe Yöresi
III. Taşeli Platosu

Ülkemizde nüfusun seyrek olduğu yukarıdaki yerlerden hangisinde kuraklık etkilidir?

- A) Yalnız I
B) Yalnız III
C) I ve II
D) I ve III

3. **Anayasamızın 42. maddesinde yer alan Eğitim ve Öğretim Hakkı ile ilgili verilen bilgilerden hangisi yanlıştır?**

- A) Eğitim hizmeti tüm vatandaşlar için eşit şekilde verilir.
B) Kimse, eğitim ve öğretim hakkından yoksun bırakılamaz.
C) İsteyen lise seviyesindeki okullara gitmeyebilir.
D) Eğitim çağdaş bilim ve eğitim esaslarına göre, devletin gözetim ve denetimi altında yapılır.

4. Dünyanın en önemli organizasyonlarından biri olarak kabul edilen "Dünya Botanik Expo"su, "Expo 2016 Antalya" adıyla, "çiçek ve çocuk" temasıyla ülkemizde düzenlenmiştir.

Bu uluslararası organizasyonun:

- I. Ülke tanıtımına
II. Bölge ekonomisine
III. Kültürler arası etkileşimin gerçekleşmesine

gibi durumlardan hangilerine katkı sağlayacağı düşünülebilir?

- A) I ve II
B) I ve III
C) II ve III
D) I, II ve III

5. Suriye'de yaşanan savaş nedeniyle birçok Suriye'li ülkemize gelmiştir.

Bu durum;

- I. Dış göç
II. Mübadele göçü
III. Zorunlu göç

gibi kavramlardan hangileri ile açıklanır?

- A) I ve II
B) I ve III
C) II ve III
D) I, II ve III

6. **Antalya'da nüfus yoğunluğunun fazla olmasında:**

- I. Turizm
II. Tarımsal faaliyetler
III. Madencilik

gibi faktörlerden hangileri etkili olmuştur?

- A) Yalnız I
B) I ve II
C) II ve III
D) I, II ve III

ÜLKEMİZDE NÜFUS - 2

7. Ali Bey tanınmış bir tıp profesörüdür, İngiltere'nin ünlü bir üniversitesinden çalışma teklifi almıştır.

Ali Bey'in bu teklifi kabul etmesi durumunda:

- I. Beyin göçü
II. Mevsimlik göç
III. Dış göç

durumlarından hangisi yaşanır?

- A) I ve II
B) I ve III
C) II ve III
D) I, II ve III

8. Aşağıdakilerden hangisi nüfusun dağılışını etkileyen doğal faktörlerden biri değildir?

- A) Ulaşım
B) Bitki Örtüsü
C) Yer Şekilleri
D) Su Kaynakları

9. Çok Amaçlı Toplum Merkezi (ÇATOM) Başbakanlık GAP idaresi tarafından ekonomik, sosyal kalkınma ve yoksulluğu azaltmak amacıyla kurulmuş merkezlerdir. Bu amaçla bu merkezlerde genç kız ve kadınlara çok çeşitli alanlarda eğitim ve meslek edindirme kursları düzenlenmektedir. Hâlen GAP bölgesinde 9 ilde 30 ÇATOM mevcuttur.

Yukarıda verilen paragrafta ÇATOM ile ilgili hangi bilgiye değilmemiştir?

- A) Kuruluş amacına
B) Nereelerde kurulduklarına
C) Kimlere eğitim verdiklerine
D) Ne zaman sone ereceğine

10. İzmir, Türkiye'de nüfusu üçüncü büyük ildir. Tarihî bir şehir olan İzmir, demir ve kara yolu ağı ile iç bölgelere bağlıdır. İzmir limanı ülkemizin İstanbul'dan sonraki ikinci büyük limanı olup dış ticaretimizde çok önemli yeri vardır. İzmir'in turizm, kültür, ticaret ve sanayi özellikleri nüfusunun hızla artmasını sağlamıştır.

Buna göre aşağıdakilerden hangisi İzmir'in nüfusunun artışında etkili olan faktörlerden biri değildir?

- A) Ulaşımın gelişmiş olması
B) Ticaretin gelişmiş olması
C) Maden yatakları bakımından zengin olması
D) Sanayinin gelişmiş olması

11. Ülkemizde nüfusun yoğun olduğu yerler genellikle tarıma elverişli, düz ve geniş ovalarla kaplı yerlerdir. Büyük akarsuların suladığı bu ovalar genellikle deniz kıyısında yer almaktadır.

Buna göre aşağıdaki yerleşim yerlerinden hangisinde nüfus yoğunluğu diğerlerine göre daha azdır?

- A) Adana
B) İzmir
C) Erzurum
D) Bursa

12. "Bir kurt dağdan inerek iki vatandaşımıza saldırmış, biri hayatını kaybetmiş, biri de yaralanmıştır. Kuduz tehlikesine karşı bölgede bulunan 22 köye giriş çıkışlar yasaklanmıştır."

Kütahya Valisi'nin açıklamasına göre yerleşme ve seyahat özgürlüğü aşağıda verilen hangi durum için yasaklanmıştır?

- A) Suç işlenmesini önlemek için
B) Kamu mallarını korumak için
C) Bulaşıcı hastalıkların yayılmasını önlemek için
D) Kentleşmenin daha düzenli olması için

MEB 2016 - 2017



TÜRK TARİHİNE YOLCULUK - 1

1. Aşağıdakilerden hangisi Türklerin Anadolu'ya göç etme nedenlerinden biri değildir?

- A) Nüfus artışı
- B) Kuraklık
- C) Ticaret
- D) Salgın hastalıklar

2. Malazgirt Savaşı'ndan sonra Alparslan Anadolu'nun hızlı bir şekilde fethedilip Türkleştirilmesi için komutanlarına fethettikleri toprakların "Kılıç Hakkı" olarak onlara ait olduğunu belirtmiştir. Bu uygulamanın sonucunda Anadolu'da birçok beylik kurulmuş bu beylikler Anadolu Siyasi Tarihi'nde Birinci Beylikler olarak adlandırılmıştır.

Aşağıdakilerden hangisi Anadolu'da kurulan Birinci Beyliklerden biri değildir?

- A) Osmanoğulları
- B) Çaka Beyliği
- C) Saltuklular
- D) Danişmentliler

3. Malazgirt Zaferi'nden sonra Anadolu'nun fethiyle görevlendirilen komutanlar Anadolu'da ilk Türk devleti ve beyliklerini kurmuşlardır.

Anadoluda kurulan bu ilk Türk Devletleri'nin Türk tarihine yaptıkları en önemli katkı aşağıdakilerden hangisidir?

- A) Küçük yerleşim yerleri kurmaları
- B) Dini yapılar inşa etmeleri
- C) Haçlılara karşı mücadele etmeleri
- D) Anadolu'nun Türkleşmesini sağlamaları

4. Anadolu Selçuklu Devleti Dönemi'nde Antalya, Suğdak, Sinop ve Alanya gibi önemli liman kentleri fethedildi. Fethedilen şehirlerde özellikle Türk tüccarlar desteklendi. Yollar, hanlar ve kervansaraylar yapıldı. Tüccarlara kervansaraylarda ücretsiz barınma ve konaklama imkânı tanındı. Yabancı tüccarlar için gümrük vergileri düşürüldü. Tersaneler kurularak donanma oluşturuldu ve deniz ticaretinin gelişmesi sağlandı.

Metne göre Anadolu Selçuklu Devleti ile ilgili aşağıdakilerden hangisine ulaşamaz?

- A) Kara ve deniz ticaretinin geliştirilmesi için çalışmalar yapılmıştır.
- B) Yabancı tüccarların zararı devlet tarafından karşılanmıştır.
- C) Ticaret yolları üzerinde han ve kervansaraylar kurulmuştur.
- D) Ticareti geliştirmek için yabancı tüccara kolaylık sağlanmıştır.

5. Türkler Anadolu'ya göç ettikten sonra burada birçok mimari eser yapmışlardır.

Aşağıdakilerden hangisi bu eserlerden biri değildir?



Karatay Medresesi



Gevher Nesibe Darüşşifası



Ayasofya Cami



Divriği Ulu Cami

TÜRK TARİHİNE YOLCULUK - 1

6. • Türkiye tarihinin başlangıcı olarak kabul edilir.
• Anadolu'nun kapıları Türklere açılmıştır.
• Türkler kalabalık gruplar halinde Anadolu'ya göç etmeye başlamıştır.
• Haçlı Seferleri'nin başlamasına ortam hazırlamıştır.

Yukarıda özellikleri verilen savaş aşağıdakilerden hangisidir?

- A) Miryokefalon Savaşı
B) Pasinler Savaşı
C) Malazgirt Savaşı
D) Talas Savaşı

7. Türkiye Selçuklu Devleti egemenlikleri altında bulunan topraklarda ticaretin gelişmesi için çeşitli çalışmalar yapmışlardır.

Aşağıdakilerden hangisi Türkiye Selçuklu Devleti'nin ticaretin gelişmesi için yaptığı çalışmalardan biri değildir?

- A) Alanya ve Sinop limanları ele geçirmeleri
B) Yeni köprüler ve yollar inşa etmeleri
C) Medreseler kurmaları
D) Kervansaraylar inşa etmeleri

8. Anadolu Selçuklu Sultanı II. Kılıçarslan dönemine ait Aksaray Alay Han, Türk tarihinde önemli bir geçmişe sahip bir mekan olarak dikkat çeker. İlk defa kervansarayların ribat adıyla karşımıza çıktıklarını ve askeri amaçlı yapıların zamanla yolları barındırmak için de kullanıldığı bilinmektedir.

Buna göre kervansaraylarla ilgili olarak;

- I. Tarihsel süreçte değişim geçirdiği
II. Eğitim amaçlı kullanıldığı
III. Ekonomik faaliyetlerde yararlanıldığı

gibi yargılardan hangilerine ulaşılabilir?

- A) Yalnız I
B) I ve II
C) I ve III
D) II ve III

9. Malazgirt Savaşı'ndan sonra Anadolu'nun kapıları Türklere açılmış, Orta Asya'dan göç eden Türkler gruplar halinde Anadolu'ya yerleşerek Anadolu'nun Türkleşmesinde ve İslamiyet'in bu bölgede yayılmasında etkili olmuşlardır. Özellikle Anadolu'da gazilerin, kadınların ve gençlerin kurmuş oldukları bazı örgütler bölgenin Türkleşmesinde ve İslamlaşmasında etkili olmuştur.

Verilen metne göre aşağıdakilerden hangisine ulaşamaz?

- A) Anadolu'ya büyük Türk göçlerinin gerçekleşmesi kazanan Malazgirt Savaşı'ndan sonra olmuştur.
B) Türkler karşısında zor durumda kalan Bizans Avrupa'dan yardım istemiştir.
C) Türklerin Anadolu'ya yapmış olduğu göç ile beraber İslamiyet Anadolu'da yayılmıştır.
D) Anadolu'nun Türkleşmesinde ve İslamiyet'in yayılmasında toplum içerisindeki farklı gruplar etkili olmuştur.

10. Orhan Bey döneminde İznik şehri camiler, mescitler, medreseler, hanlar, hamamlar ile donatıldı. Orhan Bey ayrıca burada yaşayan yoksullar ve yolcular için bir imaret yaptırarak ücretsiz yemek verilmesini emretti.

Buna göre İznik'te aşağıdaki alanlardan hangisi ile ilgili çalışma yapılmamıştır?

- A) Dini
B) Siyasi
C) Eğitim
D) Sosyal

11. Osman Bey döneminde gaza ve fetihler, eli silah tutan kimselerle gerçekleştiriliyordu. Orhan Bey sınırların genişlemesiyle Türk gençlerinden "yaya ve müselleme" adıyla sürekli savaşa hazır bir ordu oluşturdu. Rumeli'de fetihlerin genişlemesiyle Hristiyan ailelerin erkek çocukları asker olarak yetiştirilmek amacıyla toplanmaya başladı. "Devşirme sistemi" ile yetiştirilen askerlerle "Kapıkulu" ordusu meydana getirildi.

Buna göre aşağıdaki yargılardan hangisine ulaşılabilir?

- A) Ordu paralı askerlerden oluşmaktadır.
B) Kapıkulu askerleri doğrudan padişaha bağlıdır.
C) Türk nüfusun azalmasıyla Hristiyan çocuklar askere alınmıştır.
D) Osmanlı Devletinde düzenli orduyu Orhan Bey kurmuştur.

MEB 2016 - 2017



TÜRK TARİHİNE YOLCULUK - 2

1. Osman Bey'in, oğlu Orhan Bey'e;

- Zalim olma. Âlemi adaletle şenlendir.
- Allah için gaza ve cihadı terk etmeyerek beni şad et.
- İlim ehli insanlara rağbet et, askerine ve malına güvenip, âlimlerden uzaklaşma.
- Bizim mesleğimiz Allah yoludur ve maksadımız Allah'ın dinini yaymaktır. Yoksa kuru kavga ve cihangirlik davası değildir.

vasiyetine göre aşağıdakilerden hangisine ulaşamaz?

- A) Hükümdarın adaletle hükmetmesi gerektiğine
- B) İlme ve âlimlere değer verilmesi gerektiğine
- C) Savaşların amacının ülke sınırlarını genişletmek olduğuna
- D) Hükümdarın Allah yolunda savaşması gerektiğine

2. Orhan Gazi dönemindeki aşağıdaki gelişmelerden hangisi Orhan Gazi'nin eğitime önem verdiğini gösterir?

- A) İlk Divan teşkilatının oluşturulması
- B) İznik, İzmit ve Bursa'nın alınması
- C) Karesioğulları Beyliği'nin alınıp bu beyliğin donanmasıyla denizciliğe başlanması
- D) İznik'te ilk Osmanlı Medresesi'nin açılması

3. Avrupa, aşağıda verilen sanat dallarından hangisinde Osmanlı Devletinden etkilenmemiştir?

- A) Ebru
- B) Kilim
- C) Seramik
- D) Resim

4. Osman Gazi Eskişehir'de pazar kurdurmuştu. Bu pazarda Germiyanogullarından birisi Bilecik Rumlarından bir tüccardan bardak satın almış, ancak parasını ödememişti. Rum tüccar Osman Bey'e gelerek şikâyetle bulundu, bunun üzerine Osman Bey adamı çağırarak Rum'un hakkını ondan aldı. Bu olayın ardından da pazarda tellaklar gezdirip kimse kimseye zulmetmemesini, haksızlığa uğrayanların kendisine müracaat etmesini duyurdu.

Metne göre aşağıdaki yargılardan hangisine ulaşamaz?

- A) Osman Bey'in haksızlığa karşı olduğuna
- B) Osman Bey'in Rumlardan yana olduğuna
- C) Osman Bey'in adaletli olduğuna
- D) Osman Bey'in din, dil, ırk ayrımı yapmadığına

5. Osmanlı Devleti uzun yıllar süren mücadeleler sonucunda İpek ve Baharat Yolu'nu ele geçirmesine rağmen bu yollar-
dan istenilen düzeyde verim elde edememiş ticareti canlan-
dırmak için Avrupalı devletlere kapitülasyonlar vermiştir.

Osmanlı Devleti'nin ticaret yollarından istenilen düzey-
de verim alamamasının temel sebebi aşağıdakilerden
hangisidir?

- A) Reform'un başlaması
- B) Sanayi İnkılabı'nın başlaması
- C) Rönesans'ın başlaması
- D) Coğrafi Keşiflerin başlaması

6. Aşağıdakilerden hangisi Lale Devrinde yapılan yenilik-
lerden biri değildir?

- A) İstanbul Üniversitesi'nin kurulması
- B) Tercüme odalarının açılması
- C) İlk çiçek aşısının uygulanması
- D) Avrupa'ya geçici elçilerin gönderilmesi

TÜRK TARİHİNE YOLCULUK - 2

7. • Barbaros Hayrettin Paşa öncülüğündeki Osmanlı Donanması ile Andrea Dorya öncülüğündeki Haçlı Donanması arasında 28 Eylül 1538 tarihinde gerçekleşmiştir.
- Osmanlı Devleti'nin galibiyeti ile son bulmuştur.
- Bu zafer ile Akdeniz'deki üstünlük Osmanlı Devleti'ne geçmiştir.
- Türk tarihinin en büyük deniz zaferi olan bu savaş günümüzde "Türk Denizcilik Günü" olarak kutlanmaktadır.

Yukarıda özellikleri verilen olay aşağıdakilerden hangisidir?

- A) İnebahtı Deniz Savaşı
B) Rodos'un Fethi
C) Preveze Deniz Savaşı
D) Girit'in Fethi

8. Mısır'a yönelik gerçekleştirdiği seferler sonucunda Baharat Yolu'nu Osmanlı Devleti kontrolüne alan ve yapmış olduğu fetihlerle Osmanlı Hazinesini ağzına kadar doldurduktan sonra hazinenin kapısını mühürlütip "Benim altınla doldurduğum hazineyi, torunlarımdan her kim doldurabilirse kendi mührü ile mühürlesin, aksi halde hazine-i hümayun benim mührümle mühürlensin" şeklinde bir vasiyette bulunan Osmanlı padişahı aşağıdakilerden hangisidir?

- A) Yavuz Sultan Selim
B) Fatih Sultan Mehmet
C) Kanuni Sultan Süleyman
D) Osman Bey

9. Avrupa'nın Osmanlı Devleti'ni etkilediği alanlardan biri de mimaridir. 18. yüzyıldan itibaren Osmanlı mimarisinde Avrupa'nın etkileri görülmeye başladı.

Buna göre aşağıdaki mimari yapıların hangisinde Avrupa'nın etkisi görülmez?

- A) Bursa Ulu Cami
B) Üçüncü Ahmet Çeşmesi
C) Dolmabahçe Sarayı
D) Yıldız Sarayı

10. Osmanlı Devleti'nde halkın büyük bölümünü şehirli ve köylüler meydana getirmekteydi. Köylüler tarım ve hayvancılıkla, konargöçer yaşayan halk ise yaylak ve kışlaklarda hayvancılıkla uğraşıyordu. Şehirlerde yaşayanlar imalat işleri ve ticaretle geçimlerini sağlıyorlardı.

Metne verilebilecek en uygun başlık aşağıdakilerden hangisidir?

- A) Osmanlı'da fetih hareketleri
B) Osmanlı'da ekonomik ve sosyal hayat
C) Osmanlı'da tarım ve hayvancılık
D) Osmanlı'da ticaret

11. I. İtfaiye bölüğünün kurulması
II. İlk Türk matbaasının kurulması
III. Kütüphanelerin açılması
IV. Kumaş fabrikalarının kurulması

Lale Devrinde yapılmış yukarıdaki yeniliklerden hangileri kültürel alanla ilgilidir?

- A) I ve II
B) I ve III
C) II ve III
D) II ve IV

12. Fatih Sultan Mehmet tarafından 29 Mayıs 1453 tarihinde İstanbul fethedilmiş böylece Ortaçağ'ın en güçlü devleti olan Bizans İmparatorluğu'na son verilmiştir.

İstanbul'un Fethi ile aşağıdaki ticaret yollarından hangisi Osmanlı Devleti'nin kontrolüne girmiştir?

- A) Kral Yolu
B) Baharat Yolu
C) İpek Yolu
D) Kürk Yolu



TÜRK TARİHİNE YOLCULUK - 3

1.

Fatih Sultan Mehmet Bosna'yı fethettiğinde ilan ettirdiği bir fermanla halka şöyle seslendi: "Ben ki, Sultan Mehmed Hanım... İhsan edip Bosna rahiplerine buyurdum ki; Kiliselerinizde korkusuzca ibadet ve memleketimizde korkusuzca ikamet edin. Ne vezirlerimden ne de halkımdan kimse bunları incitmesin ve rencide etmesin. Allah'a, Peygamber'e, Kur'an'a ve kuşandığım kılıca yemin olsun ki, canları, malları ve kiliseleri bana itaat ettikleri sürece güvencem altındadır."

Fatih Sultan Mehmet'in bu fermanı yayınlamasında;

- I. Adalet ve hoşgörü anlayışı
- II. Din ve vicdan hürriyeti
- III. Fetihleri sona erdirmeye

gibi düşüncelerden hangileri hakimdir?

- A) Yalnız II
- B) I ve II
- C) II ve III
- D) I, II ve III

2. Osmanlı Devleti Rodos'un fethinden sonra İstanbul ile Mısır arasındaki deniz yolunun güvenliğini büyük ölçüde sağlamıştı. Ancak Kıbrıs hala Venediklilerin elindeydi ve adadaki korsanlar Türk gemilerine saldırarak deniz ticaretine engel oluyorlardı. Bu nedenle Kanuni Sultan Süleyman'dan sonra tahta geçen oğlu II. Selim Dönemi'nde Kıbrıs fethedilerek İstanbul ile Mısır arasındaki deniz yolunun güvenliği sağlandı. Ayrıca Osmanlı Devleti'nin Doğu Akdeniz'deki hâkimiyeti pekişmiş oldu.

Metne göre aşağıdakilerden hangisine ulaşamaz?

- A) Dönemin önemli deniz güçlerinden biri Osmanlı Devleti'dir.
- B) Deniz ticareti Hristiyanların elindedir.
- C) Kıbrıs'ın fethi ile Osmanlı'nın Doğu Akdeniz'deki hâkimiyeti perçinlenmiştir.
- D) Kıbrıs, deniz ticareti için önemli noktalardan biridir.

3. Osmanlı Devleti fethettiği yerlerde halka baskı yapmamış, gelenek, inanç ve yaşantı açısından halka tam bir özgürlük sağlamıştır.

Buna göre, Osmanlı Devleti'nin fethettiği bölgelerde kalıcı olması aşağıdakilerden hangisine bağlanabilir?

- A) Ekonomisini güçlü tutmasına
- B) Devşirme sistemini uygulamasına
- C) Adaletli ve hoşgörülü olmasına
- D) Askeri güce önem vermesine

4. Aşağıdaki yapılardan hangisi eğitim faaliyetlerinin yürütülmesi amacıyla inşa edilmiştir?

- A) Sultan Han
- B) Konya İnce Minareli Medrese
- C) Gevher Nesibe Şifaiyyesi
- D) Malabadi Köprüsü

5. Anadolu Selçuklu Devleti döneminde;

- I. Kervansaray, han ve hamamların yapılması
- II. Antalya, Alanya, Sinop ve Samsun gibi liman şehirlerinin alınması
- III. Külliye inşası edilmesi

gelişmelerinden hangileri ticareti geliştirmeyi amaçladıklarını gösterir?

- A) I ve II
- B) I ve III
- C) II ve III
- D) I, II ve III

TÜRK TARİHİNE YOLCULUK - 3

6. Anadolu coğrafyasında bulunan cami - kilise - kervan-sarayların varlığından yola çıkarak;

- I. Farklı kültürler bir arada yaşamıştır.
- II. Ticari faaliyetler yapılmıştır.
- III. Adaletli ve hoşgörülü bir ortam vardır.

gibi yargılarından hangilerine ulaşılabilir?

- A) I ve II
- B) I ve III
- C) II ve III
- D) I, II ve III

7. • Genç Osman Yeniçeri Ocağı'nı kaldırmak istediği için yeniçeri askerleri tarafından öldürülmüştür.
- Tarhuncu Ahmet Paşa Osmanlı'da ilk defa resmi devlet bütçesini hazırlayarak saray masraflarını kısma yoluna gitmiş ancak bu durum bazı kişilerin menfaatine ters düştüğü için öldürülmüştür.

Bu bilgilerden çıkarılacak en kapsamlı yargı aşağıdakilerden hangisidir?

- A) Tecrübesiz yöneticiler dolayısıyla yenilikler başarısız olmuştur.
- B) İslahatların gerekliliği halka yeterince anlatılamamıştır.
- C) Çıkarları elden giden çevreler ıslahatları engellemiştir.
- D) Yenilik yapmak isteyen ilk padişah Genç Osman'dır.

8. Osmanlı Devleti'nde ulaşım alanında buharlı gemilerden sonra ikinci atılım demir yolu yapımıyla gerçekleştirildi. 1856 yılında ilk demir yolu hattımız İzmir ile Aydın arasında inşa edilmeye başladı. Zaman içinde Anadolu ve Rumeli topraklarında demir yolu ağı genişledi. 1888'de İstanbul'u Avrupa'ya bağlayan demir yolu açıldı.

Aşağıdakilerden hangisi demir yolu yapımının sonuçlarından biri değildir?

- A) Ulaşım kolaylaşmış ve ucuzlamıştır.
- B) Yük taşımacılığı kolaylaşmıştır.
- C) Karayolu taşımacılığı son bulmuştur.
- D) Kültürlerarası etkileşim artmıştır.

9. Lale Devri (1718-1730) ıslahatlarından hangisi Avrupa'daki gelişmeleri yakından takip etmek için yapılmıştır?

- A) Avrupa'da ilk kez geçici elçiliklerin açılması
- B) İbrahim Müteferrika ve Said Efendi tarafından ilk kez matbaanın getirilmesi
- C) Mimaride ilk kez Avrupa tarzı eserlerin inşa edilmesi
- D) Kağıt, kumaş ve çini fabrikalarının kurulması

10. Avrupa'da 15.ve 16. yüzyıllarda Rönesans, Reform, Coğrafi Keşifler gibi gelişmeler yaşanırken dünyadaki gelişmeleri takip etmek ve bunlara ayak uydurma gereği duymayan Osmanlı İmparatorluğu Avrupa'nın gerisinde kalmış ve birçok alanda Avrupa'yı örnek almak zorunda kalmıştır.

Buna göre Osmanlı Devleti'nin ıslahatlar yapmasının amacı aşağıdakilerden hangisidir?

- A) Dünyanın yeni yerlerini keşfetmek
- B) Rönesans'ın Osmanlı'yı etkilemesini engellemek
- C) Dini alanda yenilikler yapmak
- D) Kötü gidişata engel olabilmek

11.

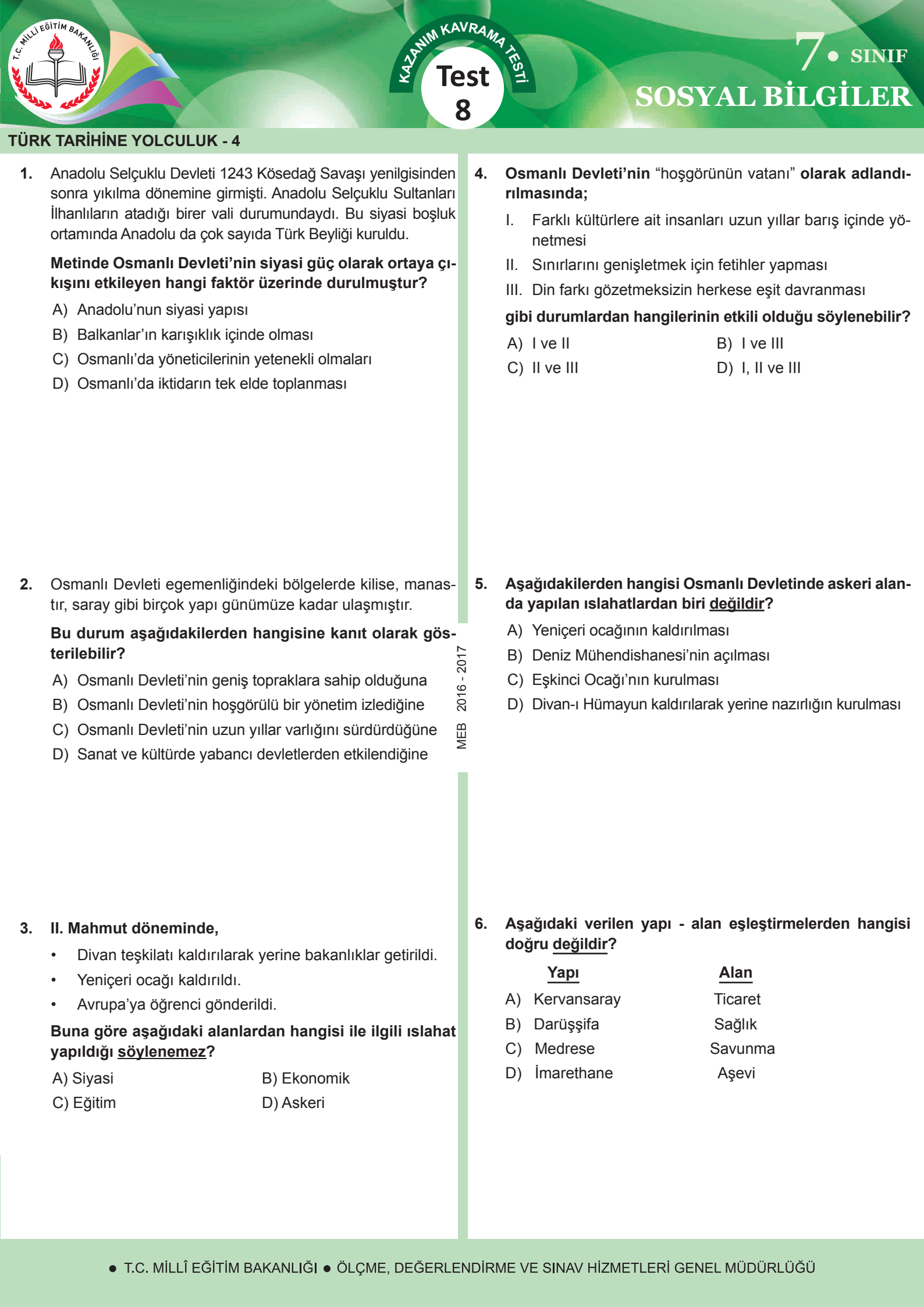
.....

Osmanlı toplumunda farklı ırktan insanlar bir arada yaşamıştır.

Osmanlı ülkesinin bir çok bölgesinde cami, kilise gibi yapıları yan yana görmek mümkündür.

Yukarıdaki bilgilere verilebilecek en uygun başlık aşağıdakilerden hangisidir?

- A) Osmanlı Devleti'ndeki yenilikler
- B) Osmanlı Devleti'nde dini hayat
- C) Osmanlıda farklı kültürler birarada
- D) Osmanlı toplumunda aile



TÜRK TARİHİNE YOLCULUK - 4

1. Anadolu Selçuklu Devleti 1243 Köseadağ Savaşı yenilgisinden sonra yıkılma dönemine girmişti. Anadolu Selçuklu Sultanları İlhanlıların atadığı birer vali durumundaydı. Bu siyasi boşluk ortamında Anadolu da çok sayıda Türk Beyliği kuruldu.

Metinde Osmanlı Devleti'nin siyasi güç olarak ortaya çıkışını etkileyen hangi faktör üzerinde durulmuştur?

- A) Anadolu'nun siyasi yapısı
B) Balkanlar'ın karışıklık içinde olması
C) Osmanlı'da yöneticilerinin yetenekli olmaları
D) Osmanlı'da iktidarın tek elde toplanması

2. Osmanlı Devleti egemenliğindeki bölgelerde kilise, manastır, saray gibi birçok yapı günümüze kadar ulaşmıştır.

Bu durum aşağıdakilerden hangisine kanıt olarak gösterilebilir?

- A) Osmanlı Devleti'nin geniş topraklara sahip olduğuna
B) Osmanlı Devleti'nin hoşgörülü bir yönetim izlediğine
C) Osmanlı Devleti'nin uzun yıllar varlığını sürdürdüğüne
D) Sanat ve kültürde yabancı devletlerden etkilendiğine

3. II. Mahmut döneminde,

- Divan teşkilatı kaldırılarak yerine bakanlıklar getirildi.
- Yeniçeri ocağı kaldırıldı.
- Avrupa'ya öğrenci gönderildi.

Buna göre aşağıdaki alanlardan hangisi ile ilgili ıslahat yapıldığı söylenemez?

- A) Siyasi
B) Ekonomik
C) Eğitim
D) Askeri

4. **Osmanlı Devleti'nin "hoşgörünün vatani" olarak adlandırılmasında;**

- I. Farklı kültürlerle ait insanları uzun yıllar barış içinde yönetmesi
II. Sınırlarını genişletmek için fetihler yapması
III. Din farkı gözetmeksizin herkese eşit davranması

gibi durumlardan hangilerinin etkili olduğu söylenebilir?

- A) I ve II
B) I ve III
C) II ve III
D) I, II ve III

5. **Aşağıdakilerden hangisi Osmanlı Devletinde askeri alanda yapılan ıslahatlardan biri değildir?**

- A) Yeniçeri ocağının kaldırılması
B) Deniz Mühendishanesi'nin açılması
C) Eşkinici Ocağı'nın kurulması
D) Divan-ı Hümayun kaldırılarak yerine nazırlığın kurulması

6. **Aşağıdaki verilen yapı - alan eşleştirmelerden hangisi doğru değildir?**

Yapı	Alan
A) Kervansaray	Ticaret
B) Darüşşifa	Sağlık
C) Medrese	Savunma
D) İmarethane	Aşevi

TÜRK TARİHİNE YOLCULUK - 4

7.

Osmanlı devletinde tıpkı Müslümanlar gibi Hristiyan ve Yahudiler de hür tebaadan sayılmaktaydı. Kilise ve havralar devlet tarafından korunurdu. Herkes istediği gibi ibadetinin yapabilir yaşantısını dinine gelenek göreneklerine göre yapardı. Osmanlı'nın himayesi altındaki farklı milletler kendi devletlerinden görmedikleri yardımı ve hoşgörüyü Osmanlı'dan görmüşlerdir.

Metne göre Osmanlı Devleti ile ilgili aşağıdakilerden hangisine ulaşamaz?

- A) Sınırları içinde bir çok milletin yaşadığına
- B) Müslümanların üstün tutulduğuna
- C) Farklı dinden insanların birlikte yaşadıklarına
- D) Halka din hürriyeti tanındığına

8. Avrupalı seyyahlar Osmanlı ülkesine gelerek buradaki insanların yaşamlarını kaleme almışlar yazdıkları kitaplarda Osmanlı Devletini tanıtmışlardır.

Aşağıdakilerden hangisi Avrupalı seyyahların kitaplarda bahsedebilecekleri Osmanlı kültürüne ait bir özellik değildir?

- A) Türklerin kahve içme alışkanlıkları
- B) Konuksever olmaları
- C) Halı, kilim gibi el sanatları ile uğraşmaları
- D) Opera ve bale sanatlarını ortaya çıkarmaları

9. Osmanlı toplumu ile ilgili;

- I. Ülkelerine gelen yabancılara karşı misafirperverlerdir.
- II. Şehirlerinin hepsinde hamam, cami, medrese gibi yapılar vardır.
- III. Farklı dinlerden insanlara karşı ayırım yapmaktadırlar.

gibi özelliklerden hangileri söylenebilir?

- A) Yalnız II
- B) I ve II
- C) II ve III
- D) I, II ve III

10. Türkler ile ilgili;

- Hırsızlık gibi kötü davranışlar sert şekilde cezalandırılmıştır.
- Bayramlar, dini ya da milli günler bir arada ve coşku içinde kutlanmıştır.
- Türk devletlerinde toplum yararına çalışan vakıflar kurulmuştur.

verilen bilgilere göre aşağıdaki sorulardan hangisine cevap verilmemiştir?

- A) Türklerde hukuk ve ahlak kuralları nasıldır?
- B) Türkler ülkelerine gelenlere nasıl davranırlar?
- C) Türkler geleneklerine bağlı mıdır?
- D) Türklerde dayanışma var mıdır?

11. "Bir Türk kervansarayına indim. Üç gün bedava yiyip oturdum. Hristiyanlar da aynen Türkler (Müslümanlar) gibi kabul görüyordu." (Villamont)

"Türklerin kendileri mütevazı binalarda otururlar. Görülen muhteşem binaların hepsi hayır olarak yaptırdıklarıdır." (Durdent)

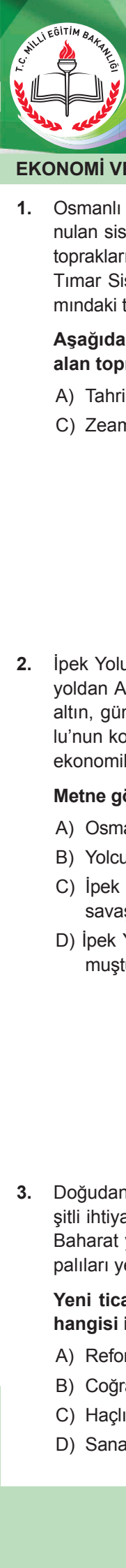
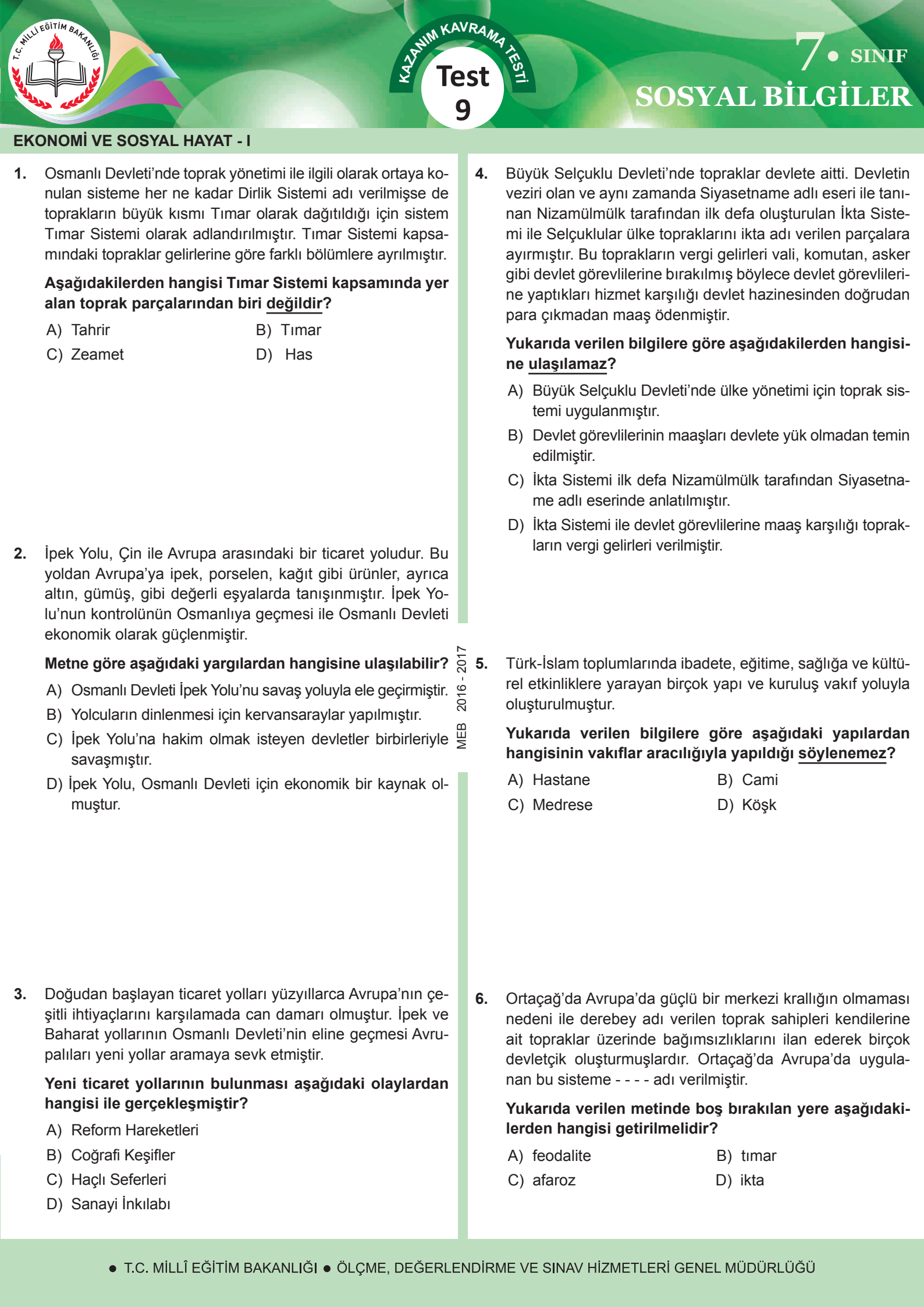
"Türkler, asla yere tükürmezler." (Marsigli)

Yukarıda verilen bilgilere göre Türkler hakkında aşağıdaki yargılardan hangisine ulaşamaz?

- A) Temizliğe önem veren bir toplumdur.
- B) Sade yaşam sürmeyi severler.
- C) Din, dil, ırk ayırımı yapmazlar.
- D) Ticaretle ve tarımla uğraşırlar.

12. Aşağıdakilerden hangisinde Osmanlı Dönemi'nde yapılan ve günümüzde de devam eden kültürel bir uygulama verilmemiştir?

- A) Yemeğe başlamadan önce besmele çekmeleri
- B) Kahveyi porselen fincanlara koyarak içmeleri
- C) Basketbol, tenis gibi sporlar ile uğraşmaları
- D) İhtiyaç sahibi insanlara yardım etmeleri



EKONOMİ VE SOSYAL HAYAT - I

1. Osmanlı Devleti'nde toprak yönetimi ile ilgili olarak ortaya konulan sisteme her ne kadar Dirlik Sistemi adı verilmişse de toprakların büyük kısmı Tımar olarak dağıtıldığı için sistem Tımar Sistemi olarak adlandırılmıştır. Tımar Sistemi kapsamındaki topraklar gelirlerine göre farklı bölümlere ayrılmıştır.

Aşağıdakilerden hangisi Tımar Sistemi kapsamında yer alan toprak parçalarından biri değildir?

- A) Tahrir B) Tımar
C) Zeamet D) Has

2. İpek Yolu, Çin ile Avrupa arasındaki bir ticaret yoludur. Bu yoldan Avrupa'ya ipek, porselen, kağıt gibi ürünler, ayrıca altın, gümüş, gibi değerli eşyalarda tanışınmıştır. İpek Yolu'nun kontrolünün Osmanlıya geçmesi ile Osmanlı Devleti ekonomik olarak güçlenmiştir.

Metne göre aşağıdaki yargılardan hangisine ulaşılabilir?

- A) Osmanlı Devleti İpek Yolu'nu savaş yoluyla ele geçirmiştir.
B) Yolcuların dinlenmesi için kervansaraylar yapılmıştır.
C) İpek Yolu'na hakim olmak isteyen devletler birbirleriyle savaşmıştır.
D) İpek Yolu, Osmanlı Devleti için ekonomik bir kaynak olmuştur.

3. Doğudan başlayan ticaret yolları yüzyıllarca Avrupa'nın çeşitli ihtiyaçlarını karşılamada can damarı olmuştur. İpek ve Baharat yollarının Osmanlı Devleti'nin eline geçmesi Avrupalıları yeni yollar aramaya sevk etmiştir.

Yeni ticaret yollarının bulunması aşağıdaki olaylardan hangisi ile gerçekleşmiştir?

- A) Reform Hareketleri
B) Coğrafi Keşifler
C) Haçlı Seferleri
D) Sanayi İnkılabı

4. Büyük Selçuklu Devleti'nde topraklar devlete aitti. Devletin veziri olan ve aynı zamanda Siyasetname adlı eseri ile tanınan Nizamülmülk tarafından ilk defa oluşturulan İkta Sistemi ile Selçuklular ülke topraklarını ikta adı verilen parçalara ayırmıştır. Bu toprakların vergi gelirleri vali, komutan, asker gibi devlet görevlilerine bırakılmış böylece devlet görevlilerine yaptıkları hizmet karşılığı devlet hazinesinden doğrudan para çıkmadan maaş ödenmiştir.

Yukarıda verilen bilgilere göre aşağıdakilerden hangisine ulaşamaz?

- A) Büyük Selçuklu Devleti'nde ülke yönetimi için toprak sistemi uygulanmıştır.
B) Devlet görevlilerinin maaşları devlete yük olmadan temin edilmiştir.
C) İkta Sistemi ilk defa Nizamülmülk tarafından Siyasetname adlı eserinde anlatılmıştır.
D) İkta Sistemi ile devlet görevlilerine maaş karşılığı toprakların vergi gelirleri verilmiştir.

5. Türk-İslam toplumlarında ibadete, eğitime, sağlığa ve kültürel etkinliklere yarayan birçok yapı ve kuruluş vakıf yoluyla oluşturulmuştur.

Yukarıda verilen bilgilere göre aşağıdaki yapılardan hangisinin vakıflar aracılığıyla yapıldığı söylenemez?

- A) Hastane B) Cami
C) Medrese D) Köşk

6. Ortaçağ'da Avrupa'da güçlü bir merkezi krallığın olmaması nedeni ile derebey adı verilen toprak sahipleri kendilerine ait topraklar üzerinde bağımsızlıklarını ilan ederek birçok devletçik oluşturmuşlardır. Ortaçağ'da Avrupa'da uygulanan bu sisteme - - - - adı verilmiştir.

Yukarıda verilen metinde boş bırakılan yere aşağıdakilerden hangisi getirilmelidir?

- A) feodalite B) tımar
C) afaroz D) ikta

EKONOMİ VE SOSYAL HAYAT - I

7. Cumhuriyetin ilk yıllarında üretim büyük ölçüde tarıma dayanıyordu.

Aşağıdakilerden hangisi Cumhuriyet Döneminde tarımı geliştirmek için yapılmış uygulamalardan biri değildir?

- A) Ziraat Bankası'nın kurulması
B) Tımar sisteminin uygulanması
C) Atatürk Orman Çiftliği'nin açılması
D) Tarım Kredi Kooperatifleri'nin kurulması

8. Tarih boyunca toprak, insanoğlu için hep önemli olmuştur. Toprak insanların yaşamaları için gerekli olan besinleri onlara sunarken üzerine inşa edilen yapılarla insanların barınmasını da sağlar. Bu topraklarda yetişen ürünler insanlara besin kaynağı olduğu gibi üretimi gerçekleştiren kişilerin de kazanç elde etmelerini sağlamaktadır.

Yukarıda verilen metinden hareketle aşağıdaki yargılardan hangisine ulaşılabilir?

- A) Toprak insanların hem beslendiği hem de barındığı yerdir.
B) Topraklara yönelik en büyük sorun erozyondur.
C) Toprak tüm canlıların beslenme kaynağıdır.
D) Ülkemizde verimli topraklar bulunduğu için tarımsal ürün çeşitliliği fazladır.

9. I. Kral Yolu
II. Baharat Yolu
III. İpek Yolu

gibi ticaret yollarından hangileri Türkler tarafından kullanılmıştır?

- A) Yalnız I
B) I ve II
C) I ve III
D) II ve III

10. Cumhuriyetin kurulmasından bu yana ülke ekonomisinde tarım önemli bir yer edinmiş ve birçok kurum tarımı desteklemek için çalışmalar yapmıştır.

Buna göre aşağıdakilerden hangisi tarımı destekleyen kuruluşlardan biri değildir?

A)



B)



C)



Ziraat Bankası

D)



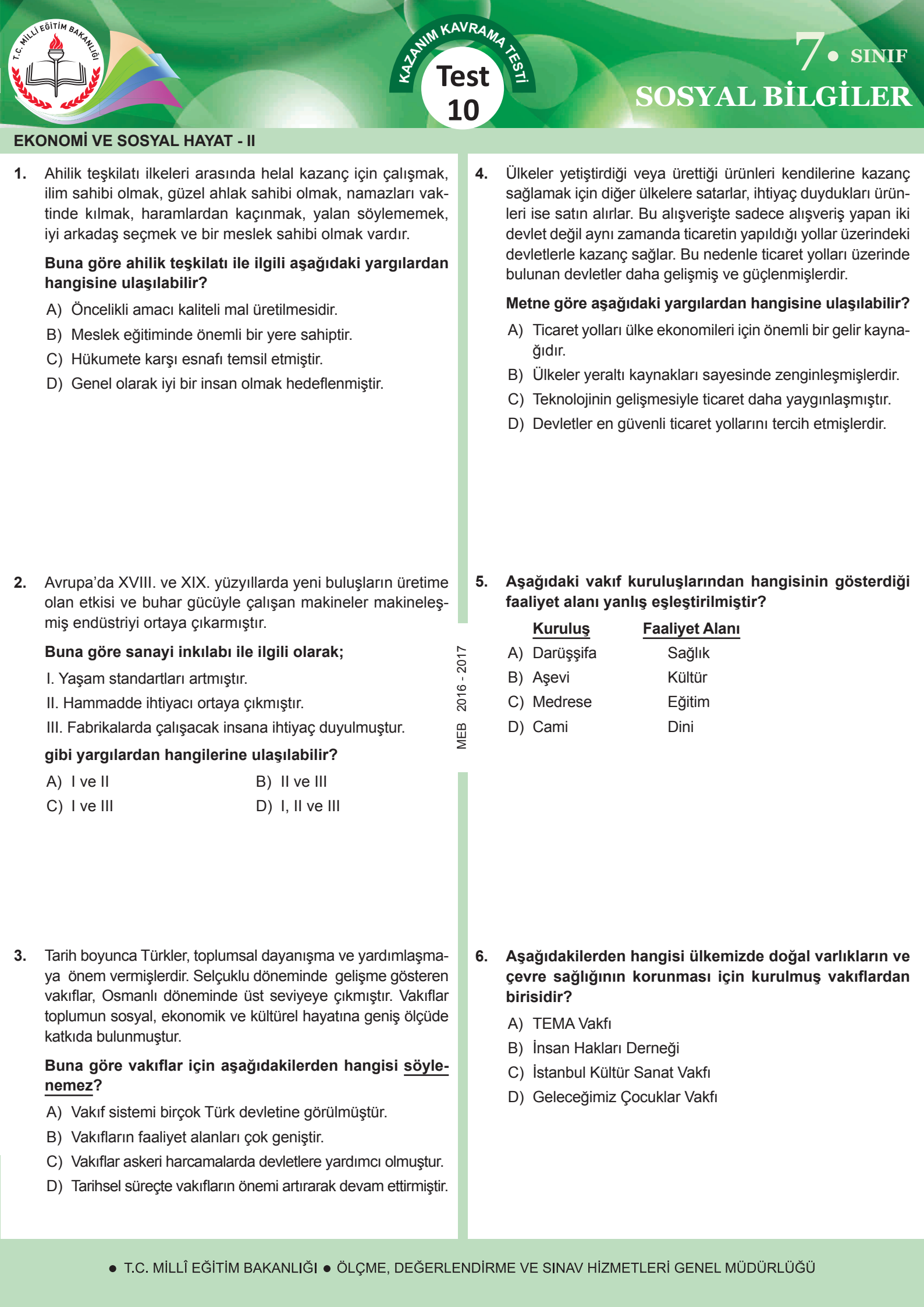
11. Türk - İslam Medeniyetinde vakıfların en önemli işlevi aşağıdakilerden hangisidir?

- A) Ordunun giderlerini karşılamak
B) Devlete vergi toplamak
C) Toplumsal dayanışma ve yardımlaşmayı sağlamak
D) Ülkede ticareti geliştirmek

12. I. Öğretmenlerin beklentileri
II. Yeteneklerimizin neler olduğunu tespit etmek
III. Ailemizin bizden beklentileri
IV. Kendi kişiliğimizi tanımak

Meslek seçerken yukarıdakilerden hangilerine dikkat edilmelidir?

- A) I ve II
B) II ve III
C) II ve IV
D) III ve IV



EKONOMİ VE SOSYAL HAYAT - II

1. Ahilik teşkilatı ilkeleri arasında helal kazanç için çalışmak, ilim sahibi olmak, güzel ahlak sahibi olmak, namazları vakitinde kılmak, haramlardan kaçınmak, yalan söylememek, iyi arkadaş seçmek ve bir meslek sahibi olmak vardır.

Buna göre ahilik teşkilatı ile ilgili aşağıdaki yargılardan hangisine ulaşılabilir?

- A) Öncelikli amacı kaliteli mal üretilmesidir.
- B) Meslek eğitiminde önemli bir yere sahiptir.
- C) Hükumete karşı esnafı temsil etmiştir.
- D) Genel olarak iyi bir insan olmak hedeflenmiştir.

2. Avrupa'da XVIII. ve XIX. yüzyıllarda yeni buluşların üretime olan etkisi ve buhar gücüyle çalışan makineler makineleşmiş endüstriyi ortaya çıkarmıştır.

Buna göre sanayi inkılabı ile ilgili olarak;

- I. Yaşam standartları artmıştır.
- II. Hammadde ihtiyacı ortaya çıkmıştır.
- III. Fabrikalarda çalışacak insana ihtiyaç duyulmuştur.

gibi yargılardan hangilerine ulaşılabilir?

- A) I ve II
- B) II ve III
- C) I ve III
- D) I, II ve III

3. Tarih boyunca Türkler, toplumsal dayanışma ve yardımlaşmaya önem vermişlerdir. Selçuklu döneminde gelişme gösteren vakıflar, Osmanlı döneminde üst seviyeye çıkmıştır. Vakıflar toplumun sosyal, ekonomik ve kültürel hayatına geniş ölçüde katkıda bulunmuştur.

Buna göre vakıflar için aşağıdakilerden hangisi söylenemez?

- A) Vakıf sistemi birçok Türk devletine görülmüştür.
- B) Vakıfların faaliyet alanları çok geniştir.
- C) Vakıflar askeri harcamalarda devletlere yardımcı olmuştur.
- D) Tarihsel süreçte vakıfların önemi artırarak devam ettirmiştir.

4. Ülkeler yetiştirdiği veya ürettiği ürünleri kendilerine kazanç sağlamak için diğer ülkelere satarlar, ihtiyaç duydukları ürünleri ise satın alırlar. Bu alışverişte sadece alışveriş yapan iki devlet değil aynı zamanda ticaretin yapıldığı yollar üzerindeki devletlerle kazanç sağlar. Bu nedenle ticaret yolları üzerinde bulunan devletler daha gelişmiş ve güçlenmişlerdir.

Metne göre aşağıdaki yargılardan hangisine ulaşılabilir?

- A) Ticaret yolları ülke ekonomileri için önemli bir gelir kaynağıdır.
- B) Ülkeler yeraltı kaynakları sayesinde zenginleşmişlerdir.
- C) Teknolojinin gelişmesiyle ticaret daha yaygınlaşmıştır.
- D) Devletler en güvenli ticaret yollarını tercih etmişlerdir.

5. Aşağıdaki vakıf kuruluşlarından hangisinin gösterdiği faaliyet alanı yanlış eşleştirilmiştir?

Kuruluş	Faaliyet Alanı
A) Darüşşifa	Sağlık
B) Aşevi	Kültür
C) Medrese	Eğitim
D) Cami	Dini

6. Aşağıdakilerden hangisi ülkemizde doğal varlıkların ve çevre sağlığının korunması için kurulmuş vakıflardan birisidir?

- A) TEMA Vakfı
- B) İnsan Hakları Derneği
- C) İstanbul Kültür Sanat Vakfı
- D) Geleceğimiz Çocuklar Vakfı

MEB 2016 - 2017

EKONOMİ VE SOSYAL HAYAT - II

7. İlk kez Topkapı Sarayı'nda kurulmuştur.
- Devlet adamı yetiştirilen okuldur.
 - Burada eğitim görenler ülkenin çeşitli yerlerine üst düzey yönetici olarak atanmışlardır.

Yukarıda özellikleri verilen kurum aşağıdakilerden hangisidir?

- A) Ahilik Teşkilatı B) Kurultay
C) Enderun Mektebi D) Medrese

8. Ahilik Teşkilatı, Selçuklu ve Osmanlı dönemlerinde Anadolu'da yaşayan Müslüman halkın sanat, ticaret, ekonomi gibi çeşitli meslek alanlarında yetişmesini sağlayan, onları hem ekonomik hem de ahlaki yönden yetiştiren bir yapıdır.

Buna göre Ahilik Teşkilatı'nda;

- I. Meslek eğitimi vermek
II. Sanat ve meslek ahlakı oluşturmak
III. Esnaflar arasında rekabeti arttırmak

amaçlarından hangileri vardır?

- A) Yalnız II B) I ve II
C) I ve III D) I, II ve III

9. Aşağıdaki ortaöğretim kurumlarından hangisi doğru-
dan mesleki bilgi ve beceri kazandırmak amacıyla açıl-
mamıştır?

- A) Genel Liseler
B) Sağlık Meslek Liseleri
C) Mesleki ve Teknik Anadolu Liseleri
D) Turizm ve otelcilik liseleri

10. Sabırlı olmak, heyecanlılık, soğukkanlılık, titiz olmak, çabuk reaksiyon göstermek, seyahati sevmek, düzgün konuşma

Meslek seçiminde dikkat edilecek hususlardan hangisiyle ilgilidir?

- A) Meslekler hakkında bilgi edinmek
B) İlgi duyulan alanlar
C) Yeteneklerimizin neler olduğunu tespit etmek
D) Kendi kişiliğimizi tanımak

11. I. Sayı ve sembollerle akıl yürütme gücü
II. Mantık yürütme ve tasarım yeteneği
III. Üstün bir akademik yetenek
IV. Bir işi öğelerine ayırıp işlem basamaklarını belirleme becerisi

Bu özelliklere sahip bir kişinin aşağıdaki mesleklerden hangisini seçmesi daha uygundur?

- A) Türkçe Öğretmeni
B) Bilgisayar Mühendisliği
C) Psikolog
D) Avukat

12. Sanayi İnkılabının başlamasında;

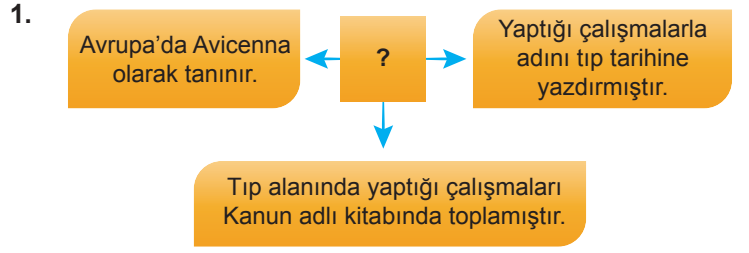
- I. Coğrafi keşifler sonucu artan sermaye birikimi
II. Rönesans'ın başlamasıyla teknolojik ve bilimsel gelişmelerin yaşanması
III. İşçi sınıfının ortaya çıkması

gibi faktörlerden hangilerinin etkisi olmuştur?

- A) Yalnız I B) Yalnız II
C) I ve II D) I ve III

MEB 2016 - 2017

ZAMAN İÇİNDE BİLİM - 1



Şemadaki “?” olan yere aşağıdakilerden hangisi getirilmelidir?

- A) Biruni B) Uluğbey
C) İbni Sina D) Piri Reis

2. Aşağıda verilen icat ve bu icadı yapan uygarlık eşleştirmelerinden hangisi yanlıştır?

	İcat	Uygarlık
I	Tekerlek	Sümerler
II	Para	Lidyalılar
III	Mürekkep	Mısırlılar
IV	Cam	Fenikeliler

- A) I B) II C) III D) IV

3. İlk olarak Çinliler tarafından uzun süren kış gecelerinde eğlence amaçlı kullanılan daha sonra ateşli silahlarda kullanılarak dünya siyasi tarihinde önemli değişimlerin yaşanmasına neden olan buluş aşağıdakilerden hangisidir?

- A) Cam B) Barut
C) Kağıt D) Tekerlek



Yukarıda verilen fotoğrafta görülen Hiyeroglif yazısı aşağıdaki uygarlıklardan hangisi tarafından icat edilmiştir?

- A) Mısırlılar B) Çinliler
C) Lidyalılar D) Sümerler

5. • Pusulanın kullanılmaya başlanması
• Gemicilik tekniğinin ilerlemesi
• Coğrafya bilgilerinin artması

Verilen gelişmeler aşağıdakilerden hangisini ortaya çıkarmıştır?

- A) Reform B) Rönesans
C) Sanayi inkılabı D) Coğrafi keşifler

6. Sümerlerin yazıyı bulmaları ile düşünceler yazıya aktarılmaya başlanmıştır. Mısır'da ise insanlar “Hiyeroglif” denilen resimli yazı ile kendilerini ifade etmişlerdir. Fenikeliler kolay öğrenilip yazılabilen bir alfabe geliştirmişlerdi. Yazı tarih boyunca birçok uygarlığın arasındaki iletişimi sağlamış ayrıca gelecek kuşaklara bilgi aktarımını kolaylaştırmıştır.

Verilen paragrafta yazının hangi özelliğine değnilmemiştir?

- A) İnsanların düşüncelerini aktarmalarına yardımcı olduğuna
B) Bilgiyi aktarmada önemli bir araç olduğuna
C) Çeşitli milletlerin yazıyı kullandığına
D) Yazının öğrenilmesinin zor ve yorucu bir iş olduğuna

ZAMAN İÇİNDE BİLİM - 1

7. UNESCO, 1000 yıl önce Orta Asya'da yaşayan Biruni'yi "Evrensel Deha" olarak ilan etmiştir. Biruni, astronomi üzerine yazdığı Kanun-i Mes'udi kitabı için kendisine bir fil yükü altın ve mücevher yollayan Sultan Mesud'a hediyesini geri göndererek "bu kitabı servet için değil, bilim için yazdım" demiştir.

Biruni ile ilgili olarak;

- I. Uygarlığa katkıda bulunmuştur,
- II. Buluşlarının doğruluğu günümüzde de geçerli olmuştur.
- III. Çalışmaları dünyaca kabul görülmüştür.

gibi yargılardan hangilerine ulaşamaz?

- A) Yalnız I
- B) Yalnız II
- C) Yalnız III
- D) I ve II

8. Günümüzde kullandığımız icatların büyük bir kısmının tarihi eskilere dayanmaktadır. İnsanların günlük hayattaki ihtiyaçlarını karşılamak için ortaya koyduğu icatlar kendiliğinden ortaya çıkmamış aksine buna yönelik yapılan çalışmalar sonucu oluşturulmuştur. Buluşlar sonucu ortaya konulan icatlar insanların günlük yaşamını kolaylaştırırken aynı zamanda üzerinde yapılan çalışmalar sonucu daha pratik bir hale getirilerek kullanılmaya devam edilmiştir. Toplumlar arasında yaşanan ekonomik, toplumsal ve siyasal etkileşimler sonucu bir uygarlığın ortaya koyduğu bir icat başka bir uygarlık tarafından öğrenilmiş böylece icatlar geliştirilerek onlara evrensel bir boyut kazandırılmıştır.

Yukarıda verilen metne göre aşağıdakilerden hangisine ulaşamaz?

- A) İcatlar insanların günlük ihtiyacına çözüm bulmak için yapılan girişimler sonucu ortaya çıkmıştır.
- B) Günümüzde kullandığımız birçok icadın kökeni eski dönemlere dayanmaktadır.
- C) Uygarlıklar arasında yaşanan bazı etkileşimler sonucu icatlar farklı toplumlar tarafından öğrenilmiştir.
- D) İcatlar zamanla ilk icat edildikleri amaçlar dışında kullanılmaya başlanmıştır.

9. Konuşma dilini yazı diline çevirmeyi başaran düşünceci, bilgiyi ve tarihi gelecek kuşaklara aktarmayı başarmışlardır.

Verilen cümlede boş bırakılan yere aşağıdaki uygarlıklardan hangisi getirilmelidir?

- A) Sümerler
- B) Babiller
- C) Mısırlılar
- D) Çinliler

10. • Bilgi nesilden nesile aktarılmaya başlanmıştır.
• Tarih öncesi dönem sona ermiş ve İlk Çağ başlamıştır.
• Elde edilen bilgiler depolanmaya başlanılmıştır.

Verilen bilgiler aşağıdaki olayların hangisi ile gerçekleşmiştir?

- A) Tekerleğin icadı
- B) Kâğıdın icadı
- C) Yazının icadı
- D) Matbaanın icadı

11. I. Reform - Almanya
II. Rönesans - İspanya
III. Sanayi İnkılabı - İngiltere

Yukarıda verilen eşleştirmelerden hangileri doğrudur?

- A) I - II
- B) I - III
- C) II - III
- D) I - II - III

12. 15. ve 16. yüzyıllarda, Avrupa'da meydana gelen edebiyat, kültür, güzel sanatlar, bilim ve düşünce alanlarındaki bütün bu yenilik ve gelişmelere "yeniden doğuş" anlamına gelen adı verilir.

Cümledeki noktalı alana aşağıdakilerden hangisinin getirilmesi uygun olur?

- A) Rönesans
- B) Reform
- C) Skolastik düşünce
- D) Feodalite

ZAMAN İÇİNDE BİLİM - 2

1. Harezmi; matematik, gök bilimi ve coğrafya alanlarında çalışmalar yapmış Türk bilginidir. Hesab-ül Cebir vel- mukabele adlı kitabı matematik tarihinde I. ve II. derecede denklemlerinin analitik metodlarla çözümlerinin yer aldığı ilk eserdir.

Buna göre Harezmi ile ilgili olarak;

- I. Çalışmaları kendi döneminde geçerli olmuştur.
- II. Matematik alanında eser yazmıştır.
- III. Değişik alanlarda çalışma yapmıştır.

ifadelerinden hangilerine ulaşılabilir?

- A) Yalnız I
- B) I ve II
- C) II ve III
- D) I, II ve III

2. Ali Kuşçu; 15 . yüzyılda yaşamış ,astronominin önde gelen bilginlerinden olarak kabul edilmiştir. Fatih Külliyesi'nde bir Güneş saati yapan Ali Kuşçu, Ay'ın ilk haritasını çıkarmış bu sebeple de NASA tarafından adı bugün Ay'ın bir bölgesine verilmiştir.

Bu bilgilere göre Ali Kuşçu ile ilgili olarak;

- I. Çalışmaları evrensel boyuttadır,
- II. Astronomi çalışmaları yapmıştır,
- III. Piri Reis'in öğrencisidir,

değerlendirmelerinden hangilerine ulaşılabilir?

- A) Yalnız I
- B) I ve II
- C) II ve III
- D) I, II ve III

3. Uluğ Bey; Timur İmparatorluğu'nun 4. sultanı ve Türk matematikçi ve astronomi bilginidir. Uluğ Bey, Ali Kuşçu'nun da içinde bulunduğu matematik ve astronomi bilginleri ile bilimsel çalışmalar yapmak için bir kurul oluşturmuş, bu kurula başkanlık etmiştir. Ayrıca Semerkand da gözlem evi ve medrese yaptırmıştır.

Bu bilgiye göre Uluğ Bey ile ilgili olarak;

- I. Matematik ve astronomi çalışmaları yapmıştır.
- II. Özgün buluşlar ortaya koymuştur.
- III. Bilimsel kurumlar açmıştır.

yargılarından hangilerine ulaşamaz?

- A) Yalnız I
- B) Yalnız II
- C) Yalnız III
- D) II ve III

4. Aşağıdaki seçeneklerin hangisinde yazı ile ilgili yanlış bir bilgi verilmiştir?

- A) Yazı bulunmadan önce antlaşmalar taş üzerine yazılıydı.
- B) Hiyeroglif bir tür resimli yazıdır.
- C) Yazının bulunmasıyla tarihi devirlere geçilmiştir.
- D) Sümerler ürünlerinin kayıtlarını yazı sayesinde tutmuşlardır.

5. Leonardo da Vinci'nin insan anatomisi üzerine yaptığı çalışmalar günümüz bilimin gelişmesine büyük katkı sağladı. Anatomi alanındaki çalışmalarıyla bilim tarihinde bilinen ilk robotu yaptı. Bu tasarım bir İngiliz kalp cerrahına esin kaynağı oldu.

Bu metne göre bilim ve bilim adamlarıyla ilgili olarak aşağıdakilerden hangisi söylenemez?

- A) Bilim adamları birbirlerinden etkilenmektedir.
- B) Bilim adamlarının eserleri günümüze kadar ulaşamamıştır.
- C) Bilim, tarihsel süreçte birikerek oluşan bir alandır.
- D) Bilinen ilk robotu Leonardo Da Vinci yapmıştır.

6. 15. yüzyıldan itibaren matbaa sayesinde çok sayıda kitabın basılması aşağıdakilerden hangisini sağlamıştır?

- A) İşçi ücretlerini artırmıştır.
- B) Skolastik düşünceye neden olmuştur.
- C) Bilgi ve düşünce alışverişini hızlandırmıştır.
- D) Coğrafi Keşiflerin yapılmasını sağlamıştır.

ZAMAN İÇİNDE BİLİM - 2

7. 18.yüzyıla kadar her türlü üretim insan gücüyle yapılıyordu. 1765'de buhar motorunun icat edilmesiyle bu üretim biçiminde köklü bir değişime uğradı. Buhar gücüyle çalışan makinelerin üretimde kullanılmasıyla Sanayi İnkılabı İngiltere'de başlamış oldu. Birçok işçinin yapacağı işten daha fazlasını makineler yapmaya başladı. Fabrikalarda ham maddeye ihtiyaç oldu.

Verilen bilgilere göre Sanayi İnkılabı'nın faydası aşağıdakilerden hangisidir?

- A) Sömürgeciliği meydana getirmesi
B) İşsizliğe neden olması
C) Çevre kirliliğine yol açması
D) Az zamanda çok ürün üretilmesi

8. Hollandalı bir gözlükçünün uzak nesneleri büyüten bir icadından hareketle teleskop yapıldı. Teleskopların uzay gözlemi yapmadaki önemi fark edildi.

Bu paragrafa göre bilimsel faaliyetler için aşağıdakilerden hangisi söylenebilir?

- A) Bilimsel faaliyetler masraflı uğraşlardır.
B) Bilimsel alandaki yenilikler fazla gelişme göstermemektedir.
C) Bilim adamlarını devlet adamları desteklemektedir.
D) Bilimsel faaliyetler farklı alanlarda da olsa birbirlerinden etkilenir.

9. Orta Çağ Avrupası'na hakim olan baskıcı düşünce sistemine verilen isim aşağıdakilerden hangisidir?

- A) Rönesans
B) Hümanizm
C) Skolastik
D) Varoluşçu

10. Orta Çağ'da bilim ve sanatın üzerinde kilisenin egemenliği olup kimse kilisenin sözünden dışarı çıkamıyordu. Ancak kilisenin bazı düşüncelerinin yanlışlığı ortaya çıkınca kilise itibar kaybedip gücünü yitirdi.

Verilen durum göz önüne alındığında aşağıdakilerden hangisinin gerçekleşmesi beklenir?

- A) Bilimsel faaliyetlerin hızlanması
B) Haçlı seferlerinin başlaması
C) Ticaret hayatının canlanması
D) Skolastik düşüncenin yayılması

11. "Öğretmenler, Cumhuriyet sizden fikri hür, vicdanı hür, irfanı hür nesiller ister." (Mustafa Kemal ATATÜRK)

Mustafa Kemal ATATÜRK bu sözyle aşağıdakilerden hangisinin önemine dikkat çekmektedir?

- A) Milli egemenliğin
B) Tarihi bilgilerin
C) Düşünce özgürlüğünün
D) Ulusal bağımsızlığın

12. Galile, Dünya'nın hem kendi etrafında hem de Güneş etrafında döndüğünü ispatlamıştı. Kilise, Galile'yi bu düşüncesinden dolayı engizisyon mahkemesine çıkararak yargıladı. Ona bu düşüncesinden vazgeçmezse idam edileceğini söylediler. Galile de bu düşüncesinden vazgeçti.

Buna göre aşağıdakilerden hangisinin bilimsel faaliyetlerin gelişmesine engel olduğu söylenebilir?

- A) Baskı ve yasaklar
B) Maddi imkansızlıklar
C) Yeterli zamanın olmayışı
D) Bilim adamlarının tanınmaması



YAŞAYAN DEMOKRASİ-1

1. Cumhurbaşkanının yurtdışına çıkması hâlinde Cumhurbaşkanlığına aşağıdakilerden hangisi vekâlet eder?

- A) Başbakan
- B) TBMM Başkanı
- C) Adalet Bakanı
- D) İçişleri Bakanı

2. Ülkemizde vatandaşlar seçme ve seçilme hakkına sahiptirler.

Bu durum Türkiye Cumhuriyeti Devleti'nin niteliklerinden hangisinin bir sonucudur?

- A) Laik devlet
- B) Sosyal devlet
- C) Demokratik devlet
- D) Hukuk devleti

3. Türkiye'de eğitim, sağlık gibi hizmetlerin devlet tarafından ücretsiz bir şekilde karşılanması Türkiye Cumhuriyeti Devleti'nin niteliklerinden hangisi ile ilgilidir?

- A) Laik devlet
- B) Sosyal devlet
- C) Hukuk devleti
- D) Demokratik devlet

4. Aşağıdakilerden hangisi Anayasamızın 2. maddesinde yer alan Türkiye Cumhuriyeti Devleti'nin niteliklerinden biri değildir?

- A) Federal devlet
- B) Laik devlet
- C) Sosyal devlet
- D) Demokratik devlet

5. Aşağıdakilerden hangisinin kamuoyu oluşturulmasına örnek olduğu söylenebilir?

- A) TV kanallarında yayınlanan sigaranın sağlığa zararları konulu kısa filmler
- B) Ali'nin okulda eğitim alması
- C) Mine Hanım'ın hastanede tedavi olması
- D) Ahmet Bey'in konut vergisini ödemesi

6. Ülkemizde Cumhurbaşkanı, mecliste oylanarak kabul edilen bazı kanunları çeşitli sebeplerle onaylamayarak tekrar meclise yollama yetkisine sahiptir.

Cumhurbaşkanının kullandığı bu yetki aşağıdakilerden hangisidir?

- A) Halkoyuna başvurma
- B) Kanun yapma
- C) Atama ve görevden alma
- D) Veto etme

YAŞAYAN DEMOKRASİ-1

7. • TBMM'yi gerektiğinde toplantıya çağırmak
• Uluslararası antlaşmaları onaylayıp yayınlamak
• Başbakanın teklifi ile bakanları atamak

Yukarda verilen yetki ve görevler hangi kurum ya da kişiye aittir?

- A) TBMM
B) Anayasa Mahkemesi
C) Cumhurbaşkanı
D) Başbakan

8. Bir kanunun teklif edilmesinden, yürürlüğe girmesine kadar birçok aşamadan geçmesi gerekmektedir. Kanunların mecliste oylanarak kabul edilmesinden sonra Cumhurbaşkanı tarafından onaylanması gerekir. Onaylanan kanunlar Resmi Gazete'de yayınlanarak yürürlüğe girmektedir.

Verilen bilgilere bakıldığında ülkemizde uygulanan kanunlarla ilgili olarak aşağıdakilerden hangisi söylenemez?

- A) Kabul edilmeleri için çeşitli aşamalardan geçmeleri gerekir.
B) Cumhurbaşkanı tarafından onaylanmadan uygulanamazlar.
C) Mecliste oylan kanunlar direk olarak uygulanabilir.
D) Resmi Gazete'de yayınlanan kanunlar yürürlüğe girer.

9. "Din bir vicdan meselesidir. Herkes vicdanının emrine uymakta serbesttir. Biz dine saygı gösteririz. Düşünüşe ve düşünceye karşı değiliz."

Atatürk'ün yukarıda verilen sözü Türkiye Cumhuriyeti Devleti'nin Anayasası'nda belirtilen;

- I. Demokratik devlet,
II. İnsan haklarına saygılı devlet,
III. Laik devlet

niteliklerinden hangileri ile ilişkilidir?

- A) Yalnız I
B) Yalnız II
C) I ve II
D) I, II ve III

10. Erhan Demokrasi, İnsan Hakları ve Vatandaşlık Kulübü'nde görev almıştır. Rehber öğretmeni ve diğer şubeden gelen öğrenciler toplantı yaparak yönetim kurulu oluşturmuşlardır. Kulüp başkanlığı için 5 kişi aday olmuş ve en çok oy alan öğrenci kulüp başkanı seçilmiştir. Daha sonra kulübün başkan yardımcısını, sekreteri ve saymanını da seçimle belirlemişlerdir. Kurul toplantısı yapılarak bir yıl içerisinde yapılacak faaliyetler için görüş ve öneriler konuşulmuştur.

Buna göre Erhan ve arkadaşlarının sergilemiş oldukları tutum ve davranışlar hakkında aşağıdakilerden hangisi söylenemez?

- A) Demokratik bir tutum göstermişlerdir.
B) Grup içerisinde sorumluluk bilincine sahip olmuşlardır.
C) Faaliyetlere etkin olarak katılmışlardır.
D) Rehber öğretmenlerinin sözünden dışarı çıkmamışlardır.

11. Oy kullanarak sınıf başkanın seçilmesi öğrencilere aşağıdaki davranışlardan hangisini kazandırır?

- A) Demokratik ilkeleri kabullenme
B) Çevreyi ve doğayı koruma bilincine sahip olma
C) Planlı ders çalışma bilincine sahip olma
D) Okuma alışkanlığı edinme

12. Okullarımızda kurulan sosyal kulüplere öğrenci seçilirken aşağıdakilerden hangisi yapılırsa insan haklarına uygun davranılmış olur?

- A) Öğrencilerin anne ve babasının tercihlerine uyulması
B) Öğrencilerin ilgi ve istekleri doğrultusunda yönlendirilmesi
C) Öğretmenlerin vereceği kararlara uyulması
D) En yakın arkadaşları hangi kulübü seçerse öğrencinin o kulübe yönlendirilmesi

YAŞAYAN DEMOKRASİ-2

1. “Demokrasi, İnsan Hakları ve Vatandaşlık Kulübü” öğrencileri bir pano hazırlayacaklardır.

Buna göre aşağıdakilerden hangisi öğrencilerin panoya asacakları afişlerden biri olamaz?

- A) İyi bir yurttaş nasıl olunur?
- B) İnsan, insana zulüm etmez!
- C) Yaşasın demokrasi ve hürriyet!
- D) Ormanları koruyalım!

2. Aşağıdakilerden hangisi eğitsel ve sosyal faaliyetlerin öğrencilere kazandırmak istediği tutum ve davranışlardan biri değildir?

- A) İnsan haklarına saygılı birey olarak yetiştirmek.
- B) Planlı ve etkin çalışma yollarını göstermek.
- C) Bilgileri sorgulamayan bireyler haline getirmek.
- D) Çevremizdeki olaylara duyarlı vatandaşlar yetiştirmek.

3. Osmanlı’da divan teşkilatı ilk defa Orhan Bey zamanında kurulmuştur. Bütün devlet işlerinin görüşülüp karara bağlandığı bir danışma organı olan Divan-ı Hümayunda devleti ilgilendiren tüm konular görüşülür ayrıca büyük davalara bakılırdı. Fatih Sultan Mehmet padişahların divan toplantılarına katılma geleneğine son vermiş, Fatih’ten sonra divana sadrazam başkanlık etmeye başlamıştır.

Bu bilgiye göre divanla ilgili aşağıdakilerden hangisine ulaşamaz?

- A) Osmanlı’nın Kuruluş Dönemi’nde divana padişahlar başkanlık yapmıştır.
- B) Orhan Bey zamanında kurumsallaşmaya yönelik çalışma yapılmıştır.
- C) Sadrazamların divandaki önemi azalmıştır.
- D) Divan-ı Hümayun mahkeme görevi de yapmıştır.

4. Osmanlı Devleti, 3 Kasım 1839’da Avrupalı devletlerin isteğiyle Tanzimat Fermanı’nı ilan etti. Fermanla can ve mal güvenliği ile namus dokunulmazlığının sağlanacağı, mahkeme kararı olmadan kimsenin cezalandırılmayacağı, herkesten gelirine göre vergi alınacağı ve askerlik süresinin sınırlandıracağı hükme bağlandı. Yine bu fermanla hiç bir ayırım gözetmeksizin herkesin kanun önünde eşit olduğu belirtildi.

Buna göre Tanzimat Fermanı’yla aşağıdaki hangi alanda yenilik yapılmamıştır?

- A) Askerî
- B) Dinî
- C) Ekonomik
- D) Hukuki

5. Orta Asya’da kurulan ilk Türk devletlerinde siyasi, askerî ve ekonomik kararların alındığı kurultaya kağanın başkanlığında devletin ileri gelenleri katılırdı. Kağanın eşi olan Hatun elçi kabulünde, şölenlerde, kurultaylarda, harp ve sulh meclislerinde mutlaka Hakan ile beraber bulunurdu.

Verilen bilgiye göre aşağıdakilerden hangisine ulaşamaz?

- A) Hatunlar da devlet yönetiminde söz sahibiydi.
- B) Kurultaya hükümdar başkanlık ederdi.
- C) İlk Türk devletlerinde hatuna önem verilirdi.
- D) İlk Türk devletlerinde kadınlar da kağan olabilirdi.

6. İlk Türk devletlerinde kurultay adı verilen bir meclis vardı. Kurultaya kağanın başkanlığında devletin ileri gelenleri katılırdı. Önemli meseleler kurultayda görüşülür ve karara bağlanırdı. Fakat alınan kararlar konusunda son sözü kağan söylerdi.

Bu bilgide kurultay ile ilgili olarak aşağıdakilerden hangisine ulaşılabilir?

- A) Kurultayda kararların oy çokluğu ile alındığına
- B) Kurultayın ne kadar aralıkla toplandığına
- C) Kurultayın danışma meclisi niteliği taşıdığına
- D) Kurultaya katılanların halkoyu ile belirlendiğine

YAŞAYAN DEMOKRASİ-2

7. Eski Türklerde kağanın ülkeyi yönetme hakkını doğrudan doğruya Tanrı'dan aldığına inanılırdı. Türklerde bu anlayışolarak adlandırılırdı.

Metinde boş bırakılan yere aşağıdakilerden hangisi gelmelidir?

- A) Kurultay B) Divan
C) Meclis D) Kut

7. Türkiye'nin tüm anayasalarında egemenliğin millete ait olduğu ifadesi korunmuştur.

Bu durum aşağıdakilerden hangisine önem verildiğini gösterir?

- A) Millî iradeye
B) Millî ekonomiye
C) Millî bağımsızlığa
D) Millî kültüre

9. Türkiye Cumhuriyeti'ndeki bağımsız mahkemeler yargı yetkisini aşağıdakilerin hangisi adına kullanmaktadır?

- A) Ordu B) Türk milleti
C) Meclis D) Bakanlar kurulu

10. Ülkemizde herkes istediği dine inanmakta, istediği ibadeti yapmakta özgürdür.

Bu durum devletimizin hangi niteliği ile ilişkilendirilebilir?

- A) Hukuk devleti
B) Demokratik devlet
C) Laik devlet
D) Sosyal devlet

11. Anayasamızın "Herkes, sosyal güvenlik hakkına sahiptir." maddesi devletimizin hangi niteliğini gösterir?

- A) Sosyal devlet
B) Hukuk devleti
C) Laik devlet
D) Demokratik devlet

12. Sivas Kongresi'nde İradeyimilliyе gazetesinin yayımlanması kararlaştırılmıştır.

Bu karar aşağıdakilerden hangisine önem verildiğini göstermektedir?

- A) Eğitime B) Basına
C) Ekonomiye D) Orduya

ÜLKELERARASI KÖPRÜLER-1

1. İnsanlar tarih boyunca duygu ve düşüncelerini şiir, roman, tiyatro gibi eserlerle ortaya koymuşlardır. Bu değerler toplumların özelliklerini yansıtır. İnsanoğlu bu değerlere sahip çıkarak, koruma altına almış ve kendisinden sonraki kuşaklara aktarmıştır.

Buna göre üretilen bu değerler ile ilgili;

- I. İnsanlık tarihinin izlerini taşırlar.
- II. Geçmişe ışık tutarlar.
- III. Geçmişten geleceğe köprü oluştururlar.

yargılardan hangilerine ulaşılabilir?

- A) I ve II
- B) I ve III
- C) II ve III
- D) I, II ve III

2. I. Kapadokya Peribacaları
II. Göreme Millî Parkı
III. İstanbul tarihî yarımadası

Yukarıdakilerden hangileri dünya miras listesinde yer almaktadır?

- A) Yalnız I
- B) I ve II
- C) II ve III
- D) I, II ve III

3. Kyoto Protokolü gelişmiş ülkelerin sera gazı salınımlarını 1990 yılına göre % 5,2 azaltmalarını öngörüp atmosferdeki sera gazı yoğunluğunun, iklime tehlikeli etki yapmayacak seviyelerde kalmasını sağlamaya yönelik Birleşmiş Milletler kontrolünde Birleşmiş Milletler İklim Değişikliği Çevre Sözleşmesi'nde imzası bulunan ülkelere imzalanması planlanmış en somut ve tek uluslararası protokoldür.

Buna göre Kyoto Protokolü aşağıda verilen küresel sorunlardan hangisinin çözümüne yönelik olarak hazırlanmıştır?

- A) Küresel ısınma
- B) Salgın hastalıklar
- C) Savaşlar
- D) Terör

- 4.



Hepimizin yaşamını etkileyen küresel sorunlardan biri de çevre sorunlarıdır. Çevre sorunlarını azaltmak için neler yapmalıyız?

Öğretmenin yukarıda verilen sorusuna aşağıdaki öğrencilerden hangisi yanlış cevap vermiştir?

- A) **Birgül:** Günlük hayata kullandığımız ürünlerin geri dönüşürülebilir olmasına dikkat etmeliyiz.
- B) **Sedat:** Evimizde kullandığımız elektrik, su gibi kaynakları israf etmeliyiz.
- C) **Nurgül:** Çevremizde bulunan su kaynaklarını kirletecek kimyasal içerikli maddelerden uzak durmalıyız.
- D) **Vedat:** Ev ve fabrikaların bacaları ile araba egzozlarına filtre takmalıyız

5. I. Sanayileşme
II. Orman tahribi
III. Motorlu taşıtların artması

Atmosferdeki karbondioksit miktarının artmasında yukarıdakilerden hangileri etkilidir?

- A) I ve II
- B) I ve III
- C) II ve III
- D) I, II ve III

6. I. Doğal ve kültürel mirasın önemini anlatan çalışmalar yapmak
II. Evrensel mirasa sahip çıkacak bilinci oluşturmak
III. Mirasın muhafazasını zengin bir zümreye vermek

Yukarıdakilerden hangileri ortak mirası korumaya yönelik yapılan çalışmalardandır?

- A) I ve II
- B) I ve III
- C) II ve III
- D) I, II ve III

ÜLKELERARASI KÖPRÜLER-1

7. I. Dünya savaşıdan önce Almanya ile Osmanlı Devleti arasında iyi ilişkiler kurulmuştu. Almanya, Osmanlı Devleti'nin kendi yanında savaşa girmesini istiyordu. Böylece Osmanlı ordusundan istifade etmeyi düşünüyordu. Avrupa'nın en kalabalık ordularından birisi olan Türk ordusu modern silahlarla donatılarak Alman subayların sevk ve idaresine girecekti. Ayrıca Almanya Osmanlı Devleti'nin geniş topraklarında nüfuz sahibi olmak ve İngiltere'nin Uzak Doğu sömürgelerine giden yolları kapatmak istiyordu.

Verilen bilgide Almanya'nın Osmanlı Devleti'nin kendi yanında savaşa girmesini istemesinin nedenlerinden hangisine değinilmemiştir?

- A) İngiltere'nin sömürgelerine ulaşmasını engellemek
B) Sayıca fazla olan Osmanlı ordusundan faydalanmak
C) Osmanlı'nın halifelik makamından faydalanmak
D) Osmanlı topraklarında söz sahibi olmak

8. I. Sanayi İnkılabı
II. Fransız İhtilali
III. Ham madde ve sömürgecilik yarışı

Yukarıdakilerden hangileri I. Dünya Savaşı'nın nedenlerindendir?

- A) Yalnız I
B) I ve II
C) II ve III
D) I, II ve III

9. I. Çanakkale Cephesi'nde Osmanlı Devleti İtilaf Devletleri karşısında başarılı olmuştur.
II. Kanal Cephesi Osmanlı'nın İngilizlere karşı açtığı bir taarruz cephesidir.
III. Kafkas Cephesi'nde Osmanlı Rusya ile savaşmıştır.

Yukarıda doğru bilgilerin karşısına (D), yanlış bilgilerin karşısına (Y) yazılacaktır.

Buna göre yukarıdaki bilgilerin doğru ve yanlış olarak değerlendirilmesi hangi seçenekte doğru verilmiştir?

- A) D,D,D
B) D,Y,Y
C) D,D,Y
D) Y,Y,D

10. I. Dünya Savaşı başlar başlamaz Mustafa Kemal, Fethi Bey'e çektiği telgrafta savaşa hemen girilmesinin sakıncalı olduğunu, en az bir yıl beklenmesi gerektiğini belirtmiş, savaşa hemen girilirse yenilginin kaçınılmaz olduğunu söylemiştir.

I. Dünya Savaşı'nın sonucu düşünüldüğünde bu durum Mustafa Kemal'in hangi kişilik özelliğine kanıt olarak gösterilebilir?

- A) Kararlılık
B) İleri görüşlülük
C) Vatanseverlik
D) Teşkilatçılık

11. Aşağıdakilerden hangisi İtilaf Devletlerinin Çanakkale Cephesi'ni açma nedenlerinden biri değildir?

- A) Savaşı kısa sürede bitirmek
B) Ruslara yardım etmek
C) Bulgaristan'ın savaştan çekilmesini sağlamak
D) İstanbul'u alarak Osmanlı'yı saf dışı bırakmak

12. Kuruluş amacı; insanın yaşadığı çevreyi etkileyen tüm konularda uluslararası iş birliğini kolaylaştırmak, çevreyi korumak, hükümetlerin ilgisini bu konuya çekmek ve sorunların çözümünde maddi destek sağlamaktır.

Yukarıda amaçları verilen uluslararası kuruluş hangisidir?

- A) UNİCEF (BM Çocuklara Yardım Fonu)
B) WFP (Dünya Gıda Programı)
C) UNEP (BM Çevre Programı)
D) FAO (Gıda ve Tarım Örgütü)



ÜLKELERARASI KÖPRÜLER-2

1. Osmanlı Devleti'nin I. Dünya Savaşı'na girme nedenlerinden bazıları şunlardır;

- I. Balkan Savaşlarında kaybedilen toprakları geri almak
- II. Kapitülasyonları kaldırmak
- III. Kafkasya üzerinden Orta Asya'daki Türk dünyası ile birleşerek Türk birliğini sağlamak

Bu nedenlerden hangileri ekonomik bağımsızlığı sağlamaya yöneliktir?

- A) Yalnız I
- B) Yalnız II
- C) I ve III
- D) II ve III

2. Aşağıdakilerden hangisi Unicef'in görevleri arasındadır?

- A) Çevreyi korumak ve çevre sorunları ile ilgilenmek
- B) Doğal afetler, iç savaşlar vb nedenlerle ani açlığa maruz kalan insanlara gıda yardımı sağlamak
- C) Özellikle az gelişmiş ve gelişmekte olan ülkelerde çocukların ve gençlerin gelişimine yardımcı olmak
- D) Gıdaların ve tarım ürünlerinin üretimini artırmak ve insanların yaşam koşullarını iyileştirmek

3. Aşağıdakilerden hangisi küresel ısınmanın sonuçlarından biri değildir?

- A) İklim değişikliği
- B) Sıcaklıkların artması
- C) Şiddetli yağışlar
- D) Tarımda verimin artması

4. Aşağıdakilerden hangisi sanayi inkılabının bir sonucudur?

- A) Ham madde ihtiyacının ortaya çıkması
- B) Milliyetçilik hareketlerinin başlaması
- C) Millî devletlerin kurulması
- D) Bilim özgürlüğünün sağlanması

5. I. Dünya Savaşı'nda İngilizler tarafından açılan bir cephe-
dir. İngiltere, Ortadoğu petrol bölgesini ele geçirmeyi ve
müttefiki olan Rusya'ya Kafkaslar üzerinden yardım götür-
meyi amaçlıyordu.

Hakkında bilgi verilen cephe aşağıdakilerden hangisidir?

- A) Kanal Cephesi
- B) Irak Cephesi
- C) Kafkas Cephesi
- D) Hicaz ve Yemen Cephesi

6. I. Dünya Savaşı'nın aşağıdaki sonuçlarından hangisi
Avrupa'nın siyasi haritasının değiştiğini göstermez?

- A) İmparatorlukların yıkılması
- B) Yeni devletlerin kurulması
- C) Toprak kayıplarının yaşanması
- D) Çok sayıda insanın hayatını kaybetmesi



ÜLKELERARASI KÖPRÜLER-2

7. Tasarruflu olmak aşağıdaki sorunlardan hangisinin önlenmesine katkı sağlar?

- A) Depremlerin
- B) Bulaşıcı hastalıkların
- C) Açlık ve yoksulluğun
- D) Savaşların

8. I. Dünya Savaşı sonunda ülkeler arası sorunların barışçıl yöntemlerle çözülmesi için kurulan uluslararası kuruluş aşağıdakilerden hangisidir?

- A) Milletler Cemiyeti
- B) NATO
- C) Avrupa Birliği
- D) Avrupa Konseyi

9. Aşağıdakilerden hangisi ortak miras öğelerinin korunmasında ve yaşatılmasında rol üstlenmiş kuruluşlardan biridir?

- A) Birleşmiş Milletler Eğitim, Bilim ve Kültür Örgütü
- B) Birleşmiş Milletler Gıda ve Tarım Kuruluşu
- C) Birleşmiş Milletler Kalkınma Programı
- D) Birleşmiş Milletler Çocuklara Yardım Fonu

10. Aşağıdakilerden hangisi küresel sorunların çözümüne yardımcı olmaz?

- A) Atıkların geri kazanılması
- B) Ekmek israfının önlenmesi
- C) Doğal kaynakların tasarruflu kullanılması
- D) Ulaşımda özel araçların kullanılması

11. Aşağıdakilerden hangisi I. Dünya Savaşı'ndan mağlup olarak ayrılmıştır?

- A) Fransa
- B) Almanya
- C) Rusya
- D) İngiltere

12. I. Dünya Savaşı'nda Alsas-Loren bölgesi hangi devletler için savaş nedeni olmuştur?

- A) Almanya – İngiltere
- B) Osmanlı – Rusya
- C) Fransa – Almanya
- D) İtalya - Fransa



Adı :
Soyadı :
Sınıf :
No :

1	2	3	4	5	6	7	8	9	10	11	12
A	A	A	A	A	A	A	A	A	A	A	A
B	B	B	B	B	B	B	B	B	B	B	B
C	C	C	C	C	C	C	C	C	C	C	C
D	D	D	D	D	D	D	D	D	D	D	D
E	E	E	E	E	E	E	E	E	E	E	E

Doğru :
Yanlış :
Boş :
Puan :

Test 1	1. A	2. B	3. A	4. D	5. A	6. B	7. D	8. C	9. C	10. A	11. C	12. B
Test 2	1. C	2. D	3. D	4. B	5. C	6. C	7. A	8. D	9. A	10. D	11. D	12. C
Test 3	1. C	2. D	3. A	4. D	5. B	6. B	7. C	8. D	9. C	10. C	11. A	12.
Test 4	1. A	2. A	3. C	4. D	5. B	6. B	7. B	8. A	9. D	10. C	11. C	12. C
Test 5	1. C	2. A	3. D	4. B	5. C	6. C	7. C	8. C	9. B	10. B	11. D	12.
Test 6	1. C	2. D	3. D	4. B	5. C	6. A	7. C	8. A	9. A	10. B	11. C	12. C
Test 7	1. B	2. B	3. C	4. B	5. A	6. D	7. C	8. C	9. A	10. D	11. C	12.
Test 8	1. A	2. B	3. B	4. B	5. D	6. C	7. B	8. D	9. B	10. B	11. D	12. C
Test 9	1. A	2. D	3. B	4. C	5. D	6. A	7. B	8. A	9. D	10. B	11. C	12. C
Test 10	1. D	2. D	3. C	4. A	5. B	6. A	7. C	8. B	9. A	10. D	11. B	12. C
Test 11	1. C	2. C	3. B	4. A	5. D	6. D	7. C	8. D	9. A	10. C	11. B	12. A
Test 12	1. C	2. B	3. B	4. A	5. B	6. C	7. D	8. D	9. C	10. A	11. C	12. A
Test 13	1. B	2. C	3. B	4. A	5. A	6. D	7. C	8. C	9. D	10. D	11. A	12. B
Test 14	1. D	2. C	3. C	4. B	5. D	6. C	7. D	8. A	9. B	10. C	11. A	12. B
Test 15	1. D	2. D	3. A	4. B	5. D	6. A	7. C	8. D	9. A	10. B	11. C	12. C
Test 16	1. B	2. C	3. D	4. A	5. B	6. D	7. C	8. A	9. A	10. D	11. B	12. C