






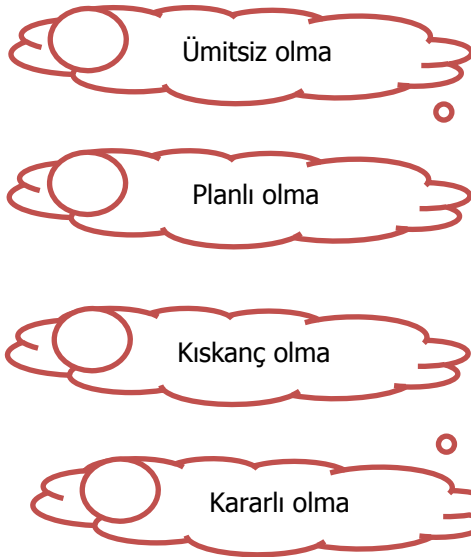
Adı:	ORTAKARAÖREN CUMHURİYET ORTAOKULU	Not	5.SINIF 26 Mart 2013
Soyadı:	2012-2013 EĞİTİM ÖĞRETİM YILI SOSYAL BİLGİLER 5		
Sınıf: No:	II. DÖNEM I. SINAV		

1-) Aşağıda resimleri verilen teknolojik buluşları, zamanlama sırasına göre zaman çizelgesine yerleştiriniz. (2x5=10 Puan)

				
A	B	C	D	E



2) Aşağıda verilen özelliklerden bilim insanlarında bulunması gerekenleri işaretleyiniz. (2x5=10 puan)




Bilim İnsanı

3) Aşağıdaki tabloda verilen sanayi kuruluşlarının en çok hangi bölgede bulunduklarını yanlarındaki boşluklara yazınız. (2x5=10 puan)



Un-Makarna Fabrikası	
Çay Fabrikası	
Ayçiçek Yağı Fabrikası	
Zeytinyağı Fabrikası	
Meyve Suyu Fabrikası	

4) Aşağıdaki ilkeler ile ilgili ipuçlarından yola çıkarak bulmacayı çözünüz. (2x6=12 puan)

[illegible]

5) Aşağıdaki ifadelerin altına cümle doğruysa "DOĞRU", yanlış ise "YANLIŞ" yazınız. (1x5=5 puan)

İklim Değişikliği

Aile toplumun en küçük grubu ve kurumudur.

Tarım, doğal kaynaklardan olan ormanın kullanılması sonucu yapılır.

Karadeniz Bölgesi'nde yaşayan insanların geçim kaynakları arasında balıkçılık da yer alır.

Çığ, Doğu Anadolu Bölgesi'nde sık yaşanan doğal afetlerdendir.

Sanayileşme ile birlikte çöp üretimi azalır.

İklim Değişikliği

6) Aşağıda verilen buluşları yapan bilim insanlarının isimlerini altlarına yazınız. (2x5=10 puan)



7) Aşağıdaki teknolojik buluşlar icat edilmemiş olsaydı sonuçları neler olurdu? Buluşlarla olmamaları durumundaki sonuçlarını eşleştiriniz. (2x5=10 puan)

1 Telefon olmasaydı ☐

A Dünyadaki gelişmeleri görüntülü olarak takip edemezdik.

2 Elektrik olmasaydı ☐

B Uzaktaki yakınlarımızın sesini duymak için yanlarına gitmek zorunda kalmazdık.

3 Televizyon olmasaydı ☐

C Ülkeler arası yolculuk haftalarca sürerdi.

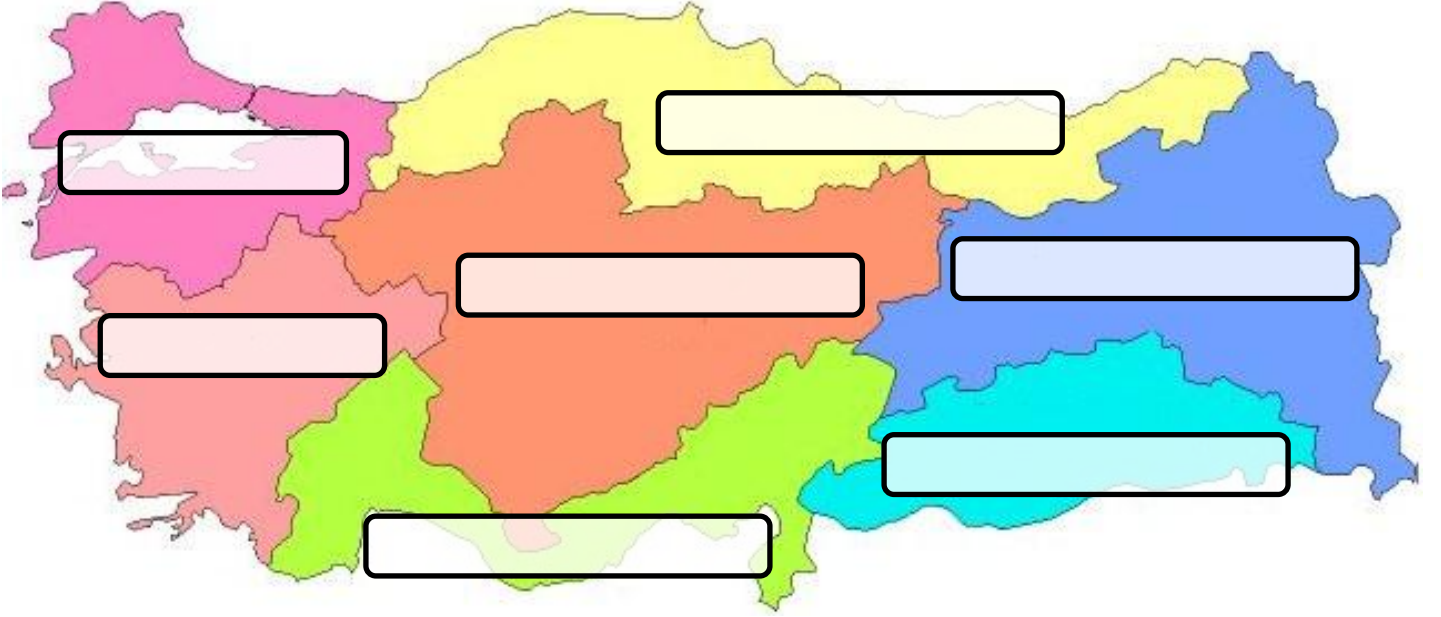
4 Saat olmasaydı ☐

D Zamanı belirleyemez, günün hangi vaktinde olduğumuzu anlayamazdık.

5 Uçak olmasaydı ☐

E Evimizde elektrikli araçlar kullanılamaz ve icat edilmezdi.

8) Aşağıdaki Türkiye haritasına coğrafi bölgelerimizin adını yazınız. (1x7=7 puan)



9) Aşağıdaki verilen meslekleri ilgili oldukları ekonomik faaliyetler ile (X) koyarak eşleştiriniz. (1x6=6 puan)

Meslekler		Ekonomik Faaliyetler					
		Sanayi	Ticaret	Tarım	Hayvancılık	Hizmet	Ulaşım
1	Doktor						
2	Çiftçi						
3	Çoban						
4	Tüccar						
5	İşçi						
6	Şoför						

Her meslek için bir (X) kullan.



Arka sayfaya geçiniz. ----->

10) Aşağıda verilen soruların doğru cevaplarını verilen seçenekler içinden bulup işaretleyiniz. (4x5=20 Puan)

1) Aşağıdakilerden hangisi Karadeniz Bölgesi'nde yetiştirilen tarım ürünleri arasında yer almaz?

- A. Çay B. Fındık
C. Pamuk D. Mısır

2)

Çay fabrikası kurmak istiyorum.

Zeytinyağı fabrikası kurmak istiyorum.

1

3

4

2

Bisküvi fabrikası kurmak istiyorum.

Meyve suyu fabrikası kurmak istiyorum.

Yukarıdaki girişimcilerden hangisi doğru bir girişimde bulunmuştur?

- A. 1 B. 2
C. 3 D. 4

3)

- Türk Tarih Kurumu'nun kurulması
- Fabrikaların açılması
- Seçimlerin yapılması

Yukarıdaki verilenler ilişkili oldukları Atatürk ilkeleri eşleştirildiğinde aşağıdaki ilkelerden hangisi açıkta kalır?

- A. Laiklik
B. Devletçilik
C. Cumhuriyetçilik
D. Milliyetçilik

4)

Benim yaşadığım yerde bitki örtüsü seyrek olup yazları sıcak ve kurak geçen bir iklim görülür.

Benim yaşadığım yerde yükselti fazla olup kış ayları kar yağışlıdır.

Esra Ali

Verilen bilgilere göre Esra ve Ali'nin yaşadıkları yerlerde aşağıdaki doğal afetlerden hangilerinin daha çok görülmesi beklenir?

	Esra	Ali
A.	Çığ	Erozyon
B.	Sel	Deprem
C.	Heyelan	Çığ
D.	Erozyon	Sel

5) Üretime katılmak sadece bir işte çalışmak değildir. Atıkları toplayıp onları ekonomiye kazandırmak da bir üretilimdir.

Aşağıdaki kişilerden hangisi verilen bilgiye uygun bir üretim yapmıştır?

- A. Boyacılık yapan Mehmet
B. Simit satan Batuhan
C. Su satan Arif
D. Atık pilleri toplayan Merve

Yavuz YILDIZ
Sosyal Bilgiler Öğretmeni
Mart 2013- Seydişehir

SINAVINIZ BİTMİŞTİR.