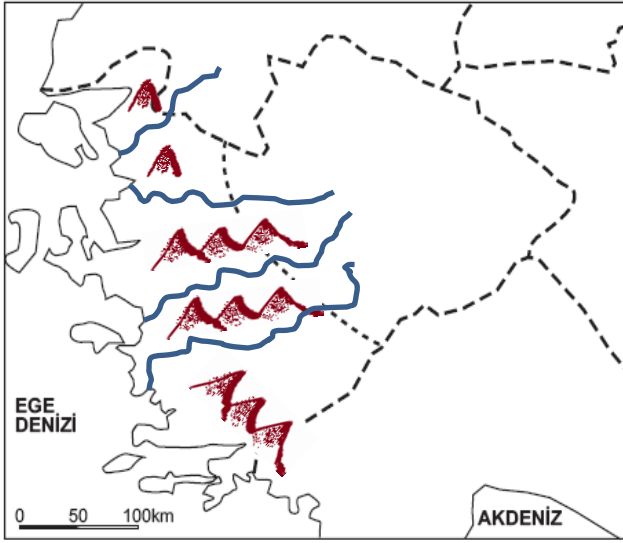


|            |  |     |                          |
|------------|--|-----|--------------------------|
| Adı:       | KAYMAKAM ÖZGÜR AZER KURAK İÖÖ              | Not | 5. SINIF<br>29 MART 2013 |
| Soyadı:    | 2012-2013 EĞİTİM ÖĞRETİM YILI              |     |                          |
| Sınıf: No: | SOSYAL BİLGİLER 5 II. DÖNEM I. ORTAK SINAV |     |                          |

1-) Ege Bölgesi haritası üzerinde gösterilen dağların ve akarsuların isimlerini yazınız. (9 Puan )



A. Ege Bölgesinin Dağları:

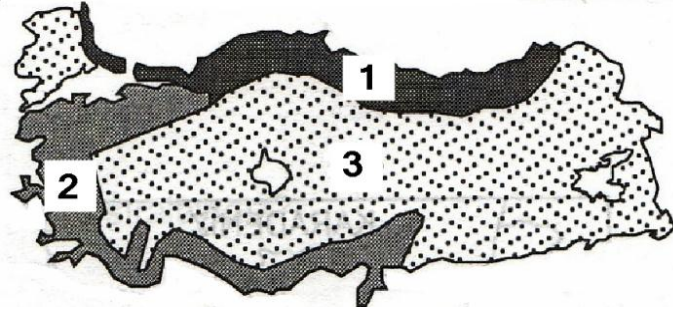
- 1.....
- 2.....
- 3.....
- 4.....
- 5.....

B. Ege Bölgesinin Akarsuları:


- 1.....
- 2.....
- 3.....
- 4.....

2-) Aşağıda gördüğünüz haritada numaralandırılmış bölgelerde görülen iklimleri yazınız. (6 puan )

|               |
|---------------|
| 1. ....İklimi |
| 2. ....İklimi |
| 3. ....İklimi |



3-) Aşağıdaki tabloda verilen sanayi kuruluşlarının en çok hangi bölgede bulunduklarını yanlarındaki boşluklara yazınız. (10 puan)



|                               |  |
|-------------------------------|--|
| Un-Makarna Fabrikası          |  |
| Çay Fabrikası                 |  |
| Ayçiçek Yağı Fabrikası        |  |
| Zeytinyağı Fabrikası          |  |
| Süt ve Süt ürünleri Fabrikası |  |

4-) Aşağıdaki verilen yerlerin hangi şehirlerde olduğunu yanlarındaki boşluklara yazınız. (6 Puan)

Nevşehir - Çanakkale - Edirne - Trabzon - İzmir - İstanbul

- |                          |                            |
|--------------------------|----------------------------|
| 1.Topkapı Sarayı (.....) | 4.Peri Bacaları (.....)    |
| 2.Selimiye Camii (.....) | 5.Efes Antik Kenti (.....) |
| 3.Truva Atı (.....)      | 6.Sümela Manastırı (.....) |

5-) Aşağıdaki ilkeler ile ilgili ipuçlarından yola çıkarak bulmacayı çözünüz. (12 Puan)

Yukarıdan Aşağıya

1. Türk Dil ve Türk Tarih Kurumu'nun açılması ile ilgili ilkedir.

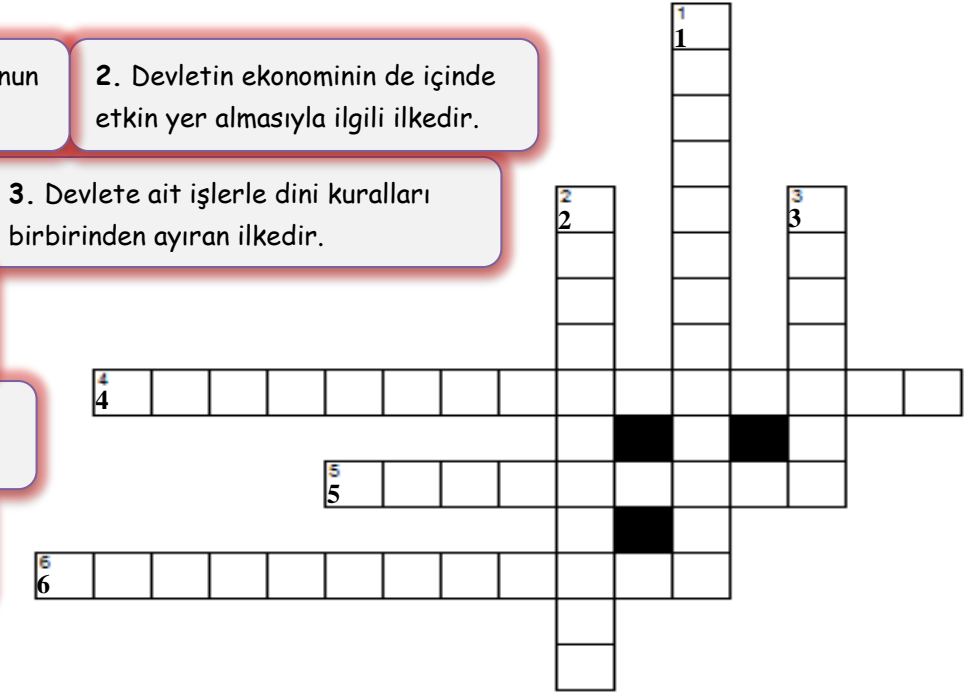
2. Devletin ekonominin de içinde etkin yer almasıyla ilgili ilkedir.

Sağdan Sola

4. Devletin yönetim şekli ile ilgili ilkedir.

5. Vatandaşlar arasında ayırım gözetmeme, eşitlik ile ilgili ilkedir.

6. Yapılan bütün yenilikleri kapsayan ilkedir.



6-) Aşağıdaki teknolojik buluşlar icat edilmemiş olsaydı sonuçları neler olurdu? Buluşlarla bu buluşların olmamaları durumundaki sonuçlarını eşleştiriniz. ( 5 Puan)

1 Telefon olmasaydı ☐

A Dünyadaki gelişmeleri görüntülü olarak takip edemezdik.

2 Elektrik olmasaydı ☐

B Uzaktaki yakınlarımızın sesini duymak için yanlarına gitmek zorunda kalırdık.

3 Televizyon olmasaydı ☐

C Ülkeler arası yolculuk haftalarca sürerdi.

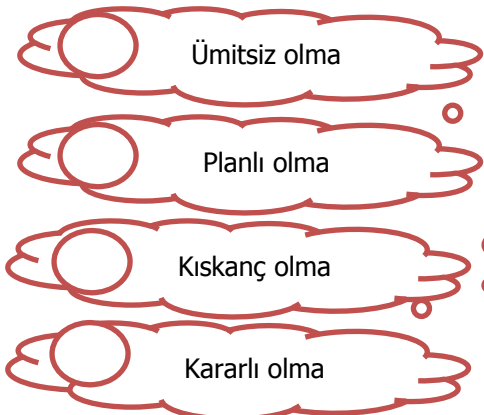
4 Saat olmasaydı ☐

D Zamanı belirleyemez, günün hangi vaktinde olduğumuzu anlayamazdık.

5 Uçak olmasaydı ☐

E Evimizde elektrikli araçlar kullanılamaz ve icat edilmezdi.

7-) Aşağıda verilen özelliklerden bilim insanlarında bulunması gereken 5 özelliği "X" ile işaretleyiniz. (5 puan)



8-) Aşağıdaki ifadelerin altına cümle doğruysa “DOĞRU”, yanlış ise “YANLIŞ” yazınız. ( 5 Puan)

Evdeki sorumluluklarımız okuldaki sorumluluklarımızdan daha önemlidir.

Türkü, fıkra, mani, atasözü, ninni, tekerleme sözlü kültür unsurları arasında yer alır.

Karadeniz Bölgesi’nde yaşayan insanların geçim kaynakları arasında balıkçılık da yer alır.

Çığ, Doğu Anadolu Bölgesi’nde sık yaşanan doğal afetlerdendir.

Sanayileşme ile birlikte çöp üretimi azalır.

9-) Aşağıdaki verilen meslekleri ilgili oldukları ekonomik faaliyetler ile (X) koyarak eşleştiriniz. (6 puan)

|           |        | Ekonomik Faaliyetler |         |       |             |        |           |
|-----------|--------|----------------------|---------|-------|-------------|--------|-----------|
| Meslekler |        | Sanayi               | Ticaret | Tarım | Hayvancılık | Hizmet | Ulaştırma |
| 1         | Doktor |                      |         |       |             |        |           |
| 2         | Çiftçi |                      |         |       |             |        |           |
| 3         | Çoban  |                      |         |       |             |        |           |
| 4         | Tüccar |                      |         |       |             |        |           |
| 5         | İşçi   |                      |         |       |             |        |           |
| 6         | Şoför  |                      |         |       |             |        |           |



10-) Aşağıda Ece Hanımla ilgili verilen bilgiler doğrultusunda Ece Hanım’ın üstlendiği rolleri yanındaki boşluğa yazınız. (5 Puan)

| Yıllar | Ece Hanım’ın Kronolojisi  | Ece Hanım’ın Rolü |
|--------|---|-------------------|
| 1976   | Ali Bey ve Ayşe Hanımın ikinci çocuğu olarak dünyaya gelince... |                   |
| 1982   | İlkokula başlayınca...  |                   |
| 1998   | Tıp Fakültesini bitirerek doktor olarak atanınca...             |                   |
| 2002   | Kendisi gibi doktor olan Cem Bey ile evlenince...               |                   |
| 2006   | Kızı İrem doğunca...  |                   |

11-) Tabloda verilen doğal afetlerden korunabilmek için yapılması gerekenleri ilgili oldukları etkinliklerle eşleştiriniz.( 4 Puan )

|   |         |
|---|---------|
| A | Deprem  |
| B | Yangın  |
| C | Sel     |
| D | Erozyon |

|       |  |
|-------|--|
| ..... | Dere yataklarına ev yapılmasını önlemek                    |
| ..... | Bitki örtüsünü koruma ve ağaçlandırma yapmak               |
| ..... | Yerleşim birimi oluşturacak yerlerde zemin etüdü yapılması |
| ..... | Acil söndürme ekiplerini en son teknoloji ile donatma      |

- 1-) Renklerin kullanıldığı Türkiye fiziki haritasında batıdan doğuya, kıyılardan iç kesimlere gidildikçe yeşil tonlarından kahverengiye geçildiği görülmektedir.

**Bu durumun nedeni aşağıdakilerden hangisidir?**

- A) Bitki örtüsünün farklılaşması  
B) Ekonomik faaliyetlerin azalması  
C) Yükseltinin artması  
D) İklim koşullarının değişmesi

- 2-) 1. Yağmurlar genellikle kış mevsiminde yağar.  
2. Yaz aylarında hava açık ve güneşlidir.  
3. Portakal, mandalina, zeytin gibi tarım ürünleri yetişir.  
4. Kış aylarında kar yağışları nedeniyle uzun süre yollar kapanır.

**Verilenlerden hangileri Akdeniz ikliminin genel özellikleri arasında yer almaz?**

- A) Yalnız 2  
B) Yalnız 4  
C) 1 ve 3  
D) 2 ve 4

3-)



Ege Bölgesi'nde yaşıyorum ve meyveleri çok seviyorum. Ancak yaşadığım yerdeki iklim koşulları nedeniyle sevdiğim her meyve yetiştirilmiyor.

**Buna göre Ece'nin yaşadığı yerde hangi meyvenin yetişmesi daha zordur?**

- A) İncir  
B) Muz  
C) Portakal  
D) Üzüm

**4-) Sanayi ve ticaretin en fazla yapılan ekonomik faaliyet olduğu bir yer ile ilgili;**

- I. Nüfus kalabalıktır.  
II. Ulaşım gelişmiştir.  
III. Fabrika sayısı fazladır.  
IV. Tüketim azdır.

**İfadelerinden hangisi söylenemez?**

- A) I  
B) II  
C) III  
D) IV

- 5-) Zonguldak taş kömürü yataklarının en fazla olduğu ilimizdir. Burada çıkarılan taş kömürü demir-çelik fabrikalarına ham madde oluşturur.

**Buna göre Zonguldak'ta aşağıdaki ekonomik faaliyetlerden hangisinin gelişmesi beklenir?**

- A) Turizm  
B) Tarım  
C) Madencilik  
D) Balıkçılık

6-)



Ateşin bulunması tarih öncesi dönemlerde insanların yiyeceklerini pişirmesini sağladı. Bu teknik hem yiyeceklerdeki mikropları öldürüyor hem de yiyeceğin daha rahat yutulup sindirilmesini sağlıyordu. Pişirme şekilleri açık havada yakılan ateşlerden günümüzde kullanılan elektrikli ocaklara ve mikrodalga fırınlara kadar epeyce değişti.

**Buna göre,**

- I. Bir buluş kendisinden sonraki icatlara zemin hazırlamıştır.  
II. İnsan sağlığını koruyan buluşlar yapılmıştır.  
III. Pişirme şekilleri günümüze kadar değişim geçirmiştir.

**İfadelerinden hangilerine ulaşılabilir?**

- A) Yalnız II  
B) I ve II  
C) II ve III  
D) I, II ve III

**7-) Akademik dürüstlük için;**

- I. Başkalarının çalışmalarının kopya edilmemesi  
II. Konu hakkında geniş bilgi edinilmesi  
III. Yapılan çalışmalarda kullanılan kaynakların belirtilmesi

**İfadelerinden hangileri gereklidir?**

- A) Yalnız II  
B) I ve II  
C) II ve III  
D) I ve III

**8-) Sanayi tesislerinin ülkemizdeki dağılışı bölgeler arasında farklılık göstermektedir.**

**Ülkemizde sanayi tesislerinin sayısının en fazla olduğu bölge aşağıdakilerden hangisidir?**

- A) Marmara Bölgesi  
B) Doğu Anadolu Bölgesi  
C) Karadeniz Bölgesi  
D) İç Anadolu Bölgesi

**9-) Grup – kurum arasındaki farkı en iyi açıklayan örnek aşağıdakilerden hangisidir?**

- A) Grup : Karşıyaka-Konak vapurundaki insanlar  
Kurum : Okulumuzun futbol takımı  
B) Grup : Parkta basketbol oynayan çocuklar  
Kurum : Murat'ın çok sevdiği ailesi  
C) Grup : Kaymakam Özgür Azer Kurak Ortaokulu  
Kurum : 5/A sınıfının öğrencileri  
D) Grup : Caddede yürüyen insanlar  
Kurum : Markette çalışan insanlar

**Ayşen COŞKUN**

**Mehmet Emin GAYRETLİ**

**Ebru METİN**

Sosyal Bilgiler Öğretmenleri